


В. А. Смирнов, Е. А. Туяков

# ГЕОМЕТРИ

## 10

Учебник для 10 классов  
естественно-математического направления  
общеобразовательных школ




*Утверждено Министерством образования и  
науки Республики Казахстан*



Алматы "Мектеп" 2019

УДК 373.167.1  
ББК 22.151я72  
С50

### Условные обозначения:

-  — проблема, которая будет решена при овладении новыми знаниями
-  — задания для самостоятельного изучения теоретического материала
-  — конец доказательства теоремы или свойства
- A** — обязательные упражнения для всех учащихся
- B** — упражнения средней сложности
- C** — упражнения повышенной сложности

**Смирнов В. А., Туяков Е. А.**

С50 **Геометрия.** Учебник для 10 кл. естеств.-матем. направления общеобразова-  
тельной шк. — Алматы: Мектеп, 2019. — 192 с., илл.

ISBN 978—601—07—1146—4

С  $\frac{4306020502-013}{404(05)-19}$  58(1)—19

УДК 373.167.1  
ББК 22.151я72

© Смирнов В. А., Туяков Е. А., 2019  
© Издательство "Мектеп",  
художественное оформление, 2019  
Все права защищены  
Имущественные права на издание  
принадлежат издательству "Мектеп"

ISBN 978—601—07—1146—4

## ПРЕДИСЛОВИЕ

Вы начинаете изучать один из самых увлекательных и важных разделов геометрии — стереометрию. Зачем же она нужна? Во-первых, именно она знакомит с разнообразием пространственных форм, законами восприятия и изображения пространственных фигур, формирует необходимые пространственные представления. Во-вторых, стереометрия дает метод научного познания, способствует развитию логического мышления.

Кроме этого, изучение стереометрии помогает приобретению необходимых практических навыков в изображении, моделировании и конструировании пространственных фигур, в измерении основных геометрических величин (длин, углов, площадей, объемов).

Появление информационных технологий не только не снижает, но и усиливает роль геометрии, поскольку при этом существенно расширяются возможности графического представления материала, компьютерного моделирования.

Весь учебник разбит на главы и пункты, которые содержат теоретический материал, задания для самостоятельной работы, вопросы для повторения, задачи различного уровня трудности.

Конец доказательства теоремы помечен знаком (□).

Задачи разделены по уровням **А**, **В** и **С**. Задачи уровня **А** имеют начальный уровень трудности и отвечают за понимание основного материала. Задачи уровня **В** являются базовыми. Их выполнение свидетельствует об освоении учебного материала данного пункта. Задачи уровня **С** имеют повышенный уровень трудности.

Пункты, отмеченные звездочкой (\*), содержат дополнительный материал, не входящий в учебную программу. Он может быть использован как на основных уроках, так и на дополнительных занятиях по математике. В конце учебника приведены ответы к задачам.

Желаем успехов в изучении геометрии!

*Авторы*



## ПОВТОРЕНИЕ КУРСА ГЕОМЕТРИИ ДЛЯ 7—9 КЛАССОВ

### Основные понятия планиметрии

Основными понятиями планиметрии (геометрии на плоскости) являются *точка*, *прямая* и *плоскость*, а основными свойствами (аксиомами) их взаимного расположения являются следующие свойства:

1. *Через любые две точки проходит единственная прямая.*
2. *Существуют по крайней мере три точки, не принадлежащие одной прямой.*

*Лучом*, или *полупрямой*, называется часть прямой, состоящая из данной точки и всех точек, лежащих от нее по одну сторону. При этом сама данная точка называется *вершиной луча*, или *началом луча*.

*Отрезком* называется часть прямой, состоящая из двух данных точек и всех точек, лежащих между ними. При этом сами данные точки называются *концами отрезка*.

*Длина отрезка* — это положительное число, показывающее, сколько раз единичный отрезок и его части укладываются в данном отрезке.

Длину отрезка  $AB$  называют также *расстоянием* между точками  $A$  и  $B$ .

Фигура, образованная двумя лучами с общей вершиной и одной из частей плоскости, ограниченной этими лучами, называется *углом*. Общая вершина лучей называется *вершиной угла*, а сами лучи — *сторонами угла*.

*Градусная величина угла* показывает, сколько раз угол в один градус и его части укладываются в этом углу.

Угол называется *развернутым*, если его стороны вместе составляют прямую, в противном случае угол называется *неразвернутым*.

Два угла называются *смежными*, если одна сторона у них общая, а две другие составляют вместе прямую.

Два угла называются *вертикальными*, если стороны одного угла дополняют до прямых стороны другого угла.

Угол, равный своему смежному углу, называется *прямым углом*.

Угол, меньший прямого угла, называется *острым углом*.

Угол, больший прямого угла, но меньший развернутого угла, называется *тупым углом*.

*Биссектрисой* угла называется внутренний луч, делящий этот угол на два равных угла.

*Углом между пересекающимися прямыми* называется наименьший из углов, образованных лучами, на которые делятся данные прямые точкой их пересечения.

Две прямые называются *перпендикулярными*, если они образуют прямой угол.



Две прямые на плоскости называются *параллельными*, если они не пересекаются, т. е. не имеют общих точек.

В качестве аксиомы принимается следующее свойство.

*Через точку, не принадлежащую данной прямой, проходит не более одной прямой, параллельной данной.*

Пусть прямая проходит через точку  $A$  и перпендикулярна прямой  $b$ ,  $B$  — точка пересечения этих прямых. Отрезок  $AB$  называется *перпендикуляром*, опущенным из точки  $A$  на прямую  $b$ . Точка  $B$  называется *основанием перпендикуляра*. Длина перпендикуляра называется *расстоянием* от точки  $A$  до прямой  $b$ .

Для произвольной точки  $C$  на прямой  $b$ , отличной от точки  $B$ , отрезок  $AC$  называется *наклонной*, проведенной из точки  $A$  к прямой  $b$ . Точка  $C$  называется *основанием наклонной*. Отрезок  $BC$  называется *проекцией наклонной* на прямую  $b$ .

*Расстоянием* между двумя параллельными прямыми называется длина перпендикуляра, опущенного из точки, принадлежащей одной прямой, на другую прямую.

**Теорема о пропорциональных отрезках.** *Параллельные прямые, пересекающие стороны угла, отсекают от сторон угла пропорциональные отрезки.*

## Задачи

1. Изобразите пять прямых так, чтобы у них было десять точек попарных пересечений.
2. На прямой отмечены: а) 3 точки; б) 4 точки; в) 5 точек; г)\*  $n$  точек. Сколько имеется отрезков с концами в этих точках?
3. На прямой последовательно отложены три отрезка:  $AB$ ,  $BC$  и  $CD$  так, что  $AB = 3$  см,  $BC = 5$  см,  $CD = 4$  см. Найдите расстояние между серединами отрезков  $AB$  и  $CD$ .
4. На сколько частей разбивают плоскость  $n$  прямых, пересекающихся в одной точке?
5. Сумма трех углов, образованных при пересечении двух прямых, равна  $306^\circ$ . Найдите больший из них.
6. Луч  $OC$  лежит внутри угла  $AOB$ , равного  $120^\circ$ . Найдите угол  $AOC$ , если он на  $30^\circ$  меньше угла  $BOC$ .
7. Найдите градусные величины двух смежных углов, если один из них в два раза больше другого.
8. Общей частью двух углов  $AOB$  и  $COD$ , величиной  $60^\circ$  и  $90^\circ$  соответственно, является угол  $BOC$ , величиной  $30^\circ$ . Найдите угол  $AOD$ .
9. Колесо имеет: а) 10 спиц; б) 12 спиц. Найдите величину угла (в градусах), который образуют две соседние спицы.
10. На сколько градусов повернется минутная стрелка за: а) 20 мин; б) 10 мин; в) 50 мин?

11. Сумма двух внутренних накрест лежащих углов, образованных параллельными прямыми и секущей, равна  $150^\circ$ . Найдите эти углы.
12. Докажите, что если некоторая прямая пересекает одну из двух параллельных прямых, то она пересекает и другую прямую.

### Треугольники

*Треугольником* называется фигура, образованная тремя точками, не принадлежащими одной прямой, и тремя отрезками, попарно соединяющими эти точки. Точки называются *вершинами* треугольника, а отрезки — *сторонами* треугольника.

Треугольник называется *остроугольным*, если у него все углы острые.

Треугольник называется *прямоугольным*, если у него есть прямой угол.

Сторона прямоугольного треугольника, противолежащая прямому углу, называется *гипотенузой*, две другие стороны называются *катетами*.

Треугольник называется *тупоугольным*, если у него есть тупой угол.

Среди основных элементов треугольника, кроме вершин, сторон и углов, выделяют следующие:

*медиана* треугольника — отрезок, соединяющий вершину треугольника с серединой противолежащей стороны;

*биссектриса* треугольника — отрезок биссектрисы угла треугольника, соединяющий вершину с точкой противолежащей стороны;

*высота* треугольника — отрезок, соединяющий вершину треугольника с точкой противолежащей стороны или ее продолжения и перпендикулярный этой стороне.

*Периметром* треугольника называется сумма длин его сторон.

В зависимости от соотношений между сторонами, треугольники подразделяются на: а) разносторонние; б) равнобедренные; в) равносторонние.

Треугольник называется *разносторонним*, если у него стороны попарно не равны.

Треугольник называется *равнобедренным*, если у него две стороны равны.

Эти равные стороны называются *боковыми сторонами*, а третья сторона — *основанием* треугольника.

Треугольник называется *равносторонним*, если у него все стороны равны.

**Первый признак равенства треугольников.** Если две стороны и угол между ними одного треугольника соответственно равны двум сторонам и углу между ними другого треугольника, то такие треугольники равны.



**Второй признак равенства треугольников.** Если сторона и два прилежащих к ней угла одного треугольника соответственно равны стороне и двум прилежащим к ней углам другого треугольника, то такие треугольники равны.

**Третий признак равенства треугольников.** Если три стороны одного треугольника соответственно равны трем сторонам другого треугольника, то такие треугольники равны.

**Признак равнобедренного треугольника.** Если в треугольнике два угла равны, то он равнобедренный.

Одной из основных теорем планиметрии является следующая теорема об углах треугольника.

**Теорема.** Сумма углов треугольника равна  $180^\circ$ .

Отрезок, соединяющий середины двух сторон треугольника, называется *средней линией* треугольника.

**Теорема.** Средняя линия треугольника параллельна одной из его сторон и равна ее половине.

К числу замечательных точек треугольника относятся:

- а) точка пересечения биссектрис (*центр вписанной окружности*);
- б) точка пересечения серединных перпендикуляров к сторонам треугольника (*центр описанной окружности*);
- в) точка пересечения медиан (*центроид*);
- г) точка пересечения высот или их продолжений (*ортоцентр*).

**Теорема (Пифагора).** В прямоугольном треугольнике квадрат гипотенузы равен сумме квадратов катетов.

Таким образом, если катеты прямоугольного треугольника равны  $a$ ,  $b$ , а гипотенуза равна  $c$ , то имеет место формула

$$c^2 = a^2 + b^2.$$

**Первый признак подобия треугольников.** Если два угла одного треугольника равны двум углам другого треугольника, то такие треугольники подобны.

**Второй признак подобия треугольников.** Если две стороны одного треугольника пропорциональны двум сторонам другого треугольника и углы, заключенные между этими сторонами, равны, то такие треугольники подобны.

**Третий признак подобия треугольников.** Если три стороны одного треугольника пропорциональны трем сторонам другого треугольника, то такие треугольники подобны.

## Задачи

13. Нарисуйте: а) остроугольный треугольник  $ABC$ ; б) прямоугольный треугольник  $ABC$ ; в) тупоугольный треугольник  $ABC$ . Проведите медианы, биссектрисы и высоты этих треугольников.



14. Периметр треугольника равен 54 см. Найдите его стороны, если они относятся как 2 : 3 : 4.
15. Докажите, что в равных треугольниках равны соответствующие: а) медианы; б) биссектрисы; в) высоты.
16. Периметр равнобедренного треугольника равен 15,6 м. Найдите его стороны, если: а) основание меньше боковой стороны на 3 м; б) основание больше боковой стороны на 3 м.
17. Докажите, что если в треугольниках  $ABC$  и  $A_1B_1C_1$   $AB = A_1B_1$ ,  $AC = A_1C_1$ , медиана  $CM$  равна медиане  $C_1M_1$ , то треугольники  $ABC$  и  $A_1B_1C_1$  равны.
18. В треугольнике  $ABC$  угол  $A$  равен  $40^\circ$ ,  $AC = BC$ . Найдите угол  $C$ .
19. Углы треугольника относятся как 1 : 2 : 3. Найдите меньший из них.
20. В треугольнике  $ABC$   $AB$  и  $BC$  равны. Внешний угол при вершине  $B$  равен  $138^\circ$ . Найдите угол  $C$ .
21. Периметр треугольника равен 15 см. Найдите периметр треугольника, отсекаемого от данного какой-нибудь его средней линией.
22. Найдите высоту равностороннего треугольника со стороной 1.
23. Стороны одного треугольника равны 16 см, 8 см и 10 см. Меньшая сторона второго треугольника, подобного первому, равна 6 см. Найдите другие стороны второго треугольника.
24. Докажите, что высота прямоугольного треугольника, опущенная на гипотенузу, разбивает его на два треугольника, подобных исходному.

### Ломаные и многоугольники

*Ломаной* называется фигура, образованная конечным набором отрезков, расположенных так, что конец первого является началом второго, конец второго — началом третьего и т. д. Отрезки называются *сторонами ломаной*, а их концы — *вершинами ломаной*.

Сумма длин сторон ломаной называется *длиной ломаной*.

Ломаная обозначается последовательным указанием ее вершин. Например, ломаная  $ABCDE$ , ломаная  $A_1A_2\dots A_n$ .

*Простой* ломаной называется ломаная, не имеющая точек самопересечения.

*Замкнутой* ломаной называется ломаная, у которой начало первого отрезка совпадает с концом последнего.

Замкнутую ломаную, у которой точки самопересечения являются только начальная и конечная точки, также называют *простой*.

Фигура, образованная простой замкнутой ломаной и ограниченной ею внутренней областью, называется *многоугольником*. Вершины ломаной называются *вершинами многоугольника*, стороны ломаной — *сторонами многоугольника*, а углы, образованные соседними сторонами, —

углами многоугольника. Точки многоугольника, не принадлежащие его сторонам, называются *внутренними*.

*Периметром* многоугольника называется сумма длин всех его сторон.

Многоугольники делятся на *треугольники* — многоугольники с тремя углами, *четырёхугольники* — многоугольники с четырьмя углами и т. д. Многоугольник, у которого  $n$  углов, называется  *$n$ -угольником*.

*Правильным* многоугольником называется многоугольник, у которого все стороны равны и все углы равны.

*Выпуклым* многоугольником называется многоугольник, который вместе с любыми двумя своими точками содержит и соединяющий их отрезок.

**Теорема.** Сумма внутренних углов выпуклого  $n$ -угольника равна  $180^\circ(n - 2)$ .

## Задачи

25. Простая замкнутая ломаная имеет 20 сторон. Сколько у нее вершин?
26. Изобразите замкнутую пятистороннюю ломаную, которая имеет: а) две точки самопересечения; б) три точки самопересечения; в) пять точек самопересечения.
27. Нарисуйте правильный: а) треугольник; б) четырехугольник; в) пятиугольник; г) шестиугольник. Проверьте правильность нарисованных многоугольников с помощью линейки и транспортира.
28. На сколько треугольников делится выпуклый: а) четырехугольник; б) пятиугольник; в) шестиугольник; г)  $n$ -угольник своими диагоналями, проведенными из одной вершины?
29. Сколько всего диагоналей имеет: а) четырехугольник; б) пятиугольник; в) шестиугольник?
30. Чему равны углы правильного: а) треугольника; б) четырехугольника; в) пятиугольника; г) шестиугольника?
31. Сумма углов выпуклого многоугольника равна  $900^\circ$ . Сколько у него сторон?
32. Найдите внешние углы правильного: а) четырехугольника; б) пятиугольника; в) шестиугольника; г) восьмиугольника.

## Четырёхугольники

Четырёхугольник, у которого противоположные стороны попарно параллельны, называется *параллелограммом*.

**Первый признак параллелограмма.** Если в четырёхугольнике две стороны равны и параллельны, то этот четырёхугольник является параллелограммом.



**Второй признак параллелограмма.** Если в четырехугольнике противоположные стороны попарно равны, то этот четырехугольник является параллелограммом.

Прямоугольником называется параллелограмм, у которого все углы прямые.

**Признак прямоугольника.** Если в параллелограмме диагонали равны, то этот параллелограмм является прямоугольником.

Ромбом называется параллелограмм, у которого все стороны равны.

**Признак ромба.** Если в параллелограмме диагонали перпендикулярны, то этот параллелограмм является ромбом.

Квадратом называется прямоугольник, у которого все стороны равны.

**Признак квадрата.** Если в прямоугольнике диагонали перпендикулярны, то этот прямоугольник является квадратом.

Четырехугольник, у которого две стороны параллельны, а две другие не параллельны, называется *трапецией*.

Параллельные стороны трапеции называются ее *основаниями*, а непараллельные стороны — *боковыми сторонами*.

*Высотой* трапеции называется перпендикуляр, опущенный из ее вершины, на противоположное ей основание или его продолжение.

Трапеция называется *равнобедренной*, если ее боковые стороны равны.

Трапеция называется *прямоугольной*, если один из ее углов прямой.

Отрезок, соединяющий середины боковых сторон трапеции, называется *средней линией* трапеции.

**Теорема.** Средняя линия трапеции параллельна основаниям и равна их полусумме.

## Задачи

33. Диагональ параллелограмма образует с двумя его сторонами углы  $25^\circ$  и  $35^\circ$ . Найдите углы параллелограмма.
34. Найдите углы параллелограмма, если сумма двух из них равна: а)  $80^\circ$ ; б)  $100^\circ$ ; в)  $160^\circ$ .
35. Периметр параллелограмма равен 48 см. Найдите стороны параллелограмма, если: а) одна сторона на 2 см больше другой; б) разность двух сторон равна 6 см; в) одна из сторон в два раза больше другой.
36. Две стороны параллелограмма относятся как 3 : 4, а периметр его равен 2,8 м. Найдите стороны параллелограмма.
37. В прямоугольнике острый угол между его диагоналями равен  $50^\circ$ . Найдите углы, которые образуют диагонали со сторонами прямоугольника.



38. Меньшая сторона прямоугольника равна 5 см, диагонали пересекаются под углом  $60^\circ$ . Найдите диагонали прямоугольника.
39. Найдите диагонали прямоугольника, если его периметр равен 34 см, а периметр одного из треугольников, на которые диагональ разделила прямоугольник, равен 30 см.
40. Докажите, что биссектрисы углов параллелограмма с неравными соседними сторонами при пересечении образуют прямоугольник.
41. Докажите, что середины сторон прямоугольника являются вершинами ромба.
42. Чему равны углы равнобедренной трапеции, если известно, что разность противоположных углов равна  $40^\circ$ ?
43. Прямая, проведенная параллельно боковой стороне трапеции через конец меньшего основания, равного 3 см, отсекает треугольник, периметр которого равен 15 см. Найдите периметр трапеции.
44. Основания трапеции равны 4 см и 10 см. Найдите отрезки, на которые делит среднюю линию трапеции одна из ее диагоналей.

### Тригонометрические функции

Рассмотрим прямоугольный треугольник  $ABC$  ( $\angle C = 90^\circ$ ).

Отношение противолежащего углу  $A$  катета к гипотенузе называется *синусом* острого угла  $A$  прямоугольного треугольника и обозначается  $\sin A$ . По определению

$$\sin A = \frac{BC}{AB}.$$

Отношение прилежащего к углу  $A$  катета к гипотенузе называется *косинусом* острого угла  $A$  прямоугольного треугольника и обозначается  $\cos A$ . По определению

$$\cos A = \frac{AC}{AB}.$$

Отношение противолежащего углу  $A$  катета к прилежащему катету называется *тангенсом* острого угла  $A$  прямоугольного треугольника и обозначается  $\operatorname{tg} A$ . По определению

$$\operatorname{tg} A = \frac{BC}{AC}.$$

Отношение прилежащего к углу  $A$  катета к противолежащему катету называется *котангенсом* острого угла  $A$  прямоугольного треугольника и обозначается  $\operatorname{ctg} A$ . По определению

$$\operatorname{ctg} A = \frac{AC}{BC}.$$

Непосредственно из этих определений следуют равенства:

$$\operatorname{tg} A = \frac{\sin A}{\cos A}, \quad \operatorname{ctg} A = \frac{\cos A}{\sin A}.$$

Синус, косинус, тангенс и котангенс называются *тригонометрическими функциями острого угла*.

$$\begin{aligned}\sin 30^\circ &= \frac{1}{2}, \cos 30^\circ = \frac{\sqrt{3}}{2}, \operatorname{tg} 30^\circ = \frac{\sqrt{3}}{3}, \operatorname{ctg} 30^\circ = \sqrt{3}; \\ \sin 60^\circ &= \frac{\sqrt{3}}{2}, \cos 60^\circ = \frac{1}{2}, \operatorname{tg} 60^\circ = \sqrt{3}, \operatorname{ctg} 60^\circ = \frac{\sqrt{3}}{3}; \\ \sin 45^\circ &= \cos 45^\circ = \frac{\sqrt{2}}{2}, \operatorname{tg} 45^\circ = \operatorname{ctg} 45^\circ = 1.\end{aligned}$$

**Основное тригонометрическое тождество.** Синус и косинус острого угла  $A$  связаны между собой основным тригонометрическим тождеством

$$\sin^2 A + \cos^2 A = 1.$$

Тангенс и косинус острого угла  $A$  связаны между собой тождеством

$$\operatorname{tg}^2 A + 1 = \frac{1}{\cos^2 A}.$$

Котангенс и синус острого угла  $A$  связаны между собой тождеством

$$\operatorname{ctg}^2 A + 1 = \frac{1}{\sin^2 A}.$$

**Теорема (теорема синусов).** Стороны треугольника пропорциональны синусам противолежащих углов. Причем отношение стороны треугольника к синусу противолежащего угла равно диаметру описанной около треугольника окружности.

Таким образом, если для треугольника  $ABC$   $AB = c$ ,  $AC = b$ ,  $BC = a$ ,  $R$  — радиус описанной окружности, то имеют место равенства

$$\frac{a}{\sin A} = \frac{b}{\sin B} = \frac{c}{\sin C} = 2R.$$

Теорема косинусов является обобщением теоремы Пифагора.

**Теорема (теорема косинусов).** Квадрат стороны треугольника равен сумме квадратов двух других сторон без удвоенного произведения этих сторон на косинус угла между ними.

Таким образом, если для треугольника  $ABC$   $AB = c$ ,  $AC = b$ ,  $BC = a$ , то имеет место равенство

$$c^2 = a^2 + b^2 - 2ab \cos C.$$

## Задачи

45. В равнобедренном треугольнике  $ABC$  ( $AC = BC$ ) основание равно 6, боковые стороны равны 5. Найдите значения тригонометрических функций угла  $A$ .
46. В треугольнике  $ABC$  угол  $C$  равен  $90^\circ$ , угол  $A$  равен  $30^\circ$ ,  $AC = 2$ . Найдите высоту  $CH$ .
47. В треугольнике  $ABC$   $AC = BC = 2$ , угол  $C$  равен  $120^\circ$ . Найдите высоту  $AH$ .
48. Найдите  $\cos A$ , если: а)  $\sin A = \frac{1}{3}$ ; б)  $\sin A = \frac{3}{5}$ .
49. Найдите  $\operatorname{tg} A$ , если: а)  $\cos A = \frac{2}{3}$ ; б)  $\cos A = \frac{5}{13}$ .



50. Найдите  $\operatorname{ctg} A$ , если: а)  $\operatorname{tg} A = \frac{1}{2}$ ; б)  $\operatorname{tg} A = 2$ .
51. Чему равен синус: а)  $120^\circ$ ; б)  $135^\circ$ ; в)  $150^\circ$ ?
52. Чему равен косинус: а)  $120^\circ$ ; б)  $135^\circ$ ; в)  $150^\circ$ ?
53. При каких значениях угла треугольника квадрат стороны, лежащей против этого угла: а) меньше суммы квадратов двух других сторон; б) равен сумме квадратов двух других сторон; в) больше суммы квадратов двух других сторон?
54. В треугольнике  $ABC$   $AB = 12$ ,  $AC = 8$ ,  $\angle A = 60^\circ$ . Найдите третью сторону.
55. В треугольнике  $ABC$   $AC = BC = 1$ , угол  $C$  равен  $150^\circ$ . Найдите  $AB$ .
56. Даны три стороны треугольника  $BC = 2$ ,  $AC = 3$ ,  $AB = 4$ . Найдите косинусы его углов  $A$ ,  $B$ ,  $C$ .

### Площадь

Площадь фигуры характеризует величину части плоскости, которую занимает эта фигура.

Измерение площади фигуры, как и измерение длины отрезка, основано на сравнении этой фигуры с фигурой, площадь которой принимается за единицу.

За единицу измерения площади принимается квадрат, сторона которого равна единице измерения длины. Он называется *единичным квадратом*.

*Площадь фигуры* — это число, получающееся в результате измерения и показывающее, сколько раз единичный квадрат и его части укладываются в данной фигуре.

Две фигуры называются *равновеликими*, если они имеют одинаковую площадь.

Площадь  $S$  прямоугольника, смежные стороны которого равны  $a$ ,  $b$ , вычисляется по формуле

$$S = a \cdot b.$$

**Теорема.** *Площадь параллелограмма равна произведению его стороны на высоту, проведенную к этой стороне.*

Таким образом, площадь  $S$  параллелограмма со стороной  $a$  и высотой  $h$ , проведенной к этой стороне, вычисляется по формуле

$$S = a \cdot h.$$

**Теорема.** *Площадь параллелограмма равна произведению двух его смежных сторон на синус угла между ними.*

Таким образом, площадь  $S$  параллелограмма со смежными сторонами  $a$ ,  $b$  и углом  $C$  между ними вычисляется по формуле

$$S = ab \cdot \sin C.$$



**Теорема.** *Площадь треугольника равна половине произведения его стороны на высоту, проведенную к этой стороне.*

Таким образом, площадь  $S$  треугольника со стороной  $c$  и высотой  $h$ , проведенной к этой стороне, вычисляется по формуле

$$S = \frac{1}{2} c \cdot h.$$

**Теорема.** *Площадь треугольника равна половине произведения двух его сторон на синус угла между ними.*

Таким образом, площадь  $S$  треугольника со сторонами  $a$ ,  $b$  и углом  $C$  между ними вычисляется по формуле

$$S = \frac{1}{2} ab \cdot \sin C.$$

**Теорема.** *Площадь трапеции равна произведению полусуммы оснований на высоту.*

Таким образом, площадь  $S$  трапеции с основаниями  $a$ ,  $b$  и высотой  $h$  вычисляется по формуле

$$S = \frac{1}{2} (a + b) \cdot h.$$

**Теорема.** *Площадь выпуклого четырехугольника равна половине произведения его диагоналей на синус угла между ними.*

Таким образом, площадь  $S$  выпуклого четырехугольника с диагоналями  $d_1$ ,  $d_2$  и углом  $C$  между ними вычисляется по формуле

$$S = \frac{1}{2} d_1 d_2 \cdot \sin C.$$

Площадь многоугольника находится разбиением его на треугольники. При этом площадь многоугольника будет равна сумме площадей этих треугольников.

## Задачи

57. Найдите площадь прямоугольника, сторона которого равна 6, а диагональ равна 10.
58. Найдите площадь квадрата по его диагонали  $a$ .
59. Площадь квадрата равна 1. Найдите площадь квадрата, вершинами которого являются середины сторон данного квадрата.
60. Найдите площадь параллелограмма, если его стороны равны 8 см и 10 см, а угол между ними равен: а)  $30^\circ$ ; б)  $45^\circ$ ; в)  $60^\circ$ .
61. Площадь параллелограмма равна  $40 \text{ см}^2$ , стороны — 5 см и 10 см. Найдите высоты этого параллелограмма.
62. Боковая сторона равнобедренного треугольника равна 5, а основание равно 6. Найдите площадь треугольника.
63. Площадь треугольника равна 30. Одна его сторона равна 10. Найдите высоту, опущенную на эту сторону.

64. Найдите площадь треугольника, две стороны которого равны 3 см и 8 см, а угол между ними равен  $30^\circ$ .
65. Средняя линия трапеции равна 3, высота равна 2. Найдите площадь трапеции.
66. Основания трапеции равны 10 см и 35 см, площадь равна  $225 \text{ см}^2$ . Найдите ее высоту.
67. Высота трапеции равна 20 см, площадь —  $400 \text{ см}^2$ . Найдите среднюю линию трапеции.
68. Площадь трапеции равна  $200 \text{ см}^2$ . Одно основание равно 26 см, высота равна 10 см. Найдите второе основание трапеции.
69. Найдите площадь правильного шестиугольника, стороны которого равны 1.
70. Диагонали выпуклого четырехугольника равны 6 и 8, угол между ними равен  $30^\circ$ . Найдите площадь этого четырехугольника.

## Векторы

*Вектором* называется направленный отрезок, т. е. отрезок, в котором указаны его начало и конец.

Два вектора называются *коллинеарными*, если они лежат на одной прямой или на параллельных прямых.

Два вектора  $\overline{AB}$  и  $\overline{CD}$ , лежащих на одной прямой, называются *одинаково направленными*, если один из лучей  $AB$  или  $CD$  содержится в другом, в противном случае они называются *противоположно направленными*.

Два вектора, не лежащих на одной прямой, называются *одинаково (противоположно) направленными*, если они лежат на параллельных прямых по одну сторону (по разные стороны) от прямой, соединяющей их начала.

Два вектора называются *коллинеарными*, если они одинаково направлены или противоположно направлены.

*Длиной*, или *модулем*, вектора называется длина соответствующего отрезка. Длина векторов  $\overline{AB}$ ,  $\vec{a}$  обозначается соответственно  $|\overline{AB}|$ ,  $|\vec{a}|$ .

Два вектора называются *равными*, если они имеют одинаковое направление и равные длины.

Рассматривают также *нулевые векторы*, у которых начало совпадает с концом. Такие векторы обозначаются  $\vec{0}$ .

Длина нулевого вектора считается равной нулю.

Все нулевые векторы считаются равными между собой.

Для векторов, так же как и для отрезков, определена операция сложения. Для того чтобы сложить два вектора  $\vec{a}$  и  $\vec{b}$ , вектор  $\vec{b}$  откладывают так, чтобы его начало совпало с концом вектора  $\vec{a}$ .



Вектор, у которого начало совпадает с началом вектора  $\vec{a}$ , а конец — с концом вектора  $\vec{b}$ , называется *суммой* векторов  $\vec{a}$  и  $\vec{b}$ , обозначается  $\vec{a} + \vec{b}$ .

*Произведением* вектора  $\vec{a}$  на число  $t$  называется вектор, длина которого равна  $|t| \cdot |\vec{a}|$ , а направление остается прежним, если  $t > 0$ , и меняется на противоположное, если  $t < 0$ . Произведением вектора на нуль считается нулевой вектор.

Произведение вектора  $\vec{a}$  на число  $t$  обозначается  $t\vec{a}$ . По определению  $|t\vec{a}| = |t| \cdot |\vec{a}|$ .

Произведение вектора  $\vec{a}$  на число  $-1$  обозначается  $-\vec{a}$  и называется *вектором, противоположным* вектору  $\vec{a}$ .

По определению вектор  $-\vec{a}$  имеет направление, противоположное вектору  $\vec{a}$ , и  $|-\vec{a}| = |\vec{a}|$ .

**Теорема.** Если  $\vec{a}$  и  $\vec{b}$  два ненулевых неколлинеарных вектора, то для любого вектора  $\vec{c}$  существуют единственные числа  $t$  и  $s$ , для которых выполняется равенство  $\vec{c} = t \cdot \vec{a} + s \cdot \vec{b}$ .

Пусть  $\vec{a}$  и  $\vec{b}$  два ненулевых вектора. Отложим их от точки  $O$  так, что  $\vec{OA} = \vec{a}$ ,  $\vec{OB} = \vec{b}$ . Если эти векторы не являются одинаково направленными, то угол, образованный лучами  $OA$  и  $OB$ , называется *углом между векторами*  $\vec{a}$  и  $\vec{b}$ .

Угол между двумя одинаково направленными векторами считается равным  $0^\circ$ .

Два вектора называются *перпендикулярными*, если угол между ними прямой.

Вектор, перпендикулярный данной прямой, называется *вектором нормали* этой прямой.

*Скалярным произведением* двух ненулевых векторов называется произведение их длин на косинус угла между ними.

Если хотя бы один из векторов нулевой, то скалярное произведение таких векторов считается равным нулю.

Скалярное произведение векторов  $\vec{a}$  и  $\vec{b}$  обозначается  $\vec{a} \cdot \vec{b}$ . По определению

$$\vec{a} \cdot \vec{b} = |\vec{a}| \cdot |\vec{b}| \cdot \cos j,$$

где  $j$  — угол между векторами  $\vec{a}$  и  $\vec{b}$ .

Произведение  $\vec{a} \cdot \vec{a}$  называется *скалярным квадратом* и обозначается  $\vec{a}^2$ . Из определения скалярного произведения следует равенство  $\vec{a}^2 = |\vec{a}|^2$ .

## Задачи

71. Для правильного шестиугольника  $ABCDEF$ , стороны которого равны 1, и точки  $O$  пересечения его диагоналей найдите длину вектора:  
а)  $\vec{DE}$ ; б)  $\vec{OF}$ ; в)  $\vec{BE}$ ; г)  $\vec{FC}$ .



72. В параллелограмме  $ABCD$  укажите векторы: а)  $\overline{AB} + \overline{AD}$ ; б)  $\overline{AC} + \overline{CD}$ ; в)  $\overline{AD} + \overline{CB} + \overline{DC}$ .
73. В прямоугольнике  $ABCD$   $AB = 4$ ,  $BC = 3$ . Диагонали  $AC$  и  $BD$  пересекаются в точке  $O$  и равны 5. Найдите модуль суммы векторов: а)  $|\overline{AB} + \overline{AD}|$ ; б)  $|\overline{AO} + \overline{BO}|$ ; в)  $|\overline{OB} + \overline{OC}|$ ; г)  $|\overline{AC} + \overline{BD}|$ .
74. Диагонали  $AC$  и  $BD$  ромба  $ABCD$  равны соответственно 14 и 10 и пересекаются в точке  $O$ . Найдите длину вектора: а)  $\overline{AB} - \overline{AD}$ ; б)  $\overline{AB} - \overline{BC}$ ; в)  $2\overline{AB} - \overline{AC}$ ; г)  $\overline{BC} - \overline{OC}$ .
75. Диагонали правильного шестиугольника  $ABCDEF$ , стороны которого равны 1, пересекаются в точке  $O$ . Найдите длину вектора: а)  $\overline{AO} - \overline{CD}$ ; б)  $\overline{AE} - \overline{OE}$ ; в)  $\overline{AO} - \overline{FE}$ .
76. В прямоугольнике  $ABCD$   $AB = 4$ ,  $AD = 3$ , диагонали  $AC$  и  $BD$  равны 5. Найдите длину вектора: а)  $\frac{1}{2}\overline{AB} - \frac{1}{2}\overline{AD}$ ; б)  $\frac{1}{2}\overline{AC} - \frac{1}{2}\overline{AB}$ .
77. Для правильного шестиугольника  $ABCDEF$  найдите угол между векторами: а)  $\overline{AB}$  и  $\overline{AF}$ ; б)  $\overline{AB}$  и  $\overline{EF}$ ; в)  $\overline{AB}$  и  $\overline{CB}$ ; г)  $\overline{AB}$  и  $\overline{DC}$ ; д)  $\overline{AC}$  и  $\overline{BE}$ ; е)  $\overline{AC}$  и  $\overline{DE}$ .
78. Для прямоугольника  $ABCD$  со сторонами  $AB = 8$ ,  $AD = 6$  найдите скалярное произведение: а)  $\overline{AB} \cdot \overline{AD}$ ; б)  $\overline{AB} \cdot \overline{AC}$ ; в)  $\overline{AB} \cdot \overline{BC}$ ; г)  $\overline{AC} \cdot \overline{BC}$ .

### Координаты

Прямая, на которой выбраны точка  $O$  и единичный отрезок  $OE$ , указывающий положительное направление, называется *координатной прямой*, или *координатной осью*. Точка  $O$  называется *началом координат*.

Расстояние  $x$  от точки  $A$  координатной прямой до начала координат  $O$ , взятое со знаком "+", если  $A$  принадлежит положительной полуоси, и со знаком "-", если  $A$  принадлежит отрицательной полуоси, называется *координатой точки A*.

**Теорема.** *Расстояние между точками  $A_1, A_2$  на координатной прямой с координатами соответственно  $x_1; x_2$  выражается формулой*

$$A_1A_2 = |x_2 - x_1|.$$

Пара перпендикулярных координатных прямых с общим началом координат называется *прямоугольной системой координат* на плоскости. Начало координат обозначается буквой  $O$ , а координатные прямые обозначаются  $Ox, Oy$  и называются, соответственно, *осью абсцисс* и *осью ординат*.

Плоскость с заданной прямоугольной системой координат называется *координатной плоскостью*.

Рассмотрим точку  $A$  на координатной плоскости. Проведем через нее прямую, перпендикулярную оси  $Ox$ . Точку пересечения этой прямой с осью  $Ox$  обозначим  $A_x$ . Координата этой точки на оси  $Ox$  обозначается

$x$  и называется *абсциссой* точки  $A$ . Аналогично, через точку  $A$  проведем прямую, перпендикулярную оси  $Oy$ . Точку ее пересечения с осью  $Oy$  обозначим  $A_y$ . Координата этой точки на оси  $Oy$  обозначается  $y$  и называется *ординатой* точки  $A$ .

Таким образом, каждой точке  $A$  на координатной плоскости соответствует пара  $(x; y)$ , называемая *координатами точки* на плоскости относительно данной системы координат. Точка  $A$  с координатами  $(x; y)$  обозначается  $A(x; y)$ .

Расстояние между точками  $A_1(x_1; y_1)$ ,  $A_2(x_2; y_2)$  на координатной плоскости выражается формулой

$$A_1A_2 = \sqrt{(x_2 - x_1)^2 + (y_2 - y_1)^2}.$$

Окружность с центром в точке с координатами  $(x_0; y_0)$  и радиусом  $R$  задается уравнением

$$(x - x_0)^2 + (y - y_0)^2 = R^2.$$

Прямая задается уравнением  $ax + by + c = 0$ , где  $a$  и  $b$  — числа, одновременно не равные нулю.

Отложим вектор так, чтобы его начало совпало с началом координат. Тогда координаты его конца называются *координатами вектора*.

Векторы с координатами  $(1; 0)$ ,  $(0; 1)$  обозначим  $\vec{i}$ ,  $\vec{j}$  соответственно. Будем называть эти векторы *координатными векторами* и изображать, отложенными от начала координат.

**Теорема.** Вектор  $\vec{a}$  имеет координаты  $(x; y)$  тогда и только тогда, когда он представим в виде  $\vec{a} = x\vec{i} + y\vec{j}$ .

Длина вектора  $\overline{A_1A_2}$ , для которого  $A_1(x_1; y_1)$ ,  $A_2(x_2; y_2)$ , выражается формулой

$$|\overline{A_1A_2}| = \sqrt{(x_2 - x_1)^2 + (y_2 - y_1)^2}.$$

Скалярное произведение векторов  $\vec{a}_1(x_1; y_1)$  и  $\vec{a}_2(x_2; y_2)$  выражается формулой

$$\vec{a}_1 \cdot \vec{a}_2 = x_1x_2 + y_1y_2.$$

Косинус угла  $\beta$  между прямыми с векторами нормали  $\vec{n}_1$ ,  $\vec{n}_2$  вычисляется по формуле скалярного произведения векторов

$$\cos \beta = \frac{|\vec{n}_1 \cdot \vec{n}_2|}{|\vec{n}_1| \cdot |\vec{n}_2|}.$$

В частности, прямые будут перпендикулярны, если скалярное произведение векторов  $\vec{n}_1$ ,  $\vec{n}_2$  равно нулю, т. е. выполняются равенства

$$\vec{n}_1 \cdot \vec{n}_2 = a_1a_2 + b_1b_2 = 0.$$

## Задачи

79. Найдите координаты середины отрезка  $AB$ , если: а)  $A(-2; 1)$ ,  $B(6; 5)$ ; б)  $A(4; -3)$ ,  $B(2; 1)$ ; в)  $A(7; 5)$ ,  $B(-5; -3)$ .



80. Точки  $O(0; 0)$ ,  $A(6; 2)$ ,  $C(0; 6)$  и  $B$  являются вершинами параллелограмма  $OABC$ . Найдите координаты точки  $B$ .
81. Точки  $O(0; 0)$ ,  $A(8; 2)$ ,  $B(10; 8)$ ,  $C(2; 6)$  являются вершинами параллелограмма. Найдите координаты точки  $P$  пересечения его диагоналей.
82. Найдите расстояние между точками: а)  $A_1(2; 1)$  и  $A_2(1; -1)$ ; б)  $B_1(4; 3)$  и  $B_2(-1; 3)$ .
83. Найдите расстояние от точки  $A(3; 2)$  до оси: а)  $Ox$ ; б)  $Oy$ .
84. Какая из точек  $A(1; 2)$  или  $B(1; -2)$  лежит ближе к началу координат?
85. Найдите координаты центра  $C$  и радиус  $R$  окружности, заданной уравнением: а)  $(x + 5)^2 + (y - 2)^2 = 16$ ; б)  $x^2 + (y - 3)^2 = 9$ .
86. Напишите уравнение окружности: а) с центром в точке  $O(0; 0)$  и радиусом 1; б) с центром в точке  $C(-2; 1)$  и радиусом 3.
87. Напишите уравнение окружности с центром в начале координат, проходящей через точку  $A(3; 3)$ .
88. Докажите, что уравнение: а)  $x^2 - 8x + y^2 = 0$ ; б)  $x^2 + 2x + y^2 - 6y + 4 = 0$  задает окружность. Найдите ее радиус и координаты центра.
89. Найдите скалярное произведение векторов  $\vec{a}_1(2; -1)$  и  $\vec{a}_2(-1; 2)$ .
90. Найдите угол между прямыми, заданными уравнениями: а)  $2x + y - 1 = 0$ ,  $x - 2y + 3 = 0$ ; б)  $x + y + 1 = 0$ ,  $x - y - 1 = 0$ .
91. Напишите уравнение прямой, проходящей через точку  $A_0(2; 1)$  с вектором нормали  $\vec{n}(1; -1)$ .
92. Напишите уравнение прямой, проходящей через точки  $M(-1; 3)$ ,  $N(1; 4)$ . Найдите координаты вектора нормали этой прямой.
93. Определите, какие из перечисленных ниже пар прямых: а) параллельны; б) перпендикулярны:  
 1)  $x + y - 2 = 0$ ,  $x + y + 3 = 0$ ;  
 2)  $x + y - 2 = 0$ ,  $x - y - 3 = 0$ ;  
 3)  $-7x + y = 0$ ,  $7x - y + 4 = 0$ ;  
 4)  $4x - 2y - 8 = 0$ ,  $-x - 2y + 4 = 0$ .
94. Найдите координаты точки пересечения прямых:  
 а)  $x - y - 1 = 0$ ,  $x + y + 3 = 0$ ;  
 б)  $x - 3y + 2 = 0$ ,  $2x - 5y + 1 = 0$ .
95. Даны векторы  $\vec{a}(-1; 2)$  и  $\vec{b}(2; -4)$ . Найдите координаты вектора  $3\vec{a} - 2\vec{b}$ .
96. Найдите скалярное произведение векторов  $\vec{a}_1(1; 3)$  и  $\vec{a}_2(3; -1)$ .
97. Найдите косинус угла между векторами  $\vec{a}_1(3; 4)$  и  $\vec{a}_2(4; 3)$ .

## § 1. Основные понятия стереометрии

*Стереометрия*, или *геометрия в пространстве* — это раздел геометрии, изучающий положение, форму, размеры и свойства различных пространственных фигур.

Стереометрия — греческое слово. Оно произошло от слов “стереос” — *твердый* (тело) и “метрео” — *измерять*, т. е. слово “стереометрия” означает измерение тел.

Основными понятиями стереометрии являются *точка*, *прямая* и *плоскость*, которые являются идеализациями объектов реального пространства.

*Точка* — идеализация очень маленьких объектов, т. е. таких, размерами которых можно пренебречь. Евклид в своей знаменитой книге “Начала” определял точку как то, что не имеет частей.

*Прямая* — идеализация тонкой натянутой нити, края стола прямоугольной формы. По прямой распространяются лучи света.

*Плоскость* — идеализация ровной поверхности воды, поверхности стола, доски, зеркала и т. п.

Точки, прямые и плоскости будем изображать, как показано на рисунке 1.1.

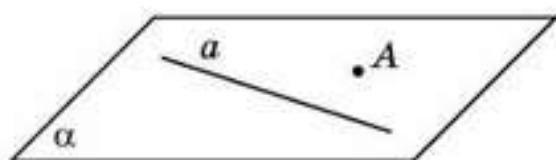


Рис. 1.1

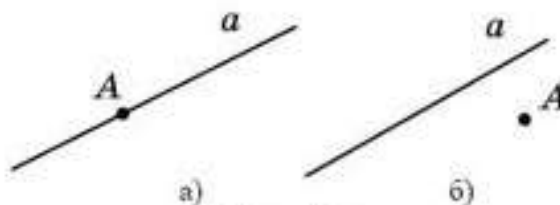


Рис. 1.2

Точки обозначают прописными латинскими буквами  $A, B, C, \dots$ .

Точка может принадлежать данной прямой (рис. 1.2, а) или не принадлежать ей (рис. 1.2, б).

Если точка принадлежит прямой, то говорят также, что прямая проходит через точку.

Прямые обозначают строчными латинскими буквами  $a, b, c, \dots$ , а также двумя латинскими буквами, указывающими точки, принадлежащие этой прямой, например, прямая  $AB$ , прямая  $C_1D_1$  и т. д.

Для отношения принадлежности в математике используется обозначение  $\in$ . Например, то, что точка  $A$  принадлежит прямой  $a$ , обозначается  $A \in a$ , то, что точка  $B$  не принадлежит прямой  $a$ , обозначается  $B \notin a$ .

Две прямые в пространстве называются *пересекающимися*, если они имеют только одну общую точку.



То, что точка  $C$  является пересечением прямых  $a$  и  $b$ , обозначается  $C = a \cap b$ .

Точка может принадлежать данной плоскости (рис. 1.3, а) или не принадлежать ей (рис. 1.3, б).

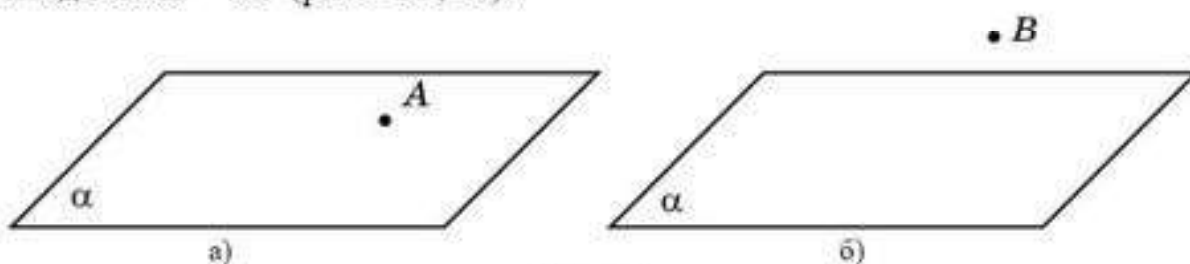


Рис. 1.3

Если точка принадлежит плоскости, то говорят также, что плоскость проходит через эту точку.

Плоскости обозначают греческими буквами  $\alpha, \beta, \gamma \dots$ , а также тремя латинскими буквами, указывающими какие-нибудь три точки, принадлежащие этой плоскости и не принадлежащие одной прямой, например, плоскость  $ABC$ , плоскость  $D_1E_1F_1$  и т. д.

То, что точка  $A$  принадлежит плоскости  $\alpha$ , обозначается  $A \in \alpha$ , то, что точка  $B$  не принадлежит плоскости  $\alpha$ , обозначается  $B \notin \alpha$ .

Говорят, что прямая *лежит в плоскости*, или что плоскость *проходит через прямую*, если каждая точка этой прямой принадлежит плоскости (рис. 1.4, а).

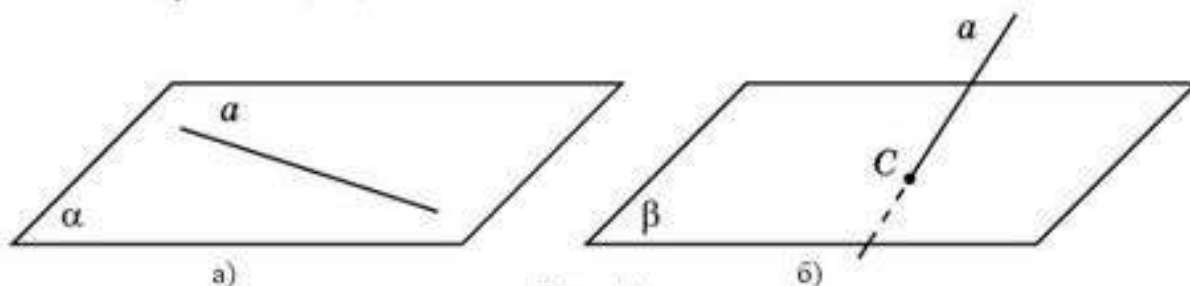



Рис. 1.4

То, что прямая  $a$  лежит в плоскости  $\alpha$  обозначается  $a \in \alpha$ .

Если прямая и плоскость имеют только одну общую точку, то говорят, что прямая *пересекает плоскость* (рис. 1.4, б).

То, что точка  $C$  является пересечением прямой  $a$  и плоскости  $\beta$ , обозначается  $C = a \cap \beta$  (рис. 1.4, б).

 Попробуйте изобразить прямую, не пересекающую плоскость.

Будем говорить, что две плоскости *пересекаются по прямой*, если их общими точками являются точки этой прямой и только они (рис. 1.5).

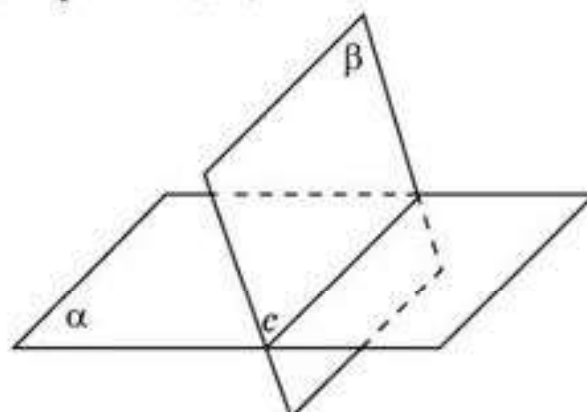


Рис. 1.5

То, что прямая  $c$  является пересечением плоскостей  $a$  и  $b$ , обозначается  $c = a \cap b$ .



Попробуйте изобразить две непересекающиеся плоскости.

## Исторические сведения

Стереометрия, как и планиметрия, возникла и развивалась в связи с потребностями практической деятельности человека. О зарождении геометрии в Древнем Египте около 2000 лет до н. э. древнегреческий ученый Геродот (V в. до н. э.) писал следующее: “Сеозоострис, египетский фараон, разделил землю, дав каждому египтянину участок по жребию, и взимал соответствующим образом налог с каждого участка. Случалось, что Нил заливал тот или иной участок; тогда пострадавший обращался к царю, а царь посылал землемеров, чтобы установить, на сколько уменьшился участок, и соответствующим образом уменьшить налог. Так возникла геометрия в Египте, а оттуда перешла в Грецию”.

При строительстве даже самых примитивных сооружений необходимо было рассчитывать, сколько материала пойдет на постройку, вычислять расстояния между точками в пространстве и углы между прямыми и плоскостями, применять свойства простейших геометрических фигур. Египетские пирамиды, сооруженные за 2, 3 и 4 тыс. лет до н. э., поражают точностью своих метрических соотношений, свидетельствующих, что их строители хорошо знали стереометрию.

Развитие торговли и мореплавания требовало умений ориентироваться во времени и пространстве: знать сроки смены времен года, уметь определять свое местонахождение по карте, измерять расстояния и находить направление движения. Наблюдения за Солнцем, Луной, звездами и изучение законов взаимного расположения прямых и плоскостей в пространстве позволяло решать эти задачи и дало начало новой науке — астрономии.

Начиная с VII в. до н. э., в Древней Греции создаются философские школы, в которых происходит постепенный переход от практической геометрии к теоретической. Все большее значение в этих школах приобретают рассуждения, с помощью которых удавалось получать новые геометрические факты.

Одной из первых и самых известных школ была пифагорейская школа (VI—V вв. до н. э.), названная так в честь своего основателя Пифагора.

Для своих философских теорий пифагорейцы использовали правильные многогранники, формы которых они сопоставляли с элементами первоосно в бытия, а именно: огонь — правильный тетраэдр (рис. 1.6, а);



земля — гексаэдр (рис. 1.6, б); воздух — октаэдр (рис. 1.6, в); вода — икосаэдр (рис. 1.6, г); Вселенная — додекаэдр (рис. 1.6, д).

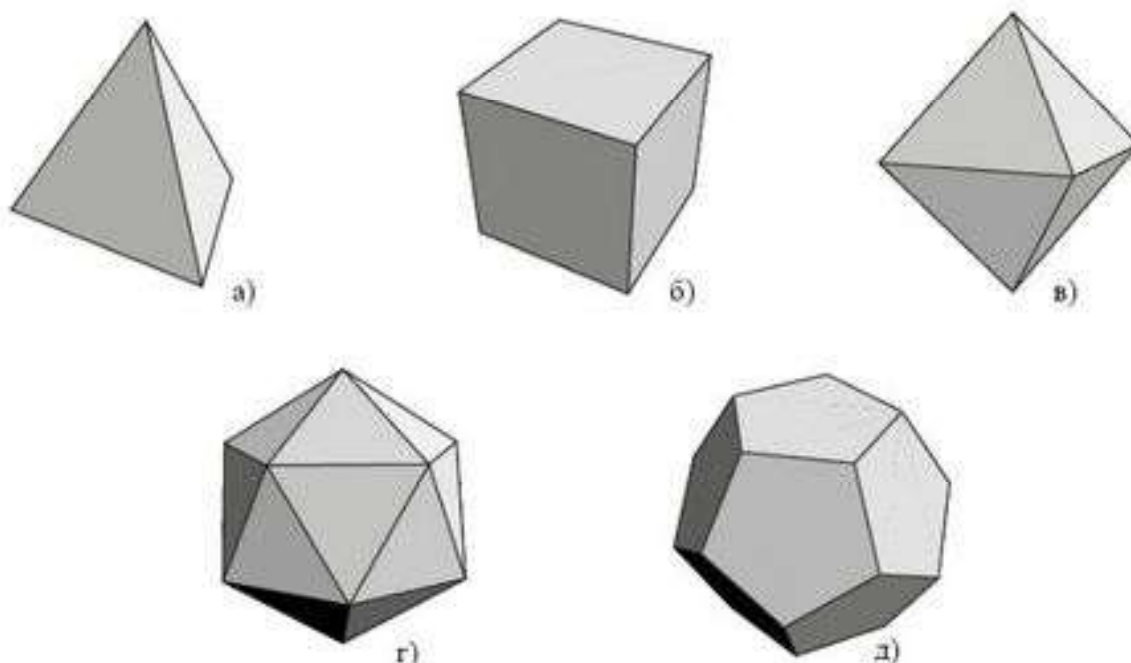


Рис. 1.6

Названия многогранников тоже имеют древнегреческое происхождение. В переводе с греческого языка: “тетра” — четыре, грани тетраэдра — четыре правильных треугольника; “гекса” — шесть, у гексаэдра (куба) шесть квадратных граней; “окто” — восемь, грани октаэдра — восемь правильных треугольников; “икоси” — двадцать, грани икосаэдра — двадцать правильных треугольников, “додека” — двенадцать, грани додекаэдра — двенадцать правильных пятиугольников. “Эдра” в переводе с греческого языка означает “грань”.

Более поздняя философская школа — александрийская — интересна тем, что дала миру знаменитого ученого Евклида, который жил около 300 лет до н. э. К сожалению, о жизни его мало известно. В одном из своих сочинений математик Папп (III в. н. э.), изображает Евклида как человека исключительно честного, тихого и скромного, которому были чужды гордость и эгоизм.

Евклид создал знаменитую книгу “Начала”, в которой впервые было дано научное изложение геометрии и представлено ее стройное аксиоматическое построение. На протяжении более двух тысячелетий эта книга оставалась основой изучения систематического курса геометрии.

В одном из рассказов об Евклиде говорится: “Царь Птолемей спросил у Евклида, нельзя ли найти более короткий и менее утомительный путь к изучению геометрии, чем его “Начала”. Евклид на это ответил: “В геометрии нет царского пути”.

В последние столетия в геометрии появились новые методы, в том числе координатный и векторный, позволившие переводить геометрические задачи на язык алгебры, и наоборот. Возникли и развиваются

новые направления геометрических исследований: геометрия Лобачевского, проективная геометрия, топология, компьютерная геометрия и др. Геометрические методы широко используются в других науках, например, теории относительности, квантовой механике, кристаллографии и многих др.

## Вопросы

1. Что изучает стереометрия?
2. Как переводится с греческого языка слово “стереометрия”?
3. Идеализацией каких объектов является: а) точка; б) прямая; в) плоскость?
4. Как обозначают: а) точки; б) прямые; в) плоскости?
5. Как обозначается то, что точка  $A$  принадлежит прямой  $a$ ?
6. Как обозначается то, что точка  $B$  не принадлежит прямой  $a$ ?
7. Как две прямые в пространстве называются *пересекающимися*?
8. Как обозначается то, что точка  $C$  является пересечением прямых  $a$  и  $b$ ?
9. Как обозначается то, что точка  $A$  принадлежит плоскости  $\alpha$ ?
10. Как обозначается то, что точка  $B$  не принадлежит плоскости  $\alpha$ ?
11. В каком случае говорят, что прямая: а) лежит в плоскости; б) пересекает плоскость?
12. Как обозначается то, что прямая  $a$  лежит в плоскости  $\alpha$ ?
13. Как обозначается то, что точка  $C$  является пересечением прямой  $a$  и плоскости  $b$ ?
14. В каком случае говорят, что две плоскости пересекаются по прямой?
15. Как обозначается то, что прямая  $c$  является пересечением плоскостей  $\alpha$  и  $\beta$ ?
16. Когда и где зародилась геометрия?
17. Как называются *многогранники*, изображенные на рисунке 1.6? Сколько у них граней?

## Задачи

### А

- 1.1. Представьте, что стены класса — это части плоскостей. Укажите:
  - а) две пересекающиеся плоскости;
  - б) две непересекающиеся плоскости;
  - в) плоскость и непересекающую ее прямую;
  - г) две пересекающиеся прямые;
  - д) две непересекающиеся прямые.
- 1.2. Изобразите:
  - а) две пересекающиеся прямые;
  - б) плоскость и непересекающую ее прямую;
  - в) две пересекающиеся плоскости.
- 1.3. Точки  $A, B, C$  не принадлежат одной прямой. Запишите прямые, проходящие через различные пары этих точек.
- 1.4. Точки  $A, B, C, D$  не принадлежат одной плоскости. Запишите плоскости, проходящие через различные тройки этих точек.



## В

- 1.5. Точки  $A, B, C, D$  не принадлежат одной плоскости. Укажите точку пересечения прямой  $AD$  и плоскости: а)  $ABC$ ; б)  $BCD$ .
- 1.6. Точки  $A, B, C, D$  не принадлежат одной плоскости. Укажите прямую пересечения плоскости  $ABC$  и плоскости: а)  $ABD$ ; б)  $BCD$ ; в)  $ACD$ .
- 1.7. Сколько прямых проходит через различные пары из: а) трех точек; б) четырех точек; в) пяти точек, никакие три из которых не принадлежат одной прямой?
- 1.8. Сколько плоскостей проходит через различные тройки из четырех точек, не принадлежащих одной плоскости?

## С

- 1.9. Сколько прямых проходит через различные пары из  $n$  точек, никакие три из которых не принадлежат одной прямой?
- 1.10. Сколько плоскостей проходит через различные тройки из  $n$  точек, никакие четыре из которых не принадлежат одной плоскости?

## Подготовьтесь к овладению новыми знаниями

- 1.11. Повторите аксиомы геометрии на плоскости.
- 1.12. Сформулируйте какие-нибудь аксиомы геометрии на плоскости.

## § 2. Аксиомы стереометрии

Так же, как в планиметрии, некоторые свойства точек, прямых и плоскостей в пространстве принимаются без доказательства, их называют **аксиомами**. В переводе с греческого “аксиома” означает утверждение, “достоинство признания”, т. е. бесспорное, не требующее доказательства, безусловное.

Сформулируем следующие **аксиомы стереометрии**.

1. *Через любые две точки пространства проходит единственная прямая.*

Используя обозначения, эту аксиому можно переформулировать следующим образом.

Для любых двух точек  $A_1, A_2$  пространства найдется единственная прямая  $a$ , для которой  $A_1 \in a$  и  $A_2 \in a$ .

2. *Через любые три точки пространства, не принадлежащие одной прямой, проходит единственная плоскость.*

Используя обозначения, эту аксиому можно переформулировать следующим образом.

Для любых трех точек  $A_1, A_2, A_3$  пространства, не принадлежащих одной прямой, найдется единственная плоскость  $\alpha$ , для которой  $A_1 \in \alpha$  и  $A_2 \in \alpha, A_3 \in \alpha$ .

3. Если две плоскости имеют общую точку, то они пересекаются по прямой.



Используя обозначения, попробуйте переформулировать эту аксиому самостоятельно.

4. Существуют по крайней мере четыре точки, не принадлежащие одной плоскости.



Используя обозначения, попробуйте переформулировать эту аксиому самостоятельно.

5. Для прямых и плоскостей в пространстве выполняются все аксиомы планиметрии.

Используя аксиомы стереометрии, с помощью логических рассуждений устанавливают справедливость других свойств. Рассмотрим некоторые из них.

**Свойство 1.** Если прямая имеет с плоскостью две общие точки, то она лежит в этой плоскости.

**Доказательство.** Пусть прямая  $a$  имеет с плоскостью  $\alpha$  две общие точки  $A_1$  и  $A_2$  (рис. 2.1).

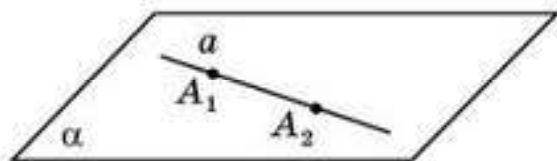


Рис. 2.1

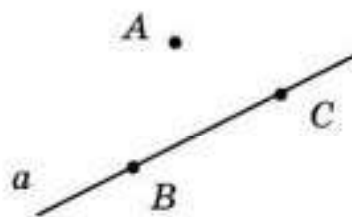


Рис. 2.2

Так как в плоскости  $\alpha$  выполняются аксиомы планиметрии, то в этой плоскости через точки  $A_1, A_2$  проходит единственная прямая. Если бы она не совпадала с прямой  $a$ , то мы получили бы две прямые, проходящие через две данные точки, а это противоречит аксиоме 1. Следовательно, эти прямые совпадают. Значит, прямая  $a$  лежит в плоскости  $\alpha$ .

**Свойство 2.** Через прямую и не принадлежащую ей точку проходит единственная плоскость.

**Доказательство.** Пусть точка  $A$  не принадлежит прямой  $a$ . Так как на прямой  $a$  выполняются аксиомы планиметрии, то на ней найдутся точки  $B, C$  (рис. 2.2).

В силу аксиомы 2 через точки  $A, B, C$ , не принадлежащие одной прямой, проходит единственная плоскость  $\alpha$ . По свойству 1 прямая  $a$  лежит в плоскости  $\alpha$ . Значит, плоскость  $\alpha$  проходит через прямую  $a$  и точку  $A$ .

Докажем, что эта плоскость единственная. Действительно, всякая плоскость, проходящая через прямую  $a$  и точку  $A$ , будет проходить также через точки  $A, B, C$ . По аксиоме 2 она должна совпадать с плоскостью  $\alpha$ .  $\square$



**Свойство 3.** *Через две пересекающиеся прямые проходит единственная плоскость.*

**Доказательство.** Пусть прямые  $a$  и  $b$  пересекаются в точке  $C$ . Так как на прямых  $a$  и  $b$  выполняются аксиомы планиметрии, то на них найдутся соответственно точки  $A$  и  $B$ , отличные от точки  $C$  (рис. 2.3).

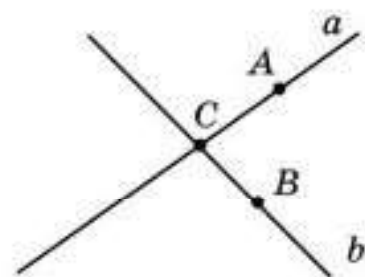


Рис. 2.3

Точки  $A, B, C$  не принадлежат одной прямой, следовательно, в силу аксиомы 2 через них проходит единственная плоскость. Так как точки  $A$  и  $C$  принадлежат этой плоскости, то по свойству 1 прямая  $a$  лежит в этой плоскости. Аналогично, так как точки  $B$  и  $C$  принадлежат этой плоскости, то по свойству 1 прямая  $b$  лежит в этой плоскости. Таким образом, данная плоскость проходит через две данные прямые.

Докажем, что эта плоскость единственная. Действительно, плоскость, проходящая через прямые  $a$  и  $b$ , будет проходить также через точки  $A, B, C$ , не принадлежащие одной прямой. По аксиоме 2 такая плоскость единственная.  $\square$



Используя аксиому 4, докажите, что в пространстве существует четыре плоскости.



Как вы думаете, сколько плоскостей проходит через две точки пространства?

## Вопросы

1. Что означает слово "аксиома"?
2. Сформулируйте аксиомы стереометрии.
3. Используя обозначения, переформулируйте аксиомы стереометрии.
4. Как расположены прямая и плоскость, если прямая имеет с плоскостью две общие точки?
5. Сколько плоскостей проходит через прямую и не принадлежащую ей точку?
6. Сколько плоскостей проходит через две пересекающиеся прямые?

## Задачи

### А

- 2.1. Сколько прямых можно провести через одну точку?
- 2.2. Сколько плоскостей можно провести через одну прямую?
- 2.3. Сколько плоскостей может проходить через три данные точки?  
При каком расположении трех точек через них можно провести бесконечно много плоскостей?

- 2.4. Даны четыре точки, не принадлежащие одной плоскости. Могут ли три из них принадлежать одной прямой?
- 2.5. Могут ли две плоскости иметь только: а) одну общую точку; б) две общие точки?
- 2.6. Могут ли две плоскости иметь только две общие прямые?

**В**

- 2.7. Точка  $M$  принадлежит плоскости  $\alpha$ . Определите по рисунку 2.4, каким еще плоскостям принадлежит точка  $M$ .

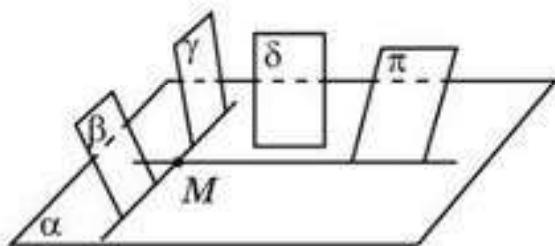


Рис. 2.4

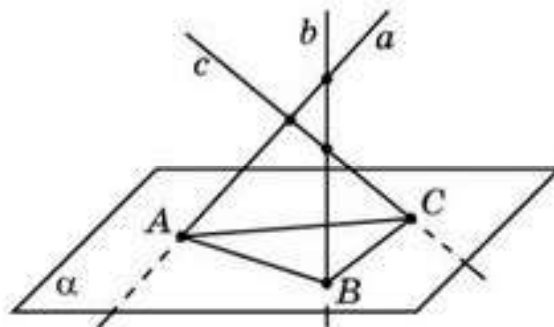


Рис. 2.5

- 2.8. На рисунке 2.5 попарно пересекающиеся прямые  $a, b, c$  пересекают плоскость соответственно в точках  $A, B, C$ . Правильно ли выполнен рисунок?

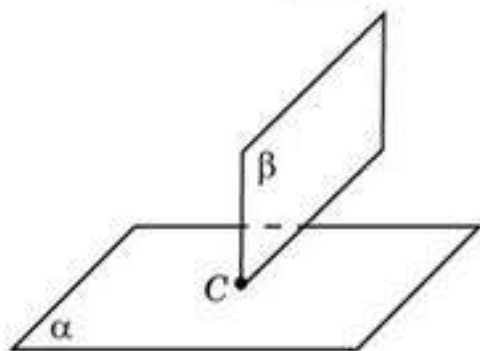


Рис. 2.6

- 2.9. Две вершины и точка пересечения диагоналей параллелограмма принадлежат одной плоскости. Верно ли, что и две другие вершины параллелограмма принадлежат этой плоскости?
- 2.10. Что является пересечением двух плоскостей, изображенных на рисунке 2.6?
- 2.11. На сколько частей разбивают пространство: а) две; б) три пересекающиеся плоскости?

**С**

- 2.12. На какое наибольшее число частей могут разбивать пространство четыре плоскости?
- 2.13. На какое наибольшее число частей могут разбивать пространство три плоскости?
- 2.14. Докажите, что если две плоскости имеют общую точку, то они пересекаются по прямой, проходящей через эту точку.
- 2.15. Докажите, что для любой плоскости найдется точка, ей не принадлежащая.



## Подготовка к овладению навыками

- 2.16. Повторите определение многоугольника.  
 2.17. Попробуйте закончить определение многогранника. *Многогранником* называется тело, поверхность которого состоит из ...

### § 3. Фигуры в пространстве. Тетраэдр, куб, параллелепипед

Среди пространственных фигур выделяют *многогранники* — тела, поверхности которых состоят из конечного числа многоугольников, называемых *гранями* многогранника. Стороны и вершины этих многоугольников называются соответственно *ребрами* и *вершинами* многогранника.

Отрезки, соединяющие вершины многогранника, не принадлежащие одной грани, называются *диагоналями* многогранника.

Одним из простейших многогранников является *тетраэдр*, поверхность которого состоит из четырех равносторонних треугольников (рис. 3.1). Обычно тетраэдр обозначают указанием его вершин, например,  $ABCD$ .

*Кубом* называется многогранник, поверхность которого состоит из шести квадратов (рис. 3.2). Обычно куб обозначают указанием его вершин, например,  $ABCD A_1 B_1 C_1 D_1$ . Куб, ребра которого равны 1, называют *единичным кубом*.

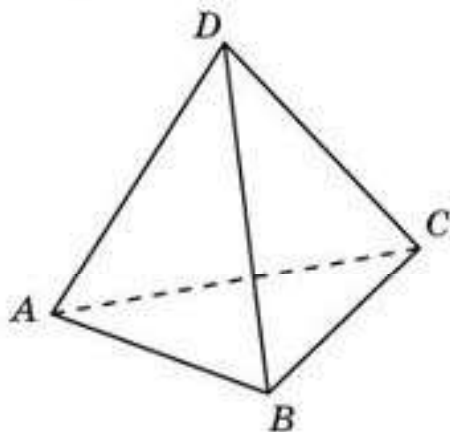


Рис. 3.1

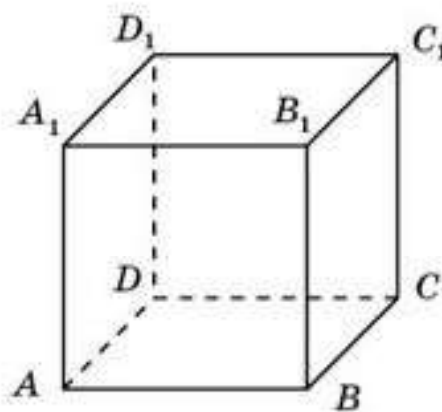


Рис. 3.2

*Параллелепипедом* называется многогранник, поверхность которого состоит из шести параллелограммов (рис. 3.3). Параллелепипед обозначают указанием его вершин, например,  $ABCD A_1 B_1 C_1 D_1$ .

Параллелепипед, у которого все грани — прямоугольники, называется *прямоугольным параллелепипедом* (рис. 3.3, б). В противном случае параллелепипед называется *наклонным* (рис. 3.3, а).

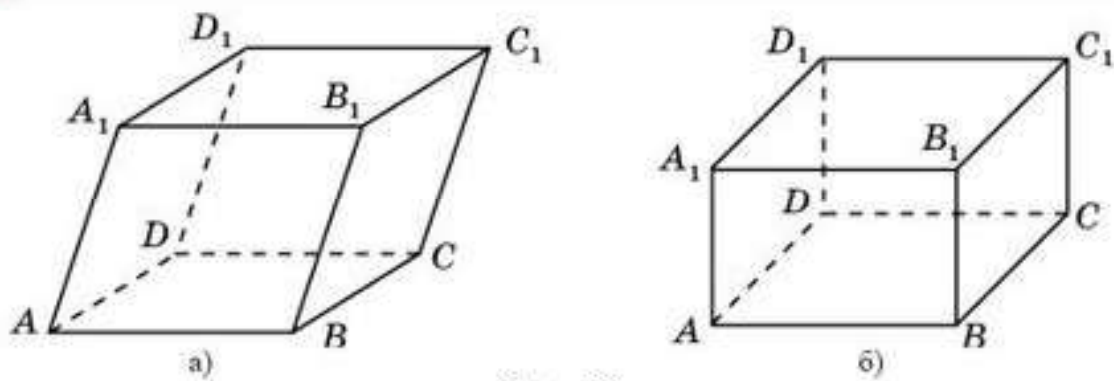


Рис. 3.3



Как вы думаете, является ли куб параллелепипедом?

Если поверхность многогранника разрезать по некоторым ребрам и развернуть ее на плоскости так, чтобы все многоугольники, составляющие эту поверхность, лежали в данной плоскости, то получится фигура, называемая *разверткой многогранника*. Например, на рисунке 3.4 изображена развертка куба.

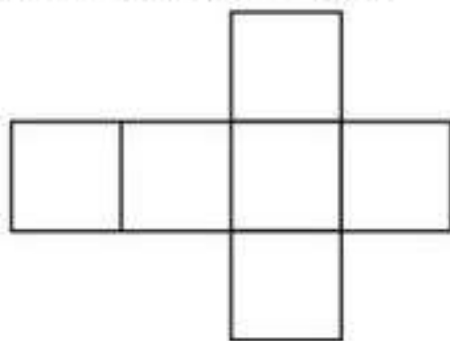


Рис. 3.4

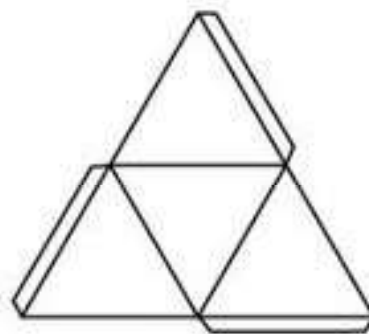


Рис. 3.5

Для изготовления модели многогранника из плотной бумаги, картона или другого материала достаточно изготовить его развертку и затем склеить соответствующие ребра. Для удобства развертку многогранника изготавливают с клапанами, по которым и производится склеивание. На рисунке 3.5 изображена развертка тетраэдра с клапанами.

Так же, как и для плоскости, для пространства определяются понятия движения, равенства и подобия.

*Движением* называется преобразование пространства, сохраняющее расстояния между точками, т. е. переводящее любые две точки  $A, B$  в точки  $A', B'$  так, что  $A'B' = AB$ .

Две фигуры в пространстве называются *равными*, если существует движение, переводящее одну из них в другую.

*Подобием* называется преобразование пространства, при котором расстояния между точками изменяются в одно и то же число раз, т. е. переводящее любые две точки  $A, B$  в точки  $A', B'$  так, что  $A'B' = kAB$ , где  $k$  — положительное число, называемое *коэффициентом подобия*.



Две фигуры в пространстве называются *подобными*, если существует подобие, переводящее одну из них в другую.



Попробуйте привести примеры подобных многогранников.

## Вопросы

1. Какая фигура в пространстве называется *многогранником* ?
2. Что называется *диагональю* многогранника?
3. Какой многогранник называется: а) *кубом*; б) *параллелепипедом*; в) *тетраэдром*?
4. Какой параллелепипед называется *прямоугольным*?
5. Как обозначают: а) *куб*; б) *параллелепипед*; в) *тетраэдр*?
6. Приведите примеры предметов из окружающего нас мира, имеющих форму: а) *куба*; б) *параллелепипеда*; в) *тетраэдра*.
7. Что называется *разверткой* многогранника?
8. Какое преобразование пространства называется *движением* ?
9. Какие фигуры в пространстве называются *равными* ?
10. Какое преобразование пространства называется *подобием* ?
11. Какие фигуры в пространстве называются *подобными* ?

## Задачи

### А

- 3.1. Сколько вершин ( $V$ ), ребер ( $P$ ) и граней ( $\Gamma$ ) имеет: а) *тетраэдр*; б) *куб*; в) *параллелепипед*?
- 3.2. В кубе  $ABCD A_1 B_1 C_1 D_1$  укажите прямые, содержащие его ребра и пересекающие плоскость  $ABC$ .
- 3.3. В кубе  $ABCD A_1 B_1 C_1 D_1$  укажите плоскости, содержащие его грани и пересекающие плоскость  $BCC_1$ .
- 3.4. На клетчатой бумаге изобразите тетраэдр, аналогичный данному на рисунке 3.6.
- 3.5. На клетчатой бумаге изобразите куб, аналогичный данному на рисунке 3.7.

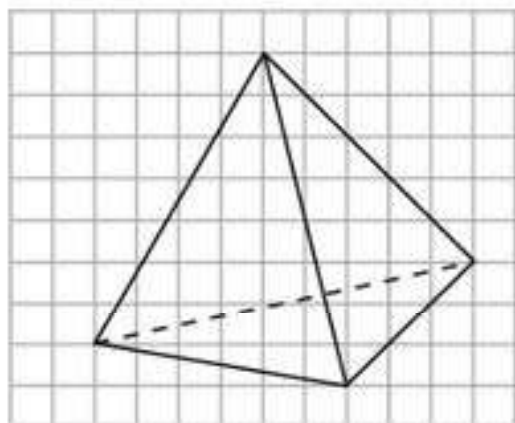


Рис. 3.6

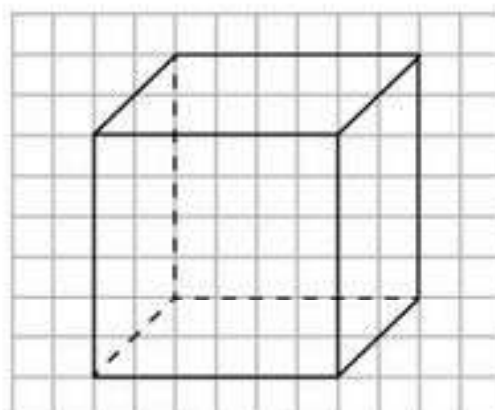


Рис. 3.7

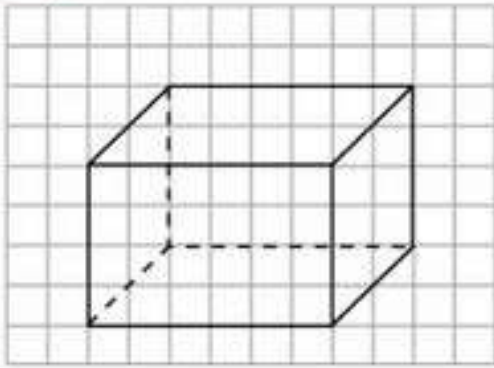


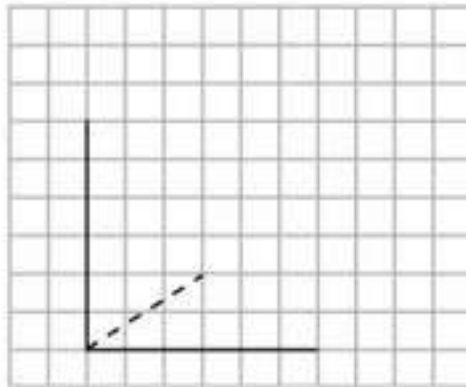
Рис. 3.8

**3.6.** На клетчатой бумаге изобразите прямоугольный параллелепипед, аналогичный данному на рисунке 3.8.

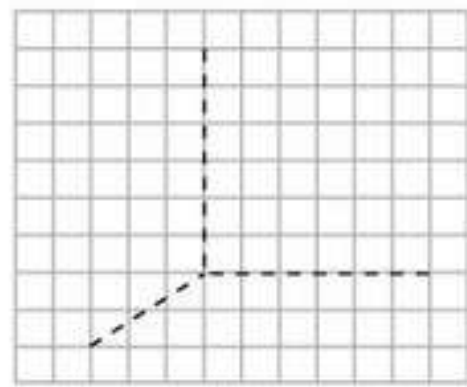
**В**

**3.7.** На клетчатой бумаге изображены три ребра куба (рис. 3.9). Изобразите весь куб.

**3.8.** Сколько диагоналей имеет: а) тетраэдр; б) куб; в) параллелепипед?



а)



б)

Рис. 3.9

**3.9.** Какие из изображенных на рисунке 3.10 фигур являются развертками куба?

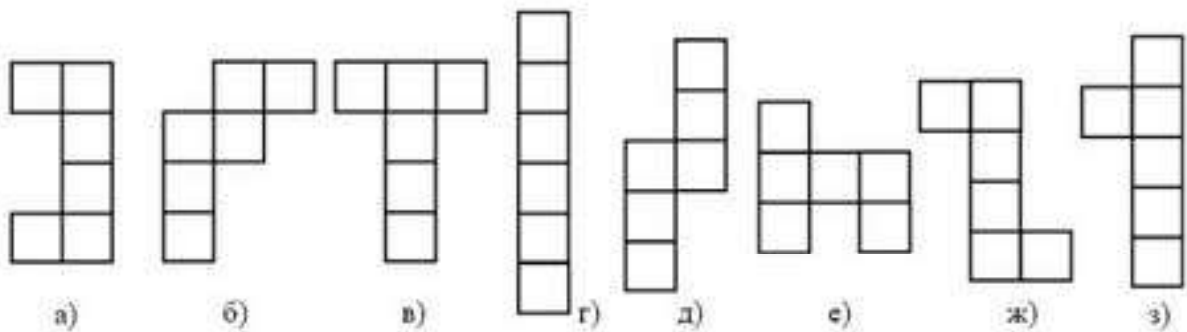


Рис. 3.10

**3.10.** Нарисуйте развертки тетраэдра и прямоугольного параллелепипеда.

**3.11.** Изготовьте развертки и склейте из них модели тетраэдра, куба и прямоугольного параллелепипеда.

**С**

**3.12.** В кубе  $ABCD A_1 B_1 C_1 D_1$  укажите плоскости, содержащие его ребра и пересекающие плоскость  $BCC_1$ .



**3.13.** На клетчатой бумаге изображены три ребра прямоугольного параллелепипеда (рис. 3.11). Изобразите весь параллелепипед.

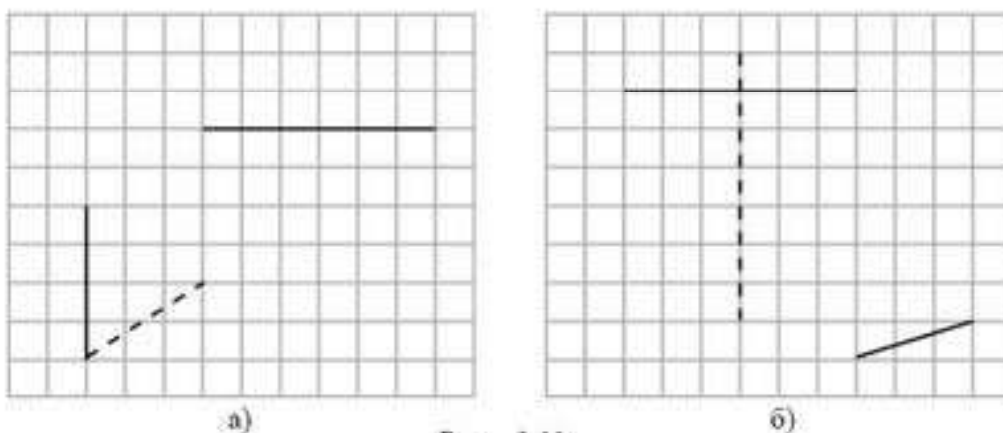


Рис. 3.11

**3.14.** Является ли фигура, составленная из четырех равных прямоугольных треугольников (рис. 3.12), разверткой тетраэдра?

**3.15.** Нарисуйте развертку наклонного параллелепипеда, гранями которого являются ромбы.

**3.16.** Изготовьте развертку и склейте из нее модель наклонного параллелепипеда.

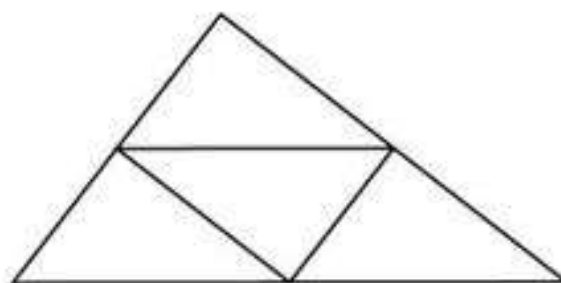


Рис. 3.12

### Подготовьтесь к овладению новым знаниями

**3.17.** На рисунке 3.13 изображена треугольная призма. Попробуйте дать определение этого многогранника.

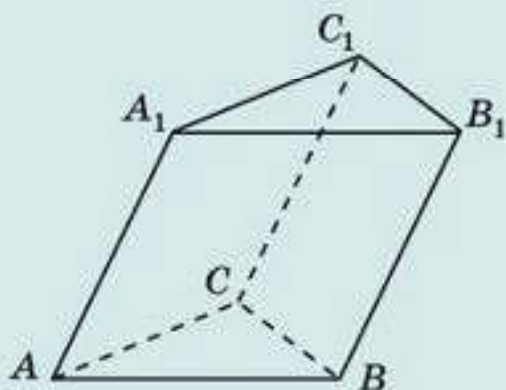


Рис. 3.13

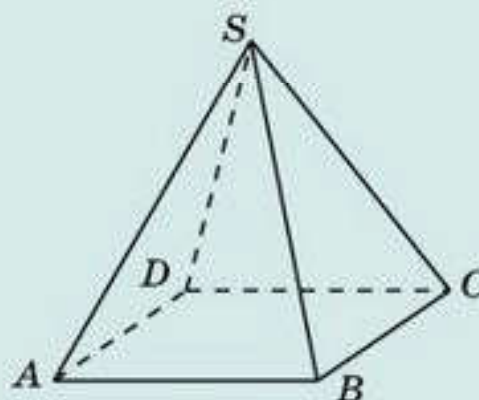


Рис. 3.14

**3.18.** На рисунке 3.14 изображена четырехугольная пирамида. Попробуйте дать определение этого многогранника.

## § 4. Фигуры в пространстве. Призма, пирамида

*Призмой* называется многогранник, поверхность которого состоит из двух равных многоугольников, называемых *основаниями* призмы, и параллелограммов, имеющих общие стороны с каждым из оснований, называемых *боковыми гранями* призмы. Ребра, не лежащие в основаниях призмы, называют *боковыми ребрами*.

Призмы бывают треугольные, четырехугольные, пятиугольные и т. д. в зависимости от того, какие многоугольники лежат в их основаниях — соответственно треугольники, четырехугольники, пятиугольники и т. д.

Призма называется *n-угольной*, если ее основаниями являются *n-угольники*.

Призма обозначается указанием ее вершин, например, треугольная призма обозначается  $ABC A_1 B_1 C_1$ , шестиугольная призма обозначается  $ABCDEF A_1 B_1 C_1 D_1 E_1 F_1$ .

На рисунке 4.1 изображены треугольная и шестиугольная призмы.

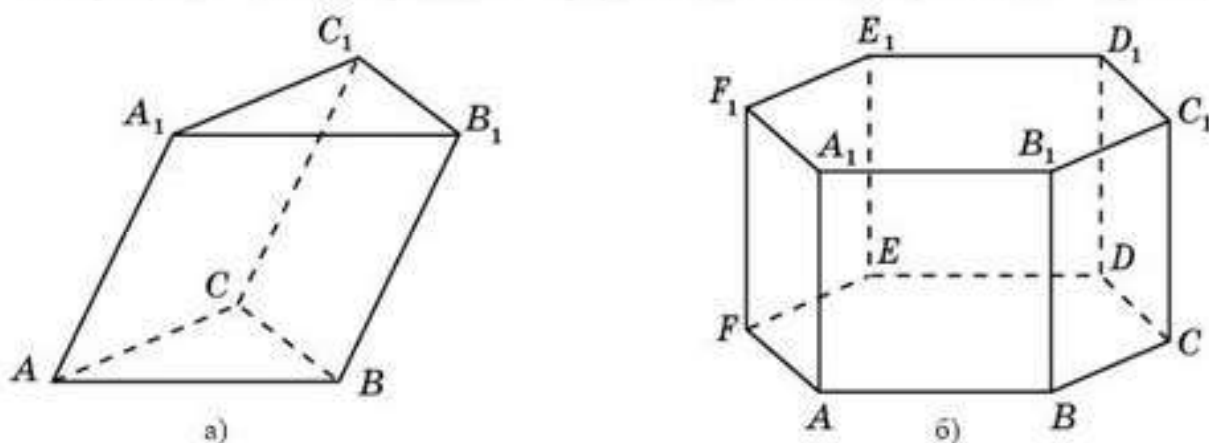


Рис. 4.1

Призма, боковыми гранями которой являются прямоугольники, называется *прямой*, в противном случае призма называется *наклонной*. На рисунке 4.1, а изображена наклонная треугольная призма, на рисунке 4.1, б — прямая шестиугольная призма.

Прямая призма, основаниями которой являются правильные многоугольники, называется *правильной*. На рисунке 4.1, б изображена правильная шестиугольная призма.



Как вы думаете, является ли параллелепипед четырехугольной призмой?

*Пирамидой* называется многогранник, поверхность которого состоит из многоугольника, называемого *основанием* пирамиды, и треугольников, имеющих общую вершину, называемых *боковыми гранями* пирамиды. Общая вершина боковых граней называется *вершиной* пирамиды. Ребра, сходящиеся в вершине пирамиды, называют *боковыми ребрами*.



Пирамиды бывают треугольные, четырехугольные, пятиугольные и т. д. в зависимости от того, какие многоугольники лежат в их основаниях — соответственно треугольники, четырехугольники, пятиугольники и т. д.

Пирамида называется *n*-угольной, если ее основанием является *n*-угольник.

На рисунке 4.2 изображены треугольная, четырехугольная и шестугольная пирамиды.

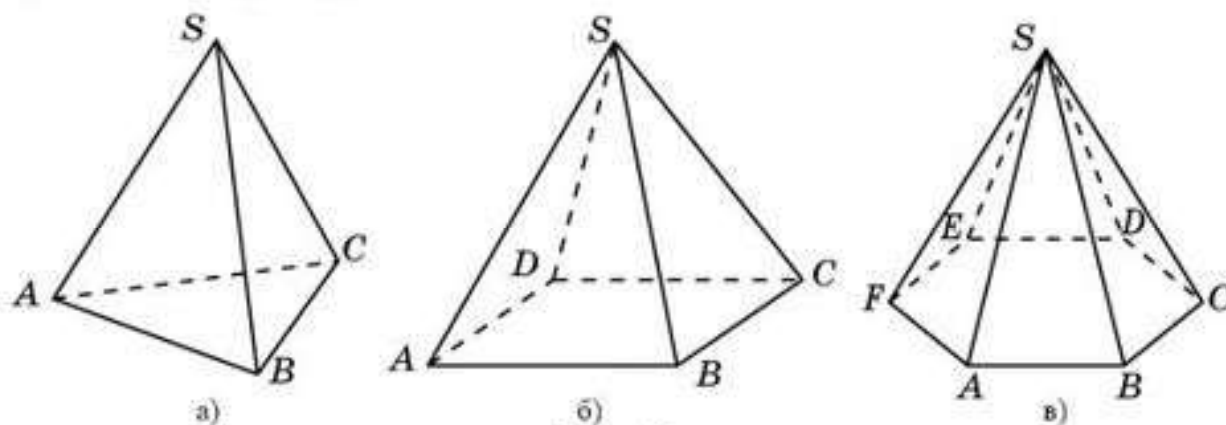


Рис. 4.2

Пирамиду обозначают указанием ее вершин, например, треугольная пирамида обозначается  $SABC$  (рис. 4.2, а), четырехугольная пирамида —  $SABCD$  (рис. 4.2, б), шестугольная пирамида —  $SABCDEF$  (рис. 4.2, в). Причем, на первом месте указывается ее вершина.

Пирамида, в основании которой лежит правильный многоугольник, все боковые ребра которой равны, называется *правильной*.



Как вы думаете, является ли тетраэдр треугольной пирамидой?

## Вопросы

1. Какой многогранник называется *призмой*?
2. Какая призма называется *прямой*?
3. Какая призма называется *правильной*?
4. Как обозначают призму?
5. Какой многогранник называется *пирамидой*?
6. Какая пирамида называется *правильной*?
7. Как обозначают пирамиду?

## Задачи

### А

- 4.1. Сколько вершин ( $V$ ), ребер ( $P$ ) и граней ( $G$ ) имеет: а) *n*-угольная призма; б) *n*-угольная пирамида?
- 4.2. На клетчатой бумаге изобразите призмы, аналогичные данным на рисунке 4.3.

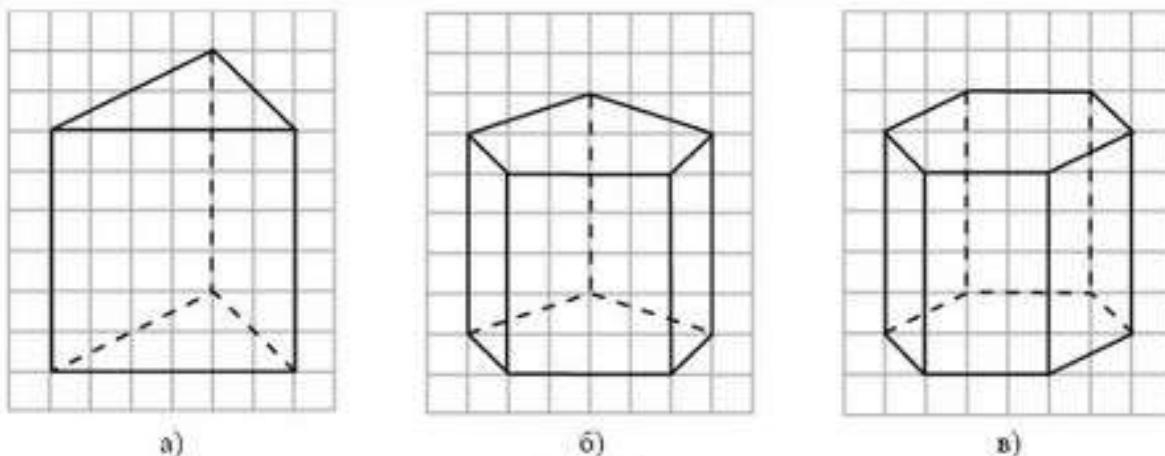


Рис. 4.3

**4.3.** На клетчатой бумаге изобразите пирамиды, аналогичные данным на рисунке 4.4.

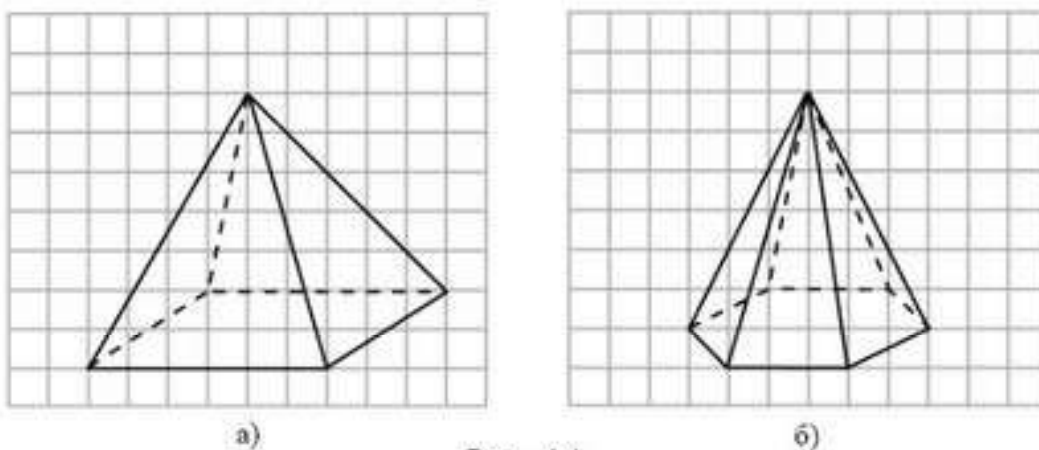


Рис. 4.4

### В

- 4.4.** Может ли призма иметь: а) 9 вершин; б) 16 вершин?
- 4.5.** Какой многоугольник лежит в основании призмы, которая имеет: а) 20 вершин; б) 15 ребер?
- 4.6.** Определите вид призмы, которая имеет: а) 10 вершин; б) 18 ребер; в) 8 граней.
- 4.7.** Может ли пирамида иметь: а) 9 ребер; б) 16 ребер?
- 4.8.** Какой многоугольник лежит в основании пирамиды, которая имеет: а) 32 ребра; б) 15 граней?
- 4.9.** Определите вид пирамиды, которая имеет: а) 10 вершин; б) 18 ребер; в) 8 граней.
- 4.10.** В четырехугольной пирамиде  $SABCD$  укажите пары пересекающихся плоскостей, которые содержат грани этой пирамиды (рис. 4.2, б).
- 4.11.** На рисунке 4.5 найдите фигуры, которые являются развертками призм. Определите вид этих призм.



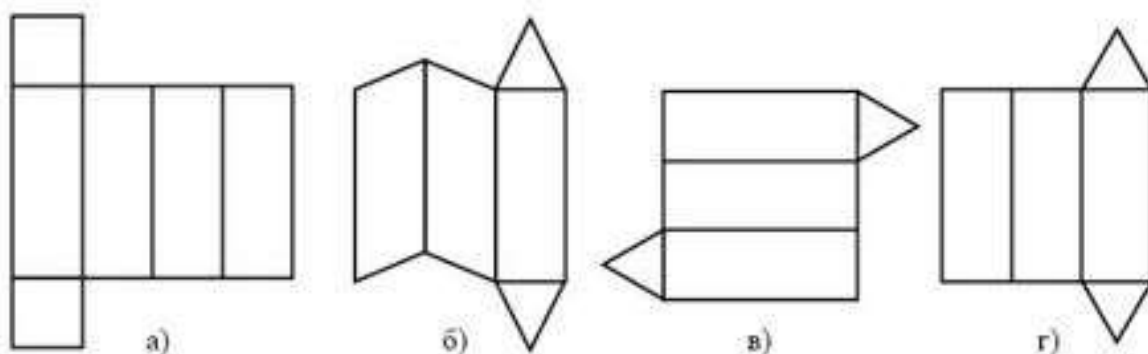


Рис. 4.5

**4.12.** На рисунке 4.6 найдите фигуры, которые являются развертками пирамид. Выясните их вид.

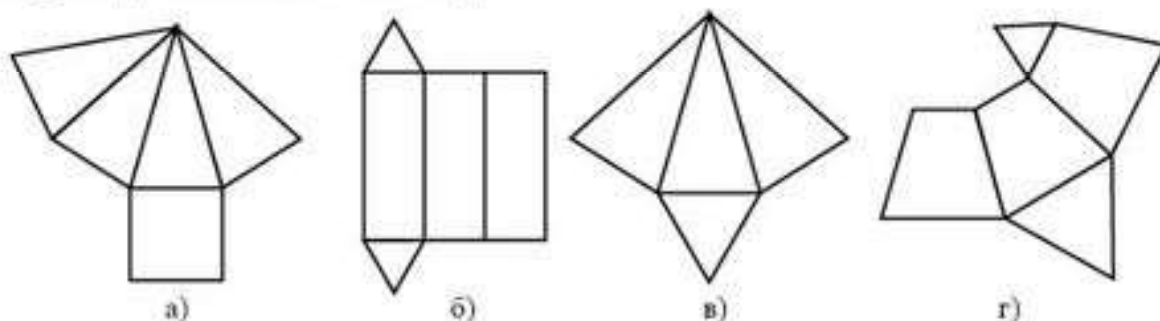


Рис. 4.6

**4.13.** Разверткой какого многогранника может служить фигура, изображенная на рисунке 4.7?

**4.14.** Нарисуйте развертку правильной шестиугольной: а) призмы; б) пирамиды. Изготовьте развертки и склейте из них модели правильной шестиугольной: а) призмы; б) пирамиды.




Рис. 4.7

**С**

**4.15.** На клетчатой бумаге изображены ребра: а) треугольной; б) шестиугольной призмы (рис. 4.8). Изобразите всю призму.

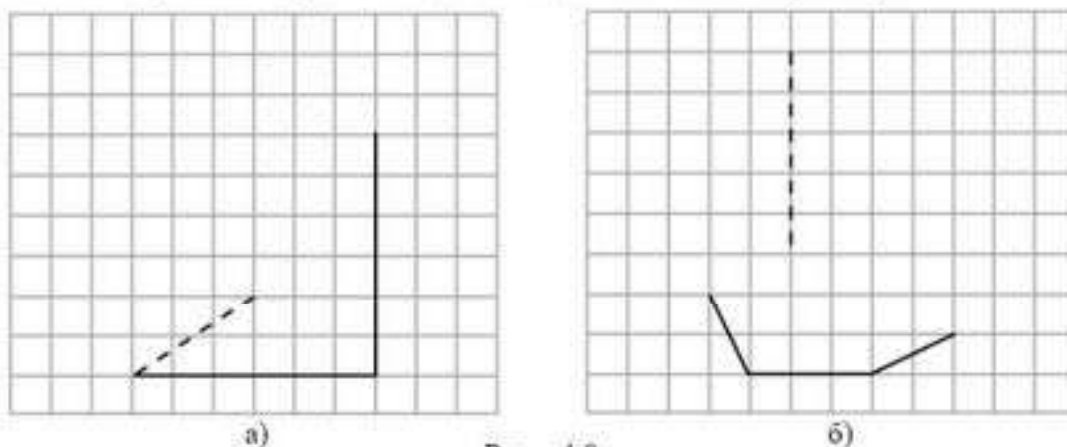


Рис. 4.8

- 4.16.** На клетчатой бумаге изображены ребра: а) четырехугольной; б) шестигульной пирамиды (рис. 4.9). Изобразите всю пирамиду.

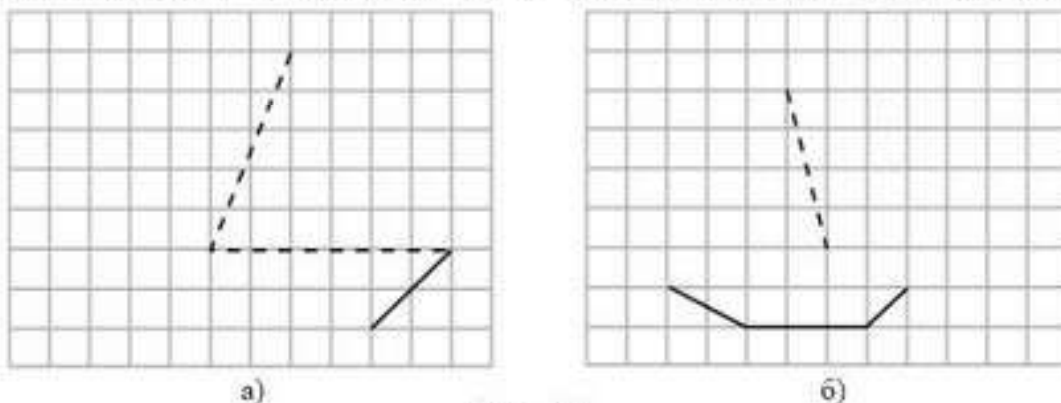


Рис. 4.9

- 4.17.** Сколько диагоналей имеет: а)  $n$ -угольная пирамида; б)  $n$ -угольная призма?

- 4.18.** На клетчатой бумаге изобразите октаэдр, аналогично представленному на рисунке 4.10. Сколько у него вершин ( $B$ ), ребер ( $P$ ) и граней ( $\Gamma$ )?

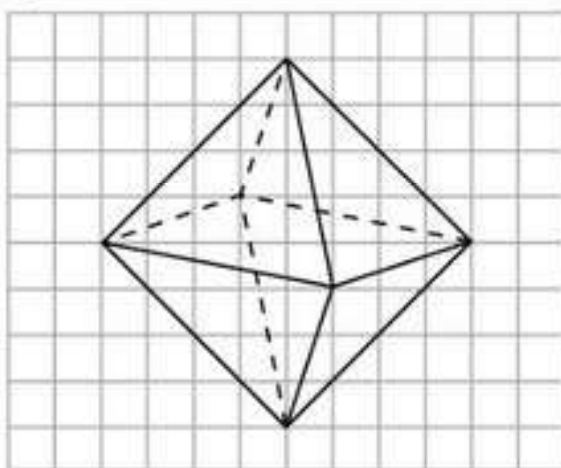


Рис. 4.10

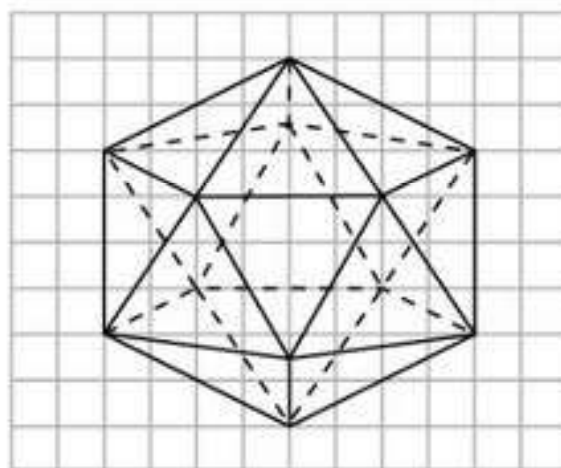


Рис. 4.11

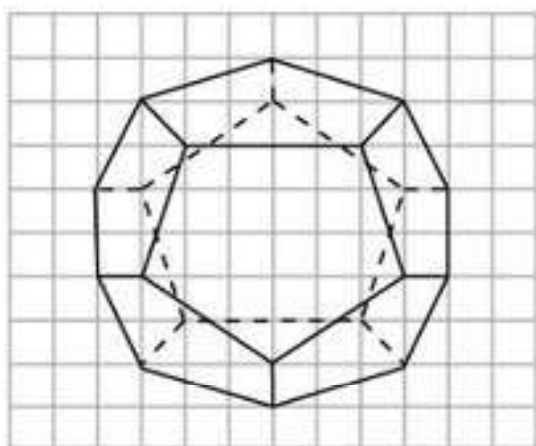


Рис. 4.12

- 4.19.** На клетчатой бумаге изобразите икосаэдр, аналогично представленному на рисунке 4.11. Сколько у него вершин ( $B$ ), ребер ( $P$ ) и граней ( $\Gamma$ )?
- 4.20.** На клетчатой бумаге изобразите додекаэдр, аналогично представленному на рисунке 4.12. Сколько у него вершин ( $B$ ), ребер ( $P$ ) и граней ( $\Gamma$ )?
- 4.21.** Приведите примеры реальных объектов в форме: а) призмы; б) пирамиды.



## Подготовьтесь к овладению новым знаниями

- 4.22. Повторите определение параллельности двух прямых на плоскости.  
 4.23. Попробуйте определить понятие параллельности прямых в пространстве.

### ПРОВЕРЬ СЕБЯ!

- Сколько прямых можно провести через одну точку пространства:
 

А) Ни одной.	В) Одну.
С) Две.	Д) Бесконечно много?
- Сколько плоскостей можно провести через одну точку пространства:
 

А) Ни одной.	В) Одну.
С) Две.	Д) Бесконечно много?
- Сколько прямых можно провести через две точки пространства:
 

А) Ни одной.	В) Одну.
С) Две.	Д) Бесконечно много?
- Сколько прямых можно провести через различные пары из трех точек пространства, не принадлежащих одной прямой:
 

А) Ни одной.	В) Три.
С) Шесть.	Д) Бесконечно много?
- Какое наибольшее число прямых можно провести через различные пары из четырех точек пространства:
 

А) Четыре.	В) Пять.
С) Шесть.	Д) Восемь?
- Какое наибольшее число прямых можно провести через различные пары из пяти точек пространства:
 

А) 5.	В) 10.	С) 15.	Д) 25?
-------	--------	--------	--------
- Сколько общих точек имеют две пересекающиеся плоскости:
 

А) Ни одной.	В) Одну.
С) Две.	Д) Бесконечно много?
- Сколько плоскостей можно провести через две точки пространства:
 

А) Ни одной.	В) Одну.
С) Две.	Д) Бесконечно много?
- Сколько плоскостей можно провести через три точки пространства, не принадлежащие одной прямой:
 

А) Ни одной.	В) Одну.
С) Три.	Д) Бесконечно много?





## § 5. Параллельность прямых в пространстве

Напомним, что две прямые на плоскости называются *параллельными*, если они не пересекаются, т. е. не имеют ни одной общей точки. Аналогичным образом, две прямые в пространстве называются *параллельными*, если они лежат в одной плоскости и не пересекаются (рис. 5.1).

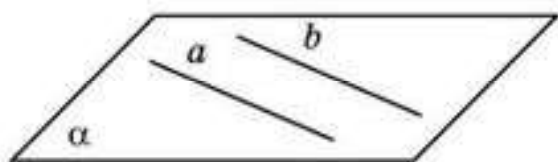


Рис. 5.1

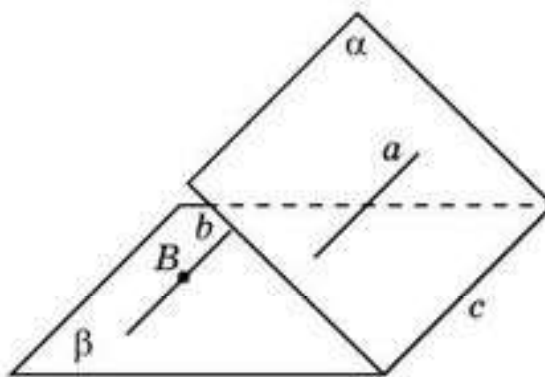


Рис. 5.2

Параллельность прямых  $a$  и  $b$  обозначается  $a \parallel b$ .

Отметим, что для параллельности прямых в пространстве кроме требования, чтобы прямые не пересекались, нужно, чтобы эти прямые лежали в одной плоскости.

Будем также говорить, что два отрезка параллельны, если они лежат на параллельных прямых.

**Теорема (признак параллельности двух прямых).** *Две прямые, параллельные третьей прямой, параллельны между собой.*

**Доказательство\*.** Пусть прямые  $a$  и  $b$  параллельны прямой  $c$  (рис. 5.2). Случай, когда прямые  $a, b, c$  лежат в одной плоскости, был рассмотрен в курсе планиметрии. Рассмотрим случай, когда эти прямые не лежат в одной плоскости. Докажем, что прямые  $a$  и  $b$  параллельны. Для этого нужно доказать, что прямые  $a$  и  $b$  лежат в одной плоскости и не пересекаются. Через прямые  $a$  и  $c$  проведем плоскость  $\alpha$ . Через прямые  $b$  и  $c$  проведем плоскость  $\beta$ . Через прямую  $a$  и какую-нибудь точку  $B$  прямой  $b$  проведем плоскость  $\varrho$ . Плоскость  $\varrho$  пересечет плоскость  $\beta$  по некоторой прямой  $b'$ . Эта прямая не пересекает плоскость  $\alpha$ , так как точка их пересечения должна была бы принадлежать как прямой  $a$ , так и прямой  $c$ . Следовательно, прямые  $a$  и  $c$  имели бы общую точку, что противоречит условию параллельности этих прямых. Так как прямая  $b'$  не пересекает плоскость  $\alpha$ , то она не пересекает и прямую  $c$ . Следовательно, прямые  $b'$  и  $c$  параллельны. Так как через точку  $B$  в плоскости  $\beta$  проходит не более одной прямой, параллельной прямой  $c$ , то прямая  $b'$  совпадает с прямой  $b$ . Так как прямая  $b$  не пересекает плоскость  $\alpha$ , то она не пересекает и прямую  $a$ . Таким образом, прямые  $a$  и  $b$  лежат в одной плоскости  $\varrho$  и не пересекаются. Значит, они параллельны.  $\square$

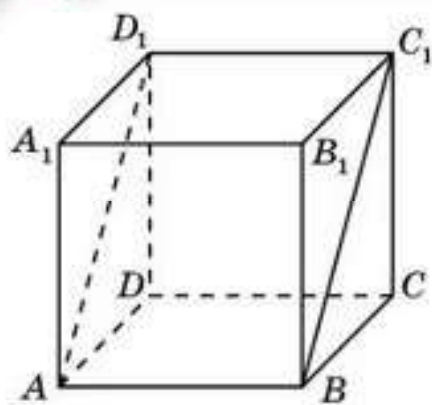


Рис. 5.3

Например, в кубе  $ABCD A_1 B_1 C_1 D_1$  прямые  $AB$  и  $C_1 D_1$  параллельны прямой  $A_1 B_1$ . Следовательно, прямые  $AB$  и  $C_1 D_1$  параллельны (рис. 5.3).

Докажем, что в этом кубе прямые  $AD_1$  и  $BC_1$  параллельны. Действительно, как было доказано выше, отрезки  $AB$  и  $C_1 D_1$  параллельны. Кроме того, они равны. Следовательно, четырехугольник  $ABC_1 D_1$  — параллелограмм. Значит, прямые  $AD_1$  и  $BC_1$  параллельны.



Параллельны ли прямые  $AA_1$  и  $BC$ , проходящие через вершины куба  $ABCD A_1 B_1 C_1 D_1$ ?

## Исторические сведения

Вопрос о количестве прямых, проходящих через данную точку и параллельных данной прямой, имеет давнюю и интересную историю. Среди аксиом в “Началах” Евклида пятый по счету постулат по своему содержанию совпадает с аксиомой параллельности, с которой вы познакомились в 7-м классе: “Через точку, взятую вне данной прямой, можно провести только одну прямую, параллельную этой прямой”.

На протяжении двух тысячелетий после Евклида математики пытались доказать этот постулат, однако все их попытки заканчивались неудачей, рано или поздно в их рассуждениях обнаруживались ошибки. Лишь в 1826 г. великий математик Н. И. Лобачевский (1792—1856), профессор Казанского университета, предположил, что этот постулат нельзя логически вывести из других постулатов (аксиом) Евклида, т. е. нельзя доказать. Поэтому или его можно взять в качестве аксиомы, или в качестве аксиомы может быть взято утверждение о существовании нескольких прямых, проходящих через данную точку и параллельных данной прямой. Положив в основу геометрии эту новую аксиому параллельности, Лобачевский создал совершенно новую, неевклидову геометрию, которая была названа *геометрией Лобачевского*.

Идеи Лобачевского были настолько оригинальны и противоречили так называемому здравому смыслу, что их не поняли даже известные математики того времени. Несмотря на это, Лобачевский не отказался от своих идей. Он не только был убежден в логической непротиворечивости новой геометрии, но и твердо верил в ее применимость к исследованию реального физического пространства. С этой целью Лобачевский проводил сложнейшие астрономические наблюдения и измерения, однако недостаточная точность измерительных приборов не позволила ему подтвердить свою гипотезу.



Признание геометрии Лобачевского пришло только после его смерти. Работы Лобачевского были переведены на многие языки и изучались математиками всего мира. В настоящее время геометрия Лобачевского является неотъемлемой частью современной математики и находит применение во многих областях человеческого знания, способствует более глубокому пониманию окружающего нас мира.

## Вопросы

1. Какие две прямые в пространстве называют *параллельными* ?
2. Какие два отрезка в пространстве называют *параллельными* ?
3. Сформулируйте свойство параллельных прямых в пространстве.

## Задачи

### А

- 5.1. Известно, что на плоскости прямая, пересекающая одну из параллельных прямых, пересекает и вторую прямую. Будет ли это утверждение верно для пространства?
- 5.2. Известно, что на плоскости через точку, не принадлежащую данной прямой, проходит единственная прямая, не пересекающая данную. Будет ли это утверждение верно для пространства?
- 5.3. Запишите ребра параллелепипеда  $ABCD A_1 B_1 C_1 D_1$ , параллельные ребру: а)  $AB$ ; б)  $AA_1$  (рис. 5.4).

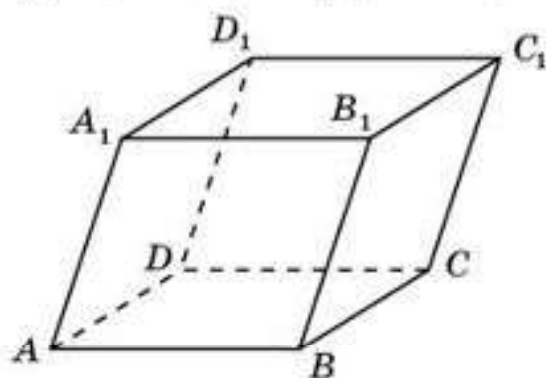


Рис. 5.4

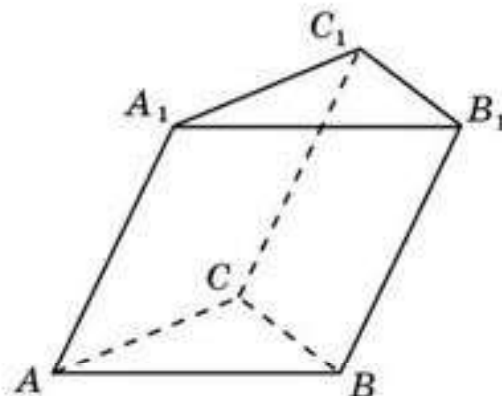


Рис. 5.5

- 5.4. Будут ли параллельны ребра  $AB$  и  $B_1C_1$  параллелепипеда  $ABCD A_1 B_1 C_1 D_1$  (рис. 5.4)?
- 5.5. Запишите пары параллельных ребер у призмы  $ABCA_1 B_1 C_1$  (рис. 5.5).
- 5.6. Будут ли параллельны ребра  $AB$  и  $CC_1$  призмы  $ABCA_1 B_1 C_1$  (рис. 5.5)?
- 5.7. Будут ли противоположные ребра  $AB$  и  $CD$  тетраэдра  $ABCD$  параллельны (рис. 5.6)?

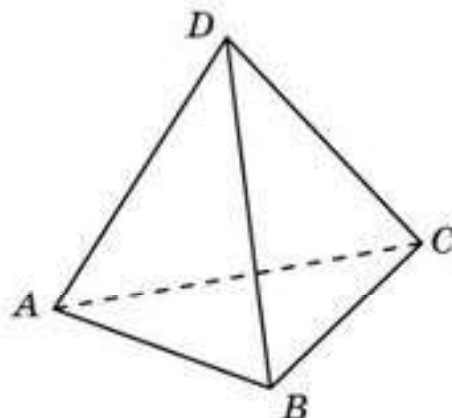


Рис. 5.6

**В**

**5.8.** Запишите пары параллельных ребер у правильной: а) четырехугольной пирамиды  $SABCD$  (рис. 5.7, а); б) шестиугольной пирамиды  $SABCDEF$  (рис. 5.7, б).

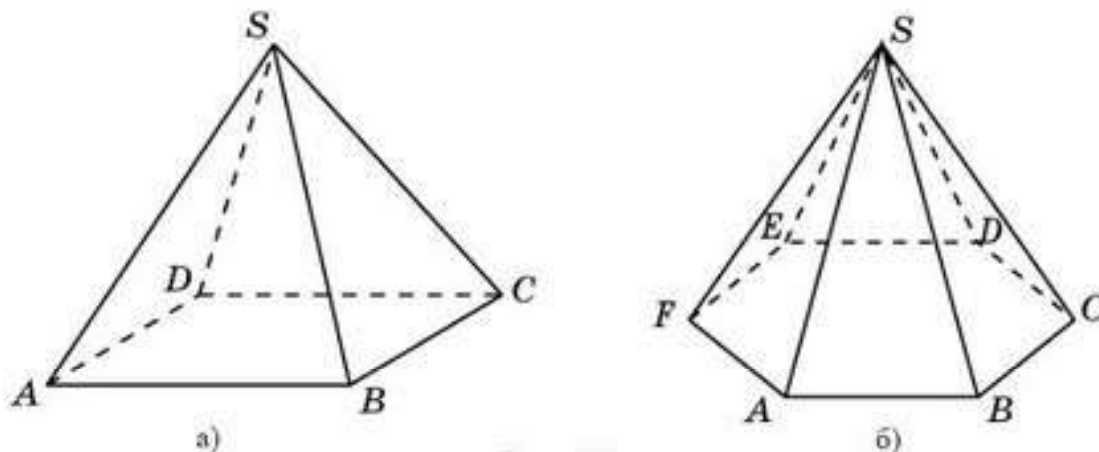


Рис. 5.7

**5.9.** Будут ли параллельны ребра  $AB$  и  $SC$  пирамиды: а)  $SABCD$  (рис. 5.7, а); б)  $SABCDEF$  (рис. 5.7 б)?

**5.10.** Имеются ли параллельные ребра у правильной: а) треугольной пирамиды (рис. 5.8, а); б) пятиугольной пирамиды (рис. 5.8, б)?

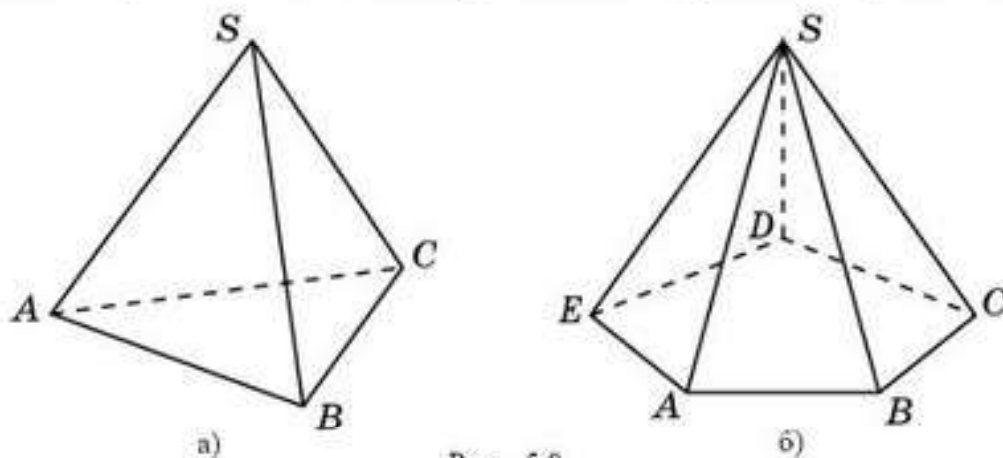


Рис. 5.8

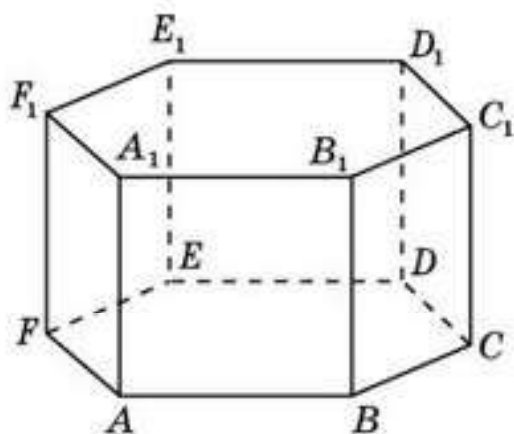


Рис. 5.9

**5.11.** Докажите, что для шестиугольной призмы  $ABCDEF A_1 B_1 C_1 D_1 E_1 F_1$  параллельны прямые: а)  $AA_1$  и  $CC_1$ ; б)  $AA_1$  и  $DD_1$  (рис. 5.9).

**5.12.** Запишите ребра правильной шестиугольной призмы  $ABCDEF A_1 B_1 C_1 D_1 E_1 F_1$ , параллельные ребру: а)  $AA_1$ ; б)  $AB$  (рис. 5.9).

**5.13.** Сколько пар параллельных ребер имеется у куба?



**5.14.** Сколько пар параллельных ребер имеется у правильной шестиугольной призмы?

**С**

**5.15.** Докажите, что для параллелепипеда  $ABCD A_1 B_1 C_1 D_1$  (рис. 5.4) параллельны прямые: а)  $AC$  и  $A_1 C_1$ ; б)  $AB_1$  и  $DC_1$ .

**5.16.** Докажите, что для правильной шестиугольной призмы  $ABCDEF A_1 B_1 C_1 D_1 E_1 F_1$  параллельны прямые: а)  $AD$  и  $A_1 D_1$ ; б)  $AB_1$  и  $ED_1$ .

**5.17.** В тетраэдре  $ABCD$  точки  $E, F, G, H$  середины ребер соответственно  $AB, AD, BC, CD$  (рис. 5.10). Докажите, что прямые  $EF$  и  $GH$  параллельны.

**5.18.** Докажите, что через точку в пространстве, не принадлежащую данной прямой, проходит единственная прямая, параллельная этой прямой.

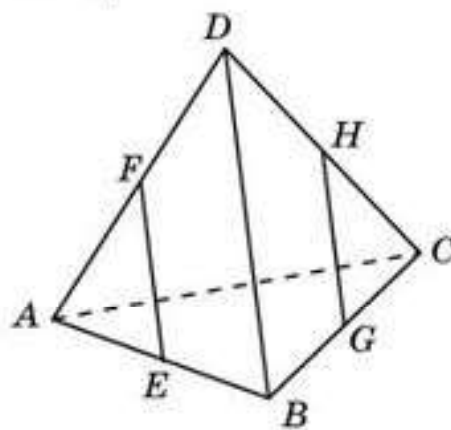


Рис. 5.10

**Подготовьтесь к овладению умениями**

**5.19.** Приведите примеры реальных объектов, идеализацией которых являются параллельные прямые.

**5.20.** В пространстве дана прямая и точка, ей не принадлежащая. Как вы думаете, сколько прямых проходит через данную точку, не пересекая данную прямую?

**§ 6. Взаимное расположение прямых в пространстве**

Мы уже знаем, что две прямые в пространстве могут пересекаться, а также быть параллельными. Однако, в отличие от плоскости, в пространстве существует еще один случай взаимного расположения двух прямых, когда они не пересекаются и не параллельны.

Две прямые в пространстве называют *скрещивающимися*, если они не лежат в одной плоскости и не параллельны.

Будем также говорить, что два отрезка скрещиваются, если они лежат на скрещивающихся прямых.

Например, в тетраэдре  $ABCD$  ребра  $AB$  и  $CD$  скрещиваются (рис. 6.1).

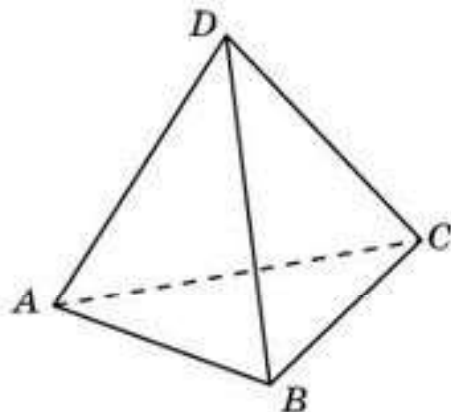


Рис. 6.1



Попробуйте доказать это самостоятельно.

**Теорема (признак скрещивающихся прямых).** *Если одна прямая лежит в плоскости, а другая прямая пересекает эту плоскость в точке, не принадлежащей первой прямой, то эти две прямые скрещиваются.*

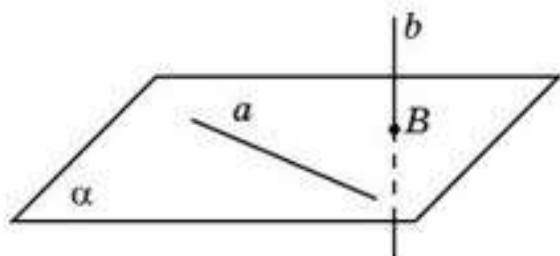


Рис. 6.2

**Доказательство.** Пусть прямая  $a$  лежит в плоскости  $\alpha$ , а прямая  $b$  пересекает плоскость  $\alpha$  в точке  $B$ , не принадлежащей прямой  $a$  (рис. 6.2). Если бы прямые  $a$  и  $b$  лежали в одной плоскости, то в этой плоскости лежали бы прямая  $a$  и точка  $B$ . Поскольку через прямую и точку вне этой прямой

проходит единственная плоскость, то этой плоскостью будет плоскость  $\alpha$ . Но тогда прямая  $b$  лежала бы в плоскости  $\alpha$ , что противоречит условию. Следовательно, прямые  $a$  и  $b$  не лежат в одной плоскости, т. е. они скрещиваются.  $\square$



Докажите, что если через две прямые нельзя провести плоскость, то эти прямые скрещиваются.

Представим случай взаимного расположения двух прямых в пространстве в виде схемы.

Схема 6.1



Верно ли, что две прямые, скрещивающиеся с третьей прямой, скрещиваются между собой. Приведите пример.



## Вопросы

1. Какие две прямые в пространстве называют *скрещивающимися* ?
2. Какие два отрезка в пространстве называют *скрещивающимися* ?
3. Сформулируйте признак скрещивающихся прямых.

## Задачи

### А

- 6.1. Верно ли, что если две прямые лежат в разных плоскостях, то они скрещиваются?
- 6.2. Сколько прямых, скрещивающихся с данной прямой, проходит через точку, взятую вне этой прямой?
- 6.3. Запишите ребра, скрещивающиеся с ребром  $AB$  для: а) параллелепипеда  $ABCD A_1 B_1 C_1 D_1$  (рис. 6.3, а); б) призмы  $ABCA_1 B_1 C_1$  (рис. 6.3, б).

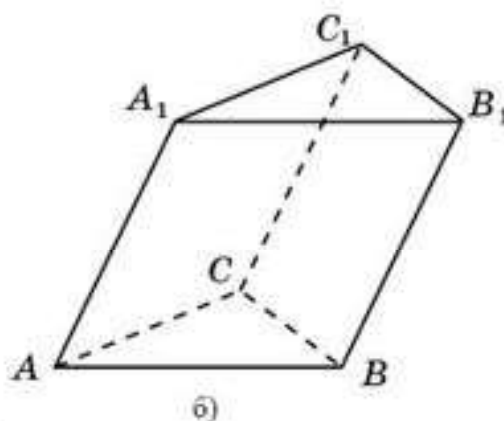
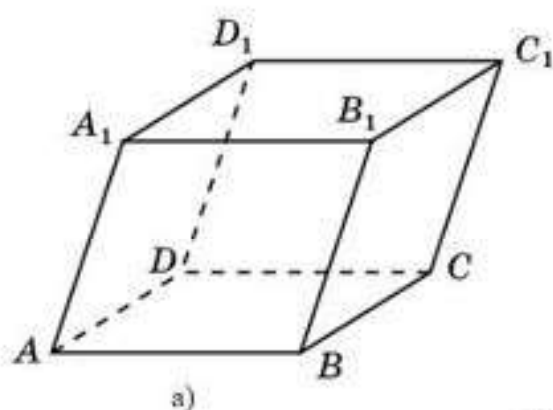


Рис. 6.3

- 6.4. Запишите ребра, скрещивающиеся с ребром  $SA$  для: а) четырехугольной пирамиды  $SABCD$  (рис. 6.4, а); б) шестигульной пирамиды  $SABCDEF$  (рис. 6.4, б).

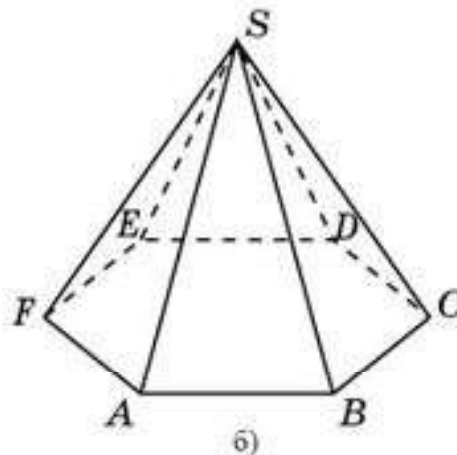
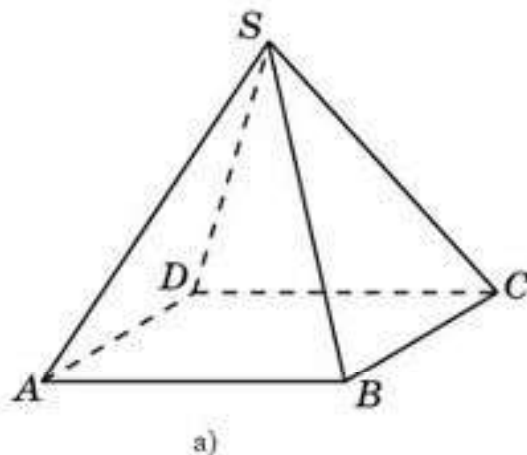


Рис. 6.4

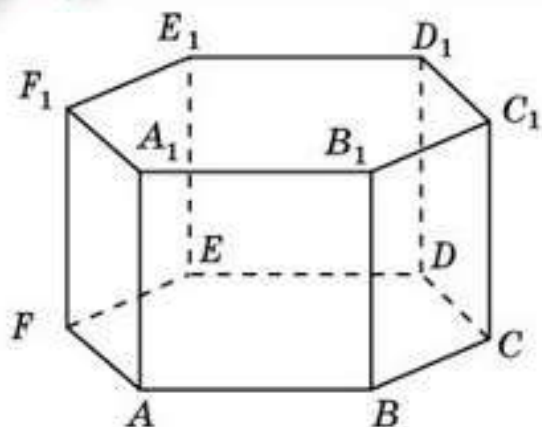


Рис. 6.5

6.5. Запишите ребра шестугольной призмы  $ABCDEF A_1 B_1 C_1 D_1 E_1 F_1$ , скрещивающиеся с ребром: а)  $AA_1$ ; б)  $AB$  (рис. 6.5).

6.6. Сколько пар скрещивающихся ребер имеется у тетраэдра?

**В**

6.7. Как расположены в пространстве прямые  $a$  и  $b$ , проведенные в плоскостях  $\alpha$  и  $\beta$  (рис. 6.6)? Ответ объясните.

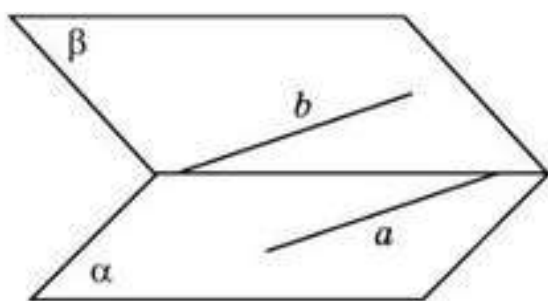


Рис. 6.6

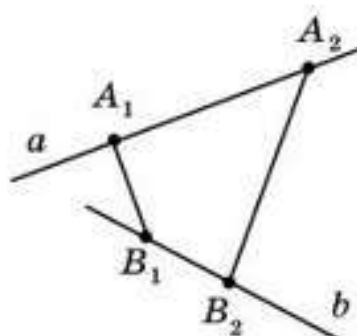


Рис. 6.7

6.8. Пусть  $a$  и  $b$  — скрещивающиеся прямые (рис. 6.7). Прямые  $A_1 B_1$  и  $A_2 B_2$  пересекают прямые  $a$  и  $b$ . Могут ли прямые  $A_1 B_1$  и  $A_2 B_2$  быть пересекающимися или параллельными?

6.9. Сколько пар скрещивающихся ребер имеется у четырехугольной пирамиды?

6.10. Сколько пар скрещивающихся ребер имеется у куба?

**С**

6.11. Каково взаимное расположение прямых  $EE_1$  и  $FF_1$  (рис. 6.8)? Ответ объясните.

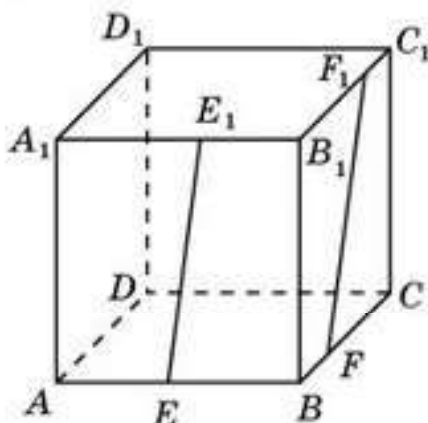


Рис. 6.8

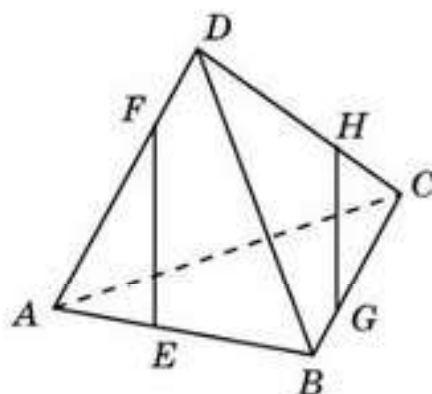


Рис. 6.9



- 6.12. Каково взаимное расположение прямых  $EF$  и  $GH$  (рис. 6.9)? Ответ объясните.
- 6.13. Пересекаются ли отрезки  $EH$  и  $FG$  (рис. 6.10)? Ответ объясните.
- 6.14. Возможно ли такое расположение карандашей (рис. 6.11)? Ответ объясните.

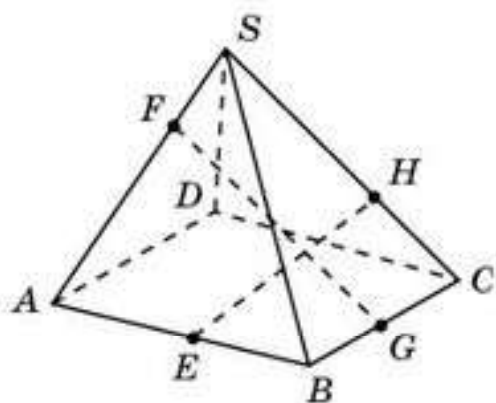


Рис. 6.10



Рис. 6.11

- 6.15. Приведите примеры реальных объектов, идеализацией которых являются скрещивающиеся прямые.

## Подготовка к овладению знаниями

- 6.16. Попробуйте определить понятие параллельности прямой и плоскости.

### § 7. Взаимное расположение прямой и плоскости

Рассмотрим вопрос о том, как могут располагаться прямая и плоскость относительно друг друга.

Прямая может лежать в плоскости, т. е. все точки прямой принадлежат плоскости. Прямая может пересекать плоскость, т. е. иметь с плоскостью только одну общую точку. Наконец, прямая может не иметь с плоскостью ни одной общей точки.

Прямая называется *параллельной* плоскости, если она не имеет с этой плоскостью ни одной общей точки (рис. 7.1).

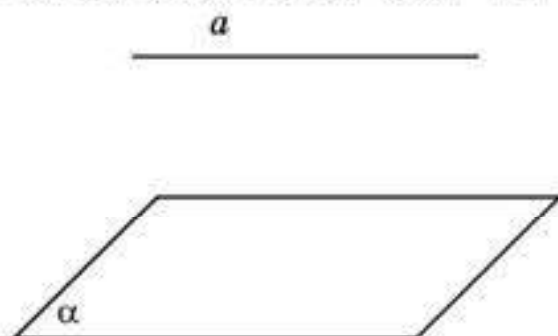
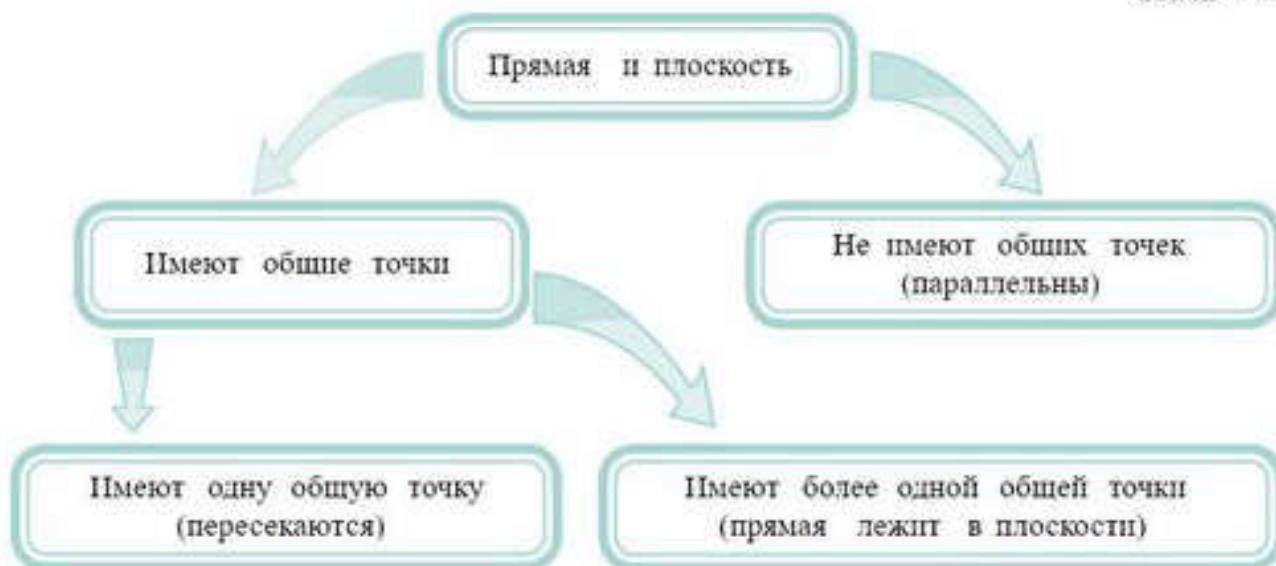


Рис. 7.1

Параллельность прямой  $a$  и плоскости  $\alpha$  обозначается  $a \parallel \alpha$ .

Зафиксируем случаи взаимного расположения прямой и плоскости с помощью схемы.

Схема 7.1



Будем говорить, что ребро многогранника параллельно его грани, если оно лежит на прямой, параллельной плоскости этой грани.

Следующая теорема дает достаточное условие параллельности прямой и плоскости.

**Теорема (признак параллельности прямой и плоскости).** *Если прямая, не лежащая в данной плоскости, параллельна некоторой прямой, лежащей в этой плоскости, то данная прямая параллельна самой плоскости.*

**Доказательство.** Пусть прямая  $a$  не лежит в плоскости  $\beta$  и параллельна прямой  $b$ , лежащей в этой плоскости (рис. 7.2).

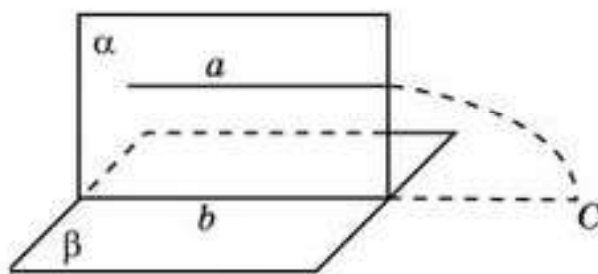


Рис. 7.2

Докажем, что прямая  $a$  параллельна плоскости  $\beta$ . Предположим противное, т. е., что прямая  $a$  пересекает плоскость  $\beta$  в некоторой точке  $C$ . Рассмотрим плоскость  $\alpha$ , проходящую через прямые  $a$  и  $b$  ( $a \parallel b$  по условию). Точка  $C$  принадлежит как плоскости  $\beta$ , так и плоскости  $\alpha$ , т. е. принадлежит линии их пересечения — прямой  $b$ . Следовательно, прямые  $a$  и  $b$  пересекаются, что противоречит условию. Таким образом,  $a \parallel \beta$ .  $\square$





Сколько прямых, параллельных данной плоскости, можно провести через точку, не принадлежащую этой плоскости?

**Теорема.** Если плоскость проходит через прямую, параллельную другой плоскости, и пересекает эту плоскость, то прямая их пересечения параллельна первой прямой.

**Доказательство.** Пусть плоскость  $\alpha$  проходит через прямую  $a$ , параллельную плоскости  $\beta$ , и пересекает эту плоскость по прямой  $b$  (рис. 7.3). Так как прямая  $a$  и плоскость  $\beta$  не имеют общих точек, то и прямые  $a$  и  $b$  не имеют общих точек. Так как эти прямые лежат в одной плоскости, то они параллельны.  $\square$

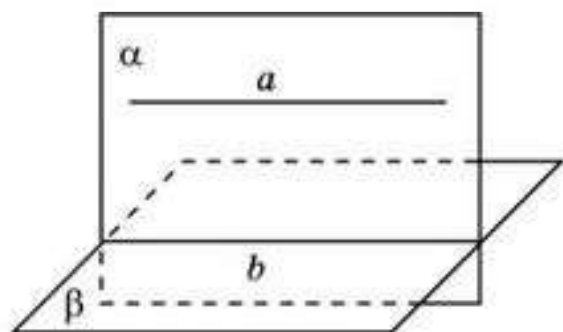


Рис. 7.3

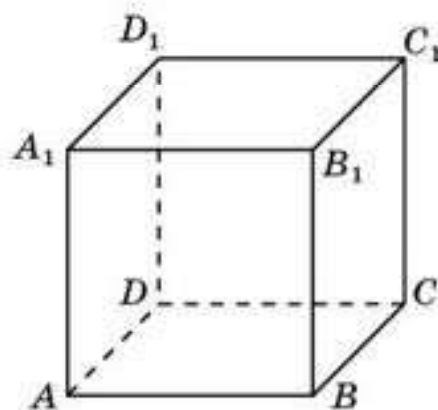


Рис. 7.4

**Пример.** Докажите, что для куба  $ABCD A_1 B_1 C_1 D_1$  (рис. 7.4) прямая  $AA_1$  параллельна плоскости  $BCC_1$ .

**Решение.** Прямая  $AA_1$  параллельна прямой  $BB_1$  плоскости  $BCC_1$  и не лежит в этой плоскости. Следовательно, прямая  $AA_1$  параллельна плоскости  $BCC_1$ .  $\square$

## Вопросы

1. Как может располагаться прямая относительно плоскости?
2. Какая прямая называется *параллельной плоскости*?
3. Сформулируйте признак параллельности прямой и плоскости.

## Задачи

### А

- 7.1. В кубе  $ABCD A_1 B_1 C_1 D_1$  укажите ребра, параллельные грани  $ABCD$  (рис. 7.4).
- 7.2. В правильной шестиугольной призме  $ABCDEF A_1 B_1 C_1 D_1 E_1 F_1$  укажите грани, параллельные ребру: а)  $AB$ ; б)  $AA_1$  (рис. 7.5).

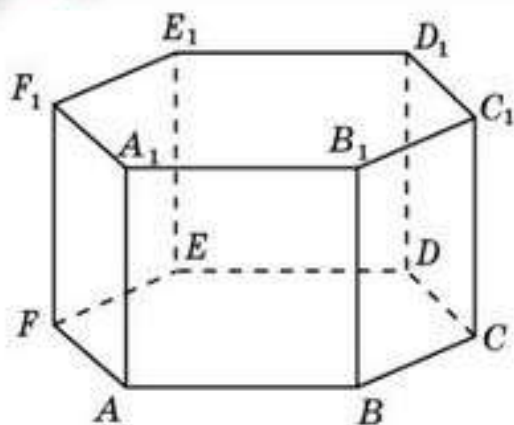


Рис. 7.5

- 7.3. Верно ли, что две прямые, параллельные одной и той же плоскости, параллельны между собой?
- 7.4. Верно ли, что если прямая параллельна некоторой прямой, лежащей в плоскости, то данная прямая параллельна самой плоскости?
- 7.5. Одна из двух параллельных прямых параллельна плоскости. Верно ли, что и вторая прямая параллельна этой плоскости?

**В**

- 7.6. В правильной четырехугольной пирамиде  $SABCD$  укажите ребра, параллельные граням (рис. 7.6).

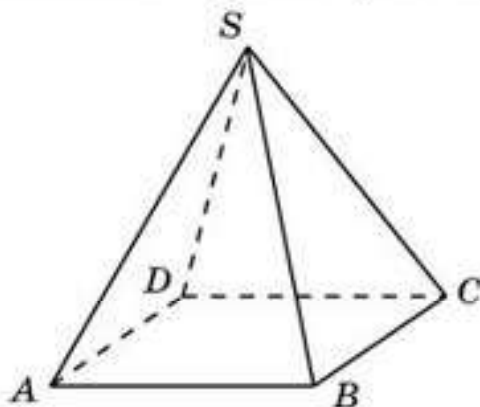


Рис. 7.6

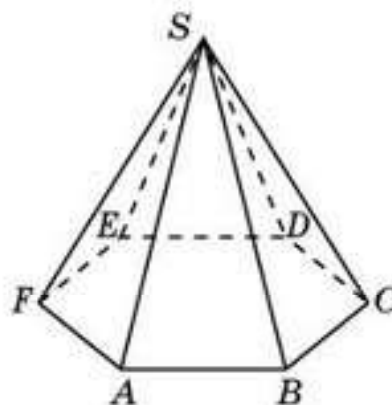


Рис. 7.7

- 7.7. В правильной шестиугольной пирамиде  $SABCDEF$  укажите ребра, параллельные граням (рис. 7.7).
- 7.8. Дан параллелограмм  $ABCD$ . Через сторону  $AB$  проведена плоскость  $\alpha$ , не совпадающая с плоскостью параллелограмма. Докажите, что  $CD \parallel \alpha$ .
- 7.9. Сторона  $AF$  правильного шестиугольника  $ABCDEF$  лежит в плоскости  $\alpha$ , не совпадающей

с плоскостью шестиугольника. Как расположены остальные стороны  $ABCDEF$  относительно плоскости  $\alpha$ ?

**С**

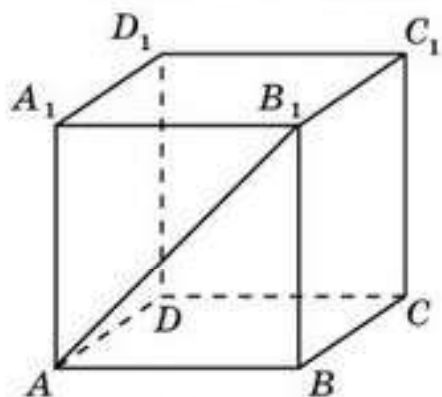


Рис. 7.8

- 7.10. Докажите, что в кубе  $ABCD A_1 B_1 C_1 D_1$  (рис. 7.8) прямая  $AB_1$  параллельна плоскости: а)  $CDD_1$ ; б)  $BDC_1$ .
- 7.11. Плоскость проходит через середины двух сторон треугольника и не совпадает с плоскостью этого треугольника.



Докажите, что данная плоскость параллельна третьей стороне треугольника.

- 7.12. Докажите, что через точку, не принадлежащую данной плоскости, проходит прямая, параллельная этой плоскости. Сколько таких прямых?
- 7.13. Докажите, что если две прямые параллельны, то через одну из них проходит плоскость, параллельная другой прямой. Сколько таких плоскостей?
- 7.14. Даны две скрещивающиеся прямые. Как через одну из них провести плоскость, параллельную другой прямой?
- 7.15. Приведите примеры реальных объектов, идеализацией которых являются параллельная прямая и плоскость.

## Подготовьтесь к овладению знаниями

- 7.16. Попробуйте определить понятие параллельности двух плоскостей.

### § 8. Параллельность плоскостей

Две плоскости называются *параллельными*, если они не пересекаются, т. е. не имеют ни одной общей точки (рис. 8.1).

Представим различные случаи взаимного расположения двух плоскостей в виде схемы.

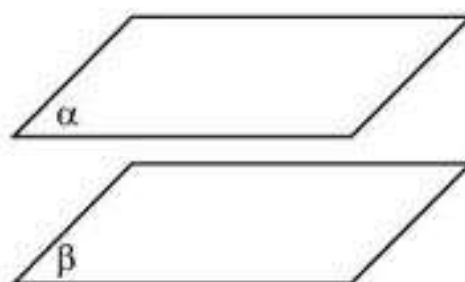


Рис. 8.1

Схема 8.1



Следующая теорема дает достаточное условие параллельности двух плоскостей.

**Теорема. (Признак параллельности двух плоскостей.)** Если две пересекающиеся прямые одной плоскости соответственно параллельны двум прямым другой плоскости, то эти плоскости параллельны.

**Доказательство.** Пусть пересекающиеся прямые  $a_1, a_2$  плоскости  $\alpha$  соответственно параллельны прямым  $b_1, b_2$  плоскости  $\beta$  (рис. 8.2). До-

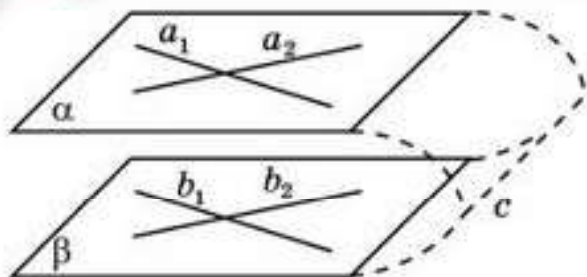


Рис. 8.2

кажем, что плоскости  $\alpha$  и  $\beta$  параллельны. Предположим противное, т. е. что плоскости  $\alpha$  и  $\beta$  пересекаются, и пусть  $c$  — линия их пересечения. По признаку параллельности прямой и плоскости прямая  $a_1$  параллельна плоскости  $\beta$ . Следовательно, она параллельна прямой  $c$  (прямые  $a_1$  и  $c$  лежат в одной плоскости и не пересекаются). Аналогично прямая  $a_2$  также параллельна прямой  $c$ . Таким образом, в плоскости  $\alpha$  мы имеем две пересекающиеся прямые, параллельные одной прямой, что невозможно. Полученное противоречие показывает, что неверным было наше предположение о том, что плоскости  $\alpha$  и  $\beta$  пересекаются, следовательно, они параллельны.  $\square$



Докажите, что если две плоскости параллельны, то любая прямая, лежащая в одной из этих плоскостей, параллельна другой плоскости.



Верно ли, что если две плоскости параллельны, то любая прямая, лежащая в одной из этих плоскостей, параллельна любой прямой, лежащей в другой плоскости?

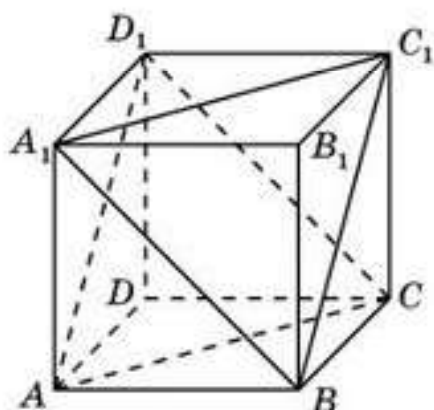


Рис. 8.3

**Пример.** Докажите, что у куба  $ABCD A_1 B_1 C_1 D_1$  (рис. 8.3) параллельны плоскости  $ACD_1$  и  $BA_1C_1$ .

**Решение.** Прямая  $AC$  параллельна прямой  $A_1C_1$ . Прямая  $CD_1$  параллельна прямой  $BA_1$ . Таким образом, две пересекающиеся прямые плоскости  $ACD_1$  соответственно параллельны двум прямым плоскости  $BA_1C_1$ . Следовательно, плоскости  $ACD_1$  и  $BA_1C_1$  параллельны.

## Вопросы

1. Какие две плоскости называются *параллельными* ?
2. Перечислите случаи взаимного расположения двух плоскостей.
3. Сформулируйте признак параллельности двух плоскостей.

## Задачи

### А

**8.1.** Укажите параллельные плоскости, содержащие грани параллелепипеда  $ABCD A_1 B_1 C_1 D_1$  (рис. 8.4).



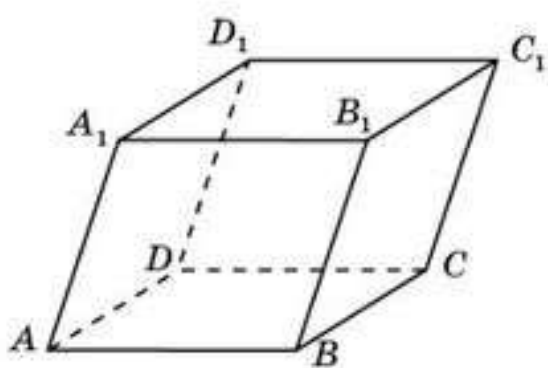


Рис. 8.4

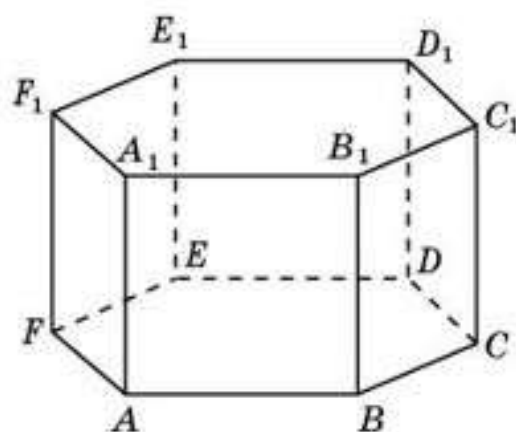


Рис. 8.5

- 8.2. Укажите параллельные плоскости, содержащие грани правильной шестиугольной призмы  $ABCDEF A_1 B_1 C_1 D_1 E_1 F_1$  (рис. 8.5).
- 8.3. Имеются ли параллельные грани у правильной четырехугольной пирамиды (рис. 8.6)?
- 8.4. Имеются ли параллельные грани у правильной шестиугольной пирамиды (рис. 8.7)?

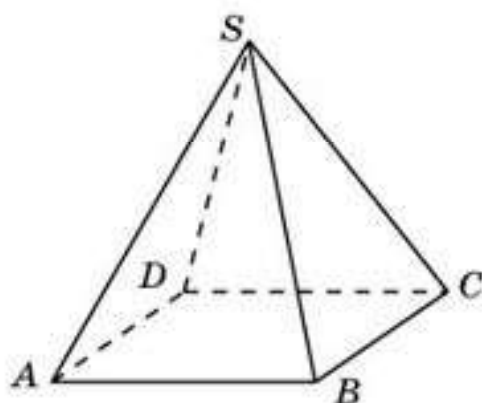


Рис. 8.6

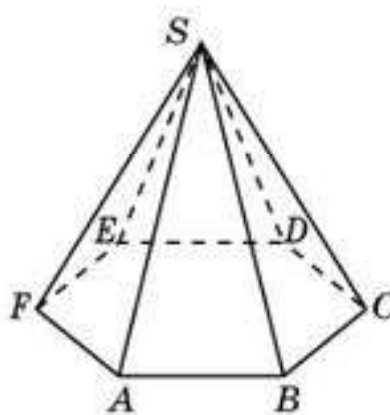


Рис. 8.7

**В**

- 8.5. Докажите, что у параллелепипеда  $ABCD A_1 B_1 C_1 D_1$  параллельны плоскости: а)  $ABB_1$  и  $CDD_1$ ; б)  $AB_1 D_1$  и  $BDC_1$ .
- 8.6. Докажите, что у правильной шестиугольной призмы  $ABCDEF A_1 B_1 C_1 D_1 E_1 F_1$  параллельны плоскости: а)  $ABC$  и  $A_1 B_1 C_1$ ; б)  $ABB_1$  и  $DEE_1$ ; в)  $ABB_1$  и  $CFF_1$ ; г)  $ACC_1$  и  $DDF_1$ .
- 8.7. Верно ли утверждение: “Если прямая, лежащая в одной плоскости, параллельна прямой, лежащей в другой плоскости, то эти плоскости параллельны”?
- 8.8. Верно ли утверждение: “Если две прямые, лежащие в одной плоскости, параллельны двум прямым, лежащим в другой плоскости, то эти плоскости параллельны”?

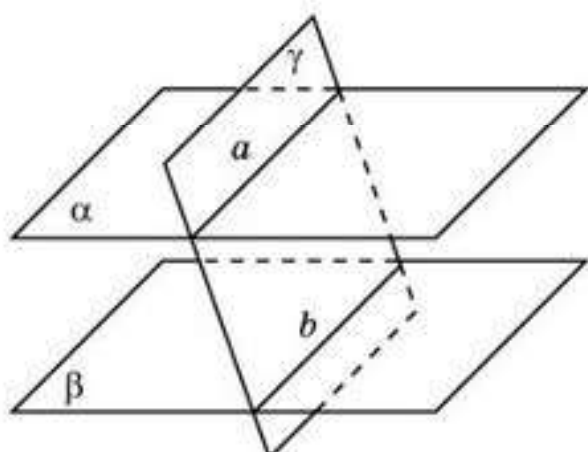


Рис. 8.8

третьей плоскостью (рис. 8.8), то их линии пересечения параллельны.

- 8.13. Приведите примеры реальных объектов, идеализацией которых являются параллельные плоскости.

**С**

- 8.9. Для куба  $ABCD A_1 B_1 C_1 D_1$  укажите линию пересечения двух плоскостей  $ABC_1$  и  $BCD_1$ .
- 8.10. Для правильной шестиугольной призмы  $ABCDEF A_1 B_1 C_1 D_1 E_1 F_1$  укажите линию пересечения двух плоскостей  $ABC_1$  и  $BCD_1$ .
- 8.11. Докажите, что у правильной шестиугольной призмы  $ABCDEF A_1 B_1 C_1 D_1 E_1 F_1$  параллельны плоскости  $ABC_1$  и  $CD_1 E_1$ .
- 8.12. Докажите, что если две параллельные плоскости пересечены

**Подготовка к овладению навыками**

- 8.14. Повторите определение угла на плоскости.
- 8.15. Попробуйте определить понятие угла в пространстве.

**ПРОВЕРЬ СЕБЯ!**

- Даны две параллельные прямые  $a$  и  $b$ . Через прямую  $a$  проходит плоскость  $\alpha$ , не совпадающая с плоскостью данных прямых. Определите взаимное расположение прямой  $b$  и плоскости  $\alpha$ :
  - А.  $b$  лежит в плоскости  $\alpha$ .
  - В.  $b$  пересекает плоскость  $\alpha$ .
  - С.  $b$  параллельна плоскости  $\alpha$ .
  - Д. Нельзя определить.
- Сколько плоскостей можно провести через различные пары из трех параллельных прямых, не лежащих в одной плоскости:
  - А. Одну.
  - В. Две.
  - С. Три.
  - Д. Шесть?
- Сколько плоскостей можно провести через различные пары из четырех параллельных прямых, никакие три из которых не лежат в одной плоскости:
  - А. Две.
  - В. Три.
  - С. Четыре.
  - Д. Шесть?



4. Через каждую из двух параллельных прямых проведена плоскость. Эти две плоскости пересекаются. Как расположена их линия пересечения относительно данных прямых:
- А. Параллельна им.  
 В. Пересекает их.  
 С. Совпадает с одной из них.  
 D. Скрещивается с одной из них?
5. Даны две скрещивающиеся прямые  $a$  и  $b$  и точка  $A$ , принадлежащая прямой  $a$ . Как расположена прямая  $a$  по отношению к проходящей через точку  $A$  и прямую  $b$  плоскости:
- А. Прямая  $a$  пересекает плоскость.  
 В. Прямая  $a$  параллельна плоскости.  
 С. Прямая  $a$  лежит в плоскости.  
 D. Нельзя определить?
6. Даны скрещивающиеся прямые  $c$  и  $d$  и точка  $K$ . Как относительно друг друга расположены плоскости, проходящие через точку  $K$  и прямую  $c$  и точку  $K$  и прямую  $d$ :
- А. Совпадают.  
 В. Пересекаются.  
 С. Параллельны.  
 D. Нельзя определить?
7. Плоскость  $\alpha$  пересекается с прямой  $a$ , которая параллельна плоскости  $\beta$ . Как расположены относительно друг друга плоскости  $\alpha$  и  $\beta$ :
- А. Параллельны.  
 В. Совпадают.  
 С. Пересекаются.  
 D. Нельзя определить?
8. Для куба  $ABCD A_1 B_1 C_1 D_1$  укажите ребро, параллельное ребру  $AB$ :
- А.  $CC_1$ .  
 В.  $DD_1$ .  
 С.  $B_1 C_1$ .  
 D.  $C_1 D_1$ .
9. Для правильной шестиугольной призмы  $ABCDEF A_1 B_1 C_1 D_1 E_1 F_1$  укажите ребро, параллельное ребру  $B_1 C_1$ :
- А.  $AA_1$ .  
 В.  $EF$ .  
 С.  $C_1 D_1$ .  
 D.  $DE$ .
10. Для правильной шестиугольной пирамиды  $SABCDEF$  укажите прямую, параллельную линии пересечения плоскостей  $SAB$  и  $SDE$ :
- А.  $BC$ .  
 В.  $CF$ .  
 С.  $AD$ .  
 D.  $BE$ .
11. Для куба  $ABCD A_1 B_1 C_1 D_1$  укажите ребро, скрещивающееся с ребром  $AA_1$ :
- А.  $BC$ .  
 В.  $BB_1$ .  
 С.  $AB$ .  
 D.  $A_1 D_1$ .
12. Для правильной шестиугольной призмы  $ABCDEF A_1 B_1 C_1 D_1 E_1 F_1$  укажите ребро, скрещивающееся с ребром  $AB$ :
- А.  $CD$ .  
 В.  $EF$ .  
 С.  $DD_1$ .  
 D.  $D_1 E_1$ .

13. Для правильной четырехугольной пирамиды  $SABCD$  укажите ребро, скрещивающееся с ребром  $SA$  :
- A.  $AB$  .                      B.  $SC$  .                      C.  $SD$  .                      D.  $BC$  .
14. Для правильной шестиугольной пирамиды  $SABCDEF$  укажите ребро, скрещивающееся с ребром  $BC$  :
- A.  $DE$  .                      B.  $SB$  .                      C.  $SA$  .                      D.  $AF$  .
15. Укажите плоскость, параллельную ребру  $CC_1$  куба  $ABCD A_1 B_1 C_1 D_1$  :
- A.  $ABC$  .                      B.  $ABC_1$  .                      C.  $BDA_1$  .                      D.  $BDD_1$  .
16. Для куба  $ABCD A_1 B_1 C_1 D_1$  укажите плоскость, параллельную прямой  $BC_1$  :
- A.  $ACD_1$  .                      B.  $ACB_1$  .                      C.  $ADB_1$  .                      D.  $CDA_1$  .
17. Укажите плоскость, параллельную ребру  $AF$  правильной шестиугольной призмы  $ABCDEF A_1 B_1 C_1 D_1 E_1 F_1$  :
- A.  $BEE_1$  .                      B.  $BDD_1$  .                      C.  $BCC_1$  .                      D.  $CEE_1$  .
18. Укажите плоскость, параллельную ребру  $CD$  правильной шестиугольной пирамиды  $SABCDEF$  :
- A.  $SAB$  .                      B.  $SAF$  .                      C.  $SBC$  .                      D.  $SEF$  .
19. Для куба  $ABCD A_1 B_1 C_1 D_1$  укажите плоскость, параллельную плоскости  $ACB_1$  :
- A.  $ABC$  .                      B.  $ADD_1$  .                      C.  $DA_1 C_1$  .                      D.  $BA_1 D_1$  .
20. Для правильной шестиугольной призмы  $ABCDEF A_1 B_1 C_1 D_1 E_1 F_1$  укажите плоскость, параллельную плоскости  $ADC_1$  :
- A.  $EFA_1$  .                      B.  $BED_1$  .                      C.  $CFE_1$  .                      D.  $EFF_1$  .



## § 9. Угол между прямыми в пространстве

Определение угла в пространстве аналогично определению угла на плоскости.

*Углом в пространстве* называется фигура, образованная двумя лучами с общей вершиной и одной из частей плоскости (в которой лежат лучи), ограниченной этими лучами.

*Углом между двумя пересекающимися прямыми* в пространстве называется наименьший из углов, образованных лучами этих прямых с вершиной в точке их пересечения.

Две пересекающиеся прямые в пространстве называются *перпендикулярными*, если они пересекаются под прямым углом.

Будем также говорить, что два пересекающихся отрезка перпендикулярны, если они лежат на перпендикулярных прямых. *Углом между двумя пересекающимися отрезками* будем называть угол между соответствующими прямыми.

*Например*, в кубе пересекающиеся ребра перпендикулярны, диагональ грани куба образует с ребрами этой грани углы  $45^\circ$  (рис. 9.1).

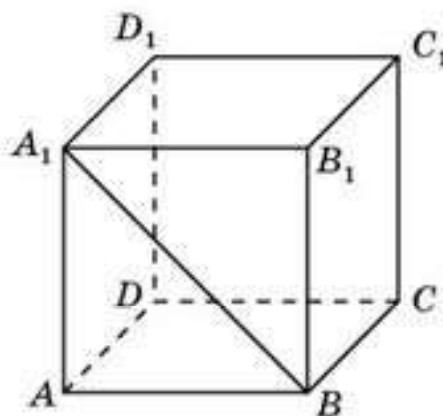


Рис. 9.1

Так же, как и для плоскости, два луча в пространстве называют *сонаправленными*, если один из них содержится в другом, или они лежат на параллельных прямых по одну сторону от прямой, соединяющей их вершины.

Для углов в пространстве справедливы следующие свойства, аналогичные соответствующим свойствам углов на плоскости.

**Свойство 1.** Углы с сонаправленными сторонами равны.

**Свойство 2.** Углы, образованные соответственно параллельными прямыми, равны.



Как вы думаете, всегда ли равны два угла, у которых соответствующие стороны параллельны? Приведите пример.

Определим теперь понятие угла между скрещивающимися прямыми.

Пусть  $a$  и  $b$  — скрещивающиеся прямые (рис. 9.2). Рассмотрим какую-нибудь точку  $C$  в пространстве и проведем через нее прямые  $a'$ ,  $b'$ , параллельные прямым  $a$  и  $b$  соответственно.

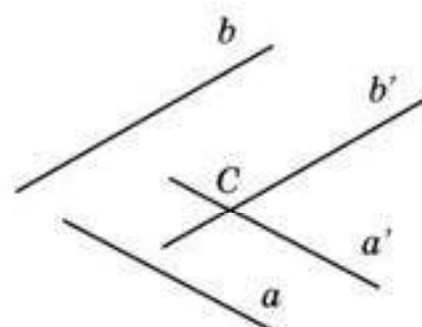


Рис. 9.2

Угол между скрещивающимися прямыми называется углом между пересекающимися прямыми, соответственно параллельными данным прямым.

Поскольку углы с параллельными сторонами равны, то это определение не зависит от выбора точки  $C$ . В частности, точка  $C$  может принадлежать прямой  $a$  или  $b$ . В этом случае в качестве прямой  $a'$  или  $b'$  следует взять саму прямую  $a$  или  $b$  соответственно.

Две скрещивающиеся прямые называются *перпендикулярными*, если угол между ними прямой.



Сколько прямых, перпендикулярных данной прямой, можно провести через точку: а) принадлежащую данной прямой; б) не принадлежащую данной прямой?

Два отрезка будем называть *перпендикулярными*, если они лежат на перпендикулярных прямых.

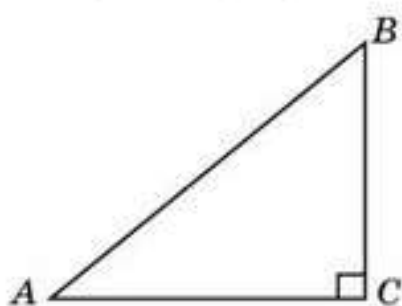


Рис. 9.3

Угол между двумя отрезками будем называть углом между прямыми, на которых лежат эти отрезки.

Напомним, что для нахождения углов треугольника можно использовать тригонометрические функции.

Например, если известны стороны прямоугольного треугольника  $ABC$  с прямым углом  $C$  (рис. 9.3), то его острый угол  $A$  можно найти, используя одну из тригонометрических функций:

$$\sin A = \frac{BC}{AB}, \cos A = \frac{AC}{AB}, \operatorname{tg} A = \frac{BC}{AC}, \operatorname{ctg} A = \frac{AC}{BC}.$$

В случае произвольного треугольника  $ABC$  с известными сторонами  $AB = c$ ,  $AC = b$ ,  $BC = a$  (рис. 9.4) для нахождения угла  $C$  можно использовать теорему косинусов

$$c^2 = a^2 + b^2 - 2ab \cos C.$$

Тогда

$$\cos C = \frac{a^2 + b^2 - c^2}{2ab}.$$

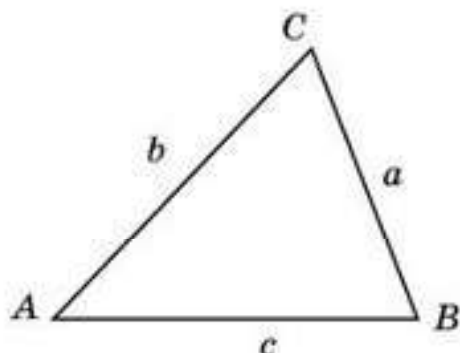


Рис. 9.4

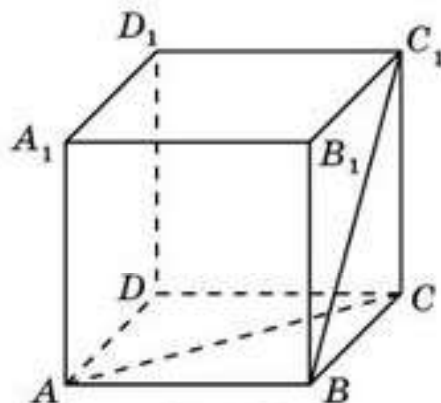


Рис. 9.5



**Пример 1.** Для куба  $ABCD A_1 B_1 C_1 D_1$  найдите угол между прямыми  $AC$  и  $BC_1$  (рис. 9.5).

*Решение.* Проведем прямую  $AD_1$ , параллельную прямой  $BC_1$ . Угол между прямыми  $AC$  и  $BC_1$  будет равен углу между прямыми  $AC$  и  $AD_1$ . Для нахождения этого угла рассмотрим треугольник  $ACD_1$  (рис. 9.6). Он является равносторонним. Следовательно, искомый угол  $CAD_1$  равен  $60^\circ$ .

**Пример 2.** Для правильной треугольной призмы  $ABCA_1 B_1 C_1$ , все ребра которой равны 1 (рис. 9.7), найдите косинус угла между прямыми  $AC_1$  и  $A_1 B_1$ .

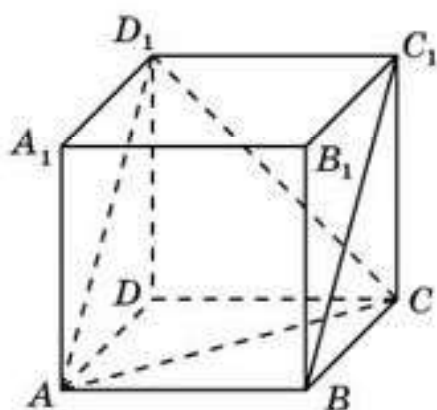


Рис. 9.6

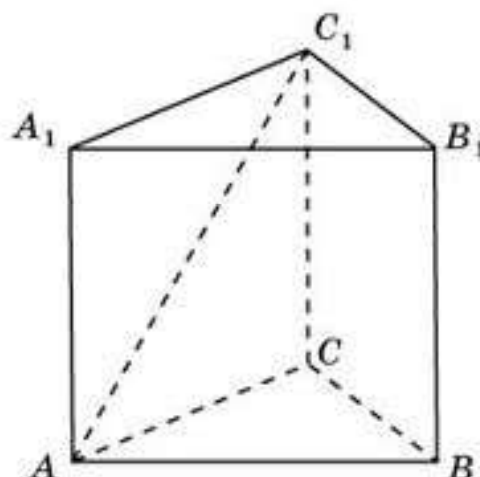


Рис. 9.7

*Решение.* Так как прямая  $A_1 B_1$  параллельна прямой  $AB$ , то искомый угол равен углу  $BAC_1$ . В треугольнике  $ABC_1$   $AB = 1$ ,  $AC_1 = BC_1 = \sqrt{2}$ . По теореме косинусов имеем

$$BC_1^2 = AB^2 + AC_1^2 - 2AB \cdot AC_1 \cdot \cos \angle BAC_1.$$

Подставляя найденные значения длин  $AB$ ,  $AC_1$ ,  $BC_1$ , находим  $\cos \angle BAC_1 = \frac{\sqrt{2}}{4}$ .

## Вопросы

1. Что называется углом в пространстве?
2. Что называется углом между двумя пересекающимися прямыми в пространстве?
3. Что называется углом между двумя скрещивающимися прямыми?
4. Какие две прямые в пространстве называются перпендикулярными?
5. Какие свойства справедливы для углов в пространстве?
6. Как можно найти углы прямоугольного треугольника с известными сторонами?
7. Как можно найти углы произвольного треугольника с известными сторонами?

## Задачи

### А

- 9.1. Дана прямая в пространстве, на ней взята точка. Сколько можно построить прямых, проходящих через эту точку и перпендикулярных данной прямой?

- 9.2. Даны прямая и точка вне ее. Сколько можно построить прямых, проходящих через эту точку и перпендикулярных данной прямой?
- 9.3. На плоскости две прямые, перпендикулярные третьей прямой, параллельны. Верно ли это утверждение для пространства?
- 9.4. Для куба  $ABCD A_1 B_1 C_1 D_1$  укажите ребра, перпендикулярные ребру  $AB$  (рис. 9.8).

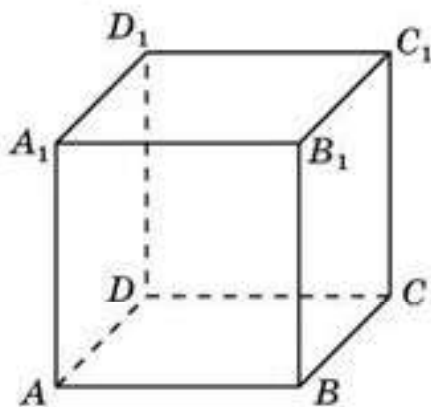


Рис. 9.8

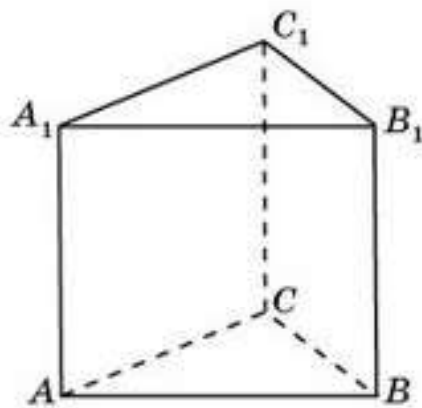


Рис. 9.9

- 9.5. Для правильной треугольной призмы  $ABCA_1 B_1 C_1$  укажите ребра, перпендикулярные ребру  $BB_1$  (рис. 9.9).

**В**

- 9.6. Для куба  $ABCD A_1 B_1 C_1 D_1$  найдите угол между прямыми: а)  $AC$  и  $B_1 D_1$ ; б)  $AB$  и  $B_1 C_1$ ; в)  $AB_1$  и  $BC_1$ .
- 9.7. В правильной треугольной призме  $ABCA_1 B_1 C_1$  найдите угол между прямыми: а)  $AB$  и  $CC_1$ ; б)  $AB$  и  $B_1 C_1$ .
- 9.8. В правильной четырехугольной пирамиде  $SABCD$  все ребра равны 1 (рис. 9.10). Найдите угол между прямыми: а)  $AB$  и  $SC$ ; б)  $SB$  и  $SD$ .

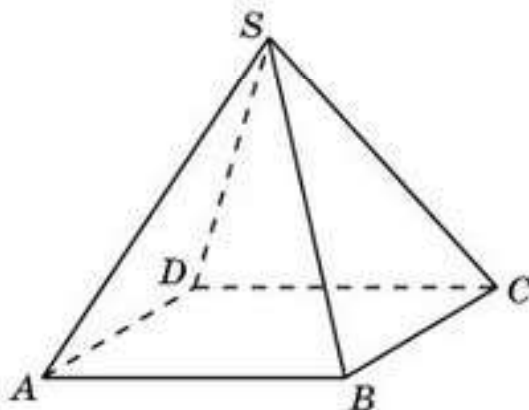


Рис. 9.10

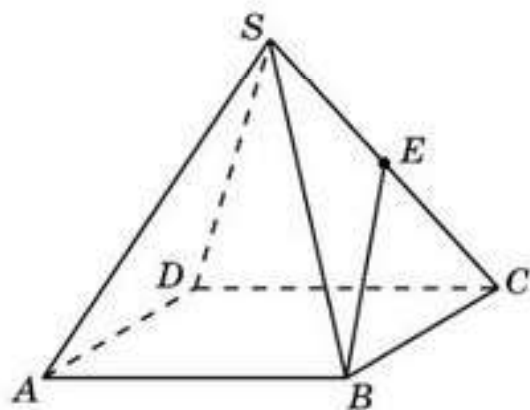


Рис. 9.11

- 9.9. В правильной четырехугольной пирамиде  $SABCD$  все ребра равны 1, точка  $E$  — середина ребра  $SC$  (рис. 9.11). Найдите угол между прямыми  $AD$  и  $BE$ .



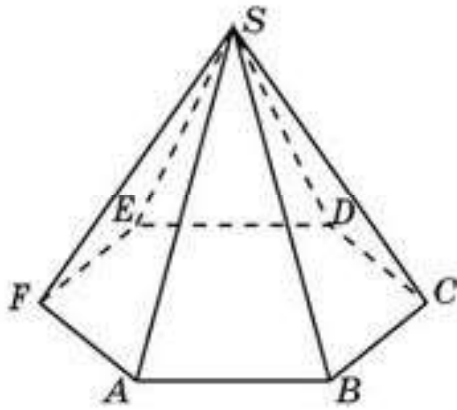


Рис. 9.12

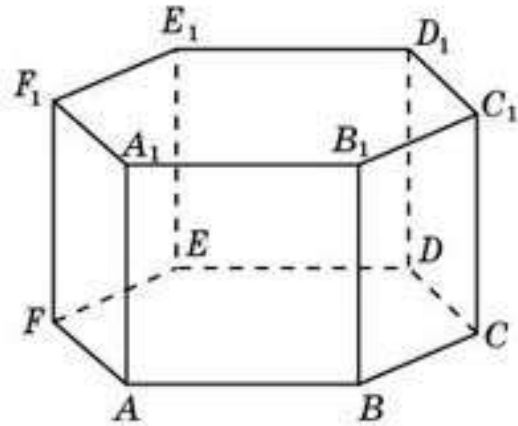


Рис. 9.13

- 9.10.** В правильной шестиугольной пирамиде  $SABCDEF$  стороны основания равны 1, а боковые ребра равны 2 (рис. 9.12). Найдите угол между прямыми  $SA$  и  $BC$ .
- 9.11.** В правильной шестиугольной призме  $ABCDEF A_1 B_1 C_1 D_1 E_1 F_1$  все ребра равны 1 (рис. 9.13). Найдите угол между прямыми: а)  $AA_1$  и  $BC_1$ ; б)  $AA_1$  и  $DE_1$ ; в)  $AB$  и  $B_1C_1$ ; г)  $AB$  и  $C_1D_1$ ; д)  $AC$  и  $B_1C_1$ ; е)  $AC$  и  $B_1D_1$ ; ж)  $AC$  и  $B_1E_1$ .

**С**

- 9.12.** В кубе  $ABCD A_1 B_1 C_1 D_1$  все ребра равны 1, точка  $E$  — середина ребра  $A_1 B_1$ , точка  $F$  — середина ребра  $B_1 C_1$  (рис. 9.14). Найдите косинус угла между прямыми  $AE$  и  $BF$ .
- 9.13.** В тетраэдре  $ABCD$  все ребра равны 1, точка  $E$  — середина ребра  $CD$  (рис. 9.15). Найдите косинус угла между прямыми  $AE$  и  $BC$ .
- 9.14.** В правильной четырехугольной пирамиде  $SABCD$  все ребра равны 1, точка  $E$  — середина ребра  $SC$  (рис. 9.16). Найдите тангенс угла между прямыми  $SA$  и  $BE$ .

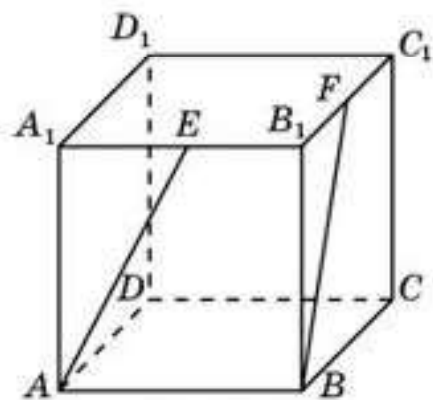


Рис. 9.14

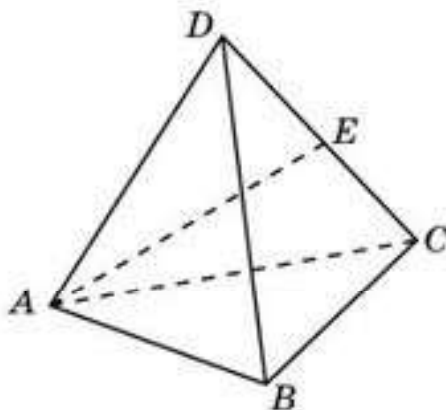


Рис. 9.15

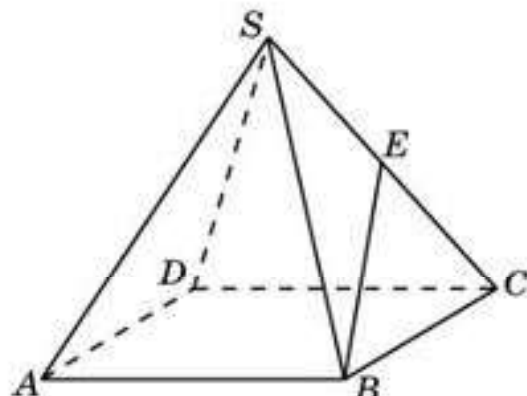


Рис. 9.16

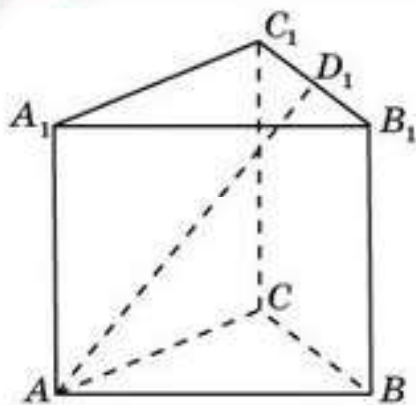


Рис. 9.17

- 9.15. В правильной треугольной призме  $ABC A_1 B_1 C_1$  все ребра равны 1, точка  $D_1$  — середина ребра  $B_1 C_1$  (рис. 9.17). Найдите тангенс угла между прямыми  $AD_1$  и  $BB_1$ .
- 9.16. В правильной шестиугольной пирамиде  $SABCDEF$  стороны основания равны 1, а боковые ребра равны 2 (рис. 9.12). Найдите косинус угла между прямыми: а)  $SA$  и  $CD$ ; б)  $SA$  и  $BD$ .
- 9.17. В правильной шестиугольной призме  $ABCDEF A_1 B_1 C_1 D_1 E_1 F_1$  все ребра равны 1 (рис. 9.13). Найдите косинус угла между прямыми: а)  $AB_1$  и  $BC_1$ ; б)  $AB_1$  и  $CD_1$ .
- 9.18. Приведите примеры реальных объектов, идеализацией которых являются перпендикулярные прямые.

## Подготовка к овладению навыками

- 9.19. Повторите определение расстояния от точки до прямой на плоскости.
- 9.20. Определите понятие расстояния от точки до прямой в пространстве.
- 9.21. Для единичного куба  $ABCD A_1 B_1 C_1 D_1$  найдите расстояние от вершины  $A$  до прямой: а)  $BC$ ; б)  $BB_1$ .

### § 10. Расстояние от точки до прямой

Напомним, что *расстоянием от точки до прямой на плоскости* называется длина перпендикуляра, опущенного из данной точки на данную прямую.

Поскольку точка и прямая в пространстве лежат в одной плоскости, то это определение расстояния от точки до прямой справедливо и для пространства.

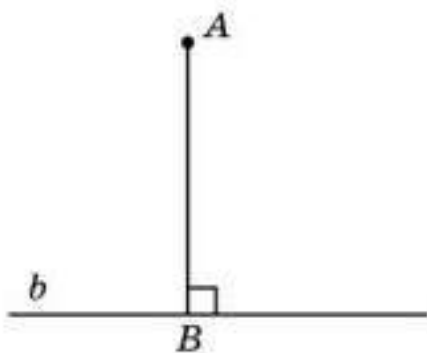


Рис. 10.1

*Расстоянием от точки до прямой в пространстве* называется длина перпендикуляра, опущенного из данной точки на данную прямую (рис. 10.1).

Для нахождения расстояния от точки  $A$  до прямой  $b$  сначала находят основание  $B$  перпендикуляра, опущенного из точки  $A$  на прямую  $b$ . Если нахождение длины перпендикуляра  $AB$  не вытекает непосредственно из условия задачи, то на прямой  $b$  выбирают



какие-нибудь точки  $C, D$  и рассматривают треугольник  $ACD$ , в котором  $AB$  является высотой (рис. 10.2). Для нахождения высоты  $AB$  используют теорему Пифагора или другие известные теоремы и формулы.

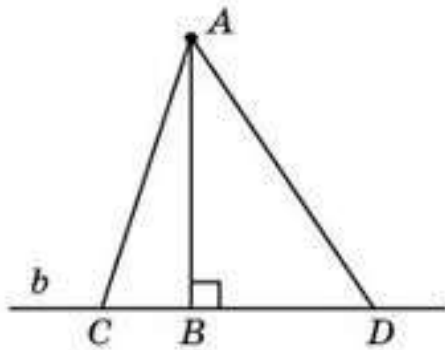


Рис. 10.2

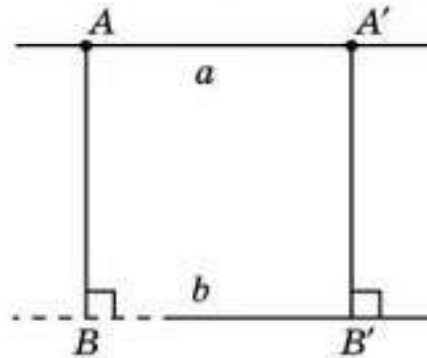


Рис. 10.3

Если основание перпендикуляра  $B$  находится вне участка прямой  $b$ , изображенного на рисунке, то через точку  $A$  проводят прямую  $a$ , параллельную прямой  $b$ , и выбирают на ней более удобную точку  $A'$ , для которой основание перпендикуляра  $B'$  принадлежит данному участку прямой  $b$  (рис. 10.3). Длина отрезка  $A'B'$  будет равна искомому расстоянию от точки  $A$  до прямой  $b$ .



Докажите равенство отрезков  $AB$  и  $A'B'$  самостоятельно.

**Пример.** Найдите расстояние от вершины  $A$  единичного куба  $ABCD A_1 B_1 C_1 D_1$  до прямой  $B_1 D_1$  (рис. 10.4).

*Решение.* Рассмотрим треугольник  $AB_1 D_1$ . Это равносторонний треугольник, его стороны равны  $\sqrt{2}$ . Основанием перпендикуляра, опущенного из вершины  $A$  на прямую  $B_1 D_1$ , является середина  $O_1$  отрезка  $B_1 D_1$  (рис. 10.5). Перпендикуляр  $AO_1$  равен  $\frac{\sqrt{6}}{2}$ .

Таким образом, расстояние от вершины  $A$  единичного куба  $ABCD A_1 B_1 C_1 D_1$  до прямой  $B_1 D_1$  равно  $\frac{\sqrt{6}}{2}$ .

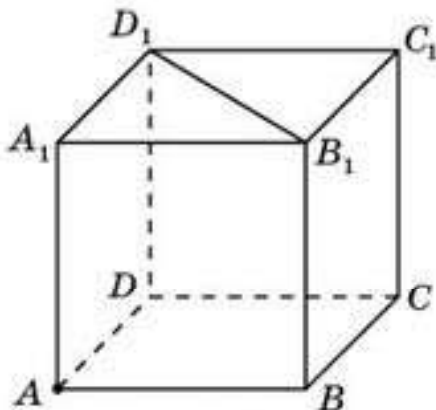


Рис. 10.4

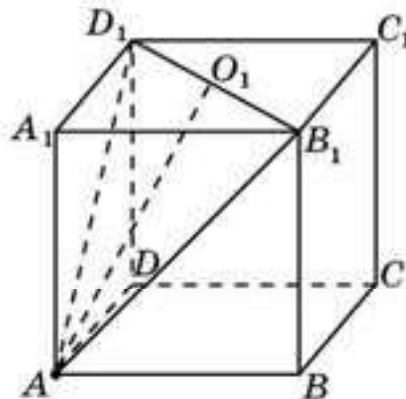


Рис. 10.5

## Вопросы

1. Что называется *расстоянием от точки до прямой в пространстве* ?
2. Какие геометрические факты используют для нахождения расстояния от точки до прямой?

## Задачи

### А

- 10.1. В единичном кубе  $ABCD A_1 B_1 C_1 D_1$  найдите расстояние от точки  $A$  до прямой: а)  $BC$ ; б)  $BD$ ; в)  $C_1 D_1$ .
- 10.2. В правильной четырехугольной пирамиде  $SABCD$  все ребра равны 1 (рис. 10.6). Найдите расстояние от вершины  $S$  до прямой: а)  $AB$ ; б)  $AC$ .

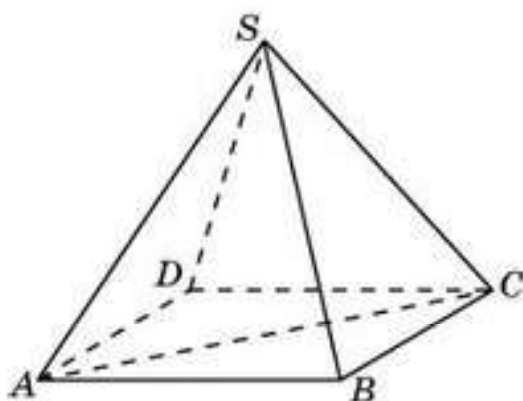


Рис. 10.6

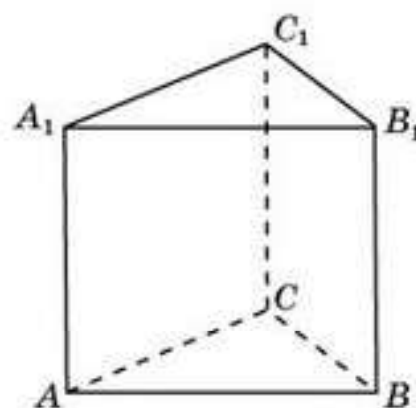


Рис. 10.7

- 10.3. В правильной треугольной призме  $ABCA_1 B_1 C_1$  все ребра равны 1 (рис. 10.7). Найдите расстояние от точки  $A$  до прямой: а)  $BB_1$ ; б)  $BC$ ; в)  $BA_1$ .
- 10.4. В правильной шестиугольной пирамиде  $SABCDEF$  стороны основания равны 1, а боковые ребра равны 2 (рис. 10.8). Найдите расстояние от вершины  $S$  до прямой  $AD$ .

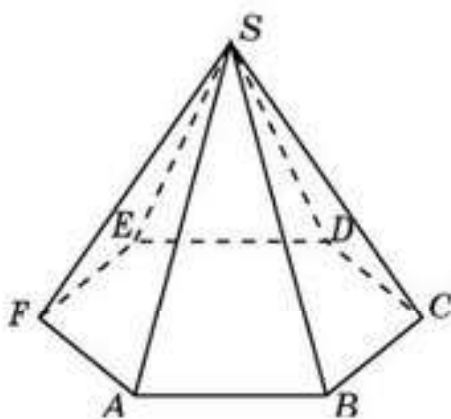


Рис. 10.8

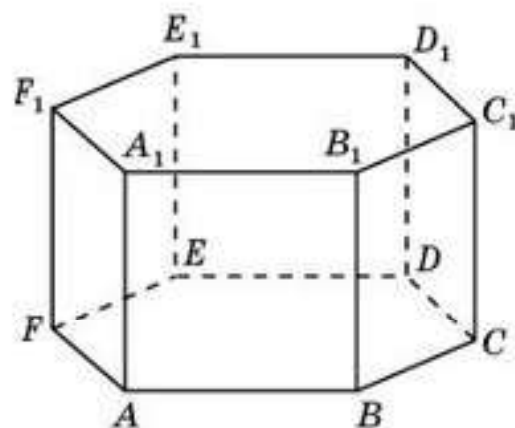


Рис. 10.9



- 10.5. В правильной шестиугольной призме  $ABCDEF A_1 B_1 C_1 D_1 E_1 F_1$  все ребра равны 1 (рис. 10.9). Найдите расстояние от точки  $A$  до прямой: а)  $BB_1$ ; б)  $BA_1$ ; в)  $BC$ ; г)  $CD$ ; д)  $DE$ ; е)  $BD$ ; ж)  $BE$ ; з)  $BF$ ; и)  $CE$ ; к)  $CF$ ; л)  $A_1 B_1$ .

## В

- 10.6. В единичном кубе  $ABCD A_1 B_1 C_1 D_1$  найдите расстояние от точки  $A$  до прямой  $CB_1$ .
- 10.7. В тетраэдре  $ABCD$  все ребра равны 1 (рис. 10.10). Найдите расстояние от середины  $E$  ребра  $AD$  до прямой  $BC$ .
- 10.8. В правильной треугольной призме  $ABCA_1 B_1 C_1$  все ребра равны 1 (рис. 10.7). Найдите расстояние от точки  $A$  до прямой  $B_1 C_1$ .
- 10.9. В правильной шестиугольной пирамиде  $SABCDEF$  стороны основания равны 1, а боковые ребра равны 2 (рис. 10.8). Найдите расстояние от вершины  $S$  до прямой  $AC$ .

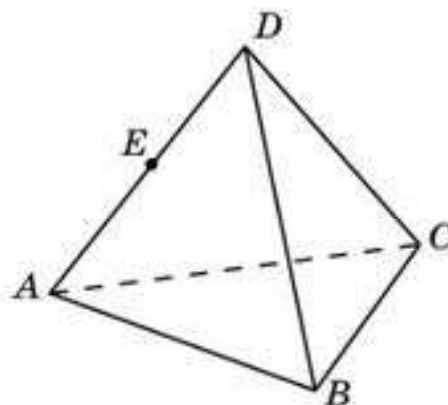


Рис. 10.10

## С

- 10.10. В правильной треугольной призме  $ABCA_1 B_1 C_1$  все ребра равны 1 (рис. 10.7). Найдите расстояние от точки  $A$  до прямой  $BC_1$ .
- 10.11. В правильной шестиугольной призме  $ABCDEF A_1 B_1 C_1 D_1 E_1 F_1$  все ребра равны 1 (рис. 10.9). Найдите расстояние от точки  $A$  до прямой: а)  $B_1 F_1$ ; б)  $B_1 C_1$ .

## Подготовьтесь к овладению новыми знаниями

- 10.12. Попробуйте определить понятие перпендикулярности прямой и плоскости.
- 10.13. Для куба  $ABCD A_1 B_1 C_1 D_1$  укажите какие-нибудь прямые, перпендикулярные плоскости  $ABC$ .

## § 11. Перпендикулярность прямой и плоскости

Определим понятие перпендикулярности прямой и плоскости.

Прямая называется *перпендикулярной плоскости*, если она перпендикулярна любой прямой, лежащей в этой плоскости (рис. 11.1).

Отрезок будем называть *перпендикулярным плоскости*, если он лежит на прямой, перпендикулярной этой плоскости.

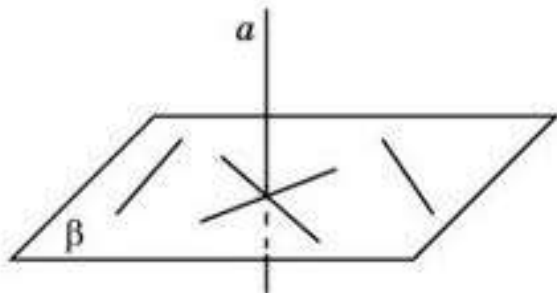


Рис. 11.1

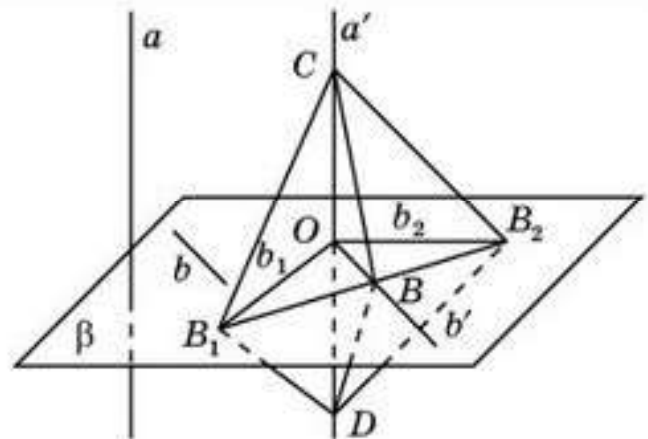


Рис. 11.2

Заметим, что прямая  $a$ , перпендикулярная плоскости, пересекает эту плоскость. Действительно, если бы прямая лежала в плоскости или была ей параллельна, то в этой плоскости нашлась бы прямая, ей параллельная. Значит, исходная прямая не была бы перпендикулярна данной плоскости.

Следующая теорема дает достаточное условие перпендикулярности прямой и плоскости.

**Теорема (признак перпендикулярности прямой и плоскости).** *Если прямая перпендикулярна двум пересекающимся прямым плоскости, то она перпендикулярна и самой плоскости.*

**Доказательство.** Пусть прямая  $a$  перпендикулярна прямым  $b_1, b_2$  плоскости  $\beta$ , пересекающимся в точке  $O$  (рис. 11.2).

Рассмотрим произвольную прямую  $b$  плоскости  $\beta$ . Проведем через точку  $O$  прямые  $a', b'$ , соответственно параллельные прямым  $a, b$ . Для доказательства перпендикулярности прямых  $a, b$  достаточно доказать перпендикулярность прямых  $a', b'$ .

Для этого в плоскости  $\beta$  проведем прямую, пересекающую прямые  $b_1, b_2, b'$  в точках  $B_1, B_2, B$  соответственно. Отложим на прямой  $a'$  от точки  $O$  равные отрезки  $OC, OD$  и соединим точки  $C, D$  с точками  $B_1, B_2, B$ . Прямоугольные треугольники  $OB_1C$  и  $OB_1D$  равны (по катетам). Следовательно,  $B_1C = B_1D$ .

Аналогично из равенства прямоугольных треугольников  $OB_2C$  и  $OB_2D$  следует, что  $B_2C = B_2D$ . Треугольники  $B_1B_2C$  и  $B_1B_2D$  равны (по трем сторонам). Следовательно,  $\angle CB_1B = \angle DB_1B$ .

Треугольники  $B_1BC$  и  $B_1BD$  равны (по двум сторонам и углу между ними). Таким образом,  $BC = BD$ . Треугольники  $OBC$  и  $OBD$  равны (по трем сторонам), следовательно,  $\angle BOC = \angle BOD = 90^\circ$ , т. е. прямые  $a'$  и  $b'$  перпендикулярны.

Значит, прямая  $a$  перпендикулярна плоскости  $\beta$ .  $\square$



Как вы думаете, будет ли прямая перпендикулярна плоскости, если она перпендикулярна двум прямым этой плоскости? Приведите пример.





Сформулируйте условие, при котором прямая не является перпендикулярной плоскости.

Рассмотрим некоторые свойства перпендикулярности прямой и плоскости.

**Свойство 1.** *Через точку, не принадлежащую данной плоскости, можно провести единственную прямую, перпендикулярную этой плоскости.*

**Доказательство.** Рассмотрим точку  $A$  и плоскость  $\beta$  (рис. 11.3, а). В плоскости  $\beta$  проведем какую-нибудь прямую  $b$ . В плоскости, определяемой точкой  $A$  и прямой  $b$ , проведем прямую  $c$ , перпендикулярную прямой  $b$ . Обозначим  $C$  точку пересечения прямых  $b$  и  $c$ . В плоскости  $\beta$  через точку  $C$  проведем прямую  $d$ , перпендикулярную прямой  $b$ . Заметим, что прямая  $b$  будет перпендикулярна плоскости  $\alpha$ , определяемой прямыми  $c$  и  $d$ . В плоскости, определяемой точкой  $A$  и прямой  $d$ , проведем прямую  $a$ , перпендикулярную прямой  $d$ . Эта прямая и будет искомой прямой, перпендикулярной плоскости  $\beta$ . Действительно, прямая  $a$  перпендикулярна прямой  $d$ . Кроме того, она лежит в плоскости  $\alpha$ , следовательно, перпендикулярна прямой  $b$ . Таким образом, прямая  $a$  перпендикулярна двум пересекающимся прямым  $b$  и  $d$  плоскости  $\beta$ , значит, она перпендикулярна этой плоскости.

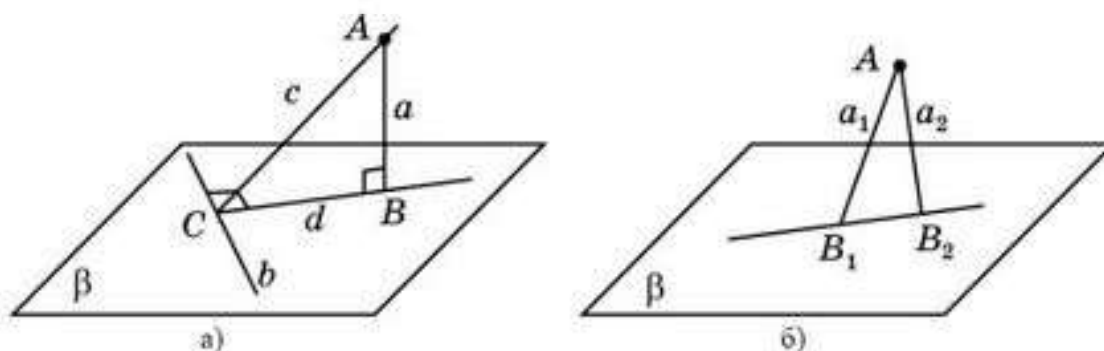


Рис. 11.3

Докажем единственность. Предположим, что через точку  $A$  проходят две прямые  $a_1$  и  $a_2$ , перпендикулярные плоскости  $\beta$  (рис. 11.3, б). Обозначим  $B_1, B_2$  соответственно их точки пересечения с плоскостью  $\beta$ . Тогда в плоскости  $AB_1B_2$  имеются две прямые, проходящие через точку  $A$  и перпендикулярные прямой  $B_1B_2$ , что противоречит соответствующему свойству перпендикулярных прямых на плоскости. Следовательно, через точку  $A$  не может проходить более одной прямой, перпендикулярной плоскости  $\beta$ . Значит, такая прямая единственна.  $\square$

**Свойство 2.** *Если прямая перпендикулярна плоскости, то любая прямая, параллельная данной прямой, также будет перпендикулярна этой плоскости.*

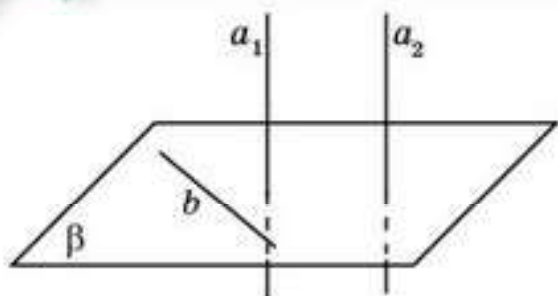


Рис. 11.4

**Доказательство.** Пусть прямая  $a_1$  перпендикулярна плоскости  $\beta$  и прямая  $a_2$  параллельна прямой  $a_1$  (рис. 11.4). Так как прямая  $a_1$  перпендикулярна любой прямой, лежащей в плоскости  $\beta$ , то прямая  $a_2$ , параллельная прямой  $a_1$ , также будет перпендикулярна любой прямой, лежащей в этой плоскости. Значит, она будет перпендикулярна плоскости  $\beta$ .  $\square$

**Свойство 3.** Две прямые, перпендикулярные одной плоскости, параллельны между собой.

**Доказательство.** Пусть прямые  $a_1$  и  $a_2$  перпендикулярны плоскости  $\beta$ . Через какую-нибудь точку  $A_2$  прямой  $a_2$  проведем прямую, параллельную прямой  $a_1$ . По свойству 2 она будет перпендикулярна плоскости  $\beta$ . В силу свойства 1 она должна совпадать с прямой  $a_2$ . Значит, прямая  $a_2$  параллельна прямой  $a_1$ .  $\square$

**Пример 1.** Докажите, что боковые ребра прямой призмы (рис. 11.5) перпендикулярны ее основаниям.

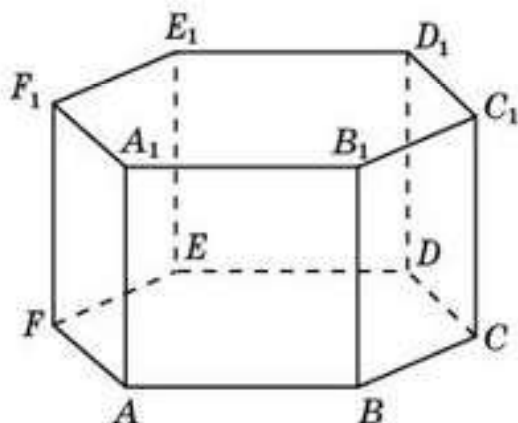


Рис. 11.5

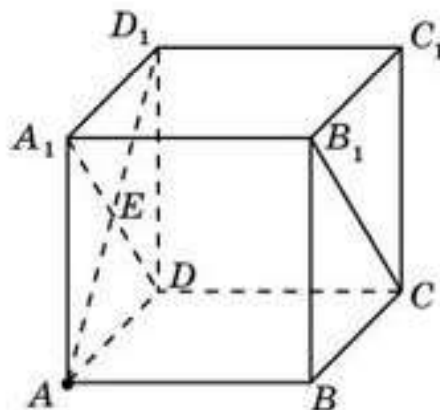


Рис. 11.6

**Решение.** Боковыми гранями прямой призмы являются прямоугольники. Поэтому каждое боковое ребро перпендикулярно двум прилежащим сторонам основания призмы и, следовательно, перпендикулярно основанию.

**Пример 2.** Докажите, что в кубе  $ABCD A_1 B_1 C_1 D_1$  прямая  $AD_1$  перпендикулярна плоскости  $CDA_1$ .

**Решение.** Прямая  $AD_1$  перпендикулярна прямой  $DA_1$  (рис. 11.6). Кроме того, она лежит в плоскости  $ADD_1$ , которая перпендикулярна прямой  $CD$ . Следовательно, прямая  $AD_1$  перпендикулярна плоскости  $CDA_1$ .



## Вопросы

1. Какая прямая называется *перпендикулярной плоскости* ?
2. Какой отрезок называется *перпендикулярным плоскости* ?
3. Сформулируйте признак перпендикулярности прямой и плоскости.

## Задачи

### А

- 11.1. Прямая параллельна плоскости. Может ли она быть перпендикулярной какой-нибудь прямой, лежащей в этой плоскости?
- 11.2. Как расположена относительно плоскости треугольника прямая, перпендикулярная двум его сторонам?
- 11.3. Верно ли, что прямая, пересекающая круг в центре, перпендикулярна плоскости круга в случае, если прямая перпендикулярна: а) диаметру круга; б) двум его диаметрам?
- 11.4. Прямая  $a$  пересекает плоскость  $\alpha$  и не перпендикулярна этой плоскости. Существуют ли в плоскости  $\alpha$  прямые, перпендикулярные  $a$ ?
- 11.5. Докажите, что в кубе  $ABCD A_1 B_1 C_1 D_1$  (рис. 11.7) данные прямая и плоскость перпендикулярны: а)  $AA_1$  и  $ABC$ ; б)  $AB$  и  $BCC_1$ ; в)  $AB_1$  и  $BCD_1$ .

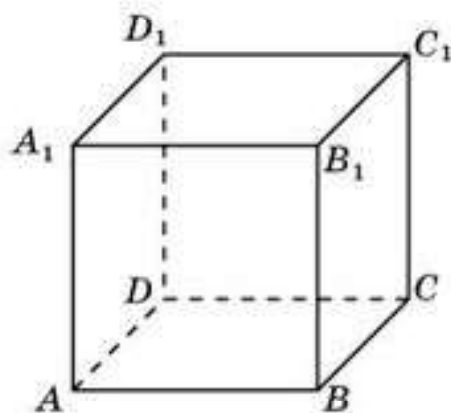


Рис. 11.7

### В

- 11.6. Верно ли, что если прямая перпендикулярна каким-нибудь двум прямым плоскости, то она перпендикулярна этой плоскости?
- 11.7. При каком взаимном расположении двух прямых через одну из них можно провести плоскость, перпендикулярную другой прямой?
- 11.8. Определите вид треугольника, если через одну из его сторон можно провести плоскость, перпендикулярную другой стороне.
- 11.9. Для куба  $ABCDEF A_1 B_1 C_1 D_1 E_1 F_1$  (рис. 11.8) докажите перпендикулярность прямых: а)  $AA_1$  и  $AC$ ; б)  $AA_1$  и  $BD$ ; в)  $AB$  и  $BC_1$ .
- 11.10. Докажите, что в правильной шестиугольной призме  $ABCDEF A_1 B_1 C_1 D_1 E_1 F_1$  (рис. 11.8)

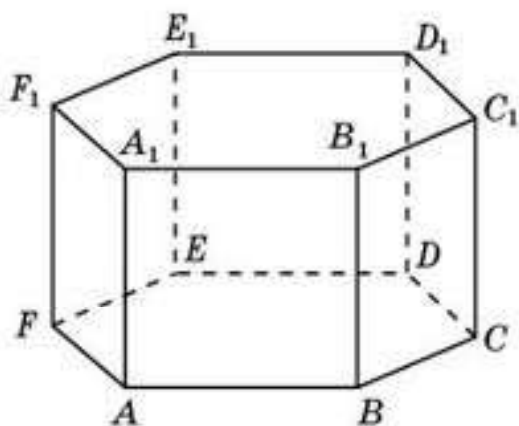


Рис. 11.8

- данные прямая и плоскость перпендикулярны: а)  $AA_1$  и  $ABC$ ; б)  $AB$  и  $BDD_1$ ; в)  $AC$  и  $CDD_1$ ; г)  $AC$  и  $BEE_1$ ; д)  $AD$  и  $CEE_1$ ; е)  $AB_1$  и  $BDE_1$ .
- 11.11. Для правильной шестиугольной призмы  $ABCDEF A_1 B_1 C_1 D_1 E_1 F_1$  (рис. 11.8) докажите перпендикулярность прямых: а)  $AA_1$  и  $AC$ ; б)  $AA_1$  и  $AD$ ; в)  $AA_1$  и  $AE$ ; г)  $AA_1$  и  $BF$ ; д)  $AB$  и  $BD_1$ ; е)  $AB$  и  $EA_1$ ; ж)  $AC$  и  $DC_1$ .

**С**

- 11.12. Докажите, что в кубе  $ABCD A_1 B_1 C_1 D_1$  прямые  $AC$  и  $BD_1$  перпендикулярны.
- 11.13. Докажите, что в кубе  $ABCD A_1 B_1 C_1 D_1$  прямая  $BD_1$  перпендикулярна плоскости  $ACB_1$ .
- 11.14. Докажите, что в правильной четырехугольной пирамиде  $SABCD$  прямые  $AC$  и  $SB$  перпендикулярны.
- 11.15. Докажите, что в правильной шестиугольной призме  $ABCDEF A_1 B_1 C_1 D_1 E_1 F_1$  прямая  $BE_1$  перпендикулярна плоскости  $ACB_1$ .
- 11.16. Докажите, что через любую точку, принадлежащую данной плоскости, проходит единственная прямая, перпендикулярная этой плоскости.
- 11.17. Приведите примеры реальных объектов, идеализацией которых являются перпендикулярные прямая и плоскость.

**Подготовьтесь к овладению навыками**

- 11.18. Определите понятие расстояния от точки до плоскости.
- 11.19. Для единичного куба  $ABCD A_1 B_1 C_1 D_1$  найдите расстояние от вершины  $A_1$  до плоскости  $ABC$ .

**§ 12. Расстояние от точки до плоскости**

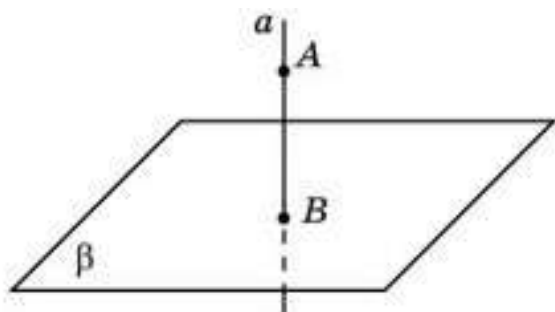


Рис. 12.1

Для точки  $A$ , не принадлежащей плоскости  $\beta$ , проведем прямую, перпендикулярную этой плоскости, и обозначим  $B$  точку пересечения этих прямой и плоскости (рис. 12.1). Отрезок  $AB$  называется *перпендикуляром*, опущенным из точки  $A$  на плоскость  $\beta$ . Длина этого отрезка называется *расстоянием* от точки  $A$  до плоскости  $\beta$ .

Если основание перпендикуляра  $B$  находится вне участка плоскости  $\beta$ , изображенной на рисунке, то через точку  $A$  проводят прямую  $a$  или плоскость  $\alpha$ , параллельную плоскости  $\beta$ , и выбирают на ней более удобную точку  $A'$ , для которой основание перпендикуляра  $B'$  принад-



лежит данному участку плоскости  $\beta$  (рис. 12.2). Длина отрезка  $A'B'$  будет равна искомому расстоянию от точки  $A$  до плоскости  $\beta$ .

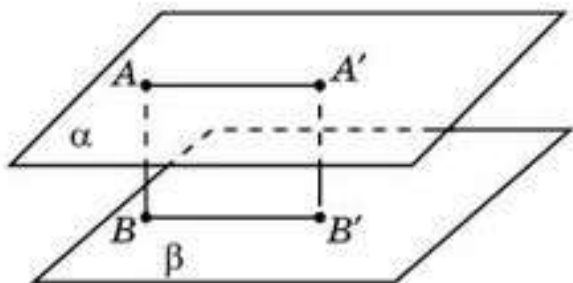


Рис. 12.2

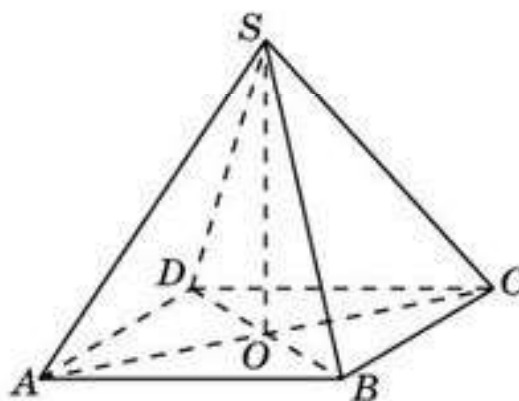


Рис. 12.3



Докажите равенство отрезков  $AB$  и  $A'B'$  самостоятельно.

Перпендикуляр, опущенный из вершины пирамиды на плоскость ее основания, называется *высотой пирамиды*.

На рисунке 12.3 показана высота  $SO$  правильной четырехугольной пирамиды  $SABCD$ .

Отрезок  $AC$ , соединяющий точку  $A$ , не принадлежащую плоскости  $\beta$ , с точкой  $C$  плоскости  $\beta$ , не являющийся перпендикуляром к этой плоскости, называется *наклонной*, проведенной из точки  $A$  к плоскости  $\beta$  (рис. 12.4). *Наклонной* называется также сама прямая  $AC$ .

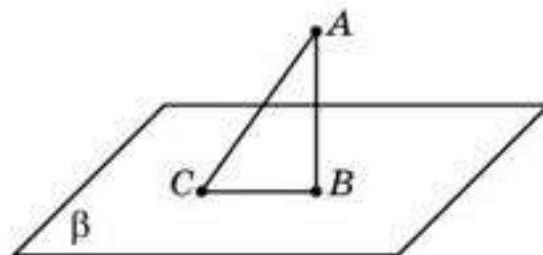


Рис. 12.4



Докажите самостоятельно, что перпендикуляр, опущенный из точки на плоскость, короче любой наклонной, проведенной из этой точки к данной плоскости.

Рассмотрим примеры нахождения расстояний.

**Пример 1.** Найдите расстояние между вершинами  $B$  и  $D_1$  (диагональ) прямоугольного параллелепипеда  $ABCD A_1 B_1 C_1 D_1$  (рис. 12.5), для которого  $AB = a$ ,  $AD = b$ ,  $AA_1 = c$ .

*Решение.* Прямая  $DD_1$  перпендикулярна прямым  $DA$  и  $DC$ . Следовательно, она перпендикулярна плоскости  $ABC$ . Значит, она перпендикулярна прямой  $DB$ . В прямоугольном треуголь-

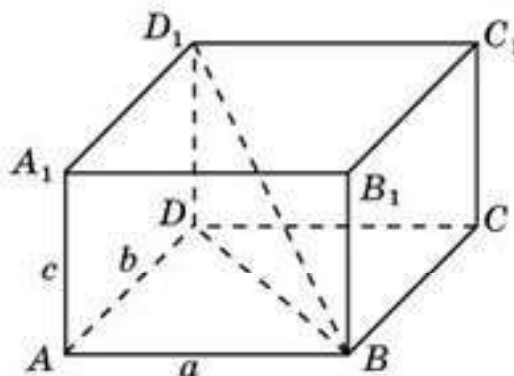


Рис. 12.5

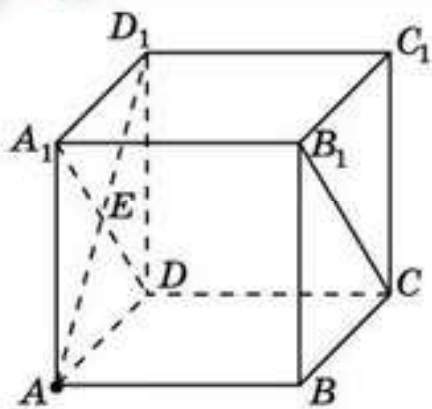


Рис. 12.6

нике  $BDD_1$ ,  $BD = \sqrt{a^2 + b^2}$ ,  $DD_1 = c$ . По теореме Пифагора находим гипотенузу  $BD_1 = \sqrt{a^2 + b^2 + c^2}$ .

**Пример 2.** Найдите расстояние от вершины  $A$  единичного куба до плоскости  $CDA_1$  (рис. 12.6).

*Решение.* Проведем отрезок  $AD_1$ . Обозначим  $E$  его точку пересечения с отрезком  $DA_1$ . Прямая  $AE$  перпендикулярна прямым  $DA_1$  и  $DC$ . Следовательно, она перпендикулярна плоскости  $CDA_1$ . Значит, отрезок  $AE$  является

искомым перпендикуляром, опущенным из точки  $A$  на плоскость  $CDA_1$ . Его длина равна  $\frac{\sqrt{2}}{2}$ . Значит, расстояние от вершины  $A$  единичного куба до плоскости  $CDA_1$  равно  $\frac{\sqrt{2}}{2}$ .

## Вопросы

1. Что называется перпендикуляром, опущенным из точки на плоскость?
2. Что называется расстоянием от точки до плоскости?

## Задачи

### А

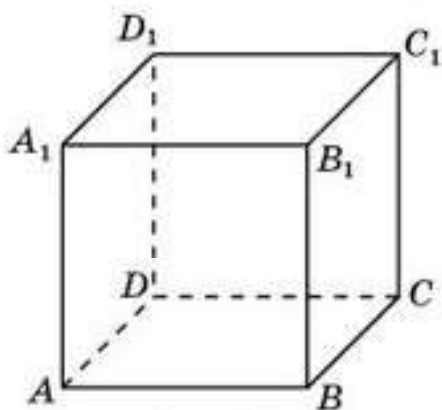


Рис. 12.7

- 12.1. В прямоугольном параллелепипеде  $ABCD A_1 B_1 C_1 D_1$   $AB = 5$ ,  $AD = 4$ ,  $AA_1 = 3$ . Найдите диагональ  $AC_1$ .
- 12.2. В единичном кубе  $ABCD A_1 B_1 C_1 D_1$  (рис. 12.7) найдите расстояние от вершины  $A$  до плоскости: а)  $BCC_1$ ; б)  $BCD_1$ .
- 12.3. Найдите высоту правильной четырехугольной пирамиды  $SABCD$  (рис. 12.3), все ребра которой равны 1.

### В

- 12.4. В правильной шестиугольной призме  $ABCDEF A_1 B_1 C_1 D_1 E_1 F_1$  все ребра равны 1 (рис. 12.8). Найдите расстояние от вершины  $A$  до плоскости: а)  $BDD_1$ ; б)  $BEE_1$ ; в)  $BFF_1$ ; г)  $BCC_1$ ; д)  $CDD_1$ ; е)  $CEE_1$ ; ж)  $FFF_1$ .
- 12.5. В правильной шестиугольной призме  $ABCDEF A_1 B_1 C_1 D_1 E_1 F_1$  все ребра равны 1 (рис. 12.8). Найдите расстояние между вершинами: а)  $A$  и  $C_1$ ; б)  $A$  и  $D_1$ .



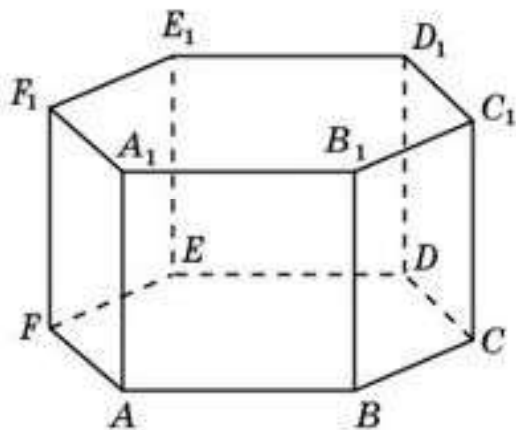


Рис. 12.8

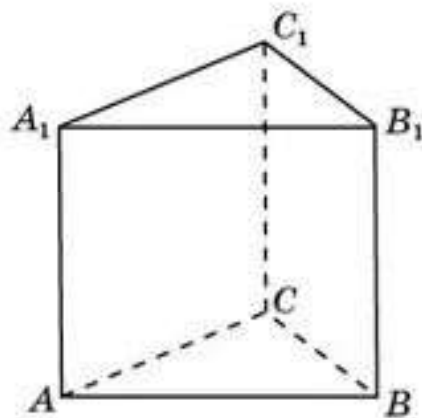


Рис. 12.9

- 12.6.** В правильной шестиугольной призме  $ABCDEF A_1 B_1 C_1 D_1 E_1 F_1$  все ребра равны 1 (рис. 12.8). Найдите расстояние от вершины  $A$  до прямой: а)  $BD_1$ ; б)  $CD_1$ .
- 12.7.** Стороны основания правильной треугольной призмы  $ABCDA_1 B_1 C_1$  равны 1 (рис. 12.9). Найдите расстояние от вершины  $A$  этой призмы до плоскости  $BCC_1$ .
- 12.8.** Гранями многогранника являются многоугольники с прямыми углами (рис. 12.10). Найдите расстояние между вершинами: а)  $A$  и  $C_1$ ; б)  $A$  и  $D_1$ ; в)  $A$  и  $C_2$ ; г)  $B$  и  $D_1$ ; д)  $B$  и  $D_2$ .
- 12.9.** Гранями многогранника являются многоугольники с прямыми углами (рис. 12.10). Найдите расстояние от вершины  $A$  до прямой: а)  $B_1 C_1$ ; б)  $A_1 D_1$ ; в)  $B_2 C_2$ .
- 12.10.** Основанием прямой четырехугольной призмы является ромб со стороной 3 и острым углом  $60^\circ$ . Боковое ребро призмы равно 4. Найдите меньшую диагональ призмы (рис. 12.11).

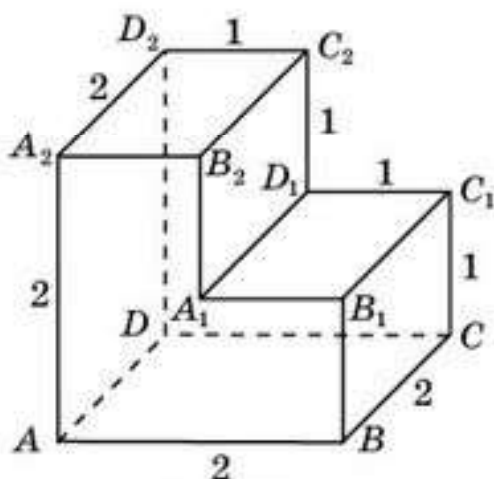


Рис. 12.10

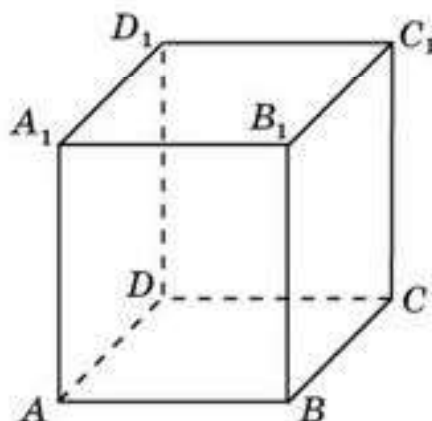


Рис. 12.11

- 12.11.** Постройте высоту правильной шестиугольной пирамиды  $SABCDEF$  (рис. 12.12).

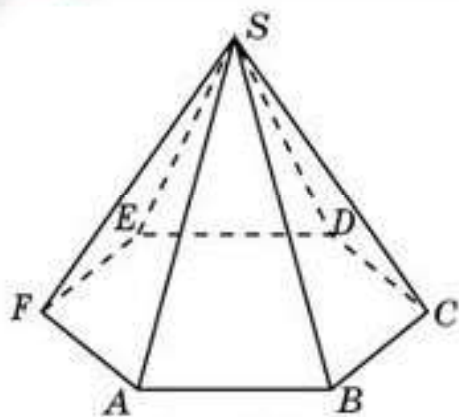


Рис. 12.12

**12.12.** Найдите высоту правильной шестиугольной пирамиды, стороны основания которой равны 1, а боковые ребра равны 2 (рис. 12.12).

**С**

**12.13.** В правильной шестиугольной призме  $ABCDEF A_1 B_1 C_1 D_1 E_1 F_1$  все ребра равны 1 (рис. 12.8). Найдите расстояние от вершины  $A$  до прямой: а)  $BE_1$ ; б)  $CE_1$ .

**12.14.** В единичном кубе  $ABCD A_1 B_1 C_1 D_1$  (рис. 12.7) найдите расстояние от вершины  $B$  до плоскости  $ACB_1$ .

**12.15.** Постройте высоту правильной треугольной пирамиды  $SABC$  (рис. 12.13).

**12.16.** Найдите высоту правильной треугольной пирамиды, все ребра которой равны 1 (рис. 12.13).

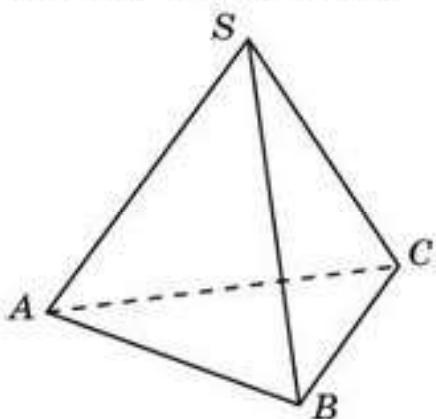


Рис. 12.13



Рис. 12.14

**12.17.** Дворец мира и согласия в г. Нур-Султане имеет форму правильной четырехугольной пирамиды (рис. 12.14), в которой высота равна стороне основания и составляет 62 м. Найдите длину бокового ребра этой пирамиды.

## Подготовьтесь к овладению новым знаниями

**12.18.** Определите понятие расстояния между параллельными прямой и плоскостью.

**12.19.** Для единичного куба  $ABCD A_1 B_1 C_1 D_1$  найдите расстояние между прямой  $A_1 C_1$  и плоскостью  $ABC$ .

**12.20.** Определите понятие расстояния между двумя параллельными плоскостями.

**12.21.** Для единичного куба  $ABCD A_1 B_1 C_1 D_1$  найдите расстояние между плоскостями  $A_1 B_1 C_1$  и  $ABC$ .



### § 13. Расстояния между параллельными прямой и плоскостью и между двумя параллельными плоскостями

Пусть дана прямая и параллельная ей плоскость. *Расстоянием между параллельными прямой и плоскостью* называется расстояние от какой-нибудь точки данной прямой до данной плоскости (рис. 13.1).

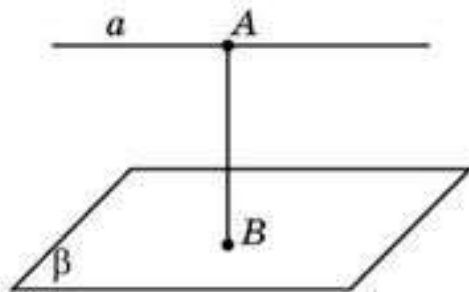


Рис. 13.1

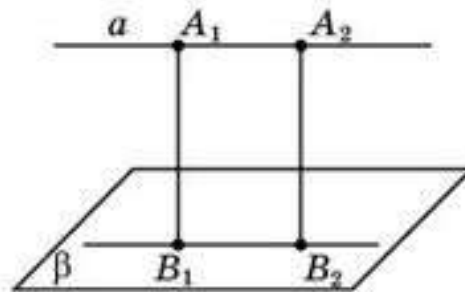
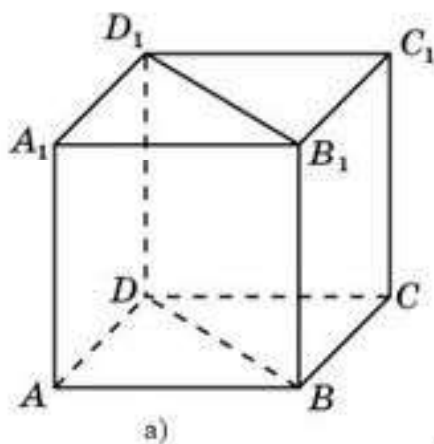


Рис. 13.2

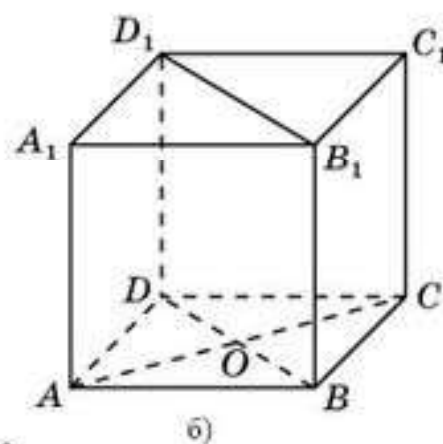
**Теорема.** *Расстояние между параллельными прямой и плоскостью не зависит от выбора точки на данной прямой.*

**Доказательство.** Пусть  $A_1, A_2$  — две точки прямой  $a$ , параллельной плоскости  $\beta$  (рис. 13.2),  $B_1, B_2$  — основания перпендикуляров, опущенных из этих точек на данную плоскость. В силу свойства 3 пункта 11 перпендикуляры  $A_1B_1$  и  $A_2B_2$  параллельны. Прямая  $B_1B_2$  является линией пересечения плоскости  $\beta$  с плоскостью, определяемой этими перпендикулярами. Следовательно, прямая  $B_1B_2$  параллельна прямой  $a$ . Таким образом, четырехугольник  $A_1A_2B_2B_1$  — параллелограмм (прямоугольник). Значит,  $A_1B_1 = A_2B_2$ .  $\square$

**Пример 1.** В единичном кубе  $ABCD A_1B_1C_1D_1$  (рис. 13.3, а) найдите расстояние между прямой  $AA_1$  и плоскостью  $BDD_1$ .



а)



б)

Рис. 13.3

**Решение.** Диагональ  $AC$  грани  $ABCD$  куба перпендикулярна плоскости  $BDD_1$ . Обозначим  $O$  точку пересечения этой диагонали с плоскостью  $BDD_1$  (рис. 13.3, б). Расстояние между прямой  $AA_1$  и плоскостью  $BDD_1$  равно длине отрезка  $AO$  и равно  $\frac{\sqrt{2}}{2}$ .

Расстоянием между двумя параллельными плоскостями называется расстояние от какой-нибудь точки одной плоскости до другой плоскости (рис. 13.4).

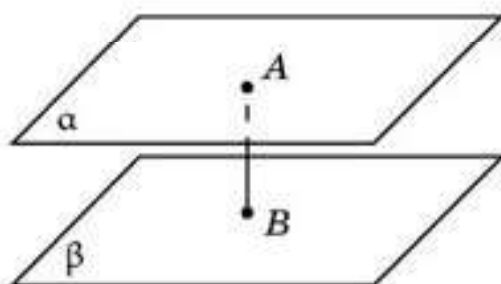


Рис. 13.4

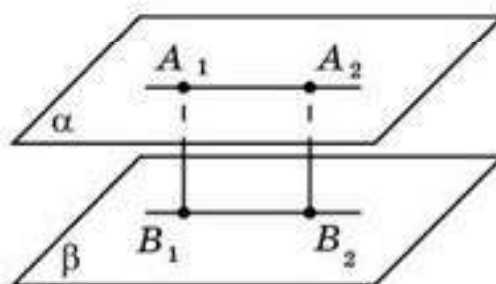
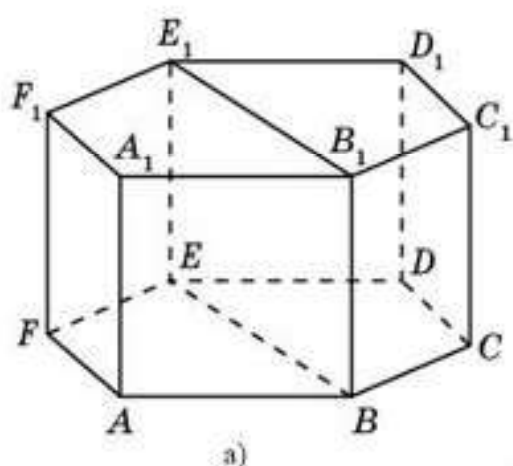


Рис. 13.5

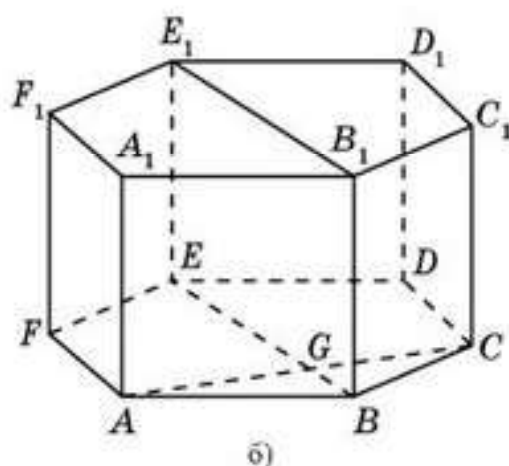


Докажите самостоятельно, что расстояние между параллельными плоскостями не зависит от выбора точки на данной плоскости (рис. 13.5).

**Пример 2.** В правильной шестиугольной призме  $ABCDEF A_1 B_1 C_1 D_1 E_1 F_1$  все ребра равны 1. Найдите расстояние между плоскостями  $AFF_1$  и  $BEE_1$  (рис. 13.6, а).



а)



б)

Рис. 13.6

**Решение.** Диагональ  $AC$  грани  $ABCDEF$  призмы перпендикулярна плоскости  $BEE_1$ . Обозначим  $G$  точку пересечения этой диагонали с плоскостью  $BEE_1$  (рис. 13.6, б). Расстояние между плоскостями  $AFF_1$  и  $BEE_1$  равно длине отрезка  $AG$  и равно  $\frac{\sqrt{3}}{2}$ .

## Вопросы

1. Что называется расстоянием между параллельными прямой и плоскостью?
2. Как найти расстояние между параллельными прямой и плоскостью?
3. Что называется расстоянием между параллельными плоскостями?



Задачи

A

- 13.1. В единичном кубе  $ABCD A_1 B_1 C_1 D_1$  (рис. 13.7) найдите расстояние между: а) прямой  $AA_1$  и плоскостью  $BCC_1$ ; б) прямой  $AB_1$  и плоскостью  $CDD_1$ .

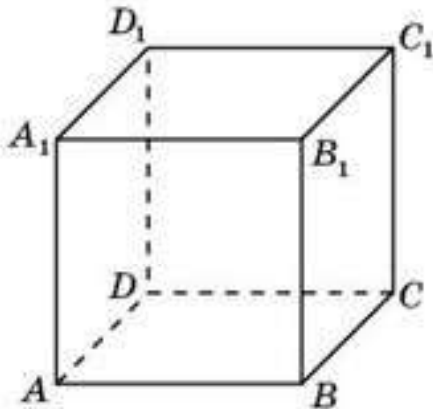


Рис. 13.7

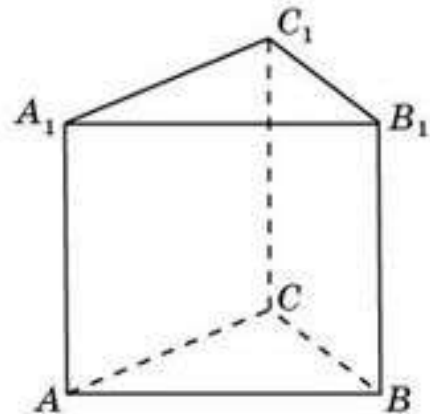


Рис. 13.8

- 13.2. В правильной треугольной призме  $ABCA_1B_1C_1$  все ребра равны 1 (рис. 13.8). Найдите расстояние между прямой  $AA_1$  и плоскостью  $BCC_1$ .
- 13.3. В правильной шестиугольной призме  $ABCDEF A_1 B_1 C_1 D_1 E_1 F_1$  все ребра равны 1 (рис. 13.9). Найдите расстояние между прямой  $AA_1$  и плоскостью: а)  $BCC_1$ ; б)  $CDD_1$ ; в)  $DEE_1$ ; г)  $BDD_1$ ; д)  $BEE_1$ ; е)  $BFF_1$ ; ж)  $CEE_1$ ; з)  $FFF_1$ .

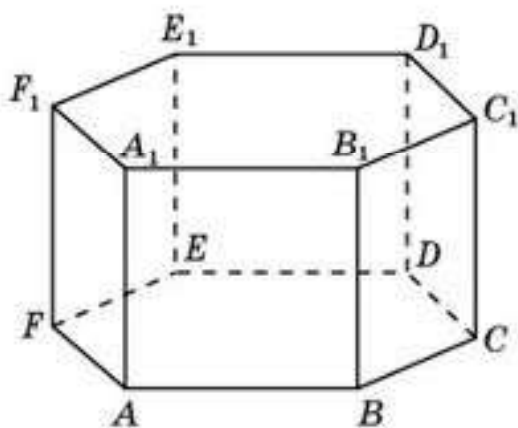


Рис. 13.9

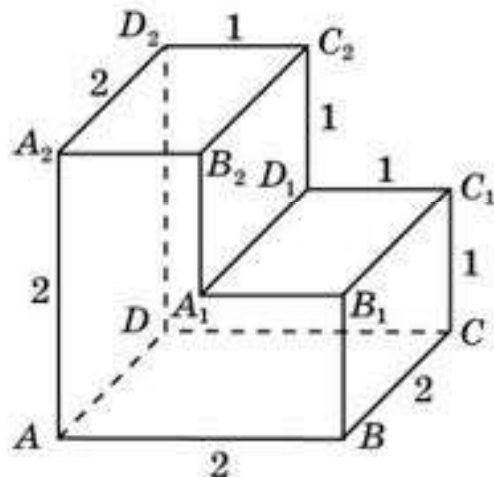


Рис. 13.10

- 13.4. Гранями многогранника являются многоугольники с прямыми углами (рис. 13.10). Найдите расстояние между плоскостями: а)  $ABB_1$  и  $CDD_2$ ; б)  $ADD_2$  и  $BCC_1$ ; в)  $ADD_2$  и  $A_1D_1C_2$ ; г)  $ABC$  и  $A_1B_1C_1$ .

**В**

- 13.5. В единичном кубе  $ABCD A_1 B_1 C_1 D_1$  найдите расстояние между:  
 а) прямой  $BB_1$  и плоскостью  $ACC_1$ ; б) прямой  $AB$  и плоскостью  $CDA_1$ .
- 13.6. В правильной шестиугольной призме  $ABCDEF A_1 B_1 C_1 D_1 E_1 F_1$  все ребра равны 1. Найдите расстояние между плоскостями: а)  $ABB_1$  и  $DEE_1$ ; б)  $ABB_1$  и  $CCF_1$ ; в)  $ACC_1$  и  $FDD_1$ .

**С**

- 13.7. В правильной четырехугольной пирамиде  $SABCD$  (рис. 13.11), все ребра которой равны 1, найдите расстояние между прямой  $BC$  и плоскостью  $SAD$ .
- 13.8. В правильной шестиугольной пирамиде  $SABCDEF$  (рис. 13.12), стороны основания которой равны 1, а боковые ребра равны 2, найдите расстояние между прямой  $CD$  и плоскостью  $SAF$ .

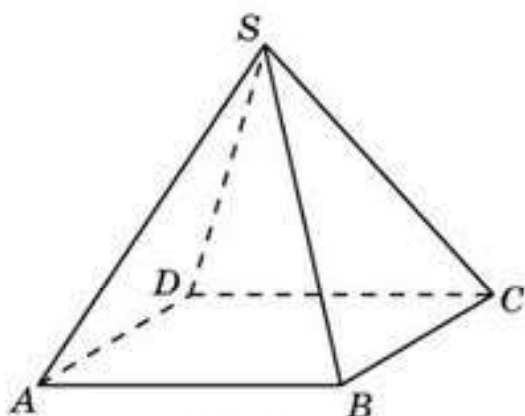


Рис. 13.11

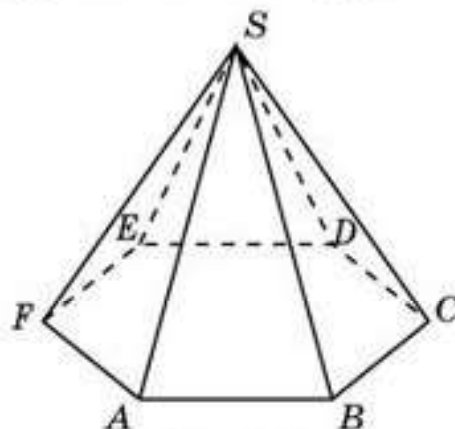


Рис. 13.12

- 13.9. В единичном кубе  $ABCD A_1 B_1 C_1 D_1$  найдите расстояние между плоскостями  $ACB_1$  и  $DC_1 A_1$ .
- 13.10. В единичном кубе  $ABCD A_1 B_1 C_1 D_1$  точка  $O$  — точка пересечения диагоналей грани  $ABCD$ . Найдите расстояние между прямой  $OB_1$  и плоскостью  $DA_1 C_1$ .
- 13.11. В правильной треугольной призме  $ABCA_1 B_1 C_1$  все ребра равны 1. Найдите расстояние между прямой  $AB$  и плоскостью  $CA_1 B_1$ .
- 13.12. В правильной шестиугольной призме  $ABCDEF A_1 B_1 C_1 D_1 E_1 F_1$  все ребра равны 1 (рис. 13.9). Найдите расстояние между плоскостями  $ACB_1$  и  $ED_1 F_1$ .

**Подготовьтесь к овладению этими знаниями**

- 13.13. Попробуйте определить понятие расстояния между двумя скрещивающимися прямыми.
- 13.14. Для единичного куба  $ABCD A_1 B_1 C_1 D_1$  найдите расстояние между прямыми  $AB$  и  $B_1 C_1$ .



### § 14. Расстояние между двумя прямыми

Напомним, что в планиметрии *расстоянием между двумя параллельными прямыми* называлось расстояние от какой-нибудь точки одной прямой до другой прямой.

Поскольку две параллельные прямые в пространстве лежат в одной плоскости, то это определение подходит и для пространства.

*Расстоянием между двумя параллельными прямыми в пространстве* называется расстояние от какой-нибудь точки одной прямой до другой прямой (рис. 14.1).

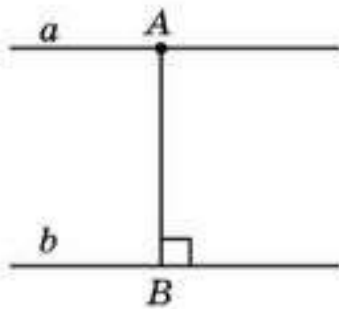


Рис. 14.1

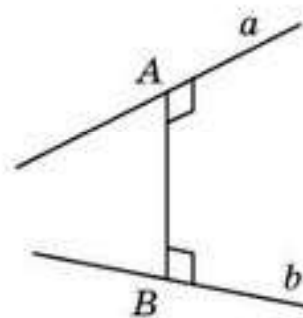


Рис. 14.2

Определим теперь понятие расстояния между двумя скрещивающимися прямыми в пространстве.

Отрезок, соединяющий точки на скрещивающихся прямых и перпендикулярный этим прямым, называется их *общим перпендикуляром*. Длина общего перпендикуляра называется *расстоянием между скрещивающимися прямыми* (рис. 14.2).

**Пример 1.** Для единичного куба  $ABCD A_1 B_1 C_1 D_1$  (рис. 14.3) найдите расстояние между скрещивающимися прямыми  $AA_1$  и  $BD_1$ .

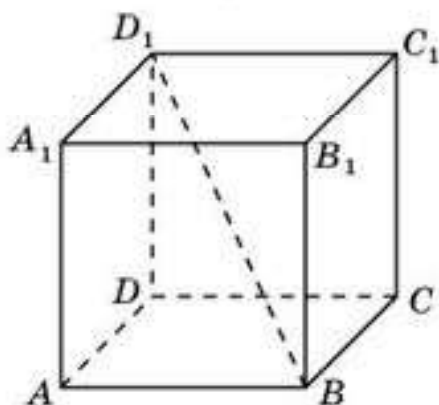


Рис. 14.3

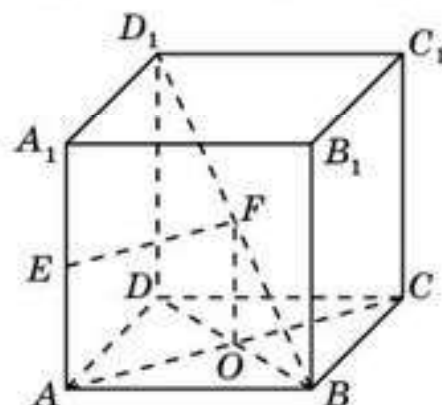


Рис. 14.4

*Решение.* Общим перпендикуляром для данных прямых является отрезок  $EF$ , соединяющий середины отрезков  $AA_1$  и  $BD_1$  (рис. 14.4). Действительно, отрезок  $EF$  параллелен прямой  $AC$ , которая перпенди-

кулярна прямой  $AA_1$  и плоскости  $BDD_1$ . Следовательно, она перпендикулярна и прямой  $BD_1$ , лежащей в этой плоскости. Общий перпендикуляр  $EF$  равен отрезку  $AO$ , следовательно, равен  $\frac{\sqrt{2}}{2}$ .

Понятие расстояния между параллельными прямой и плоскостью можно использовать для нахождения расстояния между двумя скрещивающимися прямыми.

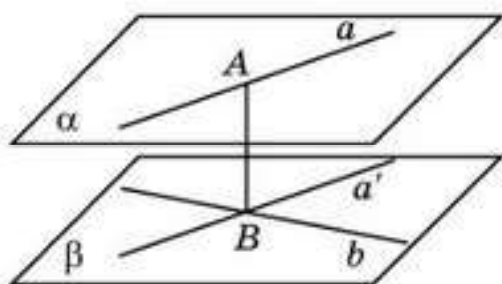


Рис. 14.5

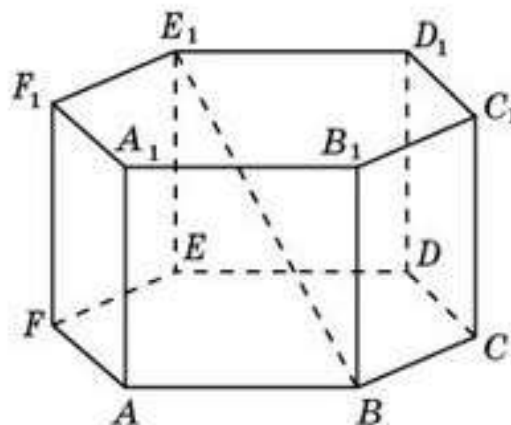


Рис. 14.6

Пусть  $a$  и  $b$  — две скрещивающиеся прямые. Через какую-нибудь точку прямой  $b$  проведем прямую  $a'$ , параллельную прямой  $a$ . Эта прямая и прямая  $b$  определяют плоскость  $\beta$ , которая будет параллельна прямой  $a$  (рис. 14.5). Общий перпендикуляр  $AB$  к данным скрещивающимся прямым будет перпендикулярен плоскости  $\beta$ . Следовательно, его длина будет равна расстоянию между прямой  $a$  и плоскостью  $\beta$ .



Докажите, что расстояние между скрещивающимися прямыми  $a$  и  $b$  равно расстоянию между параллельными плоскостями  $\alpha$  и  $\beta$ , в которых лежат эти прямые (рис. 14.5).

**Пример 2.** У правильной шестиугольной призмы  $ABCDEF A_1B_1C_1D_1E_1F_1$  (рис. 14.6) все ребра равны 1. Найдите расстояние между прямыми  $AA_1$  и  $BE_1$ .

*Решение.* Прямая  $AA_1$  параллельна плоскости  $BEE_1$ . Следовательно, расстояние между прямыми  $AA_1$  и  $BE_1$  равно расстоянию между прямой  $AA_1$  и плоскостью  $BEE_1$ . Как было показано в предыдущем пункте, это расстояние равно  $\frac{\sqrt{3}}{2}$ .

## Вопросы

1. Что называется расстоянием между двумя параллельными прямыми?
2. Что называется общим перпендикуляром для двух скрещивающихся прямых?
3. Что называется расстоянием между двумя скрещивающимися прямыми?



Задачи

A

- 14.1. Для единичного куба  $ABCD A_1 B_1 C_1 D_1$  (рис. 14.7) найдите расстояние между прямыми: а)  $AA_1$  и  $BB_1$ ; б)  $AA_1$  и  $CC_1$ ; в)  $AA_1$  и  $BC$ ; г)  $AA_1$  и  $CD$ ; д)  $AA_1$  и  $BC_1$ ; е)  $AA_1$  и  $CD_1$ ; ж)  $AA_1$  и  $BD$ ; з)  $AB_1$  и  $CD_1$ .

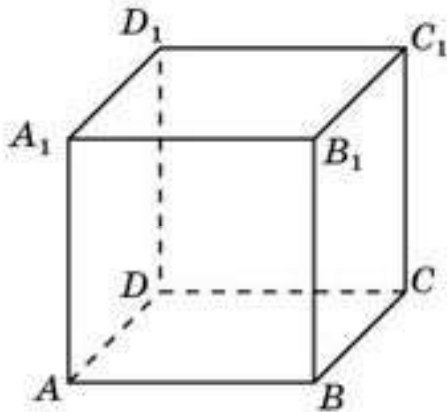


Рис. 14.7

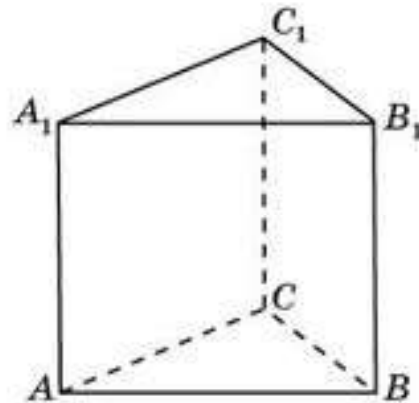


Рис. 14.8

- 14.2. У правильной треугольной призмы  $ABCA_1 B_1 C_1$  (рис. 14.8) все ребра равны 1. Найдите расстояние между прямыми: а)  $AA_1$  и  $BC$ ; б)  $AB$  и  $A_1 C_1$ .
- 14.3. У правильной шестиугольной призмы  $ABCDEF A_1 B_1 C_1 D_1 E_1 F_1$  (рис. 14.9) все ребра равны 1. Найдите расстояние между прямыми: а)  $AB$  и  $A_1 B_1$ ; б)  $AB$  и  $B_1 C_1$ ; в)  $AA_1$  и  $CC_1$ ; г)  $AA_1$  и  $DD_1$ .

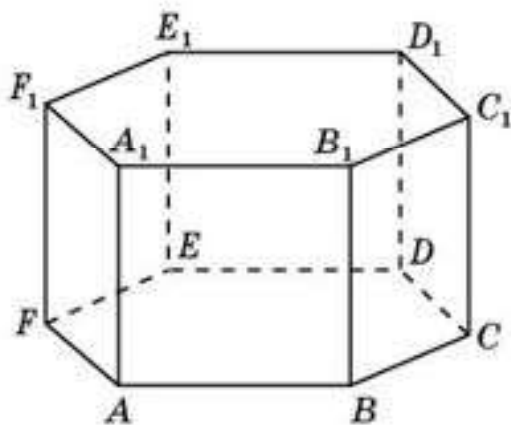


Рис. 14.9

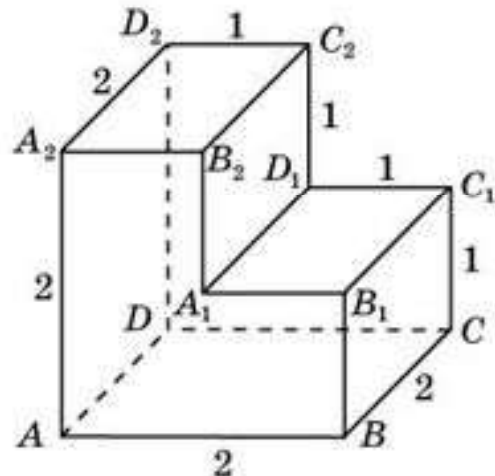


Рис. 14.10

- 14.4. Гранями многогранника являются многоугольники с прямыми углами (рис. 14.10). Найдите расстояние между прямыми: а)  $AB$  и  $C_1 D_1$ ; б)  $AB$  и  $C_2 D_2$ ; в)  $AA_2$  и  $CC_1$ ; г)  $AA_2$  и  $D_1 C_2$ .

**В**

- 14.5. Для единичного куба  $ABCD A_1 B_1 C_1 D_1$  (рис. 14.7) найдите расстояние между прямыми  $AC_1$  и  $BC$ .
- 14.6. У правильной треугольной призмы  $ABCA_1 B_1 C_1$  (рис. 14.8) все ребра равны 1. Найдите расстояние между прямыми  $AA_1$  и  $BC_1$ .
- 14.7. У правильной шестиугольной призмы  $ABCDEF A_1 B_1 C_1 D_1 E_1 F_1$  (рис. 14.9) все ребра равны 1. Найдите расстояние между прямыми: а)  $AA_1$  и  $B_1 C_1$ ; б)  $AA_1$  и  $C_1 D_1$ ; в)  $AA_1$  и  $CD_1$ ; г)  $AA_1$  и  $DE_1$ ; д)  $AA_1$  и  $BD_1$ .
- 14.8. Гранями многогранника являются многоугольники с прямыми углами (рис. 14.10). Найдите расстояние между прямыми: а)  $AA_2$  и  $B_1 C_1$ ; б)  $AA_2$  и  $A_1 D_1$ ; в)  $AB_1$  и  $CC_1$ ; г)  $AB$  и  $D_1 C_2$ ; д)  $A_2 B_2$  и  $CC_1$ .

**С**

- 14.9. Для единичного куба  $ABCD A_1 B_1 C_1 D_1$  (рис. 14.7) найдите расстояние между прямыми: а)  $AB_1$  и  $BD_1$ ; б)  $AB_1$  и  $DA_1$ .

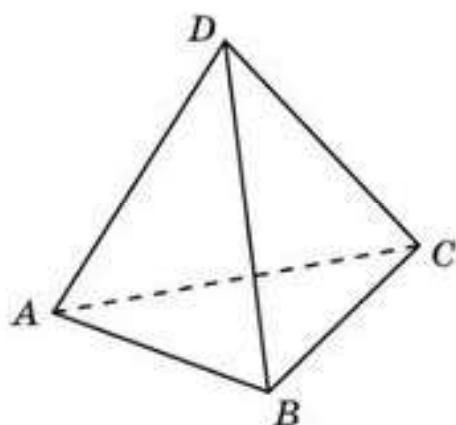


Рис. 14.11

- 14.10. У тетраэдра  $ABCD$  (рис. 14.11) все ребра равны 1. Найдите расстояние между прямыми  $AB$  и  $CD$ .
- 14.11. У правильной шестиугольной призмы  $ABCDEF A_1 B_1 C_1 D_1 E_1 F_1$  (рис. 14.9) все ребра равны 1. Найдите расстояние между прямыми: а)  $AA_1$  и  $CE_1$ ; б)  $AA_1$  и  $CF_1$ ; в)  $AB_1$  и  $DE_1$ ; г)  $AB_1$  и  $CF_1$ .
- 14.12. В правильной шестиугольной пирамиде  $SABCDEF$ , стороны основания которой равны 1, а боковые ребра равны 2, найдите расстояние между прямыми  $SA$  и: а)  $BC$ ; б)  $CD$ .

- 14.13. Докажите, что для любых двух скрещивающихся прямых общий перпендикуляр существует.
- 14.14. Докажите, что для любых двух скрещивающихся прямых общий перпендикуляр единственен.

**Подготовьтесь к овладению новым знаниями**

- 14.15. По аналогии с понятием наклонной к прямой на плоскости определите понятие наклонной к плоскости в пространстве.
- 14.16. Для куба  $ABCD A_1 B_1 C_1 D_1$  укажите какие-нибудь наклонные к плоскости  $ABC$ .
- 14.17. Как связаны между собой перпендикуляр и наклонная, проведенные из одной точки к плоскости.



## § 15. Ортогональное проектирование

Зафиксируем некоторую плоскость  $P$ . Для произвольной точки  $A$  пространства проведем прямую  $a$ , перпендикулярную данной плоскости. Точка  $A'$  пересечения этой прямой с данной плоскостью называется *ортогональной проекцией* точки  $A$  на плоскость (рис. 15.1).

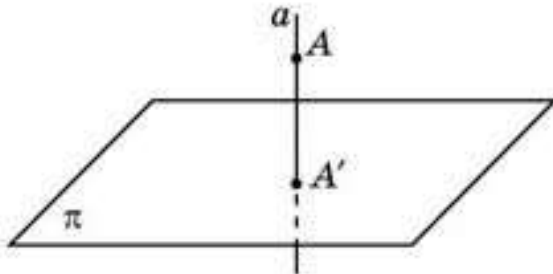


Рис. 15.1

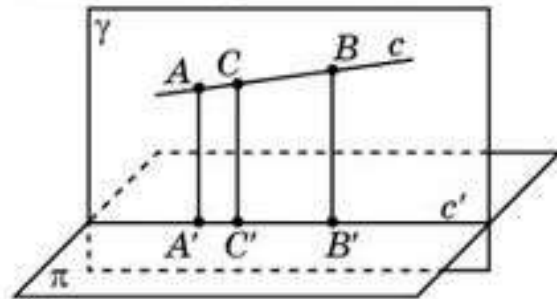


Рис. 15.2

Соответствие, при котором точкам пространства сопоставляются их ортогональные проекции на данную плоскость, называется *ортогональным проектированием* на эту плоскость. Сама плоскость называется *плоскостью проектирования*.

Рассмотрим некоторые свойства ортогонального проектирования.

**Свойство 1.** *Ортогональное проектирование переводит прямые, не перпендикулярные плоскости проектирования, в прямые, а прямые, перпендикулярные плоскости проектирования, — в точки.*

**Доказательство.** Пусть прямая  $c$  не перпендикулярна плоскости проектирования  $P$  (рис. 15.2). Рассмотрим какие-нибудь точки  $A, B$ , принадлежащие прямой  $c$ . Проведем через них прямые, перпендикулярные плоскости  $P$ . Обозначим  $A', B'$  их точки пересечения с плоскостью  $P$  соответственно. Так как проведенные прямые параллельны, то они лежат в одной плоскости. Обозначим ее  $Q$ . Пусть  $c'$  — линия пересечения этой плоскости с плоскостью  $P$ . Докажем, что прямая  $c'$  является ортогональной проекцией прямой  $c$ . Действительно, для любой точки  $C$ , принадлежащей прямой  $c$ , прямая, проходящая через эту точку и перпендикулярная плоскости  $P$ , будет лежать в плоскости  $Q$ . Следовательно, ее точка пересечения с плоскостью  $P$  будет принадлежать прямой  $c'$ . Значит, ортогональная проекция точки  $C$  принадлежит прямой  $c'$ . Обратно, если точка  $C'$  принадлежит прямой  $c'$ , то прямая, проходящая через эту точку и перпендикулярная плоскости  $P$ , будет лежать в плоскости  $Q$ . Следовательно, она будет пересекать прямую  $c$  в некоторой точке  $C$ . Ее ортогональной проекцией будет точка  $C'$ .

Ясно, что если прямая перпендикулярна плоскости  $P$  (рис. 15.1), то ее ортогональной проекцией является точка.  $\square$



Самостоятельно докажете, что ортогональное проектирование переводит отрезки, не перпендикулярные плоскости проектирования, в отрезки.



Как вы думаете, сохраняет ли ортогональное проектирование длины отрезков?

**Свойство 2.** Ортогональное проектирование сохраняет отношение отрезков, лежащих на прямой, не перпендикулярной плоскости проектирования. В частности, середина отрезка проектируется в середину проекции этого отрезка.

**Доказательство.** Пусть точки  $A, B, C$  принадлежат прямой  $c$ , не перпендикулярной плоскости  $P$ .  $A', B', C'$  — соответственно их ортогональные проекции, принадлежащие ортогональной проекции  $c'$  прямой  $c$  на плоскость  $P$  (рис. 15.3). Так как прямые  $AA', BB', CC'$  параллельны, то по теореме о пропорциональных отрезках имеет место равенство отношений

$$\frac{AC}{CB} = \frac{A'C'}{C'B'}. \quad \square$$

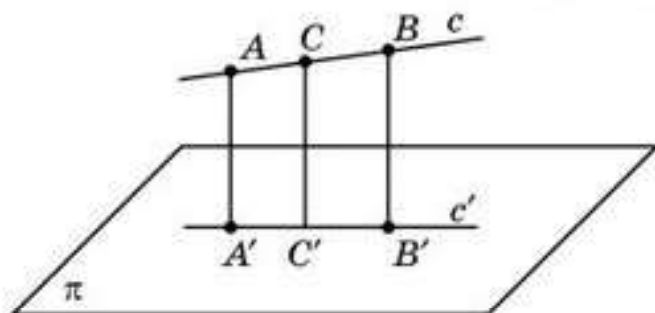


Рис. 15.3

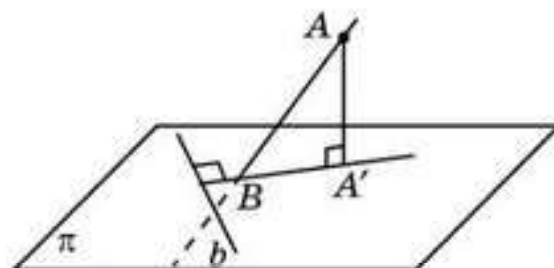


Рис. 15.4

Прямую, не перпендикулярную плоскости, будем называть *наклонной*.

*Наклонной* называется также отрезок, соединяющий точку, не принадлежащую плоскости, с точкой этой плоскости, не являющийся перпендикуляром.

**Теорема (о трех перпендикулярах).** Если прямая, лежащая в плоскости, перпендикулярна ортогональной проекции наклонной к этой плоскости, то она перпендикулярна и самой наклонной.

**Доказательство.** Пусть  $AA'$  — перпендикуляр к плоскости  $P$ ,  $AB$  — наклонная,  $A'B$  — ортогональная проекция наклонной (рис. 15.4).

Так как прямая  $AA'$  перпендикулярна плоскости  $P$ , то любая прямая  $b$ , лежащая в плоскости  $P$ , будет перпендикулярна прямой  $AA'$ .

Если, кроме этого, прямая  $b$  перпендикулярна прямой  $A'B$ , то по признаку перпендикулярности прямой и плоскости она будет перпендикулярна плоскости  $AA'B$ . Следовательно, она будет перпендикулярна любой прямой, лежащей в этой плоскости, в частности, и наклонной  $AB$ .  $\square$

**Пример.** Докажите, что в кубе  $ABCD A_1 B_1 C_1 D_1$  прямые  $AC$  и  $BD_1$  перпендикулярны (рис. 15.5).



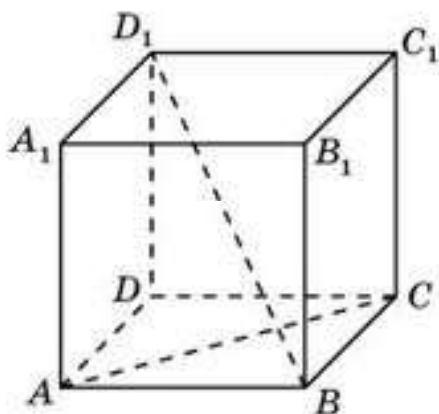


Рис. 15.5

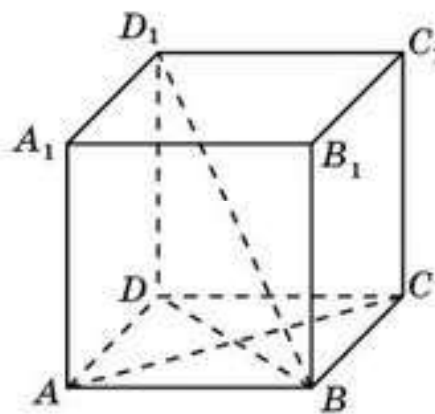


Рис. 15.6

*Решение.* Ортогональной проекцией прямой  $BD_1$  на плоскость  $ABC$  является прямая  $BD$  (рис. 15.6). Прямая  $AC$  перпендикулярна  $BD$ , следовательно, она перпендикулярна  $BD_1$ .

## Вопросы

1. Что называется ортогональной проекцией точки на плоскость?
2. Что называется ортогональным проектированием на плоскость?
3. Сформулируйте свойства ортогонального проектирования.
4. Что называется наклонной?
5. Сформулируйте теорему о трех перпендикулярах.

## Задачи

### А

- 15.1. Из точки  $A$  к данной плоскости проведены перпендикуляр  $AA'$  и наклонная  $AB$ . Найдите ортогональную проекцию отрезка  $AB$ , если  $AB = 37$  см,  $AA' = 35$  см.
- 15.2. Из точки  $A$  к данной плоскости проведены перпендикуляр  $AA'$  и наклонная  $AB$ . Найдите отрезок  $AB$ , если  $AA' = 6$  см,  $\angle A'AB = 60^\circ$ .
- 15.3. Из точки  $A$  к данной плоскости проведены перпендикуляр  $AA'$  и наклонная  $AB$ . Найдите отрезок  $AA'$ , если  $AB = 2\sqrt{10}$  см,  $A'B = 3AA'$ .
- 15.4. На какое расстояние следует отодвинуть от стены дома нижний конец лестницы, длина которой равна 13 м, чтобы верхний ее конец оказался на высоте 12 м?
- 15.5. Какой длины должна быть лестница, чтобы она достала до окна дома на высоте 8 м, если ее нижний конец отстоит от дома на 6 м?

### В

- 15.6. Отрезки двух наклонных, проведенных из одной точки к плоскости, равны 15 см и 20 см. Ортогональная проекция одного из

этих отрезков равна 16 см. Найдите ортогональную проекцию другого отрезка.

- 15.7.** Точки  $A, B, C$  расположены на одной прямой,  $A', B', C'$  — их соответствующие ортогональные проекции,  $AB = 5, BC = 10, A'C' = 12$ . Найдите  $A'B'$  и  $B'C'$ .
- 15.8.** В кубе  $ABCD A_1 B_1 C_1 D_1$  (рис. 15.7) изобразите ортогональную проекцию на плоскость  $ACC_1$  отрезка: а)  $BB_1$ ; б)  $BC_1$ ; в)  $BD_1$ .

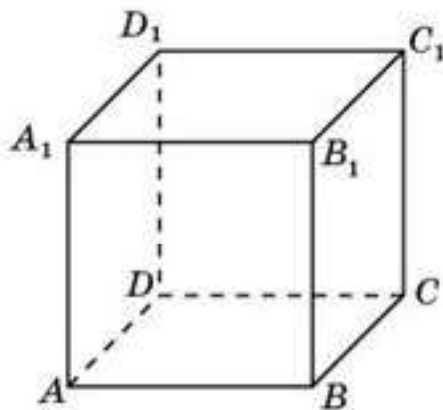


Рис. 15.7

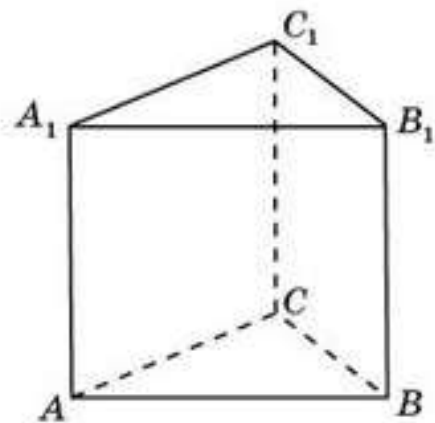


Рис. 15.8

- 15.9.** В правильной треугольной призме  $ABCA_1 B_1 C_1$  (рис. 15.8) изобразите ортогональную проекцию на плоскость  $ACC_1$  отрезка: а)  $BB_1$ ; б)  $BC$ ; в)  $BC_1$ .
- 15.10.** Докажите, что в правильной четырехугольной пирамиде  $SABCD$  (рис. 15.9) диагональ  $AC$  основания перпендикулярна скрещивающемуся с ней боковому ребру  $SB$ .

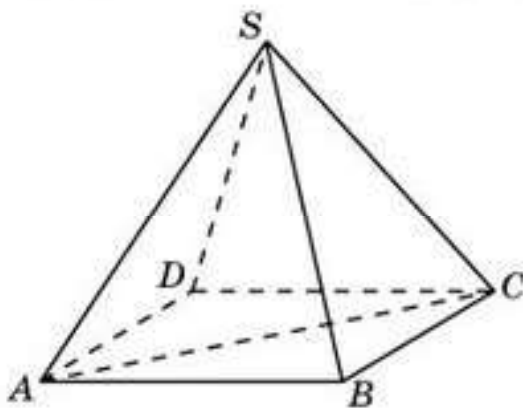


Рис. 15.9

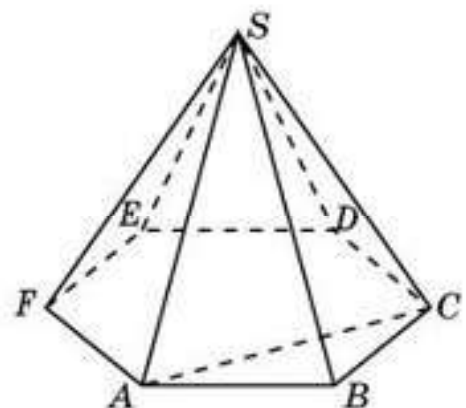


Рис. 15.10

- 15.11.** Докажите, что в кубе  $ABCD A_1 B_1 C_1 D_1$  (рис. 15.7) перпендикулярны прямые: а)  $AB_1$  и  $BD_1$ ; б)  $AC_1$  и  $BD$ ; в)  $AD_1$  и  $CA_1$ .
- 15.12.** Докажите, что в правильной шестиугольной пирамиде  $SABCDEF$  (рис. 15.10) диагональ  $AC$  основания перпендикулярна скрещивающемуся с ней боковому ребру  $SB$ .



- 15.13. Докажите, что в правильной шестиугольной призме  $ABCDEF A_1 B_1 C_1 D_1 E_1 F_1$  (рис. 15.11) перпендикулярны прямые: а)  $AC_1$  и  $BE$ ; б)  $AD_1$  и  $CE$ ; в)  $AB_1$  и  $BE_1$ .

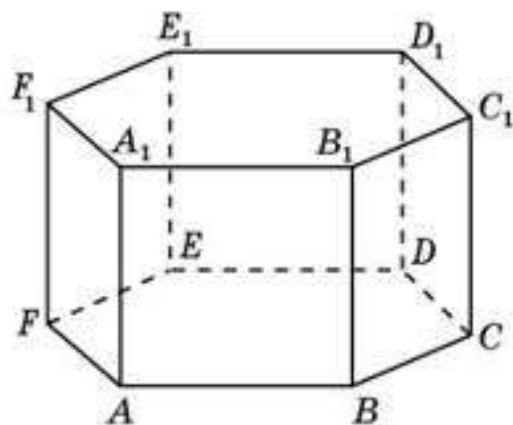


Рис. 15.11

- 15.14. Докажите, что равные наклонные, проведенные из одной точки к плоскости, имеют равные ортогональные проекции на эту плоскость.
- 15.15. Докажите, что если наклонные, проведенные из одной точки к одной плоскости, имеют равные ортогональные проекции, то равны и сами наклонные.
- 15.16. Докажите, что если боковые ребра пирамиды равны, то ее высота проходит через центр окружности, описанной около основания этой пирамиды.
- 15.17. Найдите высоту правильной пирамиды, боковое ребро которой равно  $b$ , а радиус окружности, описанной около основания, равен  $r$ .
- 15.18. Найдите геометрическое место точек, равноудаленных от двух данных точек.
- 15.19. Докажите теорему, обратную теореме о трех перпендикулярах: "Если прямая, лежащая в плоскости, перпендикулярна наклонной к этой плоскости, то она перпендикулярна ортогональной проекции этой наклонной на данную плоскость".

## Подготовка к овладению умениями

- 15.20. Дайте понятие угла между наклонной и плоскостью.
- 15.21. Для куба  $ABCD A_1 B_1 C_1 D_1$  найдите угол между наклонной  $AD_1$  и плоскостью  $ABC$ .

## § 16. Угол между прямой и плоскостью

Напомним, что ортогональное проектирование переводит прямые, не перпендикулярные плоскости проектирования (наклонные), в прямые, а прямые, перпендикулярные плоскости — в точки (рис. 16.1).

Углом между наклонной и плоскостью называется угол между этой наклонной и ее ортогональной проекцией на эту плоскость (рис. 16.1, а).

Считают, что прямая, перпендикулярная плоскости, образует с этой плоскостью прямой угол (рис. 16.1, б).

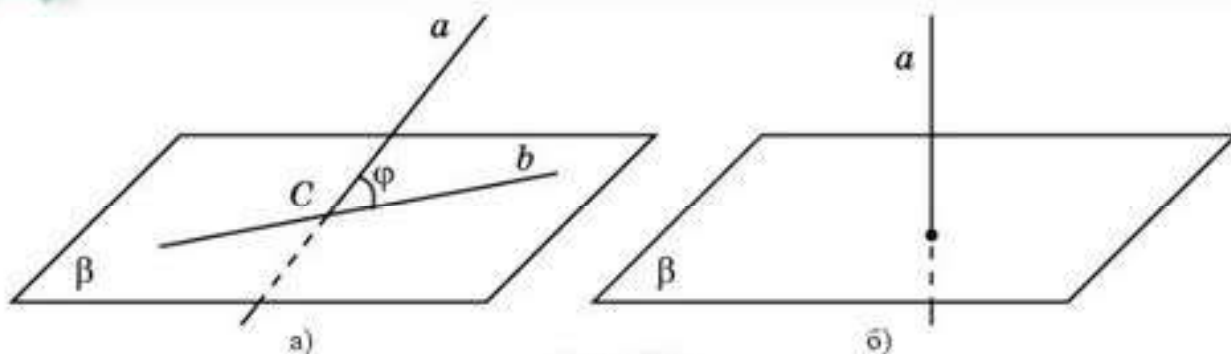


Рис. 16.1

Угол между отрезком и плоскостью называется углом между прямой, содержащей отрезок, и этой плоскостью.

**Пример.** Докажите, что в кубе  $ABCD A_1 B_1 C_1 D_1$  (рис. 16.2) прямая  $BD_1$  перпендикулярна плоскости  $ACB_1$ .

*Решение.* Ортогональной проекцией прямой  $BD_1$  на плоскость  $ABC$  является прямая  $BD$ , которая перпендикулярна прямой  $AC$  (рис. 16.3).

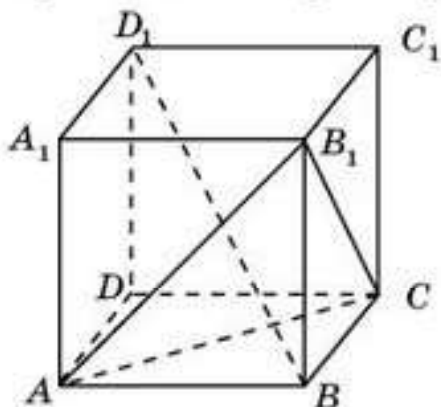


Рис. 16.2

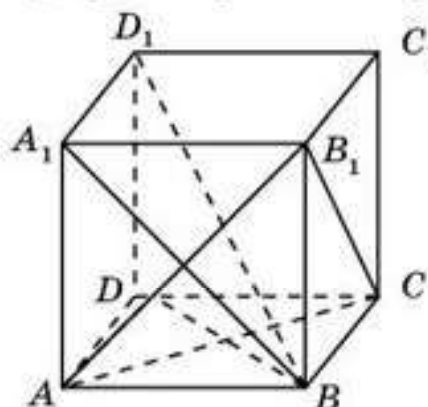


Рис. 16.3

Ортогональной проекцией прямой  $BD_1$  на плоскость  $ABB_1$  является прямая  $BA_1$ , которая перпендикулярна прямой  $AB_1$ . Таким образом, прямая  $BD_1$  перпендикулярна двум пересекающимся прямым  $AC$  и  $AB_1$  плоскости  $ACB_1$ . Следовательно, прямая  $BD_1$  перпендикулярна плоскости  $ACB_1$ .

**Теорема.** Угол между наклонной и плоскостью является наименьшим из углов между этой наклонной и прямыми, лежащими в этой плоскости.

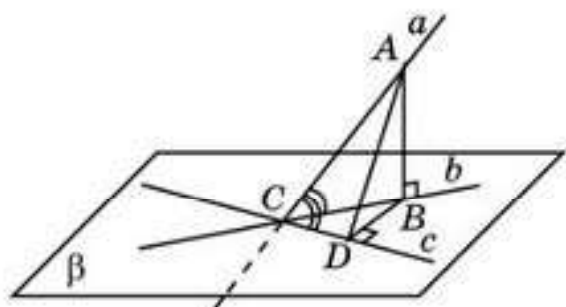


Рис. 16.4

**Доказательство.** Пусть  $a$  — наклонная к плоскости  $\beta$ ,  $b$  — ее ортогональная проекция на эту плоскость,  $c$  — прямая, лежащая в плоскости  $\beta$  и проходящая через точку  $C$  пересечения прямых  $a$  и  $b$  (рис. 16.4).

Докажем, что угол между прямыми  $a$  и  $b$  меньше угла между прямыми  $a$  и  $c$ .



Если прямая  $c$  перпендикулярна прямой  $b$ , то прямые  $a$  и  $c$  также перпендикулярны. Следовательно, угол между прямыми  $a$  и  $b$  меньше угла между прямыми  $a$  и  $c$ .

В случае, если прямая  $c$  не перпендикулярна прямой  $b$ , то отметим какую-нибудь точку  $A$  на прямой  $a$ , отличную от точки  $C$ . Обозначим  $B$  ее ортогональную проекцию на плоскость  $b$ . Из точки  $B$  опустим перпендикуляр  $BD$  на прямую  $c$ . Так как перпендикуляр  $AB$  короче наклонной  $AD$ , то синус угла  $ACB$  меньше синуса угла  $ACD$ . Следовательно, угол  $ACB$  меньше угла  $ACD$ . Значит, угол между прямыми  $a$  и  $b$  меньше угла между прямыми  $a$  и  $c$ .



Какой угол будет наибольшим углом между наклонной к плоскости и прямыми, лежащими в этой плоскости?

## Вопросы

1. Что называется углом между наклонной и плоскостью?
2. Какой угол считается углом между прямой, перпендикулярной плоскости, и этой плоскостью?
3. Что называется углом между отрезком и плоскостью?

## Задачи

А

- 16.1. В кубе  $ABCD A_1 B_1 C_1 D_1$  (рис. 16.5) найдите угол между прямой  $AB_1$  и плоскостью: а)  $ABC$ ; б)  $BCC_1$ ; в)  $BCD_1$ .
- 16.2. В кубе  $ABCD A_1 B_1 C_1 D_1$  найдите тангенс угла между прямой  $BD_1$  и плоскостью  $ABC$  (рис. 16.5).

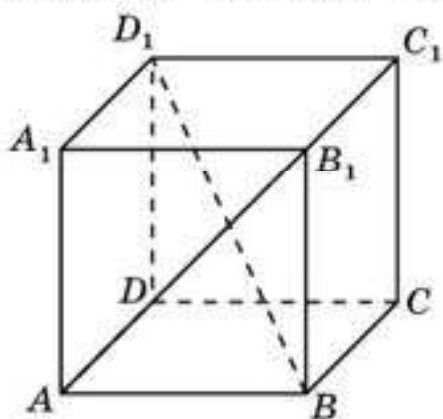


Рис. 16.5

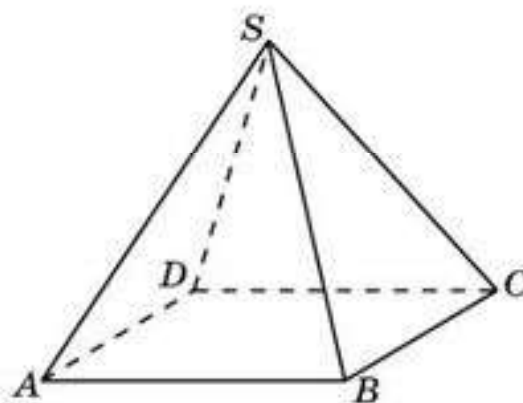


Рис. 16.6

- 16.3. В правильной четырехугольной пирамиде  $SABCD$  все ребра равны 1 (рис. 16.6). Найдите угол между прямой  $SA$  и плоскостью  $ABC$ .
- 16.4. В правильной треугольной призме  $ABCA_1 B_1 C_1$  все ребра равны 1 (рис. 16.7). Найдите угол между: а) прямой  $AB_1$  и плоскостью  $ABC$ ;

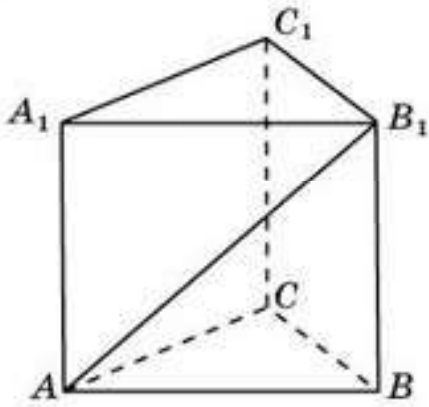


Рис. 16.7

костью  $ABC$ ; б) прямой  $AB$  и плоскостью  $BCC_1$ .

**16.5.** В правильной шестиугольной пирамиде  $SABCDEF$  стороны основания равны 1, а боковые ребра равны 2 (рис. 16.8). Найдите угол между прямой  $SA$  и плоскостью  $ABC$ .

**16.6.** В правильной шестиугольной призме  $ABCDEF A_1 B_1 C_1 D_1 E_1 F_1$  все ребра равны 1 (рис. 16.9). Найдите угол между: а) прямой  $AB_1$  и плоскостью  $ABC$ ; б) прямой  $AC$  и плоскостью  $ABC$ ; в) прямой  $AA_1$  и плоскостью  $ACD_1$ .

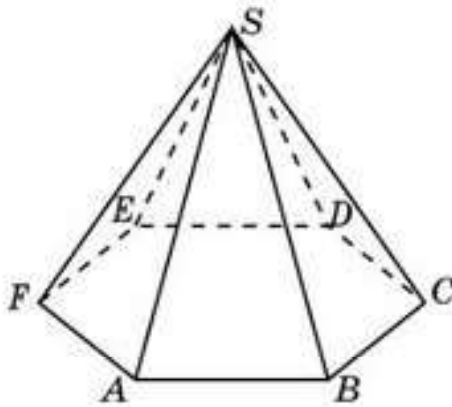


Рис. 16.8

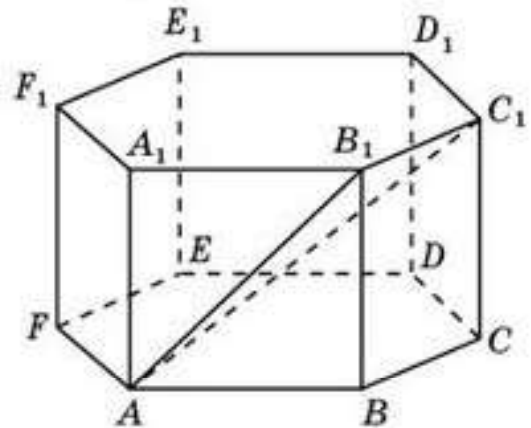


Рис. 16.9

**16.7.** В правильной четырехугольной пирамиде  $SABCD$  все ребра равны 1 (рис. 16.6). Найдите косинус угла между прямой  $AB$  и плоскостью  $SBC$ .

### В

**16.8.** В кубе  $ABCD A_1 B_1 C_1 D_1$  найдите тангенс угла между прямой  $CC_1$  и плоскостью  $AB_1 D_1$ .

**16.9.** В правильной треугольной призме  $ABC A_1 B_1 C_1$  все ребра равны 1. Найдите синус угла между прямой  $AB_1$  и плоскостью  $BCC_1$ .

**16.10.** В правильной шестиугольной призме  $ABCDEF A_1 B_1 C_1 D_1 E_1 F_1$  все ребра равны 1. Найдите синус угла между прямой  $AB_1$  и плоскостью: а)  $BCC_1$ ; б)  $CDD_1$ .

**16.11.** В правильной треугольной пирамиде  $SABC$  все ребра равны 1 (рис. 16.10). Найдите косинус угла между прямой  $SA$  и плоскостью  $ABC$ .

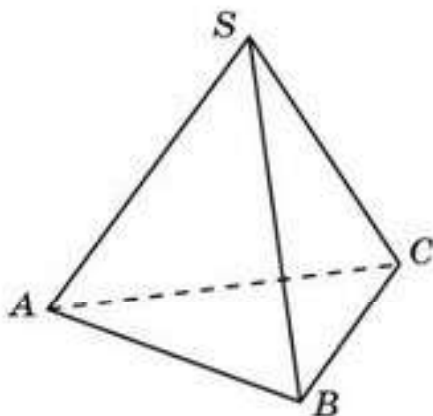


Рис. 16.10



## С

- 16.12. В кубе  $ABCD A_1 B_1 C_1 D_1$  найдите угол между прямой  $AB_1$  и плоскостью  $BC_1 D_1$ .
- 16.13. В правильной шестиугольной пирамиде  $SABCDEF$  стороны основания равны 1, а боковые ребра равны 2. Найдите косинус угла между прямой  $AB$  и плоскостью  $SBC$ .
- 16.14. В правильной треугольной призме  $ABCA_1 B_1 C_1$ , все ребра которой равны 1, точка  $D$  – середина ребра  $CC_1$ . Докажите, что прямые  $AD$  и  $A_1 B$  перпендикулярны.
- 16.15. В правильной шестиугольной призме  $ABCDEF A_1 B_1 C_1 D_1 E_1 F_1$  все ребра равны 1. Докажите, что прямая  $AD_1$  перпендикулярна плоскости  $BFA_1$ .
- 16.16. Дворец мира и согласия в г. Нур-Султане имеет форму правильной четырехугольной пирамиды (см. рис. 12.14, § 12), в которой высота равна стороне основания. Найдите тангенс угла между боковым ребром и плоскостью основания этой пирамиды.

## Подготовьтесь к овладению новыми знаниями

- 16.17. Дайте понятие угла между двумя пересекающимися плоскостями.
- 16.18. Для куба  $ABCD A_1 B_1 C_1 D_1$  найдите угол между плоскостями  $ABC_1$  и  $ABC$ .

## § 17. Двугранный угол. Угол между плоскостями

Определим понятие двугранного угла, являющегося пространственным аналогом угла на плоскости.

*Двугранным углом* называется фигура в пространстве, образованная двумя полуплоскостями с общей граничной прямой и одной из частей пространства, ограниченной этими полуплоскостями (рис. 17.1).

Полуплоскости называются *гранями* двугранного угла, а их общая ограничивающая прямая — *ребром* двугранного угла.

Пусть  $\alpha$  и  $\beta$  — полуплоскости с общей граничной прямой  $c$  (рис. 17.2). Рассмотрим плоскость  $\varrho$  перпендикулярную прямой  $c$ , и обозначим линии ее пересечения с полуплоскостями  $\alpha$  и  $\beta$  через  $a$  и  $b$  соответственно. Угол между этими лучами называется *линейным углом* данного двугранного угла.

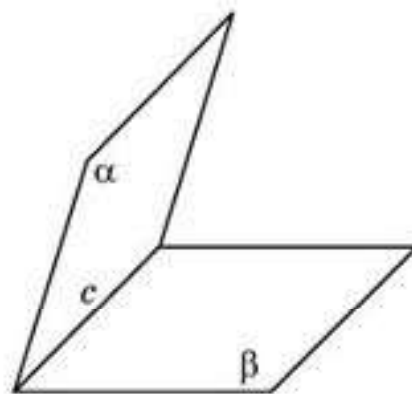


Рис. 17.1

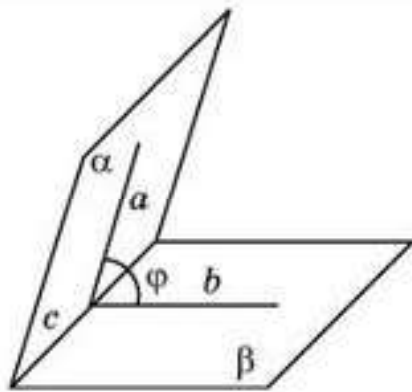


Рис. 17.2

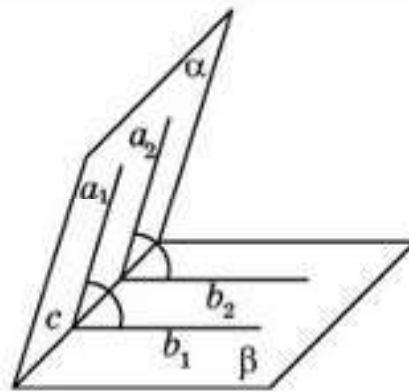


Рис. 17.3

Докажем, что величина линейного угла не зависит от выбора плоскости  $\mathcal{G}$

Действительно, пусть  $\mathcal{G}_1, \mathcal{G}_2$  — плоскости, перпендикулярные прямой  $c$  и пересекающие полуплоскости  $\alpha$  и  $\beta$  по лучам  $a_1, a_2$  и  $b_1, b_2$  соответственно (рис. 17.3). Лучи  $a_1$  и  $a_2$  сонаправлены, так как они лежат в одной полуплоскости и перпендикулярны одной и той же прямой  $c$ . Аналогично лучи  $b_1$  и  $b_2$  тоже сонаправлены. Следовательно, углы, образованные этими лучами, равны.  $\square$

Величиной двугранного угла называется величина его линейного угла (рис. 17.2).

Величина двугранного угла принадлежит промежутку  $(0^\circ; 180^\circ]$ .

Двугранный угол называют *прямым, острым* или *тупым* в зависимости от того, будет ли линейный угол этого двугранного угла прямым, острым или тупым.

**Пример 1.** Стороны основания правильной четырехугольной пирамиды  $SABCD$  равны 2, высота  $SO$  равна 1 (рис. 17.4). Найдите двугранный угол, образованный боковой гранью и основанием этой пирамиды.

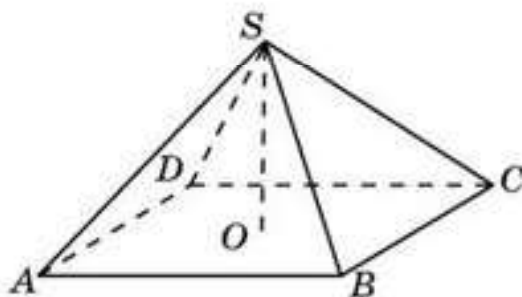


Рис. 17.4

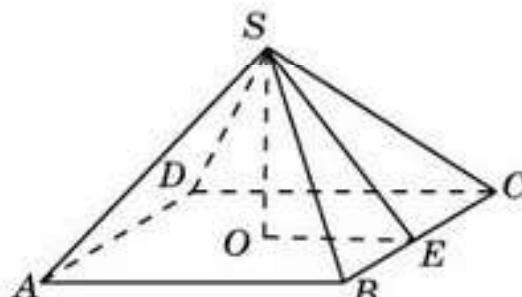


Рис. 17.5

*Решение.* Проведем высоту  $SE$  треугольника  $SBC$  (рис. 17.5). Угол  $SEO$  будет линейным углом искомого двугранного угла. В прямоугольном треугольнике  $SEO$  катеты  $SO$  и  $EO$  равны 1. Следовательно, угол  $SEO$  равен  $45^\circ$ . Значит, искомым двугранный угол равен  $45^\circ$ .



Угол между двумя пересекающимися плоскостями называется наименьший из двугранных углов, образованных соответствующими полуплоскостями этих плоскостей (рис. 17.6).

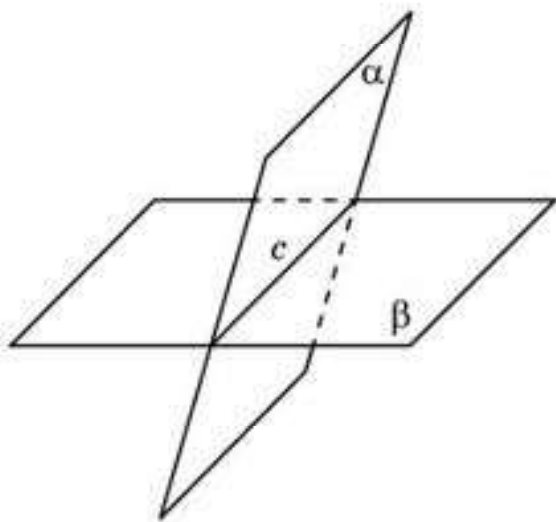


Рис. 17.6

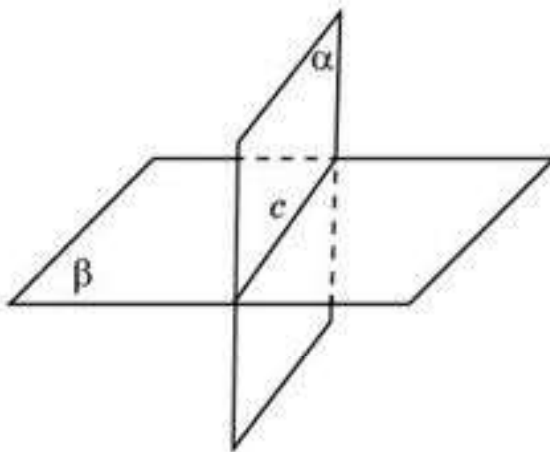


Рис. 17.7



Один из двугранных углов, образованных двумя пересекающимися плоскостями, равен  $60^\circ$ . Найдите три других двугранных угла, образованных этими плоскостями.

Две пересекающиеся плоскости называются *перпендикулярными*, если они образуют прямой угол (рис. 17.7).

Следующая теорема дает достаточное условие перпендикулярности двух плоскостей.

**Теорема (признак перпендикулярности двух плоскостей).** Если плоскость проходит через прямую, перпендикулярную другой плоскости, то эти плоскости перпендикулярны.

**Доказательство.** Пусть плоскость  $\alpha$  проходит через прямую  $a$ , перпендикулярную плоскости  $\beta$ ,  $c$  — линия пересечения плоскостей  $\alpha$  и  $\beta$  (рис. 17.8).

Докажем, что плоскости  $\alpha$  и  $\beta$  перпендикулярны. В плоскости  $\beta$  через точку пересечения прямой  $a$  с плоскостью  $\beta$  проведем прямую  $b$ , перпендикулярную прямой  $c$ . Поскольку прямая  $a$  перпендикулярна плоскости  $\beta$ , то она перпендикулярна любой прямой, лежащей в этой плоскости, значит, угол, образованный  $a$  и  $b$ , — прямой. Он является линейным углом соответствующего двугранного угла.

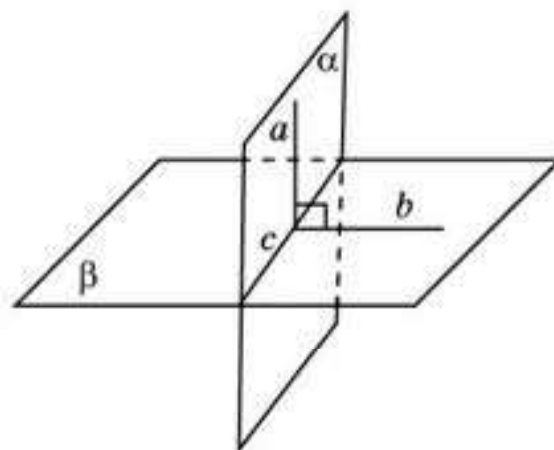


Рис. 17.8

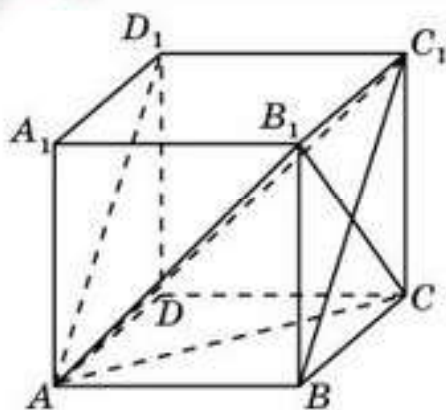


Рис. 17.9

Следовательно, плоскости  $a$  и  $b$  перпендикулярны.  $\square$

**Пример 2.** Докажите, что в кубе  $ABCD A_1 B_1 C_1 D_1$  (рис. 17.9) перпендикулярны плоскости  $ABC_1$  и  $ACB_1$ .

*Решение.* Плоскость  $ACB_1$  содержит прямую  $CB_1$ , перпендикулярную прямым  $BC_1$  и  $AB$  плоскости  $ABC_1$ . Следовательно, плоскости  $ABC_1$  и  $ACB_1$  перпендикулярны.

## Вопросы

1. Что называется *двугранным углом*?
2. Что называется: а) *гранями двугранного угла*; б) *ребром двугранного угла*?
3. Что называется *линейным углом двугранного угла*?
4. Что называется *величиной двугранного угла*?
5. Какой двугранный угол называется *прямым*?
6. Что называется *углом между двумя пересекающимися плоскостями*?
7. Как две пересекающиеся плоскости называются *перпендикулярными*?
8. Сформулируйте признак перпендикулярности двух плоскостей.

## Задачи

### А

- 17.1. Найдите двугранные углы, образованные соседними гранями куба (рис. 17.10).
- 17.2. Докажи те, что в кубе  $ABCD A_1 B_1 C_1 D_1$  перпендикулярны плоскости: а)  $ABC$  и  $BDD_1$ ; б)  $ACC_1$  и  $BDD_1$ .
- 17.3. В кубе  $ABCD A_1 B_1 C_1 D_1$  найдите углы между плоскостями  $ABC$  и  $CDA_1$ .

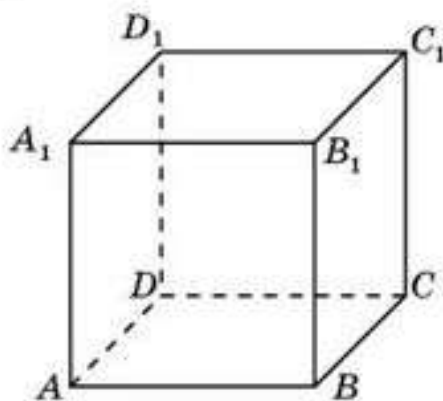


Рис. 17.10

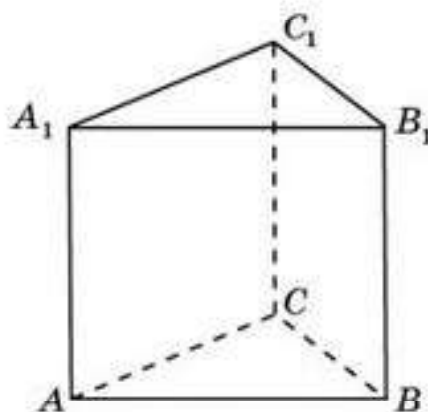


Рис. 17.11

- 17.4. Найдите двугранные углы, образованные соседними боковыми гранями правильной треугольной призмы (рис. 17.11).



17.5. Найдите двугранные углы, образованные соседними боковыми гранями правильной шестиугольной призмы (рис. 17.12).

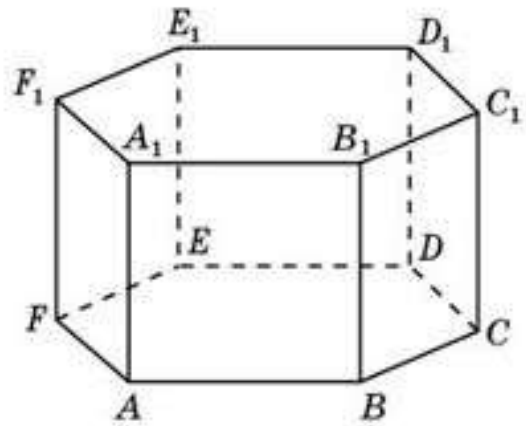


Рис. 17.12

**В**

- 17.6. Верно ли, что две плоскости, перпендикулярные третьей, параллельны?
- 17.7. Сколько плоскостей, перпендикулярных данной плоскости, можно провести через данную точку?
- 17.8. В кубе  $ABCD A_1 B_1 C_1 D_1$  найдите тангенс угла между плоскостями: а)  $ABC$  и  $AB_1 D_1$ ; б)  $ABC$  и  $ACB_1$ .
- 17.9. В кубе  $ABCD A_1 B_1 C_1 D_1$  найдите косинус угла между плоскостями  $ACB_1$  и  $ACD_1$ .
- 17.10. В правильной шестиугольной призме  $ABCDEF A_1 B_1 C_1 D_1 E_1 F_1$  все ребра равны 1. Найдите угол между плоскостями: а)  $ABB_1$  и  $CDD_1$ ; б)  $ACC_1$  и  $CDD_1$ ; в)  $ACC_1$  и  $DEE_1$ ; г)  $ACC_1$  и  $CEE_1$ ; д)  $ABC$  и  $BDE_1$ ; е)  $CDF_1$  и  $AFD_1$ .
- 17.11. Докажите, что в правильной шестиугольной призме  $ABCDEF A_1 B_1 C_1 D_1 E_1 F_1$  перпендикулярны плоскости: а)  $ABC$  и  $ABB_1$ ; б)  $ABC$  и  $ACC_1$ ; в)  $ABC$  и  $ADD_1$ ; г)  $ACC_1$  и  $BEE_1$ ; д)  $ADD_1$  и  $BFF_1$ .
- 17.12. У правильной четырехугольной пирамиды все ребра равны (рис. 17.13). Найдите тангенс двугранного угла, образованного боковой гранью и основанием пирамиды.

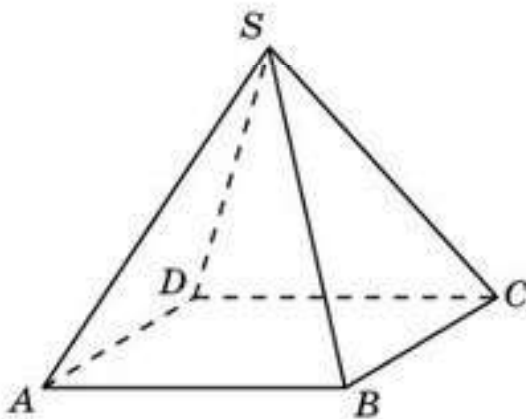


Рис. 17.13

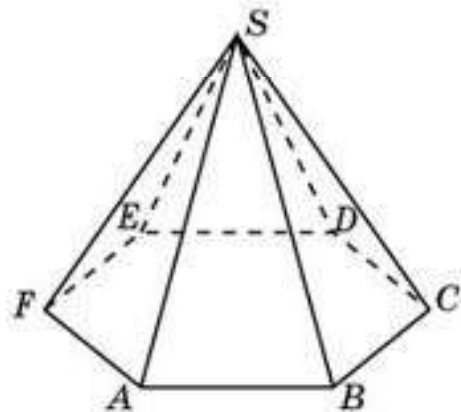


Рис. 17.14

17.13. У правильной шестиугольной пирамиды стороны основания равны 1, а боковые ребра равны 2 (рис. 17.14). Найдите тангенс

двугранного угла, образованного боковой гранью и основанием пирамиды.

- 17.14.** Пирамида Хеопса имеет форму правильной четырехугольной пирамиды, сторона основания которой равна 230 м, а высота около 138 м. Найдите тангенс двугранного угла, образованного боковой гранью и основанием этой пирамиды. Используя таблицу тригонометрических функций, найдите приближенное значение этого угла.

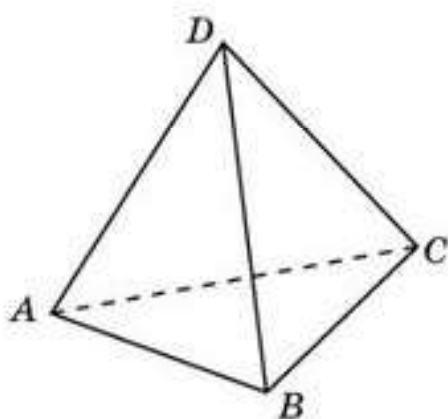


Рис. 17.15

**С**

- 17.15.** Найдите косинус двугранного угла, образованного соседними гранями правильного тетраэдра (рис. 17.15).
- 17.16.** В кубе  $ABCD A_1 B_1 C_1 D_1$  найдите угол между плоскостями  $ABC_1$  и  $BCD_1$ .
- 17.17.** У правильной четырехугольной пирамиды все ребра равны. Найдите косинус двугранного угла, образованного соседними боковыми гранями пирамиды.
- 17.18.** В правильной шестиугольной призме  $ABCDEF A_1 B_1 C_1 D_1 E_1 F_1$  все ребра равны 1. Найдите тангенс угла между плоскостями: а)  $ABC$  и  $BCD_1$ ; б)  $ABC$  и  $ADE_1$ .
- 17.19.** В правильной шестиугольной призме  $ABCDEF A_1 B_1 C_1 D_1 E_1 F_1$  все ребра равны 1. Найдите косинус угла между плоскостями  $BCD_1$  и  $EFA_1$ .
- 17.20.** Докажите, что в кубе  $ABCD A_1 B_1 C_1 D_1$  плоскости  $ABC_1$  и  $BDA_1$  перпендикулярны.
- 17.21.** Докажите, что в правильной шестиугольной призме  $ABCDEF A_1 B_1 C_1 D_1 E_1 F_1$  все ребра которой равны 1, плоскости  $ACB_1$  и  $ABD_1$  перпендикулярны.
- 17.22.** Дворец мира и согласия в г. Нур-Султане имеет форму правильной четырехугольной пирамиды (см. рис. 12.14, § 12), в которой высота равна стороне основания. Найдите тангенс угла между боковой гранью и основанием этой пирамиды.

**ПРОВЕРЬ СЕБЯ!**

- 1.** Для куба  $ABCD A_1 B_1 C_1 D_1$  найдите угол между прямыми  $AD_1$  и  $CB_1$ :
- А.  $30^\circ$ .                      В.  $45^\circ$ .                      С.  $60^\circ$ .                      D.  $90^\circ$ .



2. Для куба  $ABCD A_1 B_1 C_1 D_1$  найдите угол между прямыми  $AC$  и  $DA_1$ :  
 А.  $30^\circ$ .                      В.  $45^\circ$ .                      С.  $60^\circ$ .                      D.  $90^\circ$ .
3. Для куба  $ABCD A_1 B_1 C_1 D_1$  найдите угол между прямыми  $BD$  и  $CA_1$ :  
 А.  $30^\circ$ .                      В.  $45^\circ$ .                      С.  $60^\circ$ .                      D.  $90^\circ$ .
4. Для куба  $ABCD A_1 B_1 C_1 D_1$  найдите косинус угла между прямыми  $AA_1$  и  $DB_1$ :  
 А.  $\frac{1}{3}$ .                      В.  $\frac{\sqrt{3}}{3}$ .                      С.  $\frac{\sqrt{2}}{3}$ .                      D.  $\frac{\sqrt{3}}{2}$ .
5. Найдите угол между скрещивающимися ребрами правильной треугольной пирамиды:  
 А.  $30^\circ$ .                      В.  $45^\circ$ .                      С.  $60^\circ$ .                      D.  $90^\circ$ .
6. Найдите угол между скрещивающимися ребрами правильной четырехугольной пирамиды, все ребра которой равны 1:  
 А.  $30^\circ$ .                      В.  $45^\circ$ .                      С.  $60^\circ$ .                      D.  $90^\circ$ .
7. Для правильной шестиугольной призмы  $ABCDEF A_1 B_1 C_1 D_1 E_1 F_1$  найдите угол между прямыми  $BC$  и  $C_1 D_1$ :  
 А.  $30^\circ$ .                      В.  $45^\circ$ .                      С.  $60^\circ$ .                      D.  $120^\circ$ .
8. Для правильной шестиугольной призмы  $ABCDEF A_1 B_1 C_1 D_1 E_1 F_1$  найдите косинус угла между прямыми  $AD_1$  и  $CD$ :  
 А.  $\frac{1}{3}$ .                      В.  $\frac{\sqrt{3}}{3}$ .                      С.  $\frac{\sqrt{3}}{2}$ .                      D.  $\frac{\sqrt{5}}{5}$ .
9. Для куба  $ABCD A_1 B_1 C_1 D_1$  найдите косинус угла между прямой  $BD_1$  и плоскостью  $BCC_1$ :  
 А.  $\frac{\sqrt{3}}{3}$ .                      В.  $\frac{\sqrt{6}}{3}$ .                      С.  $\frac{\sqrt{2}}{3}$ .                      D.  $\frac{\sqrt{6}}{2}$ .
10. Найдите угол наклона отрезка к плоскости, если его ортогональная проекция на эту плоскость в два раза меньше самого отрезка:  
 А.  $30^\circ$ .                      В.  $45^\circ$ .                      С.  $60^\circ$ .                      D.  $90^\circ$ .
11. Для правильной четырехугольной пирамиды  $SABCD$ , все ребра которой равны 1, найдите косинус угла между плоскостями  $SAD$  и  $SBC$ :  
 А.  $\frac{1}{3}$ .                      В.  $\frac{\sqrt{3}}{3}$ .                      С.  $\frac{\sqrt{3}}{2}$ .                      D.  $\frac{\sqrt{6}}{3}$ .
12. Для правильной шестиугольной призмы  $ABCDEF A_1 B_1 C_1 D_1 E_1 F_1$ , все ребра которой равны 1, найдите расстояние между вершинами  $A$  и  $D_1$ :  
 А. 2.                      В.  $\sqrt{2}$ .                      С.  $\sqrt{3}$ .                      D.  $\sqrt{5}$ .

13. Для единичного куба  $ABCD A_1 B_1 C_1 D_1$  найдите расстояние от вершины  $B_1$  до прямой  $AC$ :
- A.  $\frac{\sqrt{2}}{3}$ .      B.  $\frac{\sqrt{3}}{2}$ .      C.  $\frac{\sqrt{6}}{2}$ .      D.  $\frac{\sqrt{6}}{3}$ .
14. Для правильной шестиугольной призмы  $ABCDEF A_1 B_1 C_1 D_1 E_1 F_1$ , все ребра которой равны 1, найдите расстояние от вершины  $B$  до прямой  $E_1 F_1$ :
- A. 2.      B.  $\sqrt{2}$ .      C.  $\sqrt{3}$ .      D.  $\frac{\sqrt{6}}{2}$ .
15. Из точки, не принадлежащей плоскости, опущен на нее перпендикуляр и проведена наклонная. Найдите проекцию наклонной, если перпендикуляр равен 12 см, а наклонная 15 см:
- A. 3 см.      B. 9 см.      C. 27 см.      D. 81 см.
16. Концы отрезка, не пересекающего плоскость, находятся от данной плоскости на расстояниях 10 см и 15 см. Его ортогональная проекция на плоскость равна 12 см. Найдите отрезок:
- A. 11 см.      B. 12 см.      C. 13 см.      D. 14 см.
17. Для единичного куба  $ABCD A_1 B_1 C_1 D_1$  найдите расстояние между прямыми  $BC$  и  $DB_1$ :
- A.  $\frac{\sqrt{2}}{2}$ .      B.  $\frac{\sqrt{2}}{3}$ .      C.  $\frac{\sqrt{3}}{2}$ .      D.  $\frac{\sqrt{3}}{3}$ .
18. Для единичного тетраэдра  $ABCD$  найдите расстояние между прямыми  $AD$  и  $BC$ :
- A.  $\frac{\sqrt{2}}{2}$ .      B.  $\frac{\sqrt{2}}{3}$ .      C.  $\frac{\sqrt{3}}{2}$ .      D.  $\frac{\sqrt{3}}{3}$ .
19. Для единичного куба  $ABCD A_1 B_1 C_1 D_1$  найдите расстояние от вершины  $B$  до плоскости  $ACB_1$ :
- A.  $\frac{\sqrt{2}}{2}$ .      B.  $\frac{\sqrt{2}}{3}$ .      C.  $\frac{\sqrt{3}}{2}$ .      D.  $\frac{\sqrt{3}}{3}$ .
20. Найдите высоту правильной четырехугольной пирамиды, стороны основания которой равны 1, а боковые ребра равны 2:
- A.  $\frac{\sqrt{6}}{2}$ .      B.  $\frac{\sqrt{14}}{2}$ .      C.  $\frac{2\sqrt{3}}{3}$ .      D.  $\frac{2\sqrt{7}}{3}$ .



## § 18\*. Сечения куба, призмы и пирамиды

Сечением многогранника плоскостью называется многоугольник, являющийся общей частью (пересечением) этих многогранника и плоскости.

Сечение призмы плоскостью, проходящей через диагональ основания и два прилежащих к ней боковых ребра, называется *диагональным сечением призмы* (рис. 18.1).

Сечение пирамиды плоскостью, проходящей через диагональ основания и вершину, называется *диагональным сечением пирамиды* (рис. 18.2).

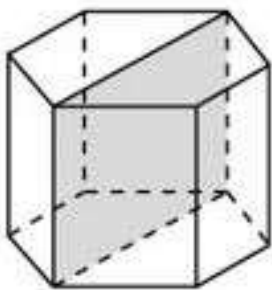


Рис. 18.1

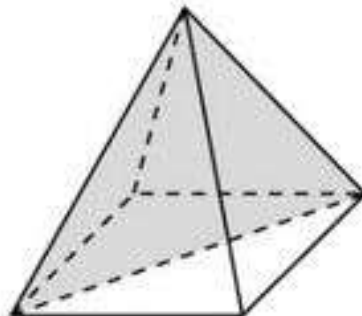


Рис. 18.2

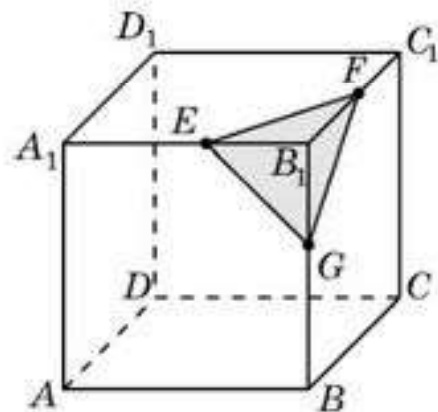


Рис. 18.3



Сколько диагональных сечений имеет: а) треугольная; б) четырехугольная; в)\*  $n$ -угольная призма?



Сколько диагональных сечений имеет: а) треугольная; б) четырехугольная; в)\*  $n$ -угольная пирамида?

Рассмотрим вопрос о построении сечений куба, призмы и пирамиды плоскостью. Начнем с куба.

**Пример 1.** Пусть дано изображение куба (рис. 18.3) и три точки  $E, F, G$ , принадлежащие ребрам этого куба, выходящим из одной вершины. Постройте сечение куба плоскостью, проходящей через точки  $E, F, G$ .

**Построение.** Поскольку точки  $E$  и  $F$  принадлежат грани  $A_1B_1C_1D_1$  куба, то отрезок  $EF$  — общий для плоскости сечения и этой грани куба. То же самое можно сказать об отрезке  $EG$  и грани  $ABB_1A_1$  куба, об отрезке  $FG$  и грани куба  $BCC_1B_1$ .

Для того чтобы построить сечение куба плоскостью, проходящей через эти точки, достаточно просто соединить их отрезками. Полученный треугольник  $EFG$  и будет искомым изображением сечения куба (рис. 18.3).

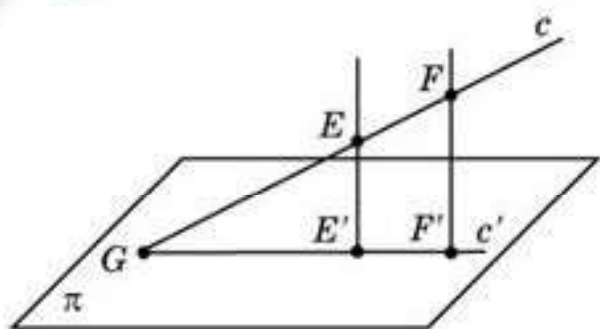


Рис. 18.4

Для построения более сложных сечений используют *метод следов*: точку пересечения прямой и плоскости находят по двум заданным точкам этой прямой и их ортогональным проекциям на плоскость.

Пусть прямая  $c$  проходит через точки  $E, F$ , если известны ортогональные проекции  $E', F'$  этих точек на плоскость  $P$ . Тогда пересечение  $G$

прямой  $c$  с прямой  $c'$ , проходящей через точки  $E', F'$ , и будет искомым пересечением прямой  $c$  с плоскостью  $P$  (рис. 18.4).

Рассмотрим примеры построения сечений призмы, пирамиды и куба.

**Пример 2.** Постройте сечение правильной треугольной призмы  $AB-C A_1 B_1 C_1$  плоскостью, проходящей через вершины  $A, B$  и середину  $D_1$  ребра  $A_1 C_1$  (рис. 18.5).

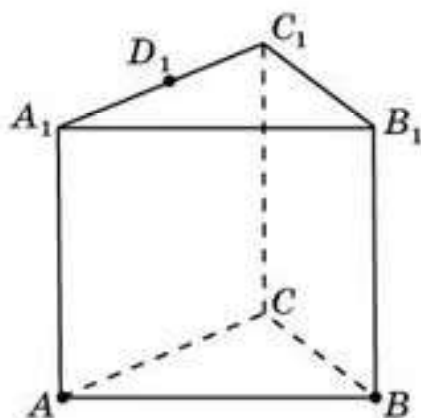


Рис. 18.5

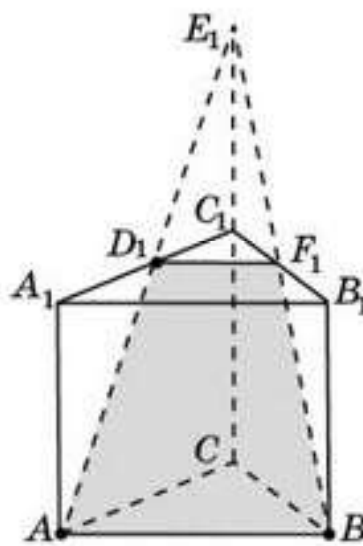


Рис. 18.6

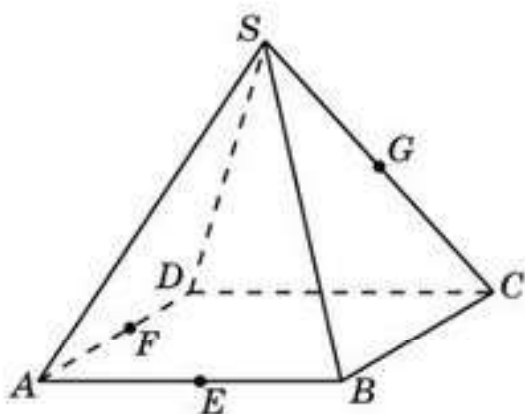


Рис. 18.7

**Построение.** Проведем прямую  $AD_1$  и обозначим  $E_1$  ее точку пересечения с прямой  $CC_1$ . Через точки  $B$  и  $E_1$  проведем прямую и обозначим  $F_1$  ее точку пересечения с ребром  $B_1 C_1$ . Соединим отрезком точки  $D_1$  и  $F_1$ . Четырехугольник  $ABF_1 D_1$  будет искомым сечением (рис. 18.6).

**Пример 3.** Постройте сечение правильной четырехугольной пирамиды  $SABCD$  плоскостью, проходящей через середины  $E, F$  и  $G$  соответственно ребер  $AB, AD$  и  $SC$  (рис. 18.7).



*Построение.* Проведем прямую  $EF$  и обозначим  $B_1$  и  $D_1$  ее точки пересечения с прямыми  $BC$  и  $CD$  соответственно. Проведем прямые  $B_1G$ ,  $D_1G$  и обозначим  $P$ ,  $Q$  их точки пересечения с ребрами  $SB$ ,  $SD$  соответственно. Соединим отрезками точки  $E$  и  $P$ ,  $F$  и  $Q$ . Пятиугольник  $FEPGQ$  будет искомым сечением (рис. 18.8).

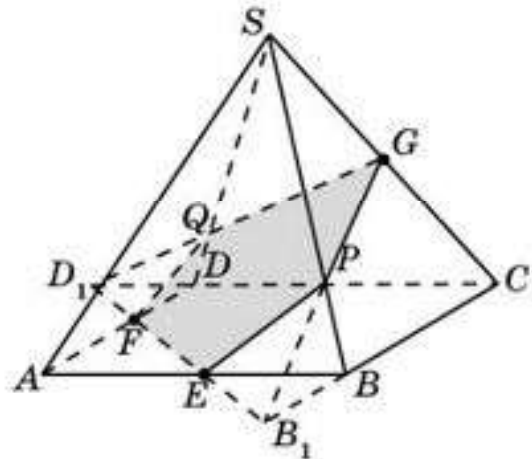


Рис. 18.8

**Пример 4.** Используя метод следов, постройте сечение куба  $ABCD A_1 B_1 C_1 D_1$  плоскостью, проходящей через три точки  $E$ ,  $F$ ,  $G$ , принадлежащие попарно скрещивающимся ребрам этого куба (рис. 18.9).

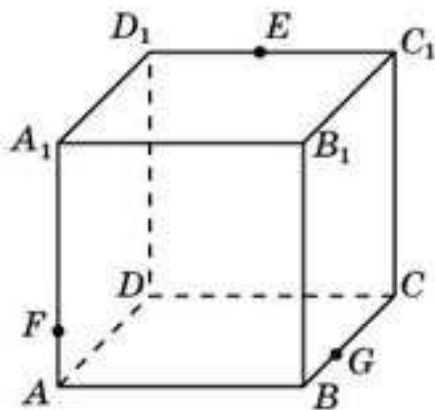


Рис. 18.9

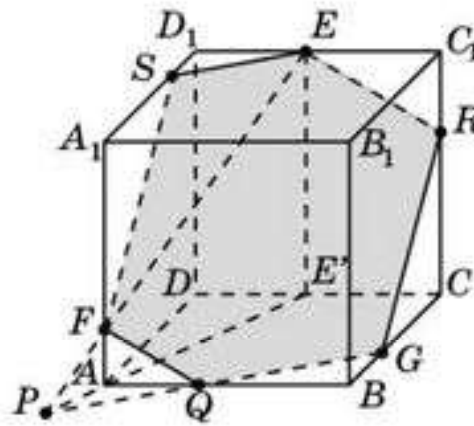


Рис. 18.10

*Построение.* Найдем пересечение прямой  $EF$ , лежащей в плоскости сечения, с плоскостью грани  $ABCD$  куба. Для этого построим ортогональную проекцию  $E'$  точки  $E$  на плоскость этой грани куба (рис. 18.10). Пересечение прямых  $EF$  и  $E'A$  будет искомой точкой  $P$ . Она принадлежит плоскости сечения и плоскости грани  $ABCD$  куба.

Точка  $G$  принадлежит плоскости сечения и одновременно этой грани куба. Следовательно, плоскость сечения пересекает плоскость грани  $ABCD$  куба по прямой  $PG$ . Точка пересечения этой прямой с ребром  $AB$  куба даст еще одну точку сечения куба — точку  $Q$ .

Соединим точки  $G$  и  $Q$ ,  $F$  и  $Q$  отрезками. Так как противоположные грани куба параллельны, то плоскость сечения пересекает плоскости этих граней по параллельным прямым. Исходя из этого, через точку  $E$  проведем прямую, параллельную прямой  $FQ$ , и точку ее пересечения с ребром  $CC_1$  куба обозначим  $R$ . Соединим точки  $R$  и  $G$  отрезком.

Аналогично через точку  $E$  проведем прямую, параллельную прямой  $GQ$ , и точку ее пересечения с ребром  $A_1 D_1$  куба обозначим  $S$ . Соединим точки  $E$  и  $S$ ,  $F$  и  $S$  отрезками.

Многоугольник  $ESFQGR$  и будет искомым изображением сечения куба заданной плоскостью.



Какие многоугольники могут быть сечениями куба? Приведите примеры.

## Вопросы

1. Что называется сечением многогранника плоскостью?
2. Какое сечение призмы плоскостью называется *диагональным*?
3. Какое сечение пирамиды плоскостью называется *диагональным*?
4. В чем заключается метод следов?

## Задачи

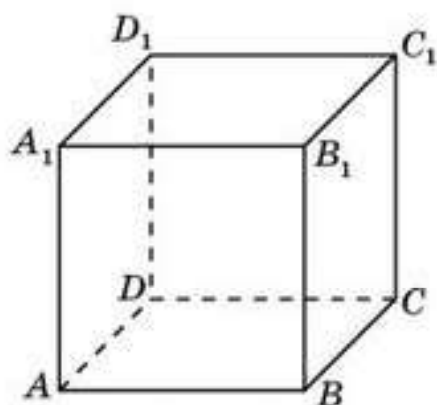


Рис. 18.11

### В

- 18.1. Постройте сечение куба  $ABCD A_1 B_1 C_1 D_1$  плоскостью, проходящей через вершины  $B$ ,  $D_1$  и середину ребра  $CC_1$  (рис. 18.11). Определите его вид.
- 18.2. Постройте сечение куба  $ABCD A_1 B_1 C_1 D_1$  плоскостью, проходящей через середины ребер  $AB$ ,  $BC$  и  $A_1 D_1$ . Определите его вид.
- 18.3. Постройте сечение куба  $ABCD A_1 B_1 C_1 D_1$  плоскостью, проходящей через вершины  $A$ ,  $C$  и середину ребра  $A_1 D_1$ . Определите его вид.

18.4. Постройте сечение куба  $ABCD A_1 B_1 C_1 D_1$  плоскостью, проходящей через вершину  $C_1$  и середины ребер  $AB$  и  $AD$ . Определите его вид.

18.5. Постройте сечение куба плоскостью, проходящей через три точки  $E$ ,  $F$ ,  $G$ , расположенные так, как показано на рисунке 18.12.

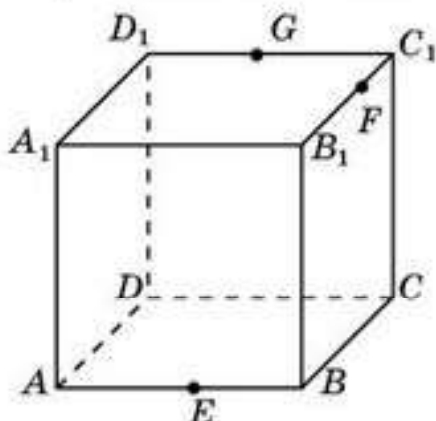


Рис. 18.12

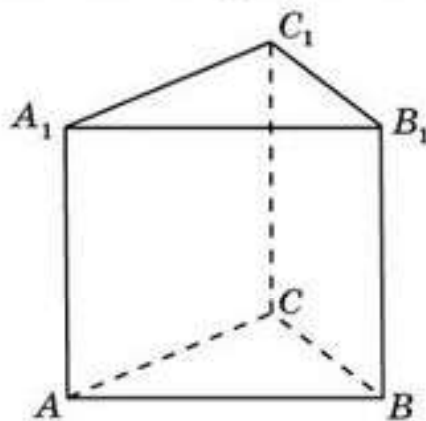


Рис. 18.13



18.6. Постройте сечение правильной треугольной призмы  $ABCA_1B_1C_1$  плоскостью, проходящей через середины ребер  $AA_1$ ,  $BB_1$  и  $B_1C_1$  (рис. 18.13). Определите вид сечения.

18.7. Постройте сечение правильной шестиугольной призмы  $ABCDEF A_1B_1C_1D_1E_1F_1$  плоскостью, проходящей через вершины  $A$ ,  $B$  и  $D_1$  (рис. 18.14). Определите вид сечения.

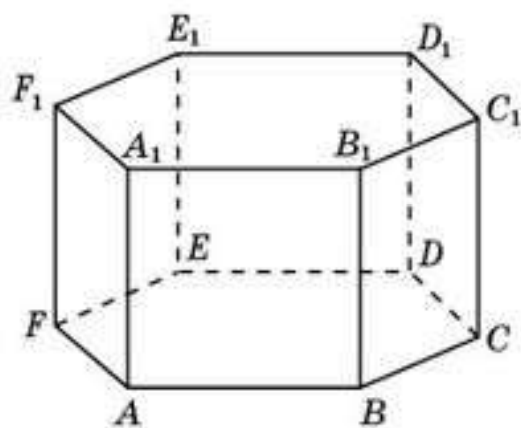


Рис. 18.14

С

18.8. Постройте сечение правильной треугольной призмы  $ABCA_1B_1C_1$  плоскостью, проходящей через середины ребер  $AA_1$ ,  $BC$  и  $A_1C_1$  (рис. 18.15).

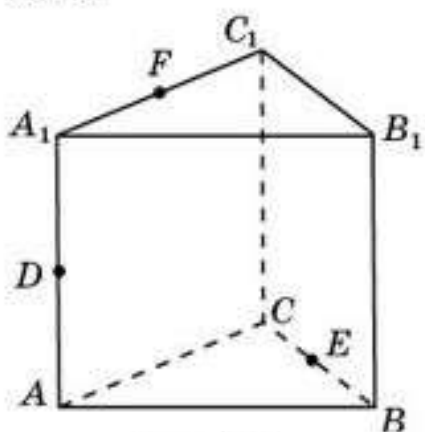


Рис. 18.15

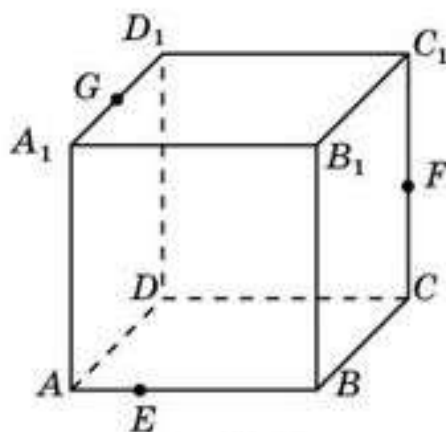


Рис. 18.16

18.9. Постройте сечение куба плоскостью, проходящей через три точки  $E$ ,  $F$ ,  $G$ , расположенные так, как показано на рисунке 18.16.

18.10. Постройте сечение правильной четырехугольной пирамиды  $SABCD$  плоскостью, проходящей через вершину  $A$  и середины  $E$  и  $F$  ребер  $SB$  и  $SD$  соответственно (рис. 18.17).

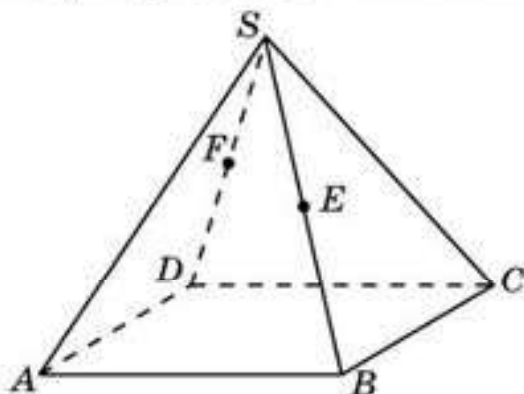


Рис. 18.17

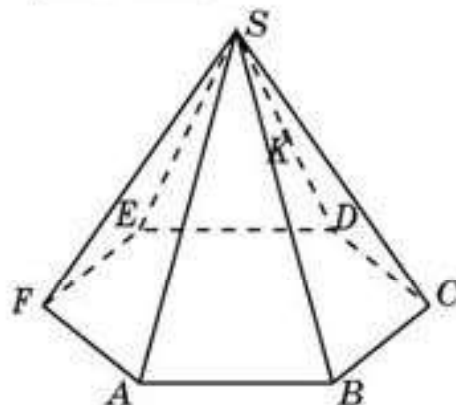


Рис. 18.18

- 18.11. Постройте сечение правильной шестиугольной пирамиды  $SABCDEF$  плоскостью, проходящей через вершины  $A, B$  и середину  $K$  ребра  $SD$  (рис. 18.18).
- 18.12. Может ли сечением куба плоскостью быть: а) правильный пятиугольник; б) правильный шестиугольник; в) семиугольник?

## Подготовьтесь к овладению вычислениями

- 18.13. Найдите площадь сечения единичного куба  $ABCD A_1 B_1 C_1 D_1$  плоскостью, проходящей через вершины: а)  $B, C, D_1$ ; б)  $B, D, C_1$ .

### § 19. Площадь ортогональной проекции

Рассмотрим примеры нахождения площадей сечений.

**Пример 1.** Найдите площадь сечения единичного куба  $ABCD A_1 B_1 C_1 D_1$  плоскостью, проходящей через вершины  $B, D_1$  и середину ребра  $CC_1$ .

*Решение.* Искомым сечением является ромб  $BED_1F$  (рис. 19.1).

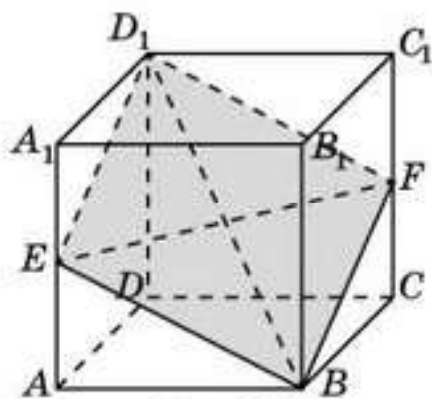


Рис. 19.1

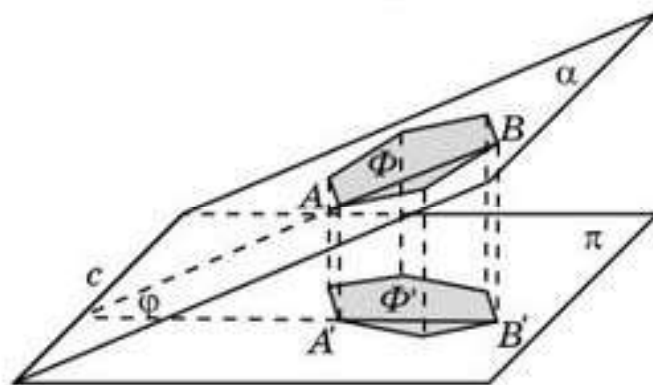


Рис. 19.2

Воспользуемся тем, что площадь ромба равна половине произведения его диагоналей. В нашем случае  $EF = \sqrt{2}$ ,  $BD_1 = \sqrt{3}$ . Следовательно, площадь ромба равна  $\frac{\sqrt{6}}{2}$ .

Один из наиболее общих методов нахождения площадей сечений основан на следующей теореме.

**Теорема.** *Площадь ортогональной проекции плоской фигуры равна произведению площади этой фигуры на косинус угла между плоскостью фигуры и плоскостью проекции.*

Пусть  $\Phi$  — фигура, лежащая в плоскости  $\alpha$ ,  $\Phi'$  — ее ортогональная проекция на плоскость  $\rho$ ,  $j$  — угол между этими плоскостями (рис. 19.2).

Имеет место формула  $S' = S \cdot \cos j$ , где  $S$  и  $S'$  — площади соответственно фигур  $\Phi$  и  $\Phi'$ .



Здесь мы не будем приводить доказательство этой формулы. Отметим лишь, что фигура  $\Phi$  получается сжатием фигуры  $\Phi'$  в направлении, перпендикулярном прямой  $c$ , с коэффициентом  $\cos j$ , где  $c$  — линия пересечения плоскостей  $\alpha$  и  $\rho$ .

Из этой теоремы следует формула площади  $S$  плоской фигуры  $\Phi$  по известной площади  $S'$  ее ортогональной проекции  $\Phi'$ .

$$S = \frac{S'}{\cos \varphi}.$$



Как вы думаете, может ли площадь ортогональной проекции фигуры быть больше площади самой фигуры? Почему?

Применим эту формулу для нахождения площади сечения из примера 1.

Ортогональной проекцией ромба  $BED_1F$  на плоскость  $ABC$  является квадрат  $ABCD$ . Косинус угла между плоскостями  $BED_1$  и  $ABC$  равен отношению  $BD : BD_1$ , т. е. равен  $\frac{\sqrt{6}}{3}$ . Так как площадь квадрата  $ABCD$  равна 1, то площадь ромба будет равна  $\frac{\sqrt{6}}{2}$ .

**Пример 2.** Найдите площадь сечения правильной шестиугольной призмы  $ABCDEF A_1 B_1 C_1 D_1 E_1 F_1$ , все ребра которой равны 1, плоскостью, проходящей вершины  $A, B$  и  $D_1$ .

*Решение.* Искомым сечением является шестиугольник  $ABGD_1 E_1 H$  (рис. 19.3).

Ортогональной проекцией этого шестиугольника на плоскость  $ABC$  является правильный шестиугольник  $ABCDEF$ , сторона которого равна 1. Его площадь равна  $\frac{3\sqrt{3}}{2}$ . Косинус угла  $j$  между плоскостями  $ABG$  и  $ABC$  равен отношению  $AE : AE_1$ , т. е. равен  $\frac{\sqrt{3}}{2}$ . Следовательно, искомая площадь шестиугольника равна 3.

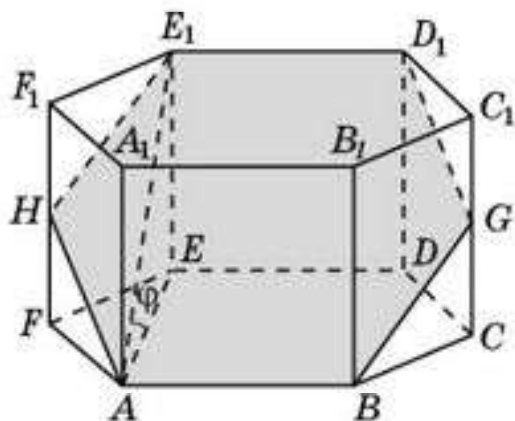


Рис. 19.3

## Вопросы

Сформулируйте теорему о площади ортогональной проекции плоской фигуры.

## Задачи

### А

- 19.1. Найдите площадь сечения единичного куба  $ABCD A_1 B_1 C_1 D_1$  плоскостью, проходящей через вершины: а)  $A, B, C_1$ ; б)  $A, C, D_1$  (рис. 19.4).

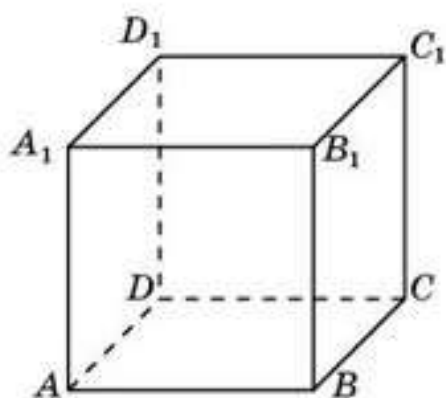


Рис. 19.4

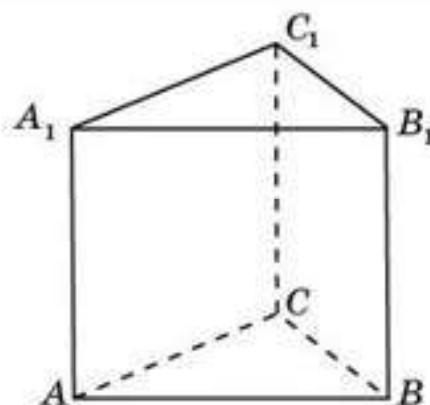


Рис. 19.5

**19.2.** Найдите площадь сечения правильной треугольной призмы  $ABCA_1B_1C_1$ , все ребра которой равны 1, плоскостью, проходящей через вершины  $A, B$  и  $C_1$  (рис. 19.5).

**19.3.** Найдите площадь сечения правильной шестиугольной призмы  $ABCDEF A_1B_1C_1D_1E_1F_1$ , все ребра которой равны 1, плоскостью, проходящей через вершины: а)  $A, C, C_1$ ; б)  $A, D, D_1$  (рис. 19.6).

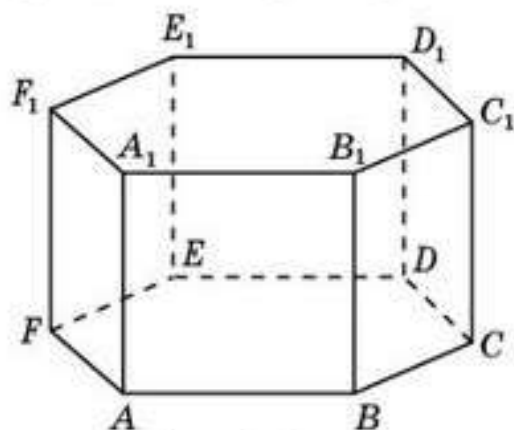


Рис. 19.6

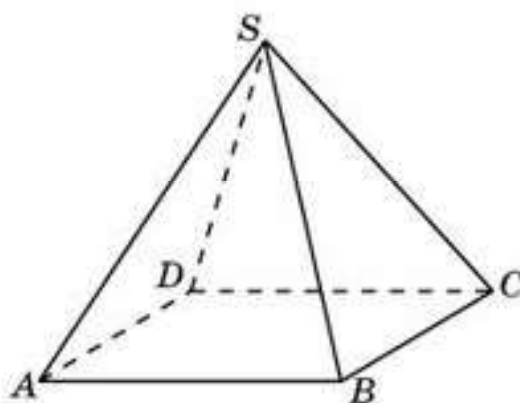


Рис. 19.7

**19.4.** Найдите площадь сечения правильной четырехугольной пирамиды  $SABCD$ , все ребра которой равны 1, плоскостью, проходящей через вершины  $A, C$  и  $S$  (рис. 19.7).

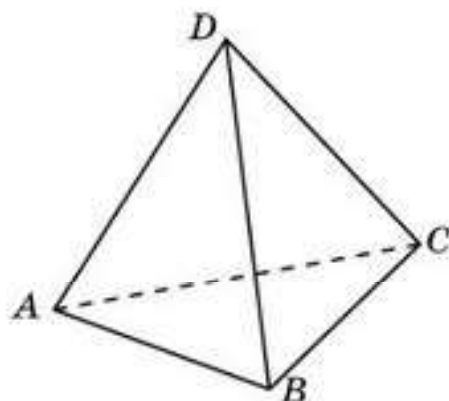


Рис. 19.8

**В**

**19.5.** Найдите площадь сечения тетраэдра  $ABCD$ , все ребра которого равны 1, плоскостью, проходящей через середины ребер  $AB, BC$  и  $CD$  (рис. 19.8).

**19.6.** Найдите площадь сечения правильной треугольной призмы  $ABCA_1B_1C_1$ , все ребра которой равны 1, плоскостью, проходящей через вершины  $A, B$  и середину  $D_1$  ребра  $A_1C_1$  (рис. 19.9).



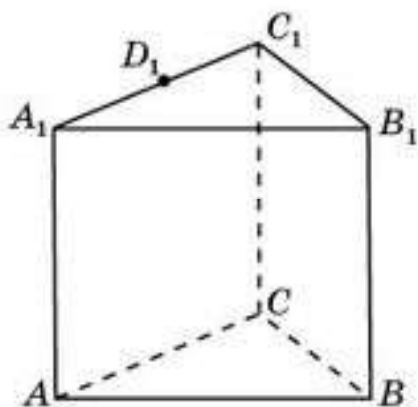


Рис. 19.9

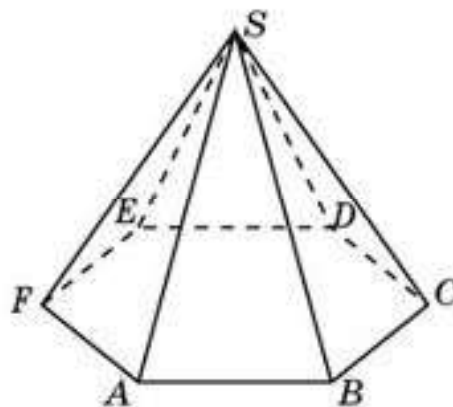


Рис. 19.10

- 19.7.** Найдите площадь сечения правильной шестиугольной пирамиды  $SAB CDEF$ , стороны основания которой равны 1, а боковые ребра равны 2, плоскостью, проходящей через вершины: а)  $A, D$  и  $S$ ; б)  $A, C$  и  $S$  (рис. 19.10).
- 19.8.** Найдите площадь сечения правильной треугольной призмы  $ABCA_1B_1C_1$ , все ребра которой равны 1, плоскостью, проходящей через середины ребер  $AA_1, BB_1$  и  $A_1C_1$ .

**С**

- 19.9.** Найдите площадь сечения единичного куба  $ABCD A_1B_1C_1D_1$  плоскостью, проходящей через середины ребер  $AB, BC$  и  $A_1D_1$ .
- 19.10.** Найдите площадь сечения единичного куба  $ABCD A_1B_1C_1D_1$  плоскостью, проходящей через вершину  $D_1$  и середины ребер  $AB, BC$ .
- 19.11.** Найдите площадь сечения единичного куба  $ABCD A_1B_1C_1D_1$  плоскостью, проходящей через середины ребер  $AB, BC, DD_1$ .
- 19.12.** Найдите площадь сечения правильной шестиугольной призмы  $ABCDEF A_1B_1C_1D_1E_1F_1$ , все ребра которой равны 1, плоскостью, проходящей через вершины  $A, C_1$  и  $E_1$ .
- 19.13.** Дворец мира и согласия в г. Нур-Султане имеет форму правильной четырехугольной пирамиды (см. рис. 12.14, § 12), в которой высота равна стороне основания и составляет 62 м. Найдите площадь диагонального сечения этой пирамиды.

**Подготовка к овладению навыками**

- 19.14.** Повторите определение вектора на плоскости.
- 19.15.** По аналогии с определением вектора на плоскости попробуйте дать определение вектора в пространстве.
- 19.16.** Для единичного куба  $ABCD A_1B_1C_1D_1$  найдите длину вектора с началом в вершине  $A$  и концом в вершине  $C_1$ .

## § 20. Векторы в пространстве

Определение вектора в пространстве аналогично определению вектора на плоскости.

*Вектором в пространстве* называется направленный отрезок, т. е. такой отрезок, в котором указаны начало и конец.

Рассматривается также нулевой вектор, у которого начало совпадает с концом.

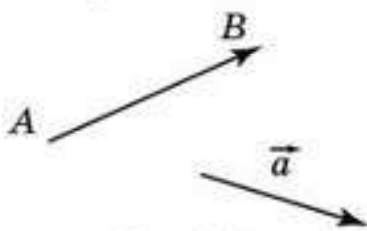


Рис. 20.1

Вектор с началом в точке  $A$  и концом в точке  $B$  обозначается  $\overline{AB}$  и изображается стрелкой (рис. 20.1). Будем также обозначать векторы строчными латинскими буквами со стрелками над ними. Например,  $\vec{a}$ ,  $\vec{b}$  и т. д. Нулевой вектор обозначается  $\vec{0}$ .

Два ненулевых вектора называются *коллинеарными*, если они лежат на одной прямой или на параллельных прямых.

Два вектора в пространстве называются *одинаково (противоположно) направленными*, если они лежат в одной плоскости и в этой плоскости одинаково (противоположно) направлены.



Докажите, что два ненулевых вектора в пространстве коллинеарны, если при откладывании их от одной точки они располагаются на одной прямой.

Коллинеарные векторы могут быть одинаково или противоположно направленными.

*Длиной*, или *модулем*, вектора называется длина соответствующего отрезка. Она обозначается  $|\overline{AB}|$  или  $|\vec{a}|$ .

Длина нулевого вектора считается равной нулю.

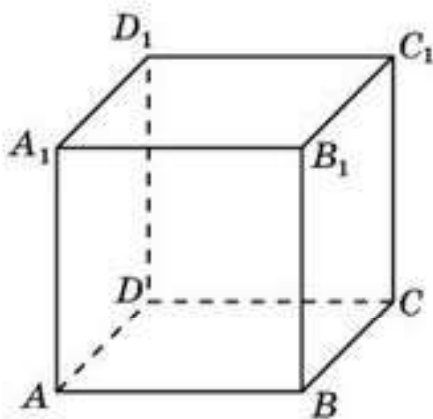


Рис. 20.2

Два вектора называются *равными*, если они имеют одинаковое направление и равные длины.

Все нулевые векторы считаются равными между собой.



В кубе  $ABCD A_1 B_1 C_1 D_1$  (рис. 20.2) укажите векторы с началом и концом в вершинах куба, равные вектору  $\overline{AA_1}$ .

Так же, как и на плоскости, для векторов в пространстве определяются операции сложения векторов и умножения вектора на число.



Для того чтобы сложить два вектора  $\vec{a}$  и  $\vec{b}$ , вектор  $\vec{b}$  откладывают так, чтобы его начало совпало с концом вектора  $\vec{a}$  (рис. 20.3).

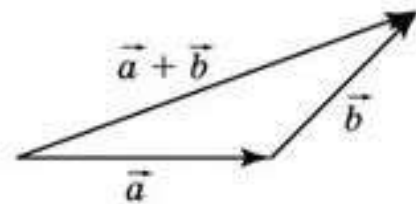


Рис. 20.3

Вектор, у которого начало совпадает с началом вектора  $\vec{a}$ , а конец — с концом вектора  $\vec{b}$ , называется суммой векторов  $\vec{a}$  и  $\vec{b}$ . Обозначается  $\vec{a} + \vec{b}$ .

Для операции сложения векторов справедливы следующие свойства, аналогичные свойствам сложения чисел.

**Свойство 1.**  $\vec{a} + \vec{b} = \vec{b} + \vec{a}$  (переместительный закон).

**Свойство 2.**  $\vec{a} + (\vec{b} + \vec{c}) = (\vec{a} + \vec{b}) + \vec{c}$  (сочетательный закон).



Проведите доказательство этих свойств самостоятельно аналогично тому, как это делалось для плоскости.

**Пример.** В единичном кубе  $ABCD A_1 B_1 C_1 D_1$  (рис. 20.4) найдите длину вектора  $\vec{AC} + \vec{AB_1}$ .

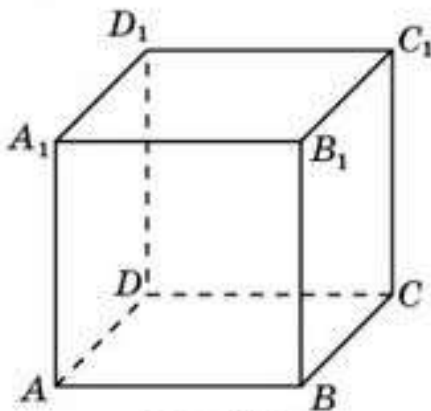


Рис. 20.4

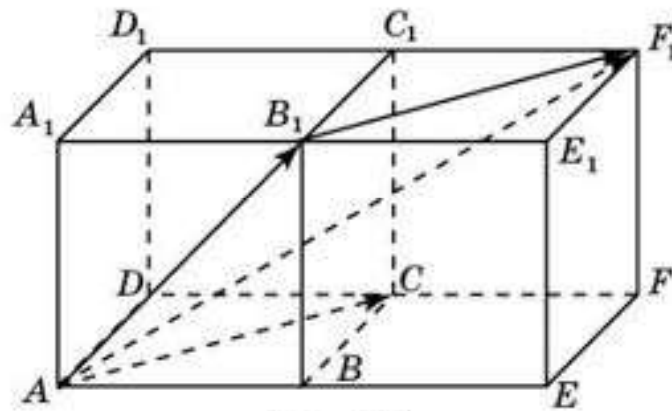


Рис. 20.5

**Решение.** Достроим куб до прямоугольного параллелепипеда  $AEFDA_1 E_1 F_1 D_1$ , добавив к нему единичный куб  $BEFCB_1 E_1 F_1 C_1$  (рис. 20.5).

Сумма  $\vec{AC} + \vec{AB_1}$  равна вектору  $\vec{AF_1}$ . Его длина равна  $\sqrt{6}$ .

Произведением вектора  $\vec{a}$  на число  $t$  называется вектор, длина которого равна  $|t| \cdot |\vec{a}|$ , а направление остается прежним, если  $t > 0$ , и меняется на противоположное, если  $t < 0$ . Произведением вектора на нуль считается нулевой вектор.

Произведение вектора  $\vec{a}$  на число  $t$  обозначается  $t\vec{a}$ . По определению  $|t\vec{a}| = |t| \cdot |\vec{a}|$ .

Произведение вектора  $\vec{a}$  на число  $-1$  называется вектором, противоположным вектору  $\vec{a}$  и обозначается  $-\vec{a}$ .

По определению вектор  $-\vec{a}$  имеет направление, противоположное вектору  $\vec{a}$  и  $|-\vec{a}| = |\vec{a}|$ .

Ясно, что два ненулевых вектора  $\vec{a}$  и  $\vec{b}$  коллинеарны в том и только том случае, если  $\vec{b} = t\vec{a}$  для некоторого отличного от нуля числа  $t$ .

Для умножения вектора на число справедливы свойства, аналогичные свойствам умножения чисел.

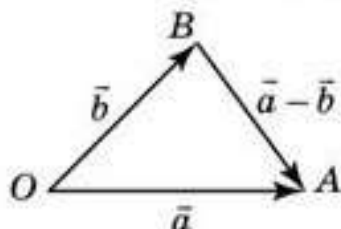


Рис. 20.6

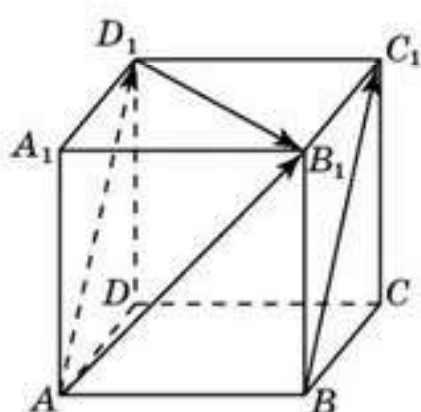


Рис. 20.7

**Свойство 1.**  $(ts)\vec{a} = t(s\vec{a})$  (сочетательный закон).

**Свойство 2.**  $(t+s)\vec{a} = t\vec{a} + s\vec{a}$  (первый распределительный закон).

**Свойство 3.**  $t(\vec{a} + \vec{b}) = t\vec{a} + t\vec{b}$  (второй распределительный закон).



Проведите доказательство этих свойств самостоятельно аналогично тому, как это делалось для плоскости.

Разностью векторов  $\vec{a}$  и  $\vec{b}$  называется вектор  $\vec{a} + (-\vec{b})$ . Обозначается  $\vec{a} - \vec{b}$ .

Для того чтобы найти разность  $\vec{a} - \vec{b}$ , векторы  $\vec{a}$  и  $\vec{b}$  откладывают так, чтобы их начала совпадали (рис. 20.6).

Вектор, у которого начало совпадает с концом вектора  $\vec{b}$ , а конец — с концом вектора  $\vec{a}$ , будет искомой разностью векторов.

**Пример 3.** В единичном кубе  $ABCD A_1 B_1 C_1 D_1$  (рис. 20.7) найдите длину вектора  $\overline{AB_1} - \overline{BC_1}$ .

*Решение.*  $\overline{AB_1} - \overline{BC_1} = \overline{AB_1} - \overline{AD_1} = \overline{D_1B_1}$ . Длина  $\overline{D_1B_1}$  равна  $\sqrt{2}$ .

## Вопросы

1. Что называется вектором?
2. Какой вектор называется нулевым?
3. Каким образом два вектора называются коллинеарными?
4. Что называется длиной (модулем) вектора?
5. Каким образом два вектора называются равными?
6. Как определяется операция сложения векторов?
7. Сформулируйте переместительный закон сложения векторов.
8. Сформулируйте сочетательный закон сложения векторов.
9. Как определяется произведение вектора на число?
10. Как обозначается произведение вектора на число?
11. Какой вектор называется противоположным данному вектору? Как он обозначается?
12. Что называется разностью двух векторов? Как она обозначается?
13. Сформулируйте сочетательный закон умножения вектора на число.
14. Сформулируйте первый распределительный закон умножения вектора на число.
15. Сформулируйте второй распределительный закон умножения вектора на число.



## Задачи

### А

- 20.1. В кубе  $ABCD A_1 B_1 C_1 D_1$  (рис. 20.4) укажите векторы с началом и концом в вершинах куба, равные вектору  $\overline{AB}$ .
- 20.2. В треугольной призме  $ABC A_1 B_1 C_1$  (рис. 20.8) укажите векторы с началом и концом в вершинах призмы, равные вектору  $\overline{AA_1}$ .

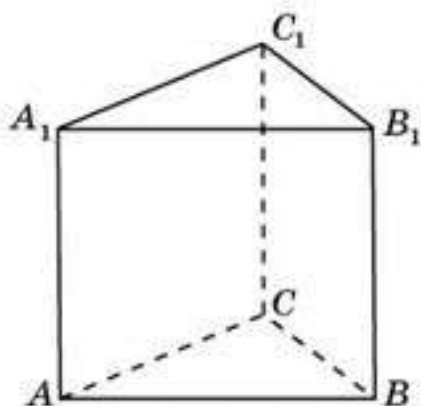


Рис. 20.8

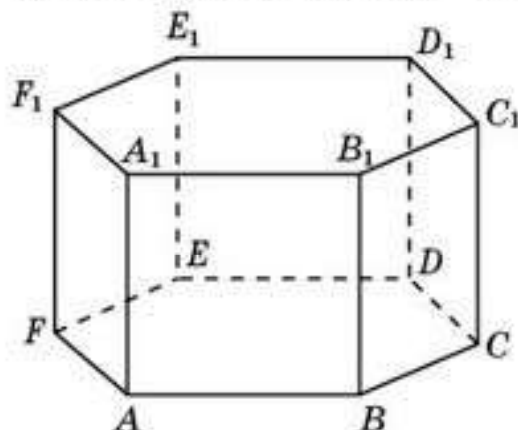


Рис. 20.9

- 20.3. В правильной шестиугольной призме  $ABCDEF A_1 B_1 C_1 D_1 E_1 F_1$  (рис. 20.9) укажите векторы с началом и концом в вершинах призмы, равные вектору: а)  $\overline{AB}$ ; б)  $\overline{AC}$ ; в)  $\overline{AD}$ ; г)  $\overline{AB_1}$ ; д)  $\overline{AC_1}$ .
- 20.4. В единичном кубе  $ABCD A_1 B_1 C_1 D_1$  найдите длину вектора: а)  $\overline{AB}$ ; б)  $\overline{AB_1}$ ; в)  $\overline{AC_1}$ .
- 20.5. В правильной шестиугольной призме  $ABCDEF A_1 B_1 C_1 D_1 E_1 F_1$  все ребра равны 1 (рис. 20.9). Найдите длину вектора: а)  $\overline{AB}$ ; б)  $\overline{AC}$ ; в)  $\overline{AD}$ ; г)  $\overline{AB_1}$ ; д)  $\overline{AC_1}$ ; е)  $\overline{AD_1}$ .
- 20.6. В кубе  $ABCD A_1 B_1 C_1 D_1$  укажите векторы с началом и концом в вершинах куба, равные вектору: а)  $\overline{AB} + \overline{CC_1}$ ; б)  $\overline{AB} + \overline{AD}$ ; в)  $\overline{AB} + \overline{AD_1}$ ; г)  $\overline{AB} + \overline{CD_1}$ ; д)  $\overline{AB} + \overline{AD} + \overline{AA_1}$ .

### В

- 20.7. Сколько различных векторов задают ребра: а) куба; б) треугольной призмы; в) правильной четырехугольной пирамиды (рис. 20.10)?
- 20.8. В правильной шестиугольной призме  $ABCDEF A_1 B_1 C_1 D_1 E_1 F_1$  укажите векторы с началом и концом в вершинах призмы, равные вектору: а)  $\overline{AB} + \overline{FE}$ ; б)  $\overline{AB} + \overline{DC}$ ; в)  $\overline{AC} + \overline{DD_1}$ ; г)  $\overline{AB} + \overline{CE_1}$ .

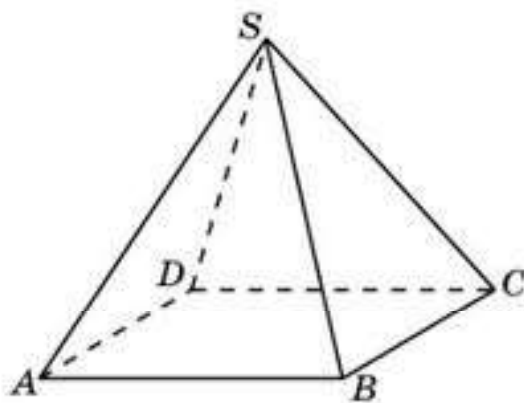


Рис. 20.10

- 20.9.** В правильной треугольной призме  $ABCA_1B_1C_1$  все ребра равны 1 (рис. 20.8). Найдите длину вектора  $\overline{AB} + \overline{AC} + \overline{AA_1}$ .
- 20.10.** В единичном кубе  $ABCA_1B_1C_1D_1$  найдите длину вектора: а)  $\overline{AB} + \overline{AD}$ ; б)  $\overline{AB} + \overline{AD_1}$ ; в)  $\overline{AB} + \overline{CC_1}$ ; г)  $\overline{AB} + \overline{CD_1}$ ; д)  $\overline{AB} + \overline{AD} + \overline{AA_1}$ .
- 20.11.** В правильной шестиугольной призме  $ABCDEF A_1B_1C_1D_1E_1F_1$  все ребра равны 1. Найдите длину вектора: а)  $\overline{AB} + \overline{FE}$ ; б)  $\overline{AB} + \overline{DC}$ ; в)  $\overline{AC} + \overline{DD_1}$ ; г)  $\overline{AB} + \overline{CE_1}$ .
- 20.12.** В каком случае длина суммы векторов равна сумме длин слагаемых?

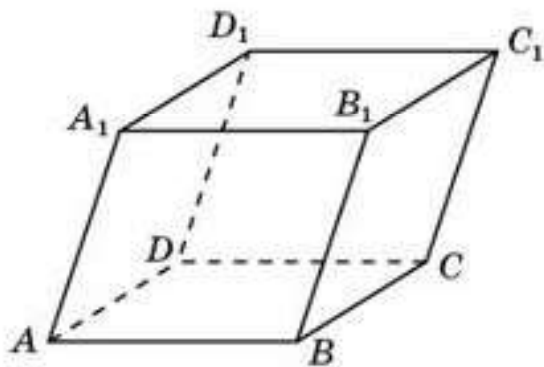


Рис. 20.11

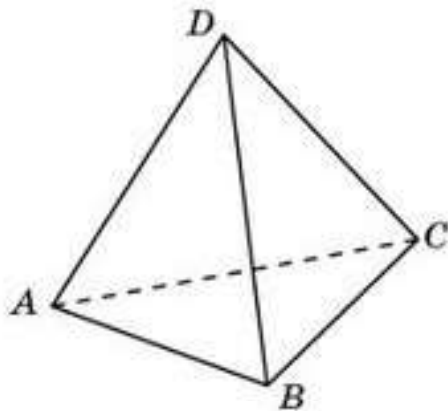


Рис. 20.12

- 20.13.** В параллелепипеде  $ABCA_1B_1C_1D_1$  (рис. 20.11) укажите вектор: а)  $\overline{AB} - \overline{AA_1}$ ; б)  $\overline{AC} - \overline{DD_1}$ ; в)  $\overline{AB_1} - \overline{BC_1}$ ; г)  $2\overline{AB} + \overline{BD_1}$ .
- 20.14.** В единичном кубе  $ABCA_1B_1C_1D_1$  найдите длину вектора: а)  $\overline{AB} - \overline{AA_1}$ ; б)  $\overline{AC} - \overline{DD_1}$ ; в)  $\overline{AB_1} - \overline{BC_1}$ ; г)  $2\overline{AB} + \overline{BD_1}$ .
- С**
- 20.15.** В тетраэдре  $ABCD$  все ребра равны 1 (рис. 20.12). Найдите длину вектора  $\overline{AD} + \overline{BC}$ .
- 20.16.** Для куба  $ABCA_1B_1C_1D_1$  укажите такую точку  $X$ , для которой выполняется равенство: а)  $\overline{XA} + \overline{XC} = \vec{0}$ ; б)  $\overline{XA} + \overline{XB} + \overline{XC} + \overline{XD} = \vec{0}$ ; в)  $\overline{XA} + \overline{XB} + \overline{XC} + \overline{XD} + \overline{XA_1} + \overline{XB_1} + \overline{XC_1} + \overline{XD_1} = \vec{0}$ .
- 20.17.** В правильной шестиугольной призме  $ABCDEF A_1B_1C_1D_1E_1F_1$  все ребра равны 1 (рис. 20.9). Найдите такие числа  $t, s$ , для которых: а)  $\overline{AC} = t\overline{AB} + s\overline{AF}$ ; б)  $\overline{AD} = t\overline{AB} + s\overline{AF}$ ; в)  $\overline{AE} = t\overline{AB} + s\overline{AF}$ ; г)  $\overline{AC_1} = t\overline{AB} + s\overline{AF_1}$ .

- 20.18.** В тетраэдре  $ABCD$  точки  $E$  и  $F$  являются серединами ребер соответственно  $AB$  и  $CD$  (рис. 20.12). Докажите, что  $\overline{EF} = \frac{1}{2}(\overline{AD} + \overline{BC})$ .
- 20.19.** Катер прошел в направлении к северо-западу 2 км, а потом, повернув на север, еще 1 км. Выберите масштаб, постройте вектор перемещения и найдите его длину.



- 20.20. Катер движется перпендикулярно к берегу со скоростью 5 м/с. Ширина реки равна 720 м, скорость течения 1 м/с, вследствие чего через каждые 5 м пройденного пути катер относит в сторону перпендикулярно курсу на 1 м. На сколько метров он уйдет в сторону, пока достигнет противоположного берега?

### Подготовьтесь к овладению новым знанием

- 20.21. Для куба  $ABCD A_1 B_1 C_1 D_1$  выразите вектор  $\overline{AC_1}$  через векторы  $\overline{AB}$ ,  $\overline{AD}$ ,  $\overline{AA_1}$ .

## § 21. Компланарные векторы

Три вектора в пространстве называются *компланарными*, если они лежат в одной плоскости или в параллельных плоскостях.

Например, для куба  $ABCD A_1 B_1 C_1 D_1$  векторы  $\overline{AB}$ ,  $\overline{CD}$  и  $\overline{B_1 C_1}$  компланарны.



Докажите, что три ненулевых вектора в пространстве компланарны, если при откладывании их от одной точки они располагаются в одной плоскости.

В курсе планиметрии доказывалось, что если векторы  $\vec{a}$  и  $\vec{b}$  на плоскости не коллинеарны, то любой вектор  $\vec{c}$  этой плоскости можно представить единственным образом в виде  $\vec{c} = x\vec{a} + y\vec{b}$ , где  $x$  и  $y$  — некоторые действительные числа.

В пространстве имеет место аналогичная теорема о разложении вектора по трем некопланарным векторам.

**Теорема.** Если векторы  $\vec{a}$ ,  $\vec{b}$  и  $\vec{c}$  не компланарны, то любой вектор  $\vec{d}$  можно представить единственным образом в виде  $\vec{d} = x\vec{a} + y\vec{b} + z\vec{c}$ , где  $x$ ,  $y$ ,  $z$  — некоторые действительные числа.

**Доказательство.** Отложим векторы  $\vec{a}$ ,  $\vec{b}$ ,  $\vec{c}$  и  $\vec{d}$  от точки  $O$  и обозначим их концы соответственно  $A$ ,  $B$ ,  $C$  и  $D$ . Через точку  $D$  проведем прямую, параллельную прямой  $OC$ , и обозначим через  $E$  ее точку пересечения с плоскостью  $AOB$  (рис. 21.1).

Если точка  $D$  принадлежит прямой  $OC$ , то в качестве точки  $E$  возьмем точку  $O$ . Векторы  $\overline{OE}$ ,  $\overline{OA}$  и  $\overline{OB}$  компланарны. Следовательно, существуют числа  $x$  и  $y$ , для которых выполняется равенство  $\overline{OE} = x\overline{OA} + y\overline{OB}$ . Векторы  $\overline{ED}$  и  $\overline{OC}$  коллинеарны. Следовательно, существует число  $z$ , для которого выполняется равенство  $\overline{ED} = z\overline{OC}$ . Так как  $\overline{OD} = \overline{OE} + \overline{ED}$ , то выполняется равенство  $\overline{OD} = x\overline{OA} + y\overline{OB} + z\overline{OC}$ , т. е.  $\vec{d} = x\vec{a} + y\vec{b} + z\vec{c}$ .

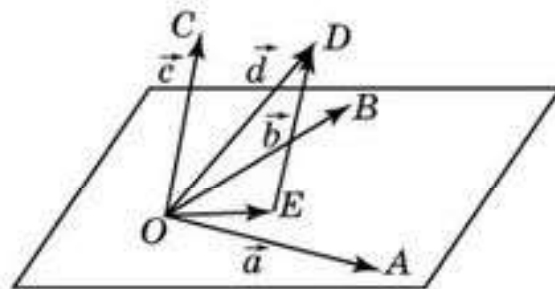


Рис. 21.1

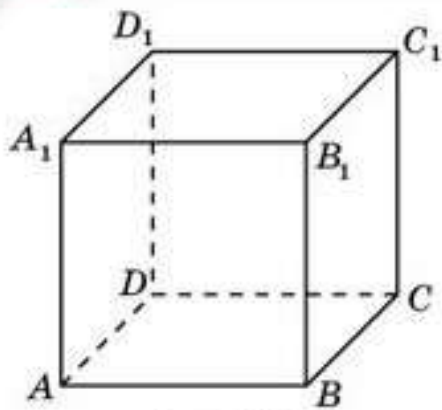


Рис. 21.2

Докажем, что такое представление единственно. Если бы, помимо полученного равенства, выполнялось равенство  $\vec{d} = x'\vec{a} + y'\vec{b} + z'\vec{c}$ , в котором  $x'$  отлично от  $x$ , или  $y'$  отлично от  $y$ , то выполнялось бы равенство  $\vec{0} = (x' - x)\vec{a} + (y' - y)\vec{b} + (z' - z)\vec{c}$ , в котором одно из чисел  $x' - x$ ,  $y' - y$ ,  $z' - z$  отлично от нуля. Следовательно, векторы  $\vec{a}$ ,  $\vec{b}$ ,  $\vec{c}$  были бы компланарны, что противоречит условию.  $\square$



Приведите пример трех некопланарных векторов с началом и концом в вершинах треугольной призмы  $ABCA_1B_1C_1$ .



В кубе  $ABCA_1B_1C_1D_1$  выразите вектор  $\vec{BD_1}$  через векторы  $\vec{BA}$ ,  $\vec{BC}$  и  $\vec{BB_1}$  (рис. 21.2).

## Вопросы

1. Какие три вектора в пространстве называются *компланарными* ?
2. Сформулируйте теорему о разложении вектора по трем некопланарным векторам.

## Задачи

### А

- 21.1. В кубе  $ABCA_1B_1C_1D_1$  (рис. 21.2) укажите векторы с началом и концом в вершинах куба, коллинеарные вектору  $\vec{AB}$ .
- 21.2. В треугольной призме  $ABCA_1B_1C_1$  (рис. 21.3) укажите векторы с началом и концом в вершинах призмы, коллинеарные вектору  $\vec{AA_1}$ .

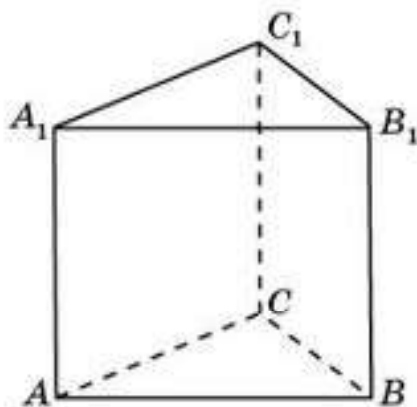


Рис. 21.3

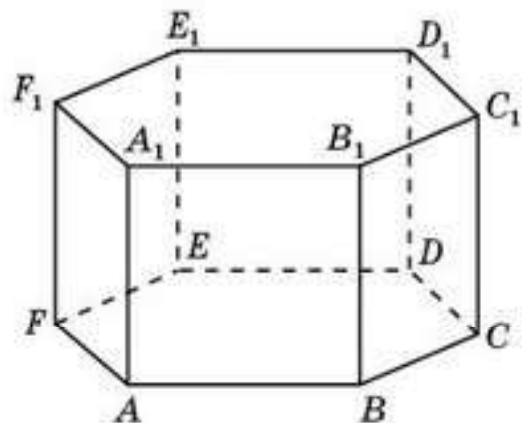


Рис. 21.4



- 21.3.** В правильной шестиугольной призме  $ABCDEF A_1 B_1 C_1 D_1 E_1 F_1$  (рис. 21.4) укажите векторы с началом и концом в вершинах призмы, коллинеарные вектору  $\overline{AB_1}$ .
- 21.4.** Векторы  $\vec{a}$  и  $\vec{b}$ ,  $\vec{b}$  и  $\vec{c}$  коллинеарны. Коллинеарны ли векторы  $\vec{a}$  и  $\vec{c}$ ?
- 21.5.** Коллинеарны ли векторы  $\overline{AD_1}$  и  $\overline{BC_1}$  в правильной шестиугольной призме  $ABCDEF A_1 B_1 C_1 D_1 E_1 F_1$  (рис. 21.4)?

**В**

- 21.6.** В параллелепипеде  $ABCD A_1 B_1 C_1 D_1$  (рис. 21.5) укажите какие-нибудь тройки: а) компланарных векторов; б) некомпланарных векторов.
- 21.7.** В треугольной призме  $ABC A_1 B_1 C_1$  (рис. 21.3) укажите какие-нибудь тройки: а) компланарных векторов; б) некомпланарных векторов.

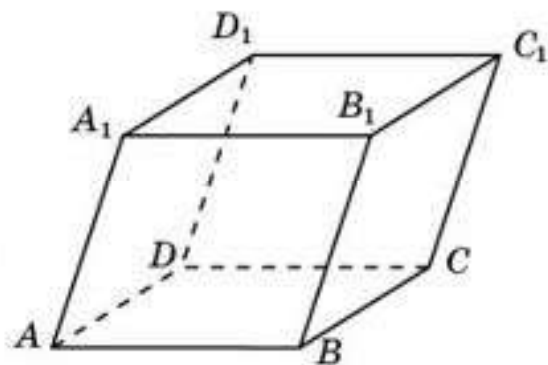


Рис. 21.5

- 21.8.** В кубе  $ABCD A_1 B_1 C_1 D_1$  (рис. 21.2) выразите через векторы  $\overline{AB}$ ,  $\overline{AD}$  и  $\overline{AA_1}$  вектор: а)  $\overline{A_1 C}$ ; б)  $\overline{BD_1}$ .
- 21.9.** В правильной шестиугольной призме  $ABCDEF A_1 B_1 C_1 D_1 E_1 F_1$  (рис. 21.4) выразите через векторы  $\overline{AB}$ ,  $\overline{AF}$  и  $\overline{AA_1}$  вектор: а)  $\overline{AD_1}$ ; б)  $\overline{AC_1}$ .

**С**

- 21.10.** Векторы  $\vec{a}$  и  $\vec{b}$  коллинеарны. Будут ли векторы  $\vec{a} + \vec{b}$  и  $\vec{a} - \vec{b}$  коллинеарны?
- 21.11.** Векторы  $\vec{a} + \vec{b}$  и  $\vec{a} - \vec{b}$  коллинеарны. Докажите, что векторы  $\vec{a}$  и  $\vec{b}$  коллинеарны.
- 21.12.** В кубе  $ABCD A_1 B_1 C_1 D_1$  выразите вектор  $\overline{AC_1}$  через векторы  $\overline{AC}$ ,  $\overline{AB_1}$  и  $\overline{AD_1}$ .
- 21.13.** В тетраэдре  $ABCD$  (рис. 21.6) точки  $E, F$  являются точками пересечения медиан соответственно граней  $ADB$  и  $BDC$ . Докажите, что векторы  $\overline{EF}$  и  $\overline{AC}$  коллинеарны. Найдите отношение длин этих векторов.
- 21.14.** Точки  $E$  и  $F$  являются серединами соответственно ребер  $AB$  и  $C_1 D_1$  параллелепипеда  $ABCD A_1 B_1 C_1 D_1$  (рис. 21.7). Докажите, что векторы  $\overline{CE}$ ,  $\overline{AF}$  и  $\overline{BB_1}$  компланарны.

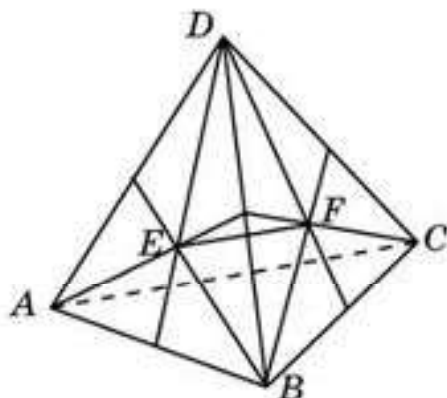


Рис. 21.6

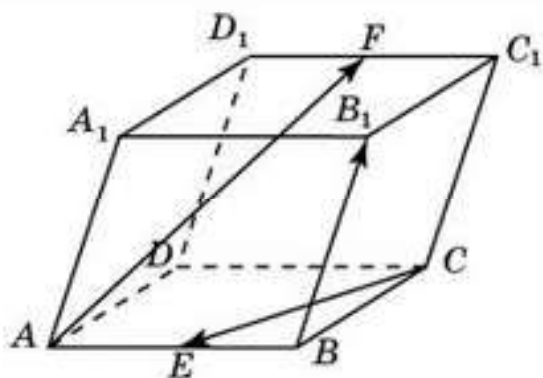


Рис. 21.7

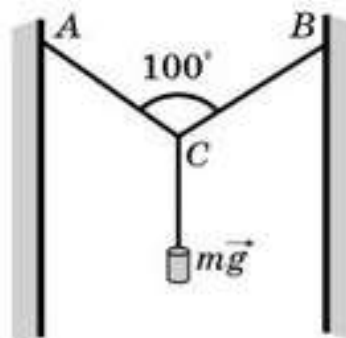


Рис. 21.8

- 21.15.** Проволока закреплена в точках  $A$  и  $B$ , а в точке  $C$  приложена сила  $F = mg = 45$  Н. Найдите силу натяжения на участках  $AC$  и  $BC$ , если точки  $A$  и  $B$  находятся на одном уровне (рис. 21.8).

### Подготовьтесь к овладению вычислениями

- 21.16.** Повторите определение угла между векторами на плоскости.  
**21.17.** По аналогии с определением угла между векторами на плоскости определите понятие угла между векторами в пространстве.  
**21.18.** Для куба  $ABCD A_1 B_1 C_1 D_1$  найдите угол между векторами  $\overrightarrow{AD_1}$  и  $\overrightarrow{CD_1}$ .  
**21.19.** По аналогии с определением скалярного произведения векторов на плоскости определите скалярное произведение векторов в пространстве.  
**21.20.** Для куба  $ABCD A_1 B_1 C_1 D_1$  найдите скалярное произведение векторов  $\overrightarrow{AD_1}$  и  $\overrightarrow{CD_1}$ .

## § 22. Угол между векторами. Скалярное произведение векторов

Угол между векторами в пространстве определяется аналогично тому, как это делалось для векторов на плоскости.

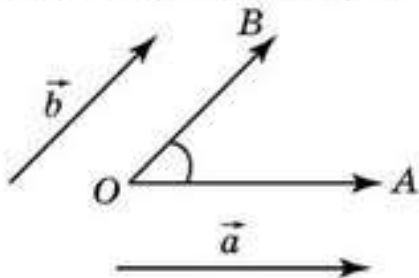


Рис. 22.1

Пусть  $\vec{a}$  и  $\vec{b}$  два ненулевых вектора. Отложим их от точки  $O$  так, что  $\overrightarrow{OA} = \vec{a}$ ,  $\overrightarrow{OB} = \vec{b}$  (рис. 22.1). Угол, образованный лучами  $OA$  и  $OB$ , называется *углом между векторами  $\vec{a}$  и  $\vec{b}$* .

Угол между двумя одинаково направленными векторами считается равным  $0^\circ$ .

Два вектора называются *перпендикулярными*, если угол между ними прямой.

**Пример 1.** Для куба  $ABCD A_1 B_1 C_1 D_1$  (рис. 22.2) найдите угол между векторами  $\overrightarrow{AB_1}$  и  $\overrightarrow{CD_1}$ .

*Решение.* Угол между векторами  $\overrightarrow{AB_1}$  и  $\overrightarrow{CD_1}$  равен углу между векторами  $\overrightarrow{AB_1}$  и  $\overrightarrow{BA_1}$ , значит, равен  $90^\circ$ .



Скалярное произведение векторов в пространстве определяется аналогично тому, как это делалось для плоскости.

Скалярным произведением двух ненулевых векторов называется произведение их длин на косинус угла между ними.

Если хотя бы один из векторов нулевой, то скалярное произведение таких векторов считается равным нулю.

Скалярное произведение векторов  $\vec{a}$  и  $\vec{b}$  обозначается  $\vec{a} \cdot \vec{b}$ . По определению

$$\vec{a} \cdot \vec{b} = |\vec{a}| \cdot |\vec{b}| \cdot \cos j,$$

где  $j$  — угол между векторами  $\vec{a}$  и  $\vec{b}$ .

Произведение  $\vec{a} \cdot \vec{a}$  называется скалярным квадратом и обозначается  $\vec{a}^2$ . Из формулы скалярного произведения следует равенство  $\vec{a}^2 = |\vec{a}|^2$ .

Ясно, что скалярное произведение двух ненулевых векторов равно нулю тогда и только тогда, когда угол между ними равен  $90^\circ$ , поскольку именно в этом случае косинус угла между этими векторами равен нулю.



Выразите скалярное произведение двух противоположно направленных векторов  $\vec{a}$  и  $\vec{b}$  через их длины.

Скалярное произведение векторов имеет простой физический смысл и связывает работу  $A$ , производимую постоянной силой  $\vec{F}$  при перемещении тела на вектор  $\vec{a}$ , составляющий с направлением силы  $\vec{F}$  угол  $j$ , а именно, имеет место следующая формула

$$A = \vec{F} \cdot \vec{a} = |\vec{F}| \cdot |\vec{a}| \cdot \cos j,$$

означающая, что работа является скалярным произведением силы на перемещение.

**Пример 2.** Для единичного куба  $ABCD A_1 B_1 C_1 D_1$  (рис. 22.3) найдите скалярное произведение векторов  $\overline{AC}$  и  $\overline{BD_1}$ .

**Решение.** Векторы  $\overline{AC}$  и  $\overline{BD_1}$  перпендикулярны. Следовательно, их скалярное произведение равно нулю.

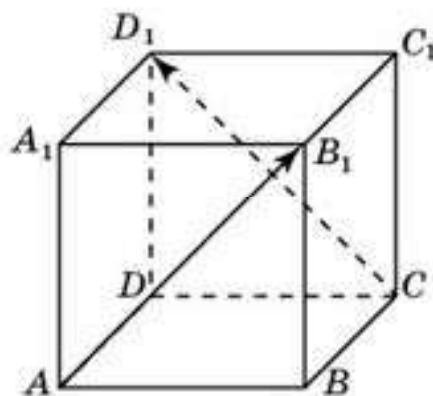


Рис. 22.2

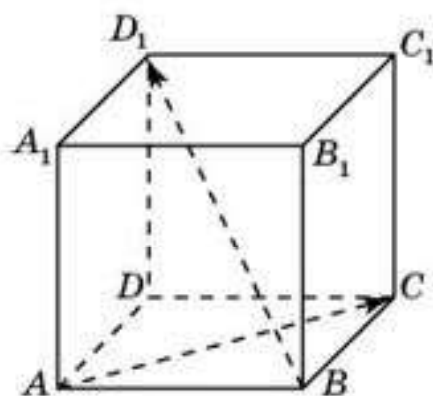


Рис. 22.3

## Вопросы

1. Что называется углом между векторами?
2. Какие два вектора называются перпендикулярными?
3. Что называется скалярным произведением двух векторов?
4. Как обозначается скалярное произведение?
5. Что называется скалярным квадратом?
6. В каком случае скалярное произведение двух векторов равно нулю?
7. Какой физический смысл имеет скалярное произведение?

Задачи

A

- 22.1. Какой знак имеет скалярное произведение векторов, если угол между ними: а) острый, б) тупой?
- 22.2. Для куба  $ABCD A_1 B_1 C_1 D_1$  (рис. 22.4) найдите угол между векторами: а)  $\overline{AC}$  и  $\overline{B_1 D_1}$ ; б)  $\overline{AB}$  и  $\overline{B_1 C_1}$ ; в)  $\overline{AB_1}$  и  $\overline{BC_1}$ .

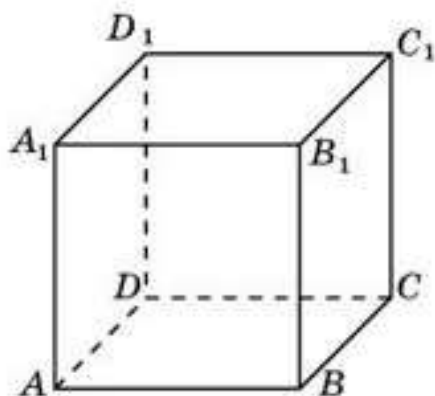


Рис. 22.4

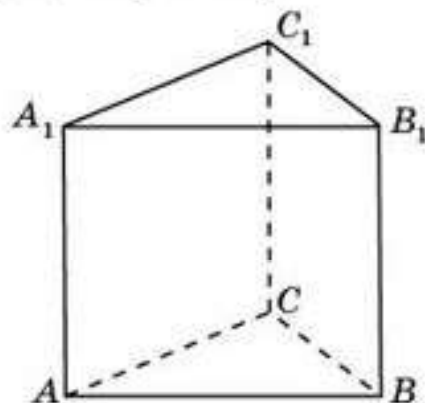


Рис. 22.5

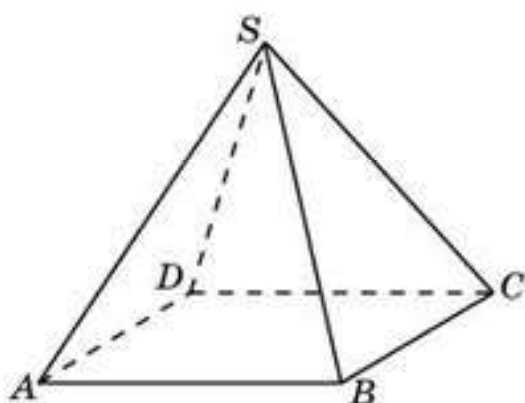


Рис. 22.6

- 22.3. В правильной треугольной призме  $ABCA_1 B_1 C_1$  (рис. 22.5) найдите угол между векторами: а)  $\overline{AB}$  и  $\overline{CC_1}$ ; б)  $\overline{AB}$  и  $\overline{B_1 C_1}$ .
- 22.4. В правильной четырехугольной пирамиде  $SABCD$  все ребра равны 1 (рис. 22.6). Найдите угол между векторами: а)  $\overline{AB}$  и  $\overline{SC}$ ; б)  $\overline{SB}$  и  $\overline{SD}$ .

- 22.5. В правильной шестиугольной пирамиде  $SABCDEF$  стороны основания равны 1, а боковые ребра равны 2 (рис. 22.7). Найдите угол между векторами: а)  $\overline{SA}$  и  $\overline{SD}$ ; б)  $\overline{SA}$  и  $\overline{BC}$ .

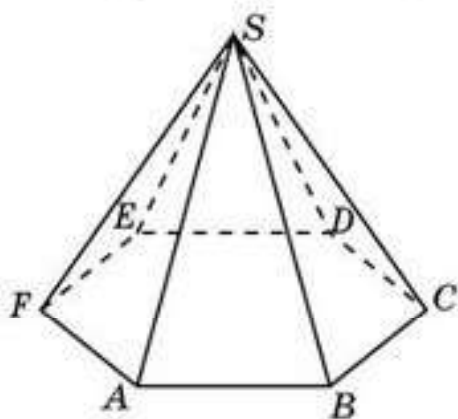


Рис. 22.7

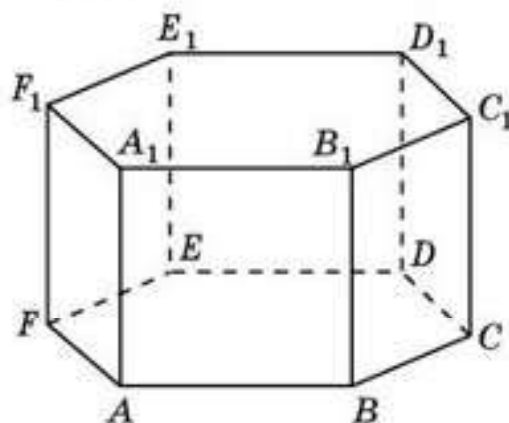


Рис. 22.8



- 22.6. В правильной шестиугольной призме  $ABCDEF A_1 B_1 C_1 D_1 E_1 F_1$  все ребра равны 1 (рис. 22.8). Найдите угол между векторами: а)  $\overline{AA_1}$  и  $\overline{BC_1}$ ; б)  $\overline{AA_1}$  и  $\overline{DE_1}$ ; в)  $\overline{AB}$  и  $\overline{B_1C_1}$ ; г)  $\overline{AB}$  и  $\overline{C_1D_1}$ ; д)  $\overline{AC}$  и  $\overline{B_1C_1}$ ; е)  $\overline{AC}$  и  $\overline{B_1D_1}$ ; ж)  $\overline{AC}$  и  $\overline{B_1E_1}$ .

**В**

- 22.7. Для единичного куба  $ABCD A_1 B_1 C_1 D_1$  (рис. 22.4) найдите скалярное произведение векторов: а)  $\overline{AC}$  и  $\overline{B_1D_1}$ ; б)  $\overline{AB}$  и  $\overline{B_1C_1}$ ; в)  $\overline{AB_1}$  и  $\overline{BC_1}$ .
- 22.8. В правильной треугольной призме  $ABC A_1 B_1 C_1$  все ребра равны 1 (рис. 22.5). Найдите скалярное произведение векторов: а)  $\overline{AB}$  и  $\overline{CC_1}$ ; б)  $\overline{AB}$  и  $\overline{B_1C_1}$ .
- 22.9. В правильной четырехугольной пирамиде  $SABCD$  все ребра равны 1 (рис. 22.6). Найдите скалярное произведение векторов: а)  $\overline{AB}$  и  $\overline{SC}$ ; б)  $\overline{SB}$  и  $\overline{SD}$ .
- 22.10. В правильной шестиугольной пирамиде  $SABCDEF$  стороны основания равны 1, а боковые ребра равны 2 (рис. 22.7). Найдите скалярное произведение векторов: а)  $\overline{SA}$  и  $\overline{SD}$ ; б)  $\overline{SA}$  и  $\overline{BC}$ .
- 22.11. В правильной шестиугольной призме  $ABCDEF A_1 B_1 C_1 D_1 E_1 F_1$  все ребра равны 1 (рис. 22.8). Найдите скалярное произведение векторов: а)  $\overline{AA_1}$  и  $\overline{BC_1}$ ; б)  $\overline{AA_1}$  и  $\overline{DE_1}$ ; в)  $\overline{AB}$  и  $\overline{B_1C_1}$ ; г)  $\overline{AB}$  и  $\overline{C_1D_1}$ ; д)  $\overline{AC}$  и  $\overline{B_1C_1}$ ; е)  $\overline{AC}$  и  $\overline{B_1D_1}$ ; ж)  $\overline{AC}$  и  $\overline{B_1E_1}$ .

**С**

- 22.12. Точки  $M, N, K$  — середины ребер соответственно  $AB, AD, CD$  правильного тетраэдра с ребром 1 (рис. 22.9). Найдите скалярные произведения: а)  $\overline{AC} \cdot \overline{AB}$ ; б)  $\overline{AD} \cdot \overline{DB}$ ; в)  $\overline{KN} \cdot \overline{AC}$ ; г)  $\overline{MN} \cdot \overline{BC}$ ; д)  $\overline{NK} \cdot \overline{BA}$ ; е)  $\overline{KM} \cdot \overline{DC}$ .
- 22.13. Из точки  $C$ , не принадлежащей плоскости  $\alpha$ , опущен перпендикуляр  $CA$  на эту плоскость. Докажите, что для произвольной точки  $B$  плоскости  $\alpha$  скалярное произведение  $\overline{CA} \cdot \overline{CB}$  не зависит от положения точки  $B$ .
- 22.14. Вычислите работу, которую производит сила  $\overline{F}$ , перемещая объект из вершины  $A$  в вершину  $D$  единичного куба (рис. 22.10).
- 22.15. Найдите величину равнодействующей трех сил, по 10 Н каждая, если силы приложены к одной точке и углы между направлениями сил равны  $60^\circ, 60^\circ, 90^\circ$ .

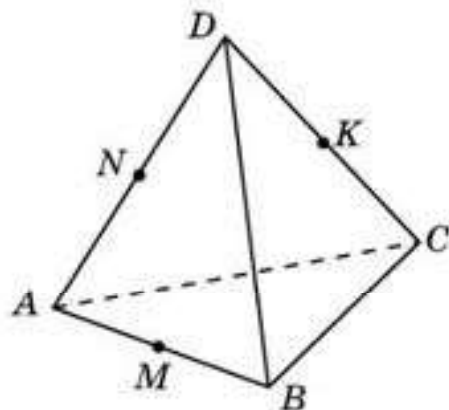


Рис. 22.9

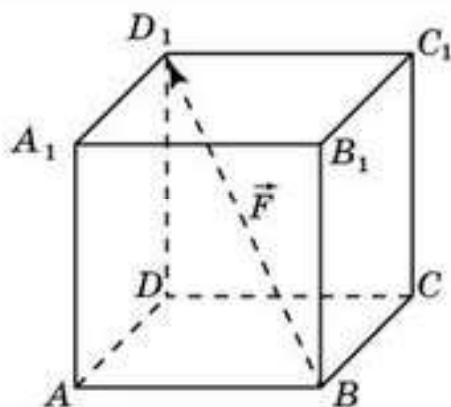


Рис. 22.10

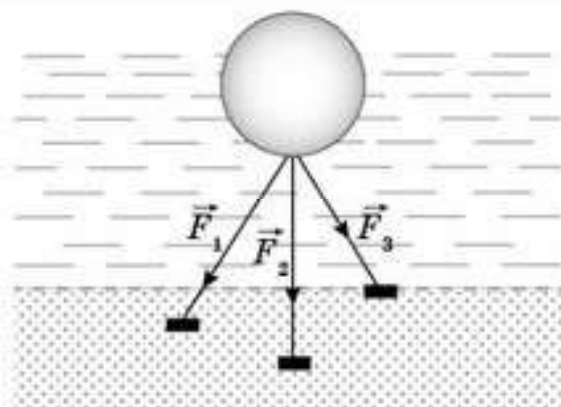


Рис. 22.11

- 22.16.** Шар массой 500 кг и объемом  $0,7 \text{ м}^3$  удерживается в подводном положении при помощи трех тросов одинаковой длины (рис. 22.11). Вычислите силу натяжения каждого троса, если угол между двумя любыми тросами равен  $60^\circ$ .

## Подготовьтесь к овладению вычислениями

- 22.17.** Повторите понятие прямоугольной системы координат на плоскости.
- 22.18.** Для точек  $A_1(x_1; y_1)$  и  $A_2(x_2; y_2)$  на координатной плоскости укажите координаты середины отрезка  $A_1A_2$ .
- 22.19.** Для точек  $A_1(x_1; y_1)$  и  $A_2(x_2; y_2)$  на координатной плоскости укажите координаты точки  $A$  отрезка  $A_1A_2$ , делящей этот отрезок в отношении  $k$ , т. е.  $\frac{A_1A}{AA_2} = k$ .
- 22.20.** По аналогии с понятием прямоугольной системы координат на плоскости попробуйте определить понятие прямоугольной системы координат в пространстве.

## § 23. Прямоугольная система координат в пространстве

В курсе планиметрии мы познакомились с прямоугольной системой координат на плоскости. Напомним, что *координатной прямой* называется такая прямая, на которой выбраны точка  $O$ , называемая *началом координат*, и единичный вектор  $\vec{OE}$ , указывающий положительное направление координатной прямой.

*Прямоугольной системой координат на плоскости* называется пара перпендикулярных координатных прямых с общим началом координат. Начало координат обозначается буквой  $O$ , а координатные прямые обозначаются  $Ox$ ,  $Oy$  и называются соответственно *осью абсцисс* и *осью ординат* (рис. 23.1).



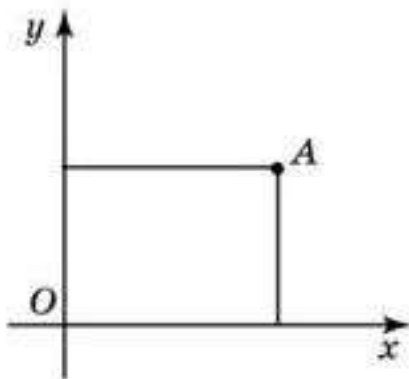


Рис. 23.1

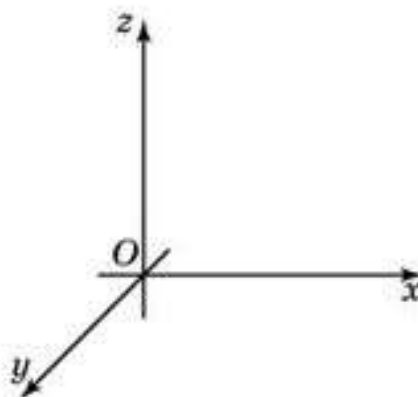


Рис. 23.2

Каждой точке на координатной прямой соответствует число, называемое *координатой* этой точки, а каждой точке на плоскости с заданной системой координат соответствует пара чисел  $(x; y)$ , называемых *координатами точки на плоскости* относительно данной системы координат.

Впервые прямоугольные координаты были введены Р. Декартом (1596—1650). Поэтому прямоугольную систему координат называют также *декартовой системой координат*, а сами координаты — *декартовыми координатами*. Введение прямоугольных координат на плоскости и в пространстве позволило свести многие геометрические задачи к чисто алгебраическим и, наоборот, алгебраические задачи к геометрическим. Метод, основанный на этом сведении, называется *методом координат*.

*Прямоугольной системой координат в пространстве* называется тройка взаимно перпендикулярных координатных прямых с общим началом координат. Общее начало координат обозначается буквой  $O$ , а координатные прямые обозначаются  $Ox$ ,  $Oy$ ,  $Oz$  и называются соответственно *осью абсцисс*, *осью ординат* и *осью аппликат* (рис. 23.2). Плоскости, проходящие через пары координатных прямых, называются *координатными плоскостями* и обозначаются  $Oxy$ ,  $Oxz$  и  $Oyz$ .

Пусть  $A$  — произвольная точка пространства, в котором выбрана прямоугольная система координат. Через точку  $A$  проведем плоскость, перпендикулярную оси  $Ox$ , и точку ее пересечения с осью  $Ox$  обозначим  $A_x$  (рис. 23.3). Координата этой точки на оси  $Ox$  называется *абсциссой* точки  $A$  и обозначается  $x$ . Аналогично на осях  $Oy$  и  $Oz$  определяются точки  $A_y$  и  $A_z$ , координаты которых называются соответственно *ординатой* и *аппликатой* точки  $A$  и обозначаются  $y$  и  $z$  соответственно. Тройка чисел  $(x; y; z)$  называется *координатами точки  $A$  в пространстве*.

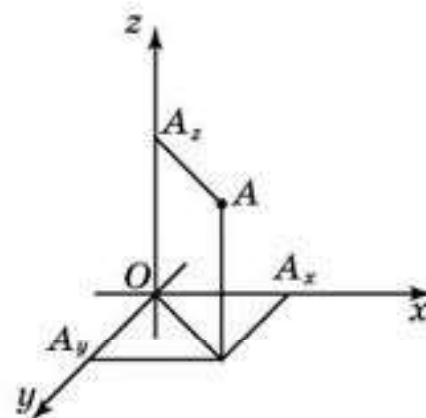


Рис. 23.3

Заметим, что ортогональные проекции точки  $A(x; y; z)$  на координатные плоскости  $Oxy$ ,  $Oxz$ ,  $Oyz$  имеют координаты соответственно  $(x; y; 0)$ ,  $(x; 0; z)$ ,  $(0; y; z)$ .

В планиметрии доказывалось, что на плоскости середина отрезка с концами  $A_1(x_1; y_1)$  и  $A_2(x_2; y_2)$  имеет координаты  $\left(\frac{x_1 + x_2}{2}; \frac{y_1 + y_2}{2}\right)$ . В пространстве имеет место аналогичная теорема.

**Теорема.** *Середина отрезка с концами  $A_1(x_1; y_1; z_1)$ ,  $A_2(x_2; y_2; z_2)$  имеет координаты  $\left(\frac{x_1 + x_2}{2}; \frac{y_1 + y_2}{2}; \frac{z_1 + z_2}{2}\right)$ .*

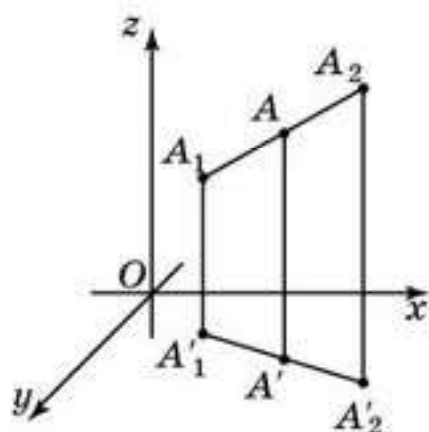


Рис. 23.4

**Доказательство.** Пусть  $A(x; y; z)$  — середина отрезка  $A_1A_2$ . Спроектируем этот отрезок на плоскость  $Oxy$  (т. е. проведем из точек  $A_1, A_2$  прямые, перпендикулярные плоскости  $Oxy$ ) (рис 23.4). В плоскости  $Oxy$  получим соответственно точки  $A'_1(x_1; y_1; 0)$ ,  $A'(x; y; 0)$ ,  $A'_2(x_2; y_2; 0)$ . Так как ортогональное проектирование сохраняет отношение отрезков, лежащих на одной прямой, то  $A'$  — середина отрезка  $A'_1A'_2$ . Следовательно, она имеет координаты  $\left(\frac{x_1 + x_2}{2}; \frac{y_1 + y_2}{2}; 0\right)$ . Аналогичным образом,

рассматривая ортогональную проекцию отрезка  $A_1A_2$  на плоскость  $Oxz$  (или  $Oyz$ ), получим,  $z = \frac{z_1 + z_2}{2}$ . Таким образом, середина  $A$  отрезка

$A_1A_2$  имеет координаты  $\left(\frac{x_1 + x_2}{2}; \frac{y_1 + y_2}{2}; \frac{z_1 + z_2}{2}\right)$ .  $\square$



Используя теорему о пропорциональных отрезках, докажите, что если точка  $A$  принадлежит отрезку, соединяющему точки  $A_1(x_1; y_1; z_1)$ ,  $A_2(x_2; y_2; z_2)$  в координатном пространстве, и делит этот отрезок в отношении  $k$ , т. е.  $\frac{AA_2}{AA_1} = k$ , то она имеет координаты

$$A = \left(\frac{x_1 + kx_2}{1 + k}; \frac{y_1 + ky_2}{1 + k}; \frac{z_1 + kz_2}{1 + k}\right).$$

## Исторические сведения

Рене Декарт — один из выдающихся ученых XVII в. Поражает широта его интересов. Им получены глубокие результаты в области философии, математики, физики, биологии, медицины и др. Философию Декарт рассматривал как универсальную науку, способную найти объяснение многим явлениям реального мира, вскрыть законы, которые управляют природой и человеческим сознанием. Декарт является



основоположником известного философского учения — картезианства (Картезий — латинизированное имя Декарта), в котором он изложил свои взгляды на развитие естественных научных теорий. В частности, он исследовал вопрос о научном объяснении происхождения Солнечной системы и выдвинул свою гипотезу.

Биология обязана Декарту учением о живом организме как о сложной машине, действующей по определенным естественным законам. Ему принадлежит первоначальное понятие об условном рефлексе.

Наибольшую известность и славу принесла Декарту книга, вышедшая в 1637 г. (когда Декарту был уже 41 год). По обычаю того времени она имела довольно длинное название: “Рассуждение о методе, позволяющем направлять разум и отыскивать истину в науках. Кроме того, Диоптрика, Метеоры и Геометрия, которые являются приложениями этого метода”. В этом сочинении Декарт сформулировал “главные правила метода”, а именно:

*Первое* : не принимать за истинное что бы то ни было, прежде чем не признал это несомненно истинным, т. е. старательно избегать поспешности и предубеждения и включать в свои рассуждения только то, что представляется моему уму так ясно и отчетливо, что никоим образом не может дать повод к сомнению.

*Второе* : делить каждую из рассматриваемых мною трудностей на столько частей, насколько потребуется, чтобы лучше их разрешить.

*Третье* : руководить ходом своих мыслей, начиная с предметов простейших и легко познаваемых, и восходить мало-помалу, как по ступеням, до познания наиболее сложных, допуская существование порядка даже среди тех, которые в естественном порядке вещей не предшествуют друг другу.

*И последнее* : делать всюду настолько полные перечни и такие общие обзоры, чтобы быть уверенным, что ничего не пропущено.

Декарт подчеркивал, что в основе научной теории должны лежать ясные и простые принципы. Необходимо изучать, описывать, классифицировать явления природы, проводить эксперименты и математические расчеты. Изучая природу, нужно полагаться лишь на свои силы, а не ждать помощи свыше.

“Геометрия” Декарта, являющаяся приложением к “Рассуждению о методе ...”, произвела переворот в геометрии того времени. За короткое время “Геометрия” выдержала четыре издания и была настольной книгой каждого математика XVII в. В XVIII — XIX вв. на основе метода координат Декарта возникли многомерная, а затем и бесконечномерная геометрии. Сегодня без метода координат невозможно представить себе ни математику, ни физику.

## Вопросы

1. Какая прямая называется *координатной прямой* ?
2. Что называется *прямоугольной системой координат* : а) на плоскости ; б) в пространстве ?
3. Что называется *осью*: а) *абсцисс* ; б) *ординат* ; в) *апplikат* ?
4. Какие плоскости называются *координатными плоскостями* ?
5. Что называется: а) *абсциссой* ; б) *ординатой* ; в) *апplikатой точки* ?

## Задачи

### А

**23.1.** В прямоугольной системе координат в пространстве изобразите точки с координатами:  $(1; 2; 3)$ ,  $(2; -1; 1)$ ,  $(-1; 3; 2)$ .

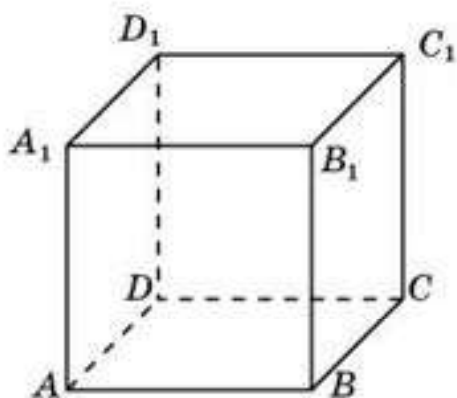


Рис. 23.5

- 23.2.** Найдите координаты ортогональных проекций точек  $A(1; 3; 4)$  и  $B(5; -6; 2)$  на плоскость: а)  $Oxy$ ; б)  $Oxz$ ; в)  $Oyz$ .
- 23.3.** Дан единичный куб  $ABCD A_1 B_1 C_1 D_1$  (рис. 23.5). Начало координат находится в точке  $D$ . Положительные лучи осей координат соответственно  $DC$ ,  $DA$  и  $DD_1$ . Найдите координаты всех вершин куба.
- 23.4.** Найдите координаты середины отрезка: а)  $AB$ , если  $A(1; 2; 3)$  и  $B(-1; 0; 1)$ ; б)  $CD$ , если  $C(3; 3; 0)$  и  $D(3; -1; 2)$ .

### В

**23.5.** Точка  $A$  принадлежит отрезку с концами  $A_1(1; -2; 3)$ ,  $A_2(-2; 1; 0)$  и делит его в отношении  $2 : 1$ , т. е.  $\frac{A_1A}{AA_2} = 2$ . Найдите координаты точки  $A$ .

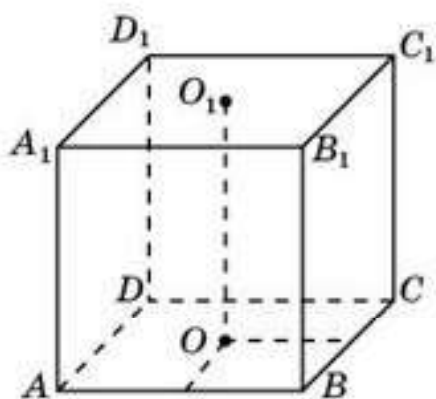


Рис. 23.6

- 23.6.** Единичный куб  $ABCD A_1 B_1 C_1 D_1$  помещен в прямоугольную систему координат так, что началом координат является центр грани  $ABCD$  (рис. 23.6), ребра куба параллельны соответствующим осям координат, вершина  $A$  имеет координаты  $(-1; 1; 0)$ . Найдите координаты всех остальных вершин куба.
- 23.7.** Гранями многогранника являются многоугольники с прямыми углами



(рис. 23.7). Вершина  $D$  — начало координат, отрезки  $DC$ ,  $DA$ ,  $DD_2$  лежат на осях координат  $Ox$ ,  $Oy$  и  $Oz$  соответственно. Найдите координаты вершин этого многогранника.

- 23.8.** В правильной треугольной призме  $ABCA_1B_1C_1$ , все ребра которой равны 1, точки  $D$  и  $D_1$  — середины ребер соответственно  $AC$  и  $A_1C_1$  (рис. 23.8). Точка  $D$  — начало координат, отрезки  $DB$ ,  $DA$ ,  $DD_1$  лежат на осях координат  $Ox$ ,  $Oy$  и  $Oz$  соответственно. Найдите координаты вершин этой призмы.

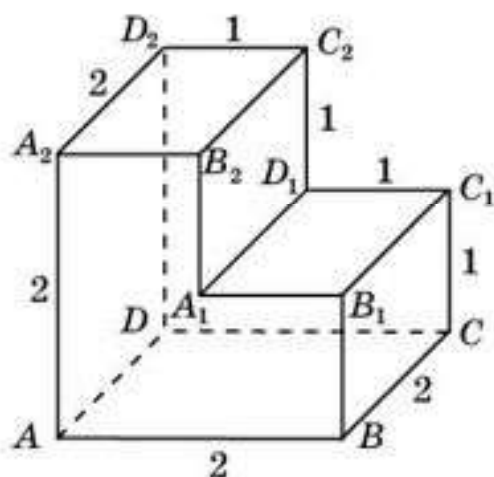


Рис. 23.7

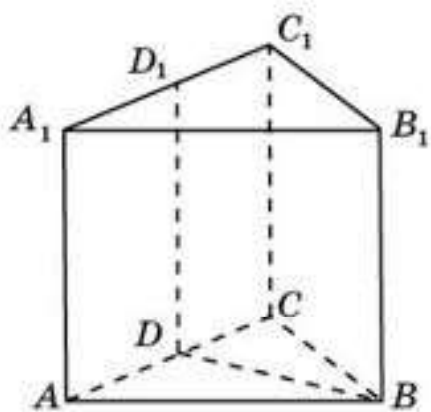


Рис. 23.8

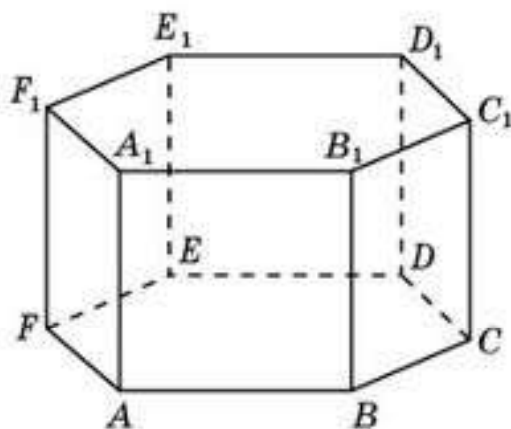


Рис. 23.9

- 23.9.** В правильной шестиугольной призме  $ABCDEF A_1 B_1 C_1 D_1 E_1 F_1$ , все ребра которой равны 1, вершина  $E$  — начало координат, отрезки  $ED$ ,  $EA$ ,  $EE_1$  лежат на осях координат  $Ox$ ,  $Oy$  и  $Oz$  соответственно (рис. 23.9). Найдите координаты вершин этой призмы.
- 23.10.** В правильной шестиугольной пирамиде  $SABCDEF$ , стороны основания которой равны 1, а боковые ребра равны 2, точка  $O$  — центр основания, точка  $G$  — середина ребра  $AB$ , отрезки  $OC$ ,  $OG$ ,  $OS$  лежат на осях координат  $Ox$ ,  $Oy$  и  $Oz$  соответственно (рис. 23.10). Найдите координаты вершин этой пирамиды.
- 23.11.** Что представляет собой геометрическое место точек пространства, для которых: а) первая координата равна нулю; б) вторая координата равна нулю; в) третья координата равна нулю; г) первая и вторая координаты

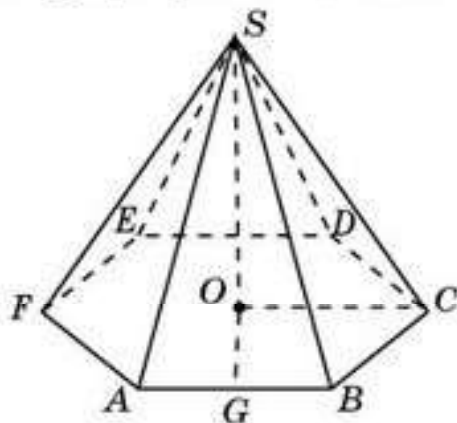


Рис. 23.10

равны нулю; д) первая и третья координаты равны нулю; е) вторая и третья координаты равны нулю; ж) все координаты равны нулю?

- 23.12.** Найдите расстояние от точки  $A(-1; 2; 3)$  до координатной плоскости: а)  $Oxy$ ; б)  $Oxz$ ; в)  $Oyz$ .

### С

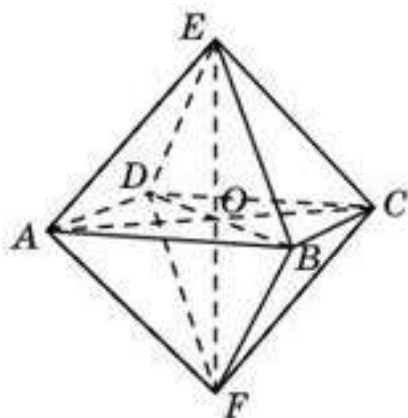


Рис. 23.11

- 23.13.** Центром  $O$  октаэдра является начало координат. Две его вершины имеют координаты  $A(0; 1; 0)$  и  $B(1; 0; 0)$  (рис. 23.11). Найдите координаты остальных вершин октаэдра.

- 23.14.** Найдите расстояние от точки  $A(x; y; z)$  до координатной плоскости: а)  $Oxy$ ; б)  $Oxz$ ; в)  $Oyz$ .

- 23.15.** Какому условию удовлетворяют координаты точек пространства, одинаково удаленные от: а) двух координатных плоскостей  $Oxy, Oxz$ ; б) всех трех координатных плоскостей?

## Подготовка к овладению навыками

- 23.16.** Повторите формулу расстояния между точками на координатной плоскости.
- 23.17.** По аналогии с формулой расстояния между точками на координатной плоскости попробуйте написать формулу расстояния между точками  $A_1(x_1; y_1; z_1), A_2(x_2; y_2; z_2)$  в координатном пространстве.
- 23.18.** Найдите расстояние между точками  $O(0; 0; 0)$  и  $A(1; 2; 2)$ .
- 23.19.** По аналогии с уравнением окружности на координатной плоскости попробуйте написать уравнение сферы с центром в точке  $A_0(x_0; y_0; z_0)$  и радиусом  $R$  в координатном пространстве.
- 23.20.** Напишите уравнение сферы с центром  $O(0; 0; 0)$  и радиусом 1.

### § 24. Расстояние между двумя точками. Уравнение сферы

В планиметрии доказывалось, что расстояние между точками  $A_1(x_1; y_1)$  и  $A_2(x_2; y_2)$  на плоскости выражается формулой

$$A_1A_2 = \sqrt{(x_2 - x_1)^2 + (y_2 - y_1)^2}.$$

В пространстве имеет место аналогичная формула.



**Теорема.** Расстояние между точками  $A_1(x_1; y_1; z_1)$ ,  $A_2(x_2; y_2; z_2)$  в пространстве выражается формулой

$$A_1A_2 = \sqrt{(x_2 - x_1)^2 + (y_2 - y_1)^2 + (z_2 - z_1)^2}.$$

**Доказательство.** Для точек  $A_1(x_1; y_1; z_1)$ ,  $A_2(x_2; y_2; z_2)$  пространства рассмотрим прямую  $A_1A_2$ . Она не может быть параллельна одновременно всем осям координат. Предположим, например, что она не параллельна оси  $Oz$ , и пусть  $A_1', A_2'$  — ортогональные проекции соответственно точек  $A_1, A_2$  на плоскость  $Oxy$  (рис. 24.1).

Эти проекции имеют координаты  $(x_1; y_1; 0)$ ,  $(x_2; y_2; 0)$  соответственно. Расстояние между точками  $A_1', A_2'$  выражается формулой

$$A_1'A_2' = \sqrt{(x_2 - x_1)^2 + (y_2 - y_1)^2}.$$

Через точку  $A_1$  проведем прямую, параллельную  $A_1'A_2'$ , и точку ее пересечения с прямой  $A_2'A_2$  обозначим  $B$ . Тогда треугольник  $A_1A_2B$  — прямоугольный,  $A_1B = A_1'A_2'$ ,  $A_2B = |z_2 - z_1|$ . Следовательно, по теореме Пифагора, имеем

$$A_1A_2 = \sqrt{(x_2 - x_1)^2 + (y_2 - y_1)^2 + (z_2 - z_1)^2}. \quad \square$$

Непосредственно из определения сферы следует, что координаты точек сферы с центром в точке  $A_0(x_0; y_0; z_0)$  и радиусом  $R$  удовлетворяют равенству

$$(x - x_0)^2 + (y - y_0)^2 + (z - z_0)^2 = R^2.$$

Это равенство называется *уравнением сферы* с центром в точке  $A_0(x_0; y_0; z_0)$  и радиусом  $R$  (рис. 24.2).

Координаты точек соответствующего шара удовлетворяют неравенству

$$(x - x_0)^2 + (y - y_0)^2 + (z - z_0)^2 \leq R^2.$$

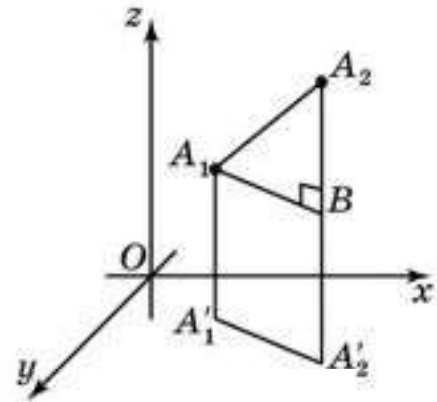


Рис. 24.1

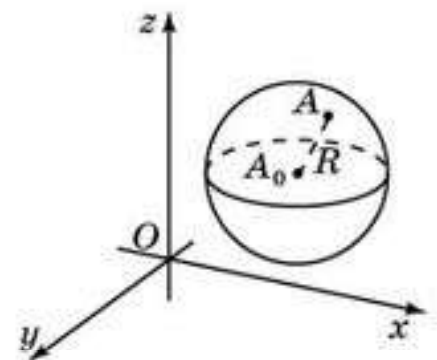


Рис. 24.2



Напишите неравенство, которому удовлетворяют координаты точек, не принадлежащих шару с центром в точке  $A_0(x_0; y_0; z_0)$  и радиусом  $R$ .

## Вопросы

1. Какой формулой выражается расстояние между двумя точками в пространстве?
2. Какому равенству удовлетворяют координаты точек сферы?
3. Какое равенство называется *уравнением сферы*?
4. Какому неравенству удовлетворяют координаты точек шара?

## Задачи

## А

- 24.1. Найдите расстояние от точки: а)  $A(3; 4; 0)$ ; б)  $B(1; -2; 2)$  до начала координат.
- 24.2. Какая из точек  $A(3; 1; 5)$  или  $B(1; -1; 6)$  расположена ближе к началу координат?
- 24.3. Найдите расстояние между точками: а)  $A_1(1; 2; 3)$  и  $A_2(-1; 1; 1)$ ; б)  $B_1(3; 4; 0)$  и  $B_2(3; 1; -4)$ .
- 24.4. Найдите координаты центра  $C$  и радиус  $R$  сферы, заданной уравнением: а)  $(x - 2)^2 + (y + 5)^2 + z^2 = 9$ ; б)  $x^2 + (y - 6)^2 + (z + 1)^2 = 4$ .
- 24.5. Напишите уравнение сферы: а) с центром в точке  $O(0; 0; 0)$  и радиусом 1; б) с центром в точке  $O(1; -2; 3)$  и радиусом 4.

## В

- 24.6. Определите вид треугольника, если его вершины имеют координаты:  $A(0; 0; 2)$ ,  $B(0; 2; 0)$ ,  $C(2; 0; 0)$ .
- 24.7. На каком расстоянии находится точка  $A(1; -2; 3)$  от координатной прямой: а)  $Ox$ ; б)  $Oy$ ; в)  $Oz$ ?
- 24.8. Напишите уравнение сферы с центром в точке  $O(1; 2; -1)$ , касающейся координатной плоскости: а)  $Oxy$ ; б)  $Oxz$ ; в)  $Oyz$ .

## С

- 24.9. Напишите уравнение сферы с центром в точке  $O(3; -2; 1)$ , касающейся координатной прямой: а)  $Ox$ ; б)  $Oy$ ; в)  $Oz$ .
- 24.10. Найдите уравнения сфер радиуса 3, касающихся трех координатных плоскостей. Сколько таких сфер?
- 24.11. Найдите уравнение сферы радиуса  $\sqrt{2}$ , касающихся трех координатных прямых. Сколько таких сфер?
- 24.12. Докажите, что уравнение  $x^2 - 4x + y^2 + z^2 = 0$  задает сферу в пространстве. Найдите ее радиус и координаты центра.
- 24.13. Точка  $A(0; \sqrt{2}; \sqrt{5})$  принадлежит сфере с центром  $O(3; 0; 0)$ . Напишите уравнение этой сферы.
- 24.14. Как расположена точка: а)  $A(5; 1; 2)$ ; б)  $B(4; 2; 2)$ ; в)  $C(3; 2; 2)$  относительно сферы  $x^2 + y^2 + z^2 - 8x + 4y + 2z - 4 = 0$ ?
- 24.15. Как расположены друг относительно друга сферы  $(x - 1)^2 + (y - 2)^2 + (z + 1)^2 = 1$ ,  $(x - 2)^2 + (y - 1)^2 + (z - 1)^2 = 1$ ?

## Подготовьтесь к овладению новым знаниями

- 24.16. Повторите определение координат вектора на координатной плоскости.



- 24.17.** По аналогии с определением понятия координат вектора на координатной плоскости определите понятие координат вектора в координатном пространстве.
- 24.18.** Напишите формулу, выражающую длину  $|\vec{a}|$  вектора  $\vec{a}(x; y; z)$  через его координаты.

### § 25. Координаты вектора

Определим понятие координат вектора в пространстве с заданной прямоугольной системой координат. Для этого отложим вектор так, чтобы его начало совпало с началом координат. Тогда координаты его конца называются *координатами вектора*.

Обозначим  $\vec{i}, \vec{j}, \vec{k}$  векторы с координатами  $(1; 0; 0), (0; 1; 0), (0; 0; 1)$  соответственно. Их длины равны единице, а направления совпадают с направлениями соответствующих осей координат. Будем изображать эти векторы отложенными от начала координат и называть их *координатными векторами* (рис. 25.1).

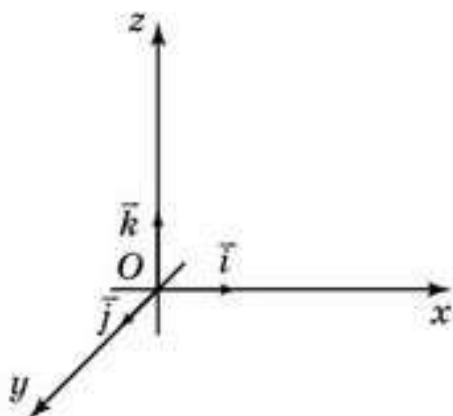


Рис. 25.1

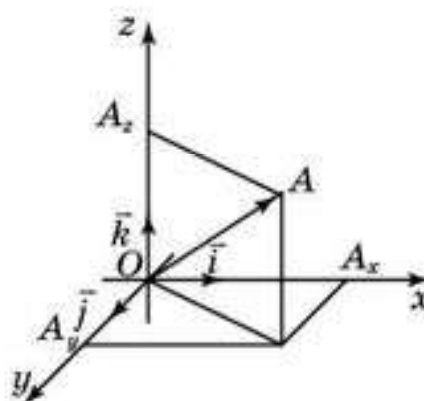


Рис. 25.2

**Теорема.** Вектор  $\vec{a}$  имеет координаты  $(x; y; z)$  тогда и только тогда, когда он представлен в виде  $\vec{a} = x\vec{i} + y\vec{j} + z\vec{k}$ .

**Доказательство.** Отложим вектор  $\vec{a}$  от начала координат и его конец обозначим через  $A$ . Имеет место равенство  $\vec{OA} = \vec{OA}_x + \vec{OA}_y + \vec{OA}_z$  (рис. 25.2). Точка  $A$  имеет координаты  $(x; y; z)$  тогда и только тогда, когда выполняются равенства  $\vec{OA}_x = x\vec{i}, \vec{OA}_y = y\vec{j}, \vec{OA}_z = z\vec{k}$ , значит,  $\vec{a} = x\vec{i} + y\vec{j} + z\vec{k}$ .  $\square$

**Теорема.** Сумма  $\vec{a}_1 + \vec{a}_2$  векторов  $\vec{a}_1(x_1; y_1; z_1)$  и  $\vec{a}_2(x_2; y_2; z_2)$  имеет координаты  $(x_1 + x_2; y_1 + y_2; z_1 + z_2)$ .

**Доказательство.** Разложим векторы  $\vec{a}_1$  и  $\vec{a}_2$  по координатным векторам:

$$\vec{a}_1 = x_1\vec{i} + y_1\vec{j} + z_1\vec{k}, \quad \vec{a}_2 = x_2\vec{i} + y_2\vec{j} + z_2\vec{k}.$$

Тогда для суммы  $\vec{a}_1 + \vec{a}_2$  имеет место равенство:

$$\vec{a}_1 + \vec{a}_2 = (x_1 + x_2)\vec{i} + (y_1 + y_2)\vec{j} + (z_1 + z_2)\vec{k},$$

следовательно, тройка чисел  $(x_1 + x_2; y_1 + y_2; z_1 + z_2)$  является координатами вектора  $\vec{a}_1 + \vec{a}_2$ .  $\square$



Докажите самостоятельно, что при умножении вектора на число его координаты умножаются на это число. Выведите из этого, что разность  $\vec{a}_2 - \vec{a}_1$  векторов  $\vec{a}_1(x_1; y_1; z_1)$  и  $\vec{a}_2(x_2; y_2; z_2)$  имеет координаты  $(x_2 - x_1; y_2 - y_1; z_2 - z_1)$ .

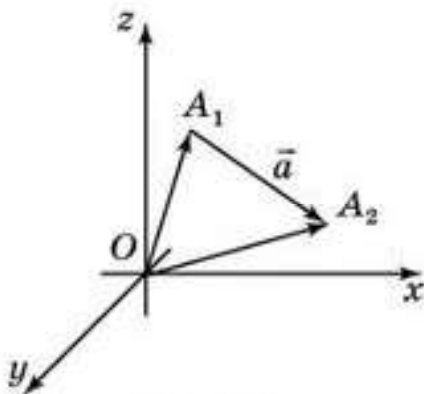


Рис. 25.3

Рассмотрим теперь вопрос о том, как найти координаты вектора  $\vec{a}$  с заданными координатами его начала и конца.

Пусть вектор  $\vec{a}$  имеет своим началом точку  $A_1(x_1; y_1; z_1)$  и концом — точку  $A_2(x_2; y_2; z_2)$  (рис. 25.3).

Тогда его можно представить как разность векторов  $\vec{a} = \overline{A_1A_2} = \overline{OA_2} - \overline{OA_1}$ , значит, он имеет координаты  $(x_2 - x_1; y_2 - y_1; z_2 - z_1)$ .

Длина вектора  $\vec{a}(x; y; z)$  выражается через координаты по формуле

$$|\vec{a}| = \sqrt{x^2 + y^2 + z^2}.$$

Если вектор  $\overline{A_1A_2}$  задан координатами начальной и конечной точек  $A_1(x_1; y_1; z_1)$ ,  $A_2(x_2; y_2; z_2)$ , то его длина выражается формулой

$$|\overline{A_1A_2}| = \sqrt{(x_2 - x_1)^2 + (y_2 - y_1)^2 + (z_2 - z_1)^2}.$$

Напомним, что *скалярным произведением двух ненулевых векторов* называется произведение их длин на косинус угла между ними.

Если хотя бы один из векторов нулевой, то скалярное произведение таких векторов считается равным нулю.

Скалярное произведение векторов  $\vec{a}_1$  и  $\vec{a}_2$  обозначается  $\vec{a}_1 \cdot \vec{a}_2$ . По определению

$$\vec{a}_1 \cdot \vec{a}_2 = |\vec{a}_1| \cdot |\vec{a}_2| \cdot \cos j,$$

где  $j$  — угол между векторами  $\vec{a}_1$  и  $\vec{a}_2$ .

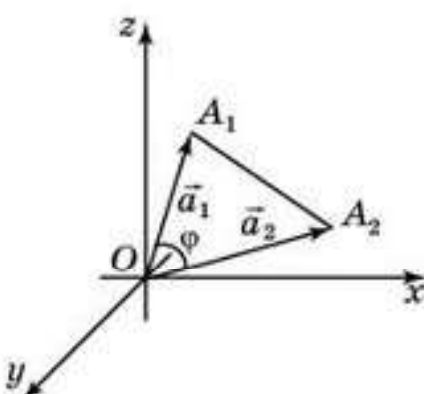


Рис. 25.4

Произведение  $\vec{a} \cdot \vec{a}$  называется *скалярным квадратом* и обозначается  $\vec{a}^2$ . Из формулы скалярного произведения следует равенство  $\vec{a}^2 = |\vec{a}|^2$ .

Выразим скалярное произведение векторов через их координаты. Пусть даны векторы  $\vec{a}_1(x_1; y_1; z_1)$  и  $\vec{a}_2(x_2; y_2; z_2)$ . Отложим их от начала координат, а их концы обозначим  $A_1, A_2$  соответственно (рис. 25.4).



По теореме косинусов имеем равенство

$$(A_1A_2)^2 = (OA_1)^2 + (OA_2)^2 - 2OA_1 \cdot OA_2 \cdot \cos j,$$

следовательно, равенство  $(\vec{a}_1 - \vec{a}_2)^2 = \vec{a}_1^2 + \vec{a}_2^2 - 2\vec{a}_1 \cdot \vec{a}_2$ .

Выразим из последнего равенства скалярное произведение и воспользуемся равенствами

$$\vec{a}_1^2 = |\vec{a}_1|^2 = x_1^2 + y_1^2 + z_1^2; \quad \vec{a}_2^2 = |\vec{a}_2|^2 = x_2^2 + y_2^2 + z_2^2;$$

$$(\vec{a}_1 - \vec{a}_2)^2 = |\vec{a}_1 - \vec{a}_2|^2 = (x_1 - x_2)^2 + (y_1 - y_2)^2 + (z_1 - z_2)^2.$$

Получим

$$\vec{a}_1 \cdot \vec{a}_2 = \frac{1}{2}(x_1^2 + y_1^2 + z_1^2 + x_2^2 + y_2^2 + z_2^2 - (x_1 - x_2)^2 - (y_1 - y_2)^2 - (z_1 - z_2)^2) = x_1x_2 + y_1y_2 + z_1z_2.$$

Таким образом, имеет место формула

$$\vec{a}_1 \cdot \vec{a}_2 = x_1x_2 + y_1y_2 + z_1z_2.$$

Полученная формула скалярного произведения позволяет находить угол между векторами  $\vec{a}_1(x_1; y_1; z_1)$  и  $\vec{a}_2(x_2; y_2; z_2)$  с заданными координатами. А именно, имеет место следующая формула

$$\cos j = \frac{\vec{a}_1 \cdot \vec{a}_2}{|\vec{a}_1| \cdot |\vec{a}_2|} = \frac{x_1x_2 + y_1y_2 + z_1z_2}{\sqrt{x_1^2 + y_1^2 + z_1^2} \cdot \sqrt{x_2^2 + y_2^2 + z_2^2}}.$$

## Вопросы

1. Что называется *координатами вектора*?
2. Какие векторы называются *координатными векторами*?
3. Как выражается длина вектора через его координаты?
4. Как выражается длина вектора через координаты его начала и конца?
5. Как обозначается скалярное произведение векторов?
6. Как определяется скалярное произведение векторов?
7. Что называется *скалярным квадратом вектора*?
8. Как выражается скалярное произведение векторов через их координаты?
9. Как выражается угол между векторами через их координаты?

## Задачи

### А

- 25.1. Найдите координаты векторов: а)  $\vec{a} = -2\vec{i} + 6\vec{j} + \vec{k}$ ; б)  $\vec{b} = \vec{i} + 2\vec{k}$ ; в)  $\vec{c} = -3\vec{j} + \vec{k}$ ; г)  $\vec{a} = 5\vec{i} - 4\vec{k}$ .
- 25.2. Найдите координаты вектора  $\overline{AB}$ , если: а)  $A(2; -3; 4)$ ,  $B(-5; 2; -6)$ ; б)  $A(1; 3; -4)$ ,  $B(6; -5; -8)$ ; в)  $A(-3; 1; -10)$ ,  $B(5; 2; -1)$ .
- 25.3. Вектор  $\overline{AB}$  имеет координаты  $(a; b; c)$ . Найдите координаты вектора  $\overline{BA}$ .
- 25.4. Векторы  $\vec{a}_1(x_1; y_1; z_1)$  и  $\vec{a}_2(x_2; y_2; z_2)$  коллинеарны. Как связаны между собой их координаты?

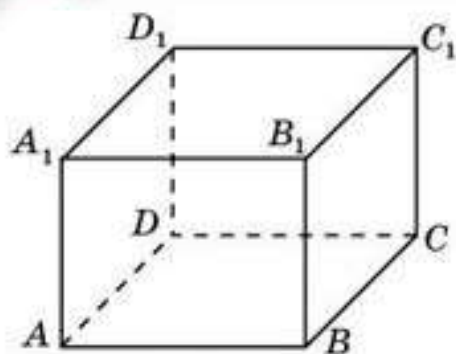


Рис. 25.5

**25.5.** В прямоугольном параллелепипеде  $ABCD A_1 B_1 C_1 D_1$  вершина  $D$  — начало координат, ребра  $DC$ ,  $DA$ ,  $DD_1$  лежат на осях координат  $Ox$ ,  $Oy$ ,  $Oz$  соответственно и  $DC = 4$ ,  $DA = 3$ ,  $DD_1 = 2$  (рис. 25.5). Найдите координаты вектора: а)  $\overline{DB}$ ; б)  $\overline{DA_1}$ ; в)  $\overline{DC_1}$ ; г)  $\overline{DB_1}$ ; д)  $\overline{AB}$ ; е)  $\overline{AC}$ ; ж)  $\overline{AB_1}$ ; з)  $\overline{AD_1}$ ; и)  $\overline{AC_1}$ .

- 25.6.** Найдите координаты вектора: а)  $\vec{a} + \vec{b}$ ; б)  $\vec{a} - \vec{b}$ , если  $\vec{a}(1; 0; 3)$ ,  $\vec{b}(0; -2; 4)$ .
- 25.7.** Найдите координаты точки  $N$ , если вектор  $\overline{MN}$  имеет координаты  $(2; -1; 0)$  и  $M(1; -3; -5)$ .
- 25.8.** Найдите длину вектора: а)  $\vec{i} + 2\vec{j} - \vec{k}$ ; б)  $3\vec{j} + \vec{k}$ ; в)  $-\vec{i} + 2\vec{k}$ .
- 25.9.** Найдите скалярное произведение векторов  $\vec{a}_1(-1; 2; 3)$  и  $\vec{a}_2(2; -1; 4)$ .

### В

- 25.10.** Даны векторы  $\vec{a}(-1; 2; 5)$ ,  $\vec{b}(2; -3; 4)$ . Найдите координаты векторов: а)  $3\vec{a} + 2\vec{b}$ ; б)  $-\vec{a} + 3\vec{b}$ .
- 25.11.** Какому условию должны удовлетворять координаты вектора, чтобы он был: а) перпендикулярен координатной плоскости  $Oxy$ ; б) параллелен координатной прямой  $Ox$ ?
- 25.12.** Длина вектора равна трем. Найдите координаты вектора, если известно, что все они равны.
- 25.13.** В прямоугольном параллелепипеде  $ABCD A_1 B_1 C_1 D_1$  вершина  $D$  — начало координат, ребра  $DC$ ,  $DA$ ,  $DD_1$  лежат на осях координат  $Ox$ ,  $Oy$ ,  $Oz$  соответственно и  $DC = 4$ ,  $DA = 3$ ,  $DD_1 = 2$  (рис. 25.5). Найдите длину вектора: а)  $\overline{DB}$ ; б)  $\overline{DA_1}$ ; в)  $\overline{DC_1}$ ; г)  $\overline{DB_1}$ ; д)  $\overline{AB}$ ; е)  $\overline{AC}$ ; ж)  $\overline{AB_1}$ ; з)  $\overline{AD_1}$ ; и)  $\overline{AC_1}$ .
- 25.14.** Найдите косинус угла между векторами  $\vec{a}_1(-1; 2; 2)$  и  $\vec{a}_2(3; 0; 4)$ .

### С

- 25.15.** Найдите косинусы углов, которые образует вектор  $\vec{e}(1; 1; 1)$  с координатными векторами.
- 25.16.** Найдите косинусы углов, которые образует вектор  $\vec{e}(1; 1; 1)$  с координатными плоскостями  $Oxy$ ,  $Oxz$ ,  $Oyz$ .
- 25.17.** При каком значении  $z$  векторы  $\vec{a} = 3\vec{i} - 5\vec{j} + z\vec{k}$ ; б)  $\vec{b} = -4\vec{i} - 2\vec{j} + \vec{k}$  перпендикулярны?
- 25.18.** Докажите, что в треугольнике  $ABC$ , где  $A(2; 1; 3)$ ,  $B(1; 1; 4)$  и  $C(0; 1; 3)$ , угол  $B$  прямой.



- 25.19. Докажите, что точки  $A(2; 4; -4)$ ,  $B(1; 1; -3)$ ,  $C(-2; 0; 5)$ ,  $D(-1; 3; 4)$  являются вершинами параллелограмма.
- 25.20. Вычислите, какую работу  $A$  производит сила  $\vec{F}(-3; 4; 7)$ , когда ее точка приложения, двигаясь прямолинейно, перемещается из положения  $M(5; -1; 2)$  в положение  $N(2; 1; 3)$ .

## Подготовка к овладению знаниями

- 25.21. Повторите уравнение прямой на координатной плоскости.
- 25.22. По аналогии с уравнением прямой на координатной плоскости напишите уравнение плоскости в координатном пространстве.
- 25.23. Напишите уравнение плоскости, проходящей через точки с координатами  $(1; 0; 0)$ ,  $(0; 1; 0)$ ,  $(0; 0; 1)$ .

### § 26. Уравнение плоскости в пространстве

В курсе планиметрии доказывалось, что прямая на плоскости задается уравнением  $ax + by + c = 0$ , в котором  $a, b, c$  — действительные числа, причем  $a, b$  одновременно не равны нулю. В пространстве имеет место аналогичная теорема.

**Теорема.** *Плоскость в пространстве задается уравнением*

$$ax + by + cz + d = 0,$$

где  $a, b, c, d$  — действительные числа, причем  $a, b, c$  одновременно не равны нулю и составляют координаты вектора  $\vec{n}$ , перпендикулярного этой плоскости и называемого вектором нормали.

**Доказательство.** Рассмотрим плоскость, проходящую через точку  $A_0(x_0; y_0; z_0)$  и перпендикулярную вектору  $\vec{n}(a; b; c)$  (рис. 26.1).

Произвольная точка  $A(x; y; z)$  будет принадлежать этой плоскости в том и только том случае, когда вектор  $\overline{A_0A}(x - x_0; y - y_0; z - z_0)$  будет перпендикулярен вектору  $\vec{n}$ , т. е. скалярное произведение  $\vec{n} \cdot \overline{A_0A}$  равно нулю. Расписывая скалярное произведение через координаты данных векторов, получим уравнение

$$a(x - x_0) + b(y - y_0) + c(z - z_0) = 0,$$

которое задает данную плоскость. Обозначая  $-ax_0 - by_0 - cz_0 = d$  и преобразовав это уравнение, получим требуемое уравнение плоскости, а именно,

$$ax + by + cz + d = 0. \quad \square$$

Рассмотрим вопрос о взаимном расположении плоскостей в пространстве с точки зрения их уравнений.

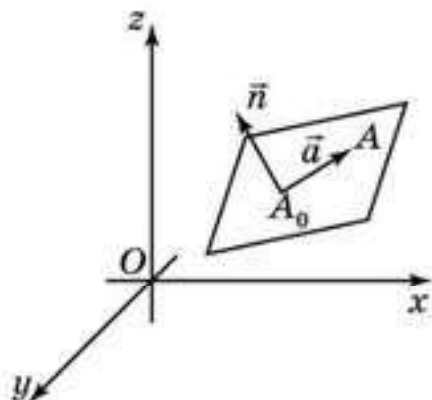


Рис. 26.1

Заметим, что две плоскости в пространстве параллельны или совпадают, если их векторы нормали  $\vec{n}_1, \vec{n}_2$  коллинеарны, следовательно, для некоторого числа  $t$  выполняется равенство

$$\vec{n}_2 = t \cdot \vec{n}_1.$$

Для плоскостей, заданных уравнениями

$$a_1x + b_1y + c_1z + d_1 = 0, \quad a_2x + b_2y + c_2z + d_2 = 0 \quad (*),$$

векторы нормалей имеют координаты  $(a_1; b_1; c_1), (a_2; b_2; c_2)$ . Значит, такие плоскости параллельны или совпадают, если для некоторого числа  $t$  выполняются равенства  $a_2 = ta_1, b_2 = tb_1, c_2 = tc_1$ .

При этом, если  $d_2 = td_1$ , то уравнения  $(*)$  определяют одну и ту же плоскость. Если же  $d_2 \neq td_1$ , то эти уравнения определяют параллельные плоскости. Если плоскости не параллельны, то они пересекаются по прямой, и угол  $\beta$  между ними равен углу между их нормальными.



Проверьте самостоятельно, что если угол между векторами нормалей острый или прямой, то он равен углу между плоскостями, а если угол между векторами нормалей тупой, то он равен  $180^\circ$  минус угол между плоскостями.

Таким образом, косинус угла  $\beta$  между плоскостями можно вычислить через формулу скалярного произведения векторов нормалей

$$\cos \beta = \frac{\vec{n}_1 \cdot \vec{n}_2}{|\vec{n}_1| \cdot |\vec{n}_2|}.$$

В частности, плоскости перпендикулярны, если скалярное произведение векторов  $\vec{n}_1, \vec{n}_2$  равно нулю, т. е. выполняются равенства

$$\vec{n}_1 \cdot \vec{n}_2 = a_1a_2 + b_1b_2 + c_1c_2 = 0.$$

Выведем формулу для нахождения расстояния  $h$  от точки  $B_0(x_0; y_0; z_0)$  до плоскости  $\alpha$ , заданной уравнением  $ax + by + cz + d = 0$ .

Напомним, что *расстоянием от точки  $B_0$  до плоскости* называется длина перпендикуляра  $B_0A_0$ , опущенного из данной точки на данную плоскость. Заметим, что вектор  $\overline{A_0B_0}$  коллинеарен вектору нормали  $\vec{n}(a; b; c)$  данной плоскости (рис. 26.2).

Пусть  $A(x; y; z)$  — какая-нибудь точка плоскости  $\alpha$ . Тогда

$$\begin{aligned} \cos \angle AB_0A_0 &= \frac{\vec{n} \cdot \overline{B_0A}}{|\vec{n}| \cdot |\overline{B_0A}|} = \\ &= \frac{|a(x - x_0) + b(y - y_0) + c(z - z_0)|}{\sqrt{a^2 + b^2 + c^2} \cdot |\overline{B_0A}|}. \end{aligned}$$

Учитывая, что  $-ax - by - cz = d$  и что искомое расстояние  $h$  равно  $|\overline{B_0A}| \times \cos \angle AB_0A_0$ , получаем

$$h = \frac{|ax_0 + by_0 + cz_0 + d|}{\sqrt{a^2 + b^2 + c^2}}.$$

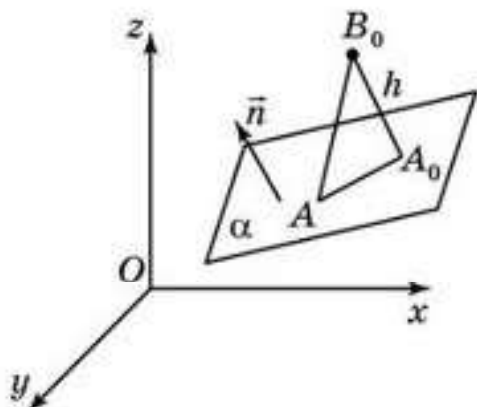


Рис. 26.2



## Вопросы

1. Каким уравнением задается плоскость в пространстве?
2. Какой вектор называется *вектором нормали плоскости* ?
3. В каком случае два уравнения определяют параллельные плоскости в пространстве?
4. В каком случае два уравнения определяют одну и ту же плоскость в пространстве?
5. В каком случае два уравнения определяют перпендикулярные плоскости в пространстве?
6. Как можно вычислить угол между двумя плоскостями с заданными уравнениями?

## Задачи

### А

- 26.1. Найдите координаты вектора нормали для плоскости:
  - а)  $5x - y - 1 = 0$ ;
  - б)  $3x + 18z - 6 = 0$ ;
  - в)  $15x + y - 8z + 14 = 0$ ;
  - г)  $x - 3y + 15z = 0$ .
- 26.2. Напишите уравнение координатной плоскости: а)  $Oxy$ ; б)  $Oxz$ ; в)  $Oyz$ .
- 26.3. Даны точки  $A(3; 2; 5)$ ,  $B(-1; -2; 2)$ ,  $C(7; 0; -9)$ . Укажите, какие из них принадлежат плоскости  $2x - 3y + z - 5 = 0$ .
- 26.4. Дана плоскость  $x + 2y - 3z - 1 = 0$ . Найдите ее точки пересечения с осями координат.
- 26.5. Найдите уравнение плоскости, проходящей через точку  $M(-1; 2; 1)$ , с вектором нормали  $\vec{n}$ , имеющим координаты: а)  $(0; -5; 2)$ ; б)  $(6; -1; 3)$ ; в)  $(-4; -2; -1)$ ; г)  $(-3; -8; 0)$ .
- 26.6. В единичном кубе  $ABCD A_1 B_1 C_1 D_1$  вершина  $D$  — начало координат, ребра  $DC$ ,  $DA$ ,  $DD_1$  лежат на осях координат  $Ox$ ,  $Oy$ ,  $Oz$  соответственно (рис. 26.3). Напишите уравнения плоскостей, содержащих грани этого куба.

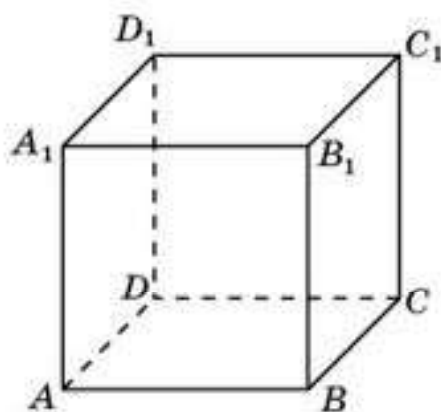


Рис. 26.3

### В

- 26.7. Напишите уравнение плоскости, которая проходит через точку  $M(1; -2; 4)$  и параллельна координатной плоскости: а)  $Oxy$ ; б)  $Oxz$ ; в)  $Oyz$ .
- 26.8. Определите, какие из перечисленных ниже пар плоскостей параллельны между собой:
  - а)  $x + y + z - 1 = 0$ ,  $x + y + z + 1 = 0$ ;

- б)  $x + y + z - 1 = 0$ ,  $x + y - z - 1 = 0$ ;  
 в)  $-7x + y + 2z = 0$ ,  $7x - y - 2z - 5 = 0$ ;  
 г)  $2x + 4y + 6z - 8 = 0$ ,  $-x - 2y - 3z + 4 = 0$ .

**26.9.** Перпендикулярны ли плоскости:

- а)  $y + z + 1 = 0$  и  $y - z + 1 = 0$ ;  
 б)  $2x - 5y + z + 4 = 0$  и  $3x + 2y + 4z - 1 = 0$ ;  
 в)  $7x - y + 9 = 0$  и  $y + 2z - 3 = 0$ ?

**26.10.** Найдите косинус угла между плоскостями, заданными уравнениями:

- а)  $x + y + z + 1 = 0$ ,  $x + y - z - 1 = 0$ ;  
 б)  $2x + 3y + 6z - 5 = 0$ ,  $4x + 4y + 2z - 7 = 0$ .

**С**

**26.11.** Точка  $H(-2; 4; -1)$  является основанием перпендикуляра, опущенного из начала координат на плоскость. Напишите уравнение этой плоскости.

**26.12.** Напишите уравнение плоскости, проходящей через точку  $M(1; 3; -1)$  и параллельной плоскости:

- а)  $3x + y - z + 5 = 0$ ;  
 б)  $x - y + 5z - 4 = 0$ .

**26.13.** Напишите уравнение плоскости, проходящей через точки с координатами  $(a; 0; 0)$ ,  $(0; b; 0)$ ,  $(0; 0; c)$ , где  $a, b, c$  отличны от нуля.

**26.14.** В прямоугольном параллелепипеде  $ABCD A_1 B_1 C_1 D_1$  вершина  $D$  — начало координат, ребра  $DC, DA, DD_1$  лежат на осях координат  $Ox, Oy, Oz$  соответственно и  $DC = 3, DA = 2, DD_1 = 1$  (рис. 26.4). Напишите уравнение плоскости  $ACD_1$ .

**26.15.** В прямоугольном параллелепипеде  $ABCD A_1 B_1 C_1 D_1$  вершина  $D$  — начало координат, ребра  $DC, DA, DD_1$  лежат на осях координат  $Ox, Oy, Oz$  соответственно и  $DC = 3, DA = 2, DD_1 = 1$ . Найдите косинус угла между плоскостями: а)  $ABC$  и  $ACD_1$ ; б)  $ADD_1$  и  $ACD_1$ ; в)  $CDD_1$  и  $ACD_1$ .

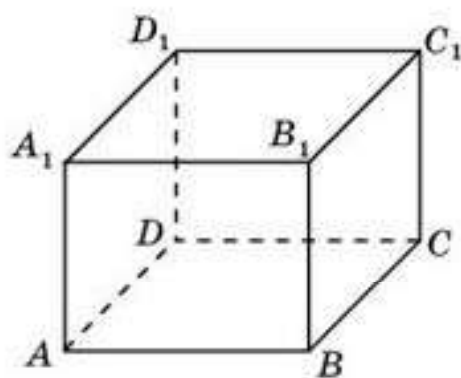


Рис. 26.4

**26.16.** В единичном кубе  $ABCD A_1 B_1 C_1 D_1$  вершина  $D$  — начало координат, ребра  $DC, DA, DD_1$  лежат на осях координат  $Ox, Oy$  и  $Oz$  соответственно. Найдите угол между плоскостями: а)  $ABC_1$  и  $B_1CD_1$ ; б)  $ABC_1$  и  $BDA_1$ .

**26.17.** В правильной шестиугольной призме  $ABCDEF A_1 B_1 C_1 D_1 E_1 F_1$  все ребра равны 1. Вершина  $E$  — начало координат, отрезки  $ED, EA, EE_1$  лежат на



осях координат  $Ox$ ,  $Oy$ ,  $Oz$  соответственно (рис. 26.5). Найдите косинус угла между плоскостями  $BDD_1$  и  $AFE_1$ .

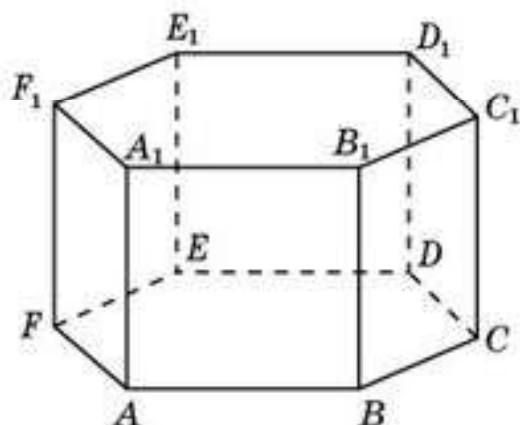


Рис. 26.5

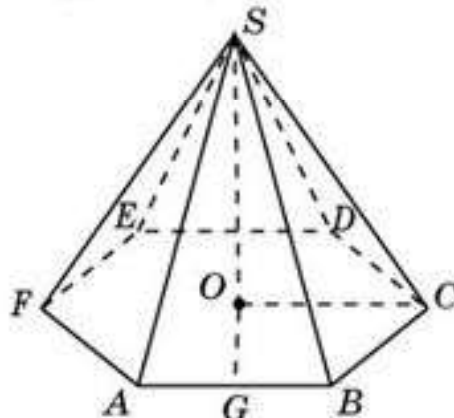


Рис. 26.6

**26.18.** В правильной шестиугольной пирамиде  $SABCDEF$  стороны основания равны 1, боковые ребра равны 2. Точка  $O$  — центр основания, точка  $G$  — середина ребра  $AB$ , отрезки  $OC$ ,  $OG$ ,  $OS$  лежат на осях координат  $Ox$ ,  $Oy$ ,  $Oz$  соответственно (рис. 26.6). Найдите косинус угла между плоскостями  $SAF$  и  $SBD$ .

**26.19.** Найдите расстояние от точки  $O(0; 0; 0)$  до плоскости, заданной уравнением  $x + y + z = 1$ .

**26.20.** В единичном кубе  $ABCD A_1 B_1 C_1 D_1$  вершина  $D$  — начало координат, ребра  $DC$ ,  $DA$ ,  $DD_1$  лежат на осях координат  $Ox$ ,  $Oy$ ,  $Oz$  соответственно. Точки  $E$  и  $F$  — середины ребер  $BC$  и  $CC_1$ . Найдите расстояние от точки  $D$  до плоскости  $AEF$ .

**26.21.** В прямоугольном параллелепипеде  $ABCD A_1 B_1 C_1 D_1$  вершина  $D$  — начало координат, ребра  $DC$ ,  $DA$ ,  $DD_1$  лежат на осях координат  $Ox$ ,  $Oy$ ,  $Oz$  соответственно и  $DC = 3$ ,  $DA = 2$ ,  $DD_1 = 1$ . Найдите расстояние от точки  $D$  до плоскости  $ACD_1$ .

**26.22.** Напишите уравнения плоскостей, содержащих грани многогранника, изображенного на рисунке 26.7.

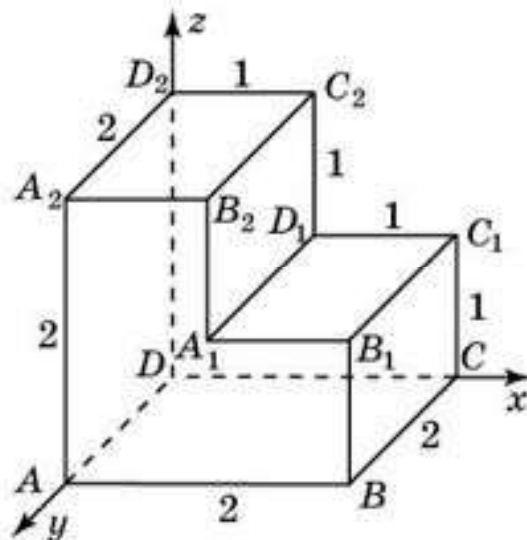


Рис. 26.7

## Подготовка к овладению навыками

**26.23.** Повторите параметрические уравнения прямой на координатной плоскости.

- 26.24. По аналогии с заданием прямой на координатной плоскости напишите параметрические уравнения, задающие прямую в координатном пространстве, проходящую через точку  $A_0(x_0; y_0; z_0)$  и направляющим вектором  $\vec{e}(k; l; m)$ .
- 26.25. Напишите параметрические уравнения прямой, проходящей через точку  $O(0; 0; 0)$  и направляющим вектором  $\vec{e}(1; 1; 1)$ .
- 26.26. Напишите параметрические уравнения прямой, проходящей через точки  $O(0; 0; 0)$  и  $A(1; 2; 3)$ .

### § 27. Уравнения прямой в пространстве

Поскольку прямую в пространстве можно рассматривать как линию пересечения двух плоскостей, то одним из способов аналитического задания прямой в пространстве является задание с помощью системы из двух уравнений

$$\begin{cases} a_1x + b_1y + c_1z + d_1 = 0, \\ a_2x + b_2y + c_2z + d_2 = 0, \end{cases}$$

задающих пару пересекающихся плоскостей.

Рассмотрим другой способ аналитического задания прямой. Для этого заметим, что для задания прямой в пространстве достаточно задать или пару точек  $A_1(x_1; y_1; z_1)$ ,  $A_2(x_2; y_2; z_2)$ , через которые проходит эта прямая, или точку  $A_0(x_0; y_0; z_0)$  прямой и направляющий вектор  $\vec{e}(k; l; m)$ , параллельный этой прямой или лежащий на ней.

Если прямая задана двумя точками  $A_1(x_1; y_1; z_1)$ ,  $A_2(x_2; y_2; z_2)$ , то в качестве направляющего вектора можно взять вектор  $\overline{A_1A_2}$  с координатами  $(x_2 - x_1; y_2 - y_1; z_2 - z_1)$ , а в качестве точки  $A_0$  какую-нибудь из точек  $A_1, A_2$ .

Найдем условия, которым должны удовлетворять координаты точки  $A(x; y; z)$ , чтобы она принадлежала прямой  $a$ , проходящей через точку  $A_0(x_0; y_0; z_0)$  с направляющим вектором  $\vec{e}(k; l; m)$  (рис. 27.1).

В этом случае вектор  $\overline{A_0A}(x - x_0; y - y_0; z - z_0)$  должен быть коллинеарен вектору  $\vec{e}(k; l; m)$ , следовательно, координаты этих векторов должны быть пропорциональны, т. е. должны выполняться равенства

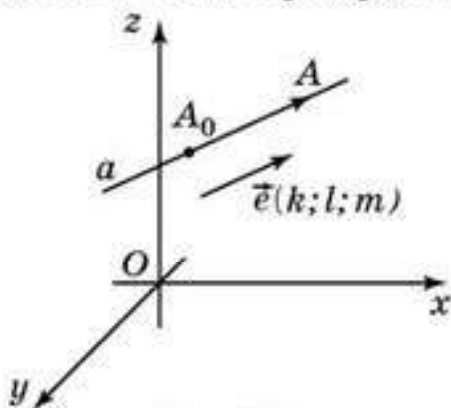


Рис. 27.1

$$\begin{cases} x - x_0 = kt, \\ y - y_0 = lt, \\ z - z_0 = mt, \end{cases}$$

где  $t$  — действительное число.

Перепишем эти уравнения в виде

$$\begin{cases} x = x_0 + kt, \\ y = y_0 + lt, \\ z = z_0 + mt. \end{cases}$$



Они называются *параметрическими уравнениями прямой в пространстве*.

В случае, если координаты направляющего вектора отличны от нуля, то, разделив уравнения на соответствующие координаты, получим уравнения

$$\begin{cases} \frac{x - x_0}{k} = t, \\ \frac{y - y_0}{l} = t, \\ \frac{z - z_0}{m} = t. \end{cases}$$

Исключая из них параметр  $t$ , получим уравнения

$$\frac{x - x_0}{k} = \frac{y - y_0}{l} = \frac{z - z_0}{m},$$

которые называются *каноническими уравнениями прямой в пространстве*.

В случае, если прямая в пространстве задается двумя точками  $A_1(x_1; y_1; z_1)$ ,  $A_2(x_2; y_2; z_2)$ , то, выбирая в качестве направляющего вектора вектор  $\overline{A_1A_2}(x_2 - x_1; y_2 - y_1; z_2 - z_1)$  и в качестве точки  $A_0$  точку  $A_1$ , получим следующие уравнения:

$$\begin{cases} x = x_1 + (x_2 - x_1)t, \\ y = y_1 + (y_2 - y_1)t, \\ z = z_1 + (z_2 - z_1)t. \end{cases}$$



Запишите канонические уравнения прямой, проходящей через точки  $A_1(x_1; y_1; z_1)$ ,  $A_2(x_2; y_2; z_2)$ .



Напишите формулу для косинуса угла между двумя прямыми с направляющими векторами  $\vec{e}_1(k_1; l_1; m_1)$  и  $\vec{e}_2(k_2; l_2; m_2)$ .

Обычно в физических задачах параметр  $t$  играет роль времени, а параметрические уравнения прямой рассматриваются как уравнения движения точки. Так, моменту времени  $t = 0$  соответствует точка  $A_0(x_0; y_0; z_0)$  на прямой. При изменении параметра  $t$  точка  $A$  с координатами  $(x; y; z)$ , удовлетворяющими параметрическим уравнениям, будет перемещаться по прямой. Докажем, что перемещение точки по прямой является равномерным движением и найдем его скорость.

Рассмотрим промежуток времени от  $t_1$  до  $t_2$ ,  $T = t_2 - t_1$ . Вектор перемещения  $\overline{A_1A_2}$  точки на прямой за этот промежуток времени будет иметь координаты  $(kT; lT; mT)$ . Разделив вектор перемещения на время  $T$ , получим, что вектор скорости имеет координаты  $(k; l; m)$ . Он совпадает с направляющим вектором  $\vec{e}$  и не зависит от выбора проме-

жутка времени. Следовательно, движение точки по прямой является равномерным. Длина вектора скорости

$$|\vec{e}| = \sqrt{k^2 + l^2 + m^2}$$

представляет собой скорость движения точки по прямой.

## Вопросы

1. Как можно задавать прямую в пространстве?
2. Какой вектор называется *направляющим вектором прямой*?
3. Какие уравнения прямой называются *параметрическими*?

## Задачи

### В

- 27.1. Напишите уравнения, которыми задаются координатные прямые: а)  $Ox$ ; б)  $Oy$ ; в)  $Oz$ .
- 27.2. Напишите параметрические уравнения прямой, проходящей через точку  $A(1; -2; 3)$  с направляющим вектором  $\vec{e}(2; 3; -1)$ .
- 27.3. Напишите параметрические уравнения прямой, проходящей через точки  $A_1(-2; 1; -3)$ ,  $A_2(5; 4; 6)$ .
- 27.4. Напишите параметрические уравнения прямой, проходящей через точку  $M(1; 2; -3)$  и перпендикулярную плоскости  $x + y + z + 1 = 0$ .
- 27.5. Определите взаимное расположение прямых, задаваемых уравнениями:

$$\begin{cases} x = 1 + 2t, \\ y = 1 + t, \\ z = 1 + 3t; \end{cases} \begin{cases} x = 3 + t, \\ y = -8t, \\ z = 4 + 2t. \end{cases}$$

### С

- 27.6. Найдите координаты точки пересечения плоскости  $2x - y + z - 6 = 0$  и прямой, проходящей через точки  $A(-1; 0; 2)$  и  $B(3; 1; 1)$ .
- 27.7. Точка движется прямолинейно и равномерно в направлении вектора  $\vec{e}(1; 2; 3)$ . В начальный момент времени  $t = 0$  она имела координаты  $(-1; 1; -2)$ . Какие координаты она будет иметь в момент времени  $t = 4$ ?
- 27.8. Параметрические уравнения движения материальной точки в пространстве имеют вид:

$$\begin{cases} x = 1 + 2t, \\ y = 2 - 2t, \\ z = -3 + 1t. \end{cases}$$

Найдите скорость движения этой точки.



- 27.9. Точка движется прямолинейно и равномерно. В момент времени  $t = 2$  она имела координаты  $(3; 4; 0)$ , а в момент времени  $t = 6$  — координаты  $(1; 2; -1)$ . Какова скорость движения точки?
- 27.10. Найдите косинус угла между прямыми, направляющие векторы которых имеют координаты: а)  $(1; -1; 1)$  и  $(1; 1; 1)$ ; б)  $(1; 0; 0)$  и  $(1; 1; 1)$ .
- 27.11. В прямоугольном параллелепипеде  $ABCD A_1 B_1 C_1 D_1$  вершина  $D$  — начало координат, ребра  $DC, DA, DD_1$  лежат на осях координат  $Ox, Oy, Oz$  соответственно и  $DC = 3, DA = 2, DD_1 = 1$ . Найдите косинус угла между прямыми  $AB_1$  и  $BC_1$ .

### ПРОВЕРЬ СЕБЯ!

- Найдите площадь сечения правильной треугольной призмы  $ABCA_1 B_1 C_1$ , все ребра которой равны 1, плоскостью, проходящей через середины ребер  $AB, AC, A_1 B_1$ :  
 А. 0,5.                      В. 1.                      С.  $\frac{\sqrt{2}}{2}$ .                      D.  $\frac{\sqrt{3}}{2}$ .
- Найдите площадь сечения правильной четырехугольной пирамиды  $SABCD$ , стороны основания которой равны 1, а боковые ребра равны 2, плоскостью, проходящей через середины ребер  $SA, SB, SC$ :  
 А. 0,25.                      В. 0,5.                      С. 1.                      D. 2.
- Найдите площадь сечения правильной шестиугольной призмы  $ABCDEF A_1 B_1 C_1 D_1 E_1 F_1$ , все ребра которой равны 1, плоскостью, проходящей через вершины  $B, E, E_1$ :  
 А. 0,5.                      В. 1.                      С. 1,5.                      D. 2.
- Найдите площадь сечения правильной шестиугольной пирамиды  $SABCDEF$ , стороны основания которой равны 1, а боковые ребра равны 2, плоскостью, проходящей через вершины  $S, C$  и  $F$ :  
 А. 1.                      В. 2.                      С.  $\sqrt{2}$ .                      D.  $\sqrt{3}$ .
- В единичном кубе  $ABCD A_1 B_1 C_1 D_1$  найдите длину вектора  $\overline{AB} + \overline{AD} + \overline{AA_1}$ :  
 А. 1.                      В. 2.                      С.  $\sqrt{2}$ .                      D.  $\sqrt{3}$ .
- Найдите координаты ортогональной проекции точки  $A(-5; 6; -7)$  на плоскость  $Oyz$ :  
 А.  $(0; 6; -7)$ .                      В.  $(-5; 0; -7)$ .                      С.  $(-5; 6; 0)$ .                      D.  $(-5; 0; 0)$ .
- Найдите расстояние от точки  $B(3; -8; -11)$  до плоскости  $Oxy$ :  
 А. -11.                      В. 11.                      С. 3.                      D. 8.
- На каком расстоянии от оси  $Oz$  находится точка  $C(1; -5; 6)$ :  
 А. 5.                      В.  $2\sqrt{13}$ .                      С. 6.                      D.  $\sqrt{26}$ ?

9. Найдите расстояние между точками  $E(-1; 0; 4)$  и  $F(2; -5; 1)$ :  
 А.  $5\sqrt{18}$ .      В.  $\sqrt{51}$ .      С.  $\sqrt{43}$ .      D.  $\sqrt{59}$ .
10. Найдите координаты середины отрезка  $GH$ , если  $G(3; -2; 0)$ ,  $H(0; -12; 5)$ :  
 А.  $(\frac{3}{2}; -5; 5)$ .      В.  $(3; -7; -\frac{5}{2})$ .      С.  $(\frac{3}{2}; -7; \frac{5}{2})$ .      D.  $(-3; 7; -\frac{5}{2})$ .
11. Найдите координаты центра сферы, заданной уравнением  $x^2 + y^2 + z^2 + 2y - 4z + 1 = 0$ :  
 А.  $(1; -1; 2)$ .      В.  $(1; 2; -1)$ .      С.  $(0; -1; 2)$ .      D.  $(0; 1; -2)$ .
12. Найдите координаты вектора  $\vec{IJ}$ , если  $I(5; -1; 2)$ ,  $J(3; -2; 0)$ :  
 А.  $(2; -1; 2)$ .      В.  $(-2; -1; 2)$ .      С.  $(2; -3; 2)$ .      D.  $(-2; -1; -2)$ .
13. Найдите длину вектора  $\vec{KL}$ , если  $K(0; -1; 2)$ ,  $L(-3; 5; 0)$ :  
 А.  $\sqrt{29}$ .      В. 7.      С. 5.      D.  $2\sqrt{7}$ .
14. Найдите длину вектора  $5\vec{i} - \vec{j} + 2\vec{k}$ :  
 А. 36.      В. 6.      С.  $\sqrt{30}$ .      D.  $2\sqrt{7}$ .
15. Найдите скалярное произведение векторов  $\vec{a}(-5; 6; 1)$  и  $\vec{b}(0; -9; 7)$ :  
 А. -52.      В. 47.      С. -47.      D. -56.
16. При каком значении  $k$  векторы  $2\vec{a} - k\vec{b}$  и  $\vec{a} + \vec{b}$  перпендикулярны, если  $\vec{a}(0; 1; -2)$  и  $\vec{b}(2; 0; 1)$ :  
 А. 2.      В.  $3\frac{1}{2}$ .      С.  $-3\frac{1}{2}$ .      D. Нет решения?
17. Точка  $M(2; 1; m)$  принадлежит плоскости  $3x - y + 2z - 1 = 0$ . Найдите  $m$ :  
 А. 3.      В. -3.      С. 2.      D. -2.
18. Найдите уравнение плоскости, параллельной плоскости  $4x - 5y + 2z + 11 = 0$  и проходящей через точку  $P(3; -2; -4)$ :  
 А.  $4x - 5y + 2z - 10 = 0$ .      В.  $8x - 10y + 4z + 22 = 0$ .  
 С.  $4x - 5y + 2z + 14 = 0$ .      D.  $4x - 5y + 2z - 14 = 0$ .
19. Определите, какая фигура в пространстве задается уравнением  $y^2 + z^2 = 0$ :  
 А. Плоскость  $Oyz$ .      В. Ось  $Ox$ .  
 С. Оси  $Oy$  и  $Oz$ .      D. Плоскости  $Oxy$  и  $Oxz$ .
20. Определите, какая фигура в пространстве задается неравенством  $z \geq 0$ :  
 А. Полуось  $Oz$ .  
 В. Полупространство, ограниченное координатной плоскостью  $Oyz$ .  
 С. Полупространство, ограниченное координатной плоскостью  $Oxz$ .  
 D. Полупространство, ограниченное координатной плоскостью  $Oxy$ .



## ОБОБЩАЮЩЕЕ ПОВТОРЕНИЕ

## УГЛЫ

## В

## Угол между прямыми

1. В кубе  $ABCD A_1 B_1 C_1 D_1$  найдите угол между прямыми  $AB$  и  $CB_1$ .
2. В кубе  $ABCD A_1 B_1 C_1 D_1$  найдите угол между прямыми  $AB$  и  $DA_1$ .
3. В кубе  $ABCD A_1 B_1 C_1 D_1$  найдите угол между прямыми  $BA_1$  и  $CB_1$ .
4. В кубе  $ABCD A_1 B_1 C_1 D_1$  найдите угол между прямыми  $BA_1$  и  $B_1 D_1$ .
5. В кубе  $ABCD A_1 B_1 C_1 D_1$  найдите угол между прямыми  $BA_1$  и  $AC$ .
6. В кубе  $ABCD A_1 B_1 C_1 D_1$  найдите угол между прямыми  $BA_1$  и  $AD_1$ .
7. В кубе  $ABCD A_1 B_1 C_1 D_1$  найдите угол между прямыми  $AC$  и  $BD_1$ .
8. В кубе  $ABCD A_1 B_1 C_1 D_1$  найдите угол между прямыми  $AC$  и  $DB_1$ .
9. В кубе  $ABCD A_1 B_1 C_1 D_1$  найдите угол между прямыми  $BC_1$  и  $CA_1$ .
10. В кубе  $ABCD A_1 B_1 C_1 D_1$  найдите угол между прямыми  $BC_1$  и  $DB_1$ .
11. В кубе  $ABCD A_1 B_1 C_1 D_1$  найдите угол между прямыми  $CA_1$  и  $DC_1$ .
12. В кубе  $ABCD A_1 B_1 C_1 D_1$  найдите угол между прямыми  $BD_1$  и  $DC_1$ .
13. В кубе  $ABCD A_1 B_1 C_1 D_1$  найдите угол между прямыми  $BA_1$  и  $AC_1$ .
14. В кубе  $ABCD A_1 B_1 C_1 D_1$  найдите угол между прямыми  $BA_1$  и  $DB_1$ .
15. В кубе  $ABCD A_1 B_1 C_1 D_1$  найдите угол между прямыми  $AD_1$  и  $CA_1$ .
16. В кубе  $ABCD A_1 B_1 C_1 D_1$  найдите угол между прямыми  $AD_1$  и  $DB_1$ .
17. В кубе  $ABCD A_1 B_1 C_1 D_1$  найдите угол между прямыми  $A_1 C_1$  и  $DB_1$ .
18. В кубе  $ABCD A_1 B_1 C_1 D_1$  найдите угол между прямыми  $A_1 C_1$  и  $BD_1$ .
19. В правильном тетраэдре  $ABCD$  найдите угол между прямыми  $AB$  и  $CD$ .
20. В правильном тетраэдре  $ABCD$  найдите угол между прямыми  $AC$  и  $BD$ .
21. В правильном тетраэдре  $ABCD$  точки  $E$  и  $F$  — середины ребер соответственно  $BC$  и  $BD$ . Найдите угол между прямыми  $AB$  и  $EF$ .
22. В правильном тетраэдре  $ABCD$  точки  $E$  и  $F$  — середины ребер соответственно  $BD$  и  $CD$ . Найдите угол между прямыми  $AD$  и  $EF$ .
23. В правильном тетраэдре  $ABCD$  точки  $E, F, G$  — середины ребер соответственно  $BC, BD, AD$ . Найдите угол  $EFG$ .
24. В правильном тетраэдре  $ABCD$  точки  $E, F, G$  — середины ребер соответственно  $AB, AD, CD$ . Найдите угол  $EFG$ .
25. В правильной треугольной призме  $ABCA_1 B_1 C_1$ , все ребра которой равны 1, точка  $D$  — середина ребра  $BC$ . Найдите угол между прямыми  $BB_1$  и  $AD$ .
26. В правильной треугольной призме  $ABCA_1 B_1 C_1$ , все ребра которой равны 1, точка  $D$  — середина ребра  $BC$ . Найдите угол между прямыми  $A_1 C_1$  и  $AD$ .



27. В правильной треугольной призме  $ABCA_1B_1C_1$ , все ребра которой равны 1, точка  $D$  — середина ребра  $BC$ . Найдите угол между прямыми  $B_1C_1$  и  $AD$ .
28. В правильной треугольной призме  $ABCA_1B_1C_1$ , все ребра которой равны 1, точка  $D$  — середина ребра  $BC$ . Найдите угол между прямыми  $CB_1$  и  $AD$ .
29. В правильной треугольной призме  $ABCA_1B_1C_1$ , все ребра которой равны 1, найдите косинус угла  $AC_1B$ .
30. В правильной четырехугольной пирамиде  $SABCD$ , все ребра которой равны 1, найдите угол между прямыми  $SB$  и  $AC$ .
31. В правильной четырехугольной пирамиде  $SABCD$ , все ребра которой равны 1, точки  $E, F$  — середины ребер соответственно  $AB, BC$ . Найдите угол между прямыми  $SA$  и  $EF$ .
32. В правильной четырехугольной пирамиде  $SABCD$ , все ребра которой равны 1, точка  $E$  — середина ребра  $SC$ . Найдите угол между прямыми  $AD$  и  $BE$ .
33. В правильной шестиугольной призме  $ABCDEF A_1B_1C_1D_1E_1F_1$ , все ребра которой равны 1, найдите угол  $ABD_1$ .
34. В правильной шестиугольной призме  $ABCDEF A_1B_1C_1D_1E_1F_1$ , все ребра которой равны 1, найдите тангенс угла  $ABE_1$ .
35. В правильной шестиугольной призме  $ABCDEF A_1B_1C_1D_1E_1F_1$ , все ребра которой равны 1, найдите угол между прямыми  $AC$  и  $B_1F_1$ .
36. В правильной шестиугольной призме  $ABCDEF A_1B_1C_1D_1E_1F_1$ , все ребра которой равны 1, найдите угол между прямыми  $AC$  и  $B_1D_1$ .
37. В правильной шестиугольной призме  $ABCDEF A_1B_1C_1D_1E_1F_1$ , все ребра которой равны 1, найдите тангенс угла между прямыми  $AB$  и  $CF_1$ .
38. В правильной шестиугольной призме  $ABCDEF A_1B_1C_1D_1E_1F_1$ , все ребра которой равны 1, найдите угол  $ACD_1$ .
39. В правильной шестиугольной призме  $ABCDEF A_1B_1C_1D_1E_1F_1$ , все ребра которой равны 1, найдите угол  $AC_1D_1$ .
40. В правильной шестиугольной призме  $ABCDEF A_1B_1C_1D_1E_1F_1$ , все ребра которой равны 1, найдите тангенс угла между прямыми  $CC_1$  и  $BE_1$ .
41. В правильной шестиугольной призме  $ABCDEF A_1B_1C_1D_1E_1F_1$ , все ребра которой равны 1, найдите угол между прямыми  $BF_1$  и  $CC_1$ .
42. В правильной шестиугольной призме  $ABCDEF A_1B_1C_1D_1E_1F_1$ , все ребра которой равны 1, найдите угол между прямыми  $BA_1$  и  $B_1E$ .
43. В правильной шестиугольной призме  $ABCDEF A_1B_1C_1D_1E_1F_1$ , все ребра которой равны 1, найдите угол между прямыми  $AC$  и  $DF_1$ .
44. В правильной шестиугольной пирамиде  $SABCDEF$ , стороны основания которой равны 1, а боковые ребра равны 2, найдите косинус угла между прямыми  $SA$  и  $BC$ .



45. В правильной шестиугольной пирамиде  $SABCDEF$ , стороны основания которой равны 1, а боковые ребра равны 2, точка  $G$  — середина ребра  $SD$ . Найдите угол между прямыми  $AG$  и  $BC$ .
46. В правильной шестиугольной пирамиде  $SABCDEF$ , стороны основания которой равны 1, а боковые ребра равны 2, найдите угол между прямыми  $SA$  и  $BF$ .
47. В правильной шестиугольной пирамиде  $SABCDEF$ , стороны основания которой равны 1, а боковые ребра равны 2, найдите угол между прямыми  $SA$  и  $CE$ .
48. Найдите угол между скрещивающимися ребрами октаэдра.

### Угол между прямой и плоскостью

1. В кубе  $ABCD A_1 B_1 C_1 D_1$  найдите угол между прямой  $AC$  и плоскостью  $BCD_1$ .
2. В кубе  $ABCD A_1 B_1 C_1 D_1$  найдите угол между прямой  $BD$  и плоскостью  $BCD_1$ .
3. В кубе  $ABCD A_1 B_1 C_1 D_1$  найдите угол между прямой  $DA_1$  и плоскостью  $BCD_1$ .
4. В кубе  $ABCD A_1 B_1 C_1 D_1$  найдите угол между прямой  $AD_1$  и плоскостью  $BCD_1$ .
5. В кубе  $ABCD A_1 B_1 C_1 D_1$  найдите угол между прямой  $A_1 C_1$  и плоскостью  $BCD_1$ .
6. В кубе  $ABCD A_1 B_1 C_1 D_1$  найдите угол между прямой  $BC_1$  и плоскостью  $BCD_1$ .
7. В кубе  $ABCD A_1 B_1 C_1 D_1$  найдите угол между прямой  $AB_1$  и плоскостью  $ABC_1$ .
8. В кубе  $ABCD A_1 B_1 C_1 D_1$  найдите угол между прямой  $AC$  и плоскостью  $ABC_1$ .
9. В кубе  $ABCD A_1 B_1 C_1 D_1$  найдите угол между прямой  $AB_1$  и плоскостью  $BDD_1$ .
10. В кубе  $ABCD A_1 B_1 C_1 D_1$  найдите угол между прямой  $BC_1$  и плоскостью  $BDD_1$ .
11. В кубе  $ABCD A_1 B_1 C_1 D_1$  найдите угол между прямой  $CA_1$  и плоскостью  $AB_1 D_1$ .
12. В кубе  $ABCD A_1 B_1 C_1 D_1$  найдите угол между прямой  $BD_1$  и плоскостью  $ACB_1$ .
13. В тетраэдре  $ABCD$ , все ребра которого равны 1, точка  $E$  — середина ребра  $AD$ . Найдите угол между прямой  $AD$  и плоскостью  $BCE$ .
14. В тетраэдре  $ABCD$ , все ребра которого равны 1, точка  $E$  — середина ребра  $AD$ . Найдите угол между прямой  $AB$  и плоскостью  $BCE$ .
15. В правильной четырехугольной пирамиде  $SABCD$ , все ребра которой равны 1, найдите угол между прямой  $SA$  и плоскостью  $SBD$ .

16. В правильной четырехугольной пирамиде  $SABCD$ , все ребра которой равны 1, найдите угол между прямой  $AB$  и плоскостью  $SBD$ .
17. В правильной шестиугольной пирамиде  $SABCDEF$ , стороны основания которой равны 1, боковые ребра равны 2,  $SH$  — высота. Найдите тангенс угла между прямой  $SH$  и плоскостью  $SBC$ .
18. В правильной шестиугольной призме  $ABCDEF A_1 B_1 C_1 D_1 E_1 F_1$ , все ребра которой равны 1, найдите тангенс угла между прямой  $BE_1$  и плоскостью  $ABC$ .
19. В правильной шестиугольной призме  $ABCDEF A_1 B_1 C_1 D_1 E_1 F_1$ , все ребра которой равны 1, найдите угол между прямой  $BD_1$  и плоскостью  $ABC$ .
20. В правильной шестиугольной призме  $ABCDEF A_1 B_1 C_1 D_1 E_1 F_1$ , все ребра которой равны 1, найдите угол между прямой  $AB$  и плоскостью  $BCC_1$ .
21. В правильной шестиугольной призме  $ABCDEF A_1 B_1 C_1 D_1 E_1 F_1$ , все ребра которой равны 1, найдите угол между прямой  $AF$  и плоскостью  $BCC_1$ .
22. В правильной шестиугольной призме  $ABCDEF A_1 B_1 C_1 D_1 E_1 F_1$ , все ребра которой равны 1, найдите угол между прямой  $BF$  и плоскостью  $BCC_1$ .
23. В правильной шестиугольной призме  $ABCDEF A_1 B_1 C_1 D_1 E_1 F_1$ , все ребра которой равны 1, найдите угол между прямой  $BE$  и плоскостью  $BCC_1$ .
24. В правильной шестиугольной призме  $ABCDEF A_1 B_1 C_1 D_1 E_1 F_1$ , все ребра которой равны 1, найдите угол между прямой  $BD$  и плоскостью  $BCC_1$ .
25. В правильной шестиугольной призме  $ABCDEF A_1 B_1 C_1 D_1 E_1 F_1$ , все ребра которой равны 1, найдите угол между прямой  $FB_1$  и плоскостью  $BCC_1$ .
26. В правильной шестиугольной призме  $ABCDEF A_1 B_1 C_1 D_1 E_1 F_1$ , все ребра которой равны 1, найдите угол между прямой  $AB$  и плоскостью  $BDD_1$ .
27. В правильной шестиугольной призме  $ABCDEF A_1 B_1 C_1 D_1 E_1 F_1$ , все ребра которой равны 1, найдите угол между прямой  $BA_1$  и плоскостью  $BDD_1$ .
28. В правильной шестиугольной призме  $ABCDEF A_1 B_1 C_1 D_1 E_1 F_1$ , все ребра которой равны 1, найдите угол между прямой  $FB$  и плоскостью  $BDD_1$ .
29. В правильной шестиугольной призме  $ABCDEF A_1 B_1 C_1 D_1 E_1 F_1$ , все ребра которой равны 1, найдите угол между прямой  $AF$  и плоскостью  $BDD_1$ .
30. В правильной шестиугольной призме  $ABCDEF A_1 B_1 C_1 D_1 E_1 F_1$ , все



- ребра которой равны 1, найдите угол между прямой  $AB$  и плоскостью  $BEE_1$ .
31. В правильной шестиугольной призме  $ABCDEF A_1 B_1 C_1 D_1 E_1 F_1$ , все ребра которой равны 1, найдите угол между прямой  $AD$  и плоскостью  $BEE_1$ .
32. В правильной шестиугольной призме  $ABCDEF A_1 B_1 C_1 D_1 E_1 F_1$ , все ребра которой равны 1, найдите угол между прямой  $BB_1$  и плоскостью  $BCE_1$ .
33. В правильной шестиугольной призме  $ABCDEF A_1 B_1 C_1 D_1 E_1 F_1$ , все ребра которой равны 1, найдите угол между прямой  $BF$  и плоскостью  $BCE_1$ .
34. В правильной шестиугольной призме  $ABCDEF A_1 B_1 C_1 D_1 E_1 F_1$ , все ребра которой равны 1, найдите угол между прямой  $CC_1$  и плоскостью  $BDE_1$ .
35. В правильной шестиугольной призме  $ABCDEF A_1 B_1 C_1 D_1 E_1 F_1$ , все ребра которой равны 1, найдите угол между прямой  $AB$  и плоскостью  $BDE_1$ .

#### Угол между двумя плоскостями

1. В кубе  $ABCD A_1 B_1 C_1 D_1$  найдите угол между плоскостями  $ABC_1$  и  $BCC_1$ .
2. В кубе  $ABCD A_1 B_1 C_1 D_1$  найдите угол между плоскостями  $CDD_1$  и  $BCD_1$ .
3. В кубе  $ABCD A_1 B_1 C_1 D_1$  найдите угол между плоскостями  $AB_1 C_1$  и  $BCD_1$ .
4. В правильном тетраэдре  $ABCD$  точка  $E$  — середина ребра  $AD$ . Найдите угол между плоскостями  $ACD$  и  $BCE$ .
5. В правильной четырехугольной пирамиде  $SABCD$ , все ребра которой равны 1, точка  $E$  — середина ребра  $SC$ . Найдите угол между плоскостями  $ABC$  и  $BDE$ .
6. В правильной шестиугольной пирамиде  $SABCDEF$  найдите угол между плоскостями  $SAD$  и  $SBE$ .
7. В правильной шестиугольной призме  $ABCDEF A_1 B_1 C_1 D_1 E_1 F_1$  найдите угол между плоскостями  $AFF_1$  и  $ACC_1$ .
8. В правильной шестиугольной призме  $ABCDEF A_1 B_1 C_1 D_1 E_1 F_1$  найдите угол между плоскостями  $ABB_1$  и  $AEE_1$ .
9. В правильной шестиугольной призме  $ABCDEF A_1 B_1 C_1 D_1 E_1 F_1$  найдите угол между плоскостями  $ACC_1$  и  $AEE_1$ .
10. В правильной шестиугольной призме  $ABCDEF A_1 B_1 C_1 D_1 E_1 F_1$  найдите угол между плоскостями  $AFF_1$  и  $BCC_1$ .
11. В правильной шестиугольной призме  $ABCDEF A_1 B_1 C_1 D_1 E_1 F_1$  найдите угол между плоскостями  $AFF_1$  и  $DEE_1$ .

12. В правильной шестиугольной призме  $ABCDEF A_1 B_1 C_1 D_1 E_1 F_1$  найдите угол между плоскостями  $AFF_1$  и  $BDD_1$ .
13. В правильной шестиугольной призме  $ABCDEF A_1 B_1 C_1 D_1 E_1 F_1$ , все ребра которой равны 1, найдите угол между плоскостями  $ABC$  и  $BDE_1$ .
14. В правильной шестиугольной призме  $ABCDEF A_1 B_1 C_1 D_1 E_1 F_1$  найдите угол между плоскостями  $ACC_1$  и  $BFF_1$ .
15. В правильной шестиугольной призме  $ABCDEF A_1 B_1 C_1 D_1 E_1 F_1$  найдите угол между плоскостями  $ADD_1$  и  $BFF_1$ .
16. В правильной шестиугольной призме  $ABCDEF A_1 B_1 C_1 D_1 E_1 F_1$ , все ребра которой равны 1, найдите угол между плоскостями  $ABC$  и  $BCE_1$ .
17. В правильной шестиугольной призме  $ABCDEF A_1 B_1 C_1 D_1 E_1 F_1$ , все ребра которой равны 1, найдите угол между плоскостями  $BCE_1$  и  $BCC_1$ .

## С

## Угол между прямыми

1. В кубе  $ABCD A_1 B_1 C_1 D_1$  найдите косинус угла между прямыми  $AB$  и  $CA_1$ .
2. В кубе  $ABCD A_1 B_1 C_1 D_1$  найдите тангенс угла между прямыми  $AB$  и  $DB_1$ .
3. В кубе  $ABCD A_1 B_1 C_1 D_1$  найдите косинус угла между прямыми  $BD_1$  и  $DB_1$ .
4. В кубе  $ABCD A_1 B_1 C_1 D_1$  найдите косинус угла между прямыми  $AC_1$  и  $CA_1$ .
5. В правильном тетраэдре  $ABCD$  точка  $E$  — середина ребра  $AD$ . Найдите косинус угла между прямыми  $AB$  и  $CE$ .
6. В правильном тетраэдре  $ABCD$  точка  $E$  — середина ребра  $BC$ . Найдите косинус угла между прямыми  $AB$  и  $DE$ .
7. В правильном тетраэдре  $ABCD$  точки  $E, F$  — середины ребер соответственно  $AB$  и  $BC$ . Найдите косинус угла  $EDF$ .
8. В правильном тетраэдре  $ABCD$  точка  $E$  — середина ребра  $AD$ . Найдите косинус угла  $BEC$ .
9. В правильной треугольной призме  $ABCA_1 B_1 C_1$ , все ребра которой равны 1, найдите косинус угла между прямыми  $AB$  и  $CB_1$ .
10. В правильной треугольной призме  $ABCA_1 B_1 C_1$ , все ребра которой равны 1, найдите косинус угла между прямыми  $AB_1$  и  $BC_1$ .
11. В правильной четырехугольной пирамиде  $SABCD$ , все ребра которой равны 1, точка  $E$  — середина ребра  $SC$ . Найдите тангенс угла между прямыми  $SA$  и  $BE$ .



12. В правильной четырехугольной пирамиде  $SABCD$ , все ребра которой равны 1, точка  $E$  — середина ребра  $SC$ . Найдите косинус угла  $ABE$ .
13. В правильной четырехугольной пирамиде  $SABCD$ , все ребра которой равны 1, точки  $E, F$  — середины ребер соответственно  $SC$  и  $SD$ . Найдите косинус угла  $BEF$ .
14. В правильной четырехугольной пирамиде  $SABCD$ , все ребра которой равны 1, точки  $E, F$  — середины ребер соответственно  $SC$  и  $SB$ . Найдите косинус угла между прямыми  $AF$  и  $BE$ .
15. В правильной четырехугольной пирамиде  $SABCD$ , все ребра которой равны 1, точки  $E, F$  — середины ребер соответственно  $SC$  и  $SD$ . Найдите косинус угла между прямыми  $AF$  и  $BE$ .
16. В правильной шестиугольной призме  $ABCDEF A_1 B_1 C_1 D_1 E_1 F_1$ , все ребра которой равны 1, найдите косинус угла между прямыми  $DE$  и  $BF_1$ .
17. В правильной шестиугольной призме  $ABCDEF A_1 B_1 C_1 D_1 E_1 F_1$ , все ребра которой равны 1, найдите косинус угла между прямыми  $AB$  и  $CD_1$ .
18. В правильной шестиугольной призме  $ABCDEF A_1 B_1 C_1 D_1 E_1 F_1$ , все ребра которой равны 1, найдите косинус угла между прямыми  $AB$  и  $CE_1$ .
19. В правильной шестиугольной призме  $ABCDEF A_1 B_1 C_1 D_1 E_1 F_1$ , все ребра которой равны 1, найдите косинус угла между прямыми  $DF$  и  $CE_1$ .
20. В правильной шестиугольной призме  $ABCDEF A_1 B_1 C_1 D_1 E_1 F_1$ , все ребра которой равны 1, найдите синус угла между прямыми  $DF$  и  $CF_1$ .
21. В правильной шестиугольной призме  $ABCDEF A_1 B_1 C_1 D_1 E_1 F_1$ , все ребра которой равны 1, найдите косинус угла между прямыми  $AC$  и  $DE_1$ .
22. В правильной шестиугольной призме  $ABCDEF A_1 B_1 C_1 D_1 E_1 F_1$ , все ребра которой равны 1, найдите косинус угла между прямыми  $BA_1$  и  $CB_1$ .
23. В правильной шестиугольной призме  $ABCDEF A_1 B_1 C_1 D_1 E_1 F_1$ , все ребра которой равны 1, найдите косинус угла между прямыми  $BA_1$  и  $DC_1$ .
24. В правильной шестиугольной призме  $ABCDEF A_1 B_1 C_1 D_1 E_1 F_1$ , все ребра которой равны 1, найдите косинус угла между прямыми  $BA_1$  и  $DB_1$ .
25. В правильной шестиугольной призме  $ABCDEF A_1 B_1 C_1 D_1 E_1 F_1$ , все ребра которой равны 1, найдите косинус угла между прямыми  $BA_1$  и  $FC_1$ .

26. В правильной шестиугольной призме  $ABCDEF A_1 B_1 C_1 D_1 E_1 F_1$ , все ребра которой равны 1, найдите косинус угла между прямыми  $BA_1$  и  $FB_1$ .
27. В правильной шестиугольной призме  $ABCDEF A_1 B_1 C_1 D_1 E_1 F_1$ , все ребра которой равны 1, найдите косинус угла между прямыми  $BA_1$  и  $CD_1$ .
28. В правильной шестиугольной призме  $ABCDEF A_1 B_1 C_1 D_1 E_1 F_1$ , все ребра которой равны 1, найдите косинус угла между прямыми  $AC_1$  и  $BD_1$ .
29. В правильной шестиугольной призме  $ABCDEF A_1 B_1 C_1 D_1 E_1 F_1$ , все ребра которой равны 1, найдите косинус угла между прямыми  $AC_1$  и  $BE_1$ .
30. В правильной шестиугольной пирамиде  $SABCDEF$ , стороны основания которой равны 1, а боковые ребра равны 2, найдите косинус угла между прямыми  $SA$  и  $DE$ .
31. В правильной шестиугольной пирамиде  $SABCDEF$ , стороны основания которой равны 1, а боковые ребра равны 2, найдите косинус угла между прямыми  $SA$  и  $BD$ .
32. В правильной шестиугольной пирамиде  $SABCDEF$ , стороны основания которой равны 1, а боковые ребра равны 2, найдите косинус угла между прямыми  $SA$  и  $BE$ .

### Угол между прямой и плоскостью

1. В кубе  $ABCD A_1 B_1 C_1 D_1$  найдите синус угла между прямой  $BD_1$  и плоскостью  $ABC$ .
2. В кубе  $ABCD A_1 B_1 C_1 D_1$  найдите косинус угла между прямой  $DB_1$  и плоскостью  $ADD_1$ .
3. В кубе  $ABCD A_1 B_1 C_1 D_1$  найдите тангенс угла между прямой  $AC_1$  и плоскостью  $BCD_1$ .
4. В кубе  $ABCD A_1 B_1 C_1 D_1$  найдите тангенс угла между прямой  $DB_1$  и плоскостью  $ABC_1$ .
5. В кубе  $ABCD A_1 B_1 C_1 D_1$  найдите тангенс угла между прямой  $CA_1$  и плоскостью  $BDD_1$ .
6. В кубе  $ABCD A_1 B_1 C_1 D_1$  найдите синус угла между прямой  $BC$  и плоскостью  $AB_1 D_1$ .
7. В кубе  $ABCD A_1 B_1 C_1 D_1$  найдите синус угла между прямой  $CC_1$  и плоскостью  $AB_1 D_1$ .
8. В кубе  $ABCD A_1 B_1 C_1 D_1$  найдите синус угла между прямой  $CD$  и плоскостью  $AB_1 D_1$ .
9. В кубе  $ABCD A_1 B_1 C_1 D_1$  найдите синус угла между прямой  $AC$  и плоскостью  $AB_1 D_1$ .
10. В кубе  $ABCD A_1 B_1 C_1 D_1$  найдите синус угла между прямой  $BA_1$  и плоскостью  $AB_1 D_1$ .



11. В кубе  $ABCD A_1 B_1 C_1 D_1$  найдите синус угла между прямой  $CB_1$  и плоскостью  $AB_1 D_1$ .
12. В кубе  $ABCD A_1 B_1 C_1 D_1$  найдите синус угла между прямой  $BD_1$  и плоскостью  $AB_1 D_1$ .
13. В кубе  $ABCD A_1 B_1 C_1 D_1$  найдите синус угла между прямой  $DD_1$  и плоскостью  $ACB_1$ .
14. В кубе  $ABCD A_1 B_1 C_1 D_1$  найдите синус угла между прямой  $A_1 D_1$  и плоскостью  $ACB_1$ .
15. В кубе  $ABCD A_1 B_1 C_1 D_1$  найдите синус угла между прямой  $C_1 D_1$  и плоскостью  $ACB_1$ .
16. В кубе  $ABCD A_1 B_1 C_1 D_1$  найдите синус угла между прямой  $BA_1$  и плоскостью  $ACB_1$ .
17. В кубе  $ABCD A_1 B_1 C_1 D_1$  найдите синус угла между прямой  $B_1 D_1$  и плоскостью  $ACB_1$ .
18. В кубе  $ABCD A_1 B_1 C_1 D_1$  найдите синус угла между прямой  $CA_1$  и плоскостью  $ACB_1$ .
19. В правильном тетраэдре  $ABCD$  найдите косинус угла между прямой  $AD$  и плоскостью  $ABC$ .
20. В правильном тетраэдре  $ABCD$  точка  $E$  — середина ребра  $AB$ . Найдите косинус угла между прямой  $DE$  и плоскостью  $ABC$ .
21. В правильном тетраэдре  $ABCD$  точка  $E$  — середина ребра  $CD$ . Найдите синус угла между прямой  $AE$  и плоскостью  $ABC$ .
22. В правильном тетраэдре  $ABCD$   $E$  — точка пересечения медиан треугольника  $BCD$ . Найдите синус угла между прямой  $AE$  и плоскостью  $ABC$ .
23. В правильной треугольной призме  $ABCA_1 B_1 C_1$ , все ребра которой равны 1, найдите синус угла между прямой  $BA_1$  и плоскостью  $BCC_1$ .
24. В правильной треугольной призме  $ABCA_1 B_1 C_1$ , все ребра которой равны 1, точка  $E$  — середина ребра  $B_1 C_1$ . Найдите тангенс угла между прямой  $AE$  и плоскостью  $ABC$ .
25. В правильной треугольной призме  $ABCA_1 B_1 C_1$ , все ребра которой равны 1, найдите тангенс угла между прямой  $AA_1$  и плоскостью  $AB_1 C_1$ .
26. В правильной треугольной призме  $ABCA_1 B_1 C_1$ , все ребра которой равны 1, найдите синус угла между прямой  $A_1 B_1$  и плоскостью  $AB_1 C_1$ .
27. В правильной треугольной призме  $ABCA_1 B_1 C_1$ , все ребра которой равны 1, найдите синус угла между прямой  $BA_1$  и плоскостью  $AB_1 C_1$ .
28. В правильной четырехугольной пирамиде  $SABCD$ , все ребра которой равны 1, точка  $E$  — середина ребра  $SB$ . Найдите синус угла между прямой  $AE$  и плоскостью  $SBD$ .

29. В правильной четырехугольной пирамиде  $SABCD$ , все ребра которой равны 1, найдите косинус угла между прямой  $AB$  и плоскостью  $SBC$ .
30. В правильной четырехугольной пирамиде  $SABCD$ , все ребра которой равны 1, найдите синус угла между прямой  $AC$  и плоскостью  $SBC$ .
31. В правильной четырехугольной пирамиде  $SABCD$ , все ребра которой равны 1, точка  $E$  — середина ребра  $AD$ . Найдите косинус угла между прямой  $SE$  и плоскостью  $SBC$ .
32. В правильной четырехугольной пирамиде  $SABCD$ , все ребра которой равны 1,  $SE$  — высота. Найдите синус угла между прямой  $SE$  и плоскостью  $SBC$ .
33. В правильной шестиугольной пирамиде  $SABCDEF$ , стороны основания которой равны 1, а боковые ребра равны 2, найдите косинус угла между прямой  $AB$  и плоскостью  $SBC$ .
34. В правильной шестиугольной пирамиде  $SABCDEF$ , стороны основания которой равны 1, а боковые ребра равны 2, найдите косинус угла между прямой  $AF$  и плоскостью  $SBC$ .
35. В правильной шестиугольной пирамиде  $SABCDEF$ , стороны основания которой равны 1, а боковые ребра равны 2, найдите косинус угла между прямой  $BF$  и плоскостью  $SBC$ .
36. В правильной шестиугольной пирамиде  $SABCDEF$ , стороны основания которой равны 1, а боковые ребра равны 2, найдите синус угла между прямой  $SA$  и плоскостью  $SBC$ .
37. В правильной шестиугольной пирамиде  $SABCDEF$ , стороны основания которой равны 1, а боковые ребра равны 2, найдите синус угла между прямой  $SF$  и плоскостью  $SBC$ .
38. В правильной шестиугольной призме  $ABCDEF A_1 B_1 C_1 D_1 E_1 F_1$ , все ребра которой равны 1, найдите синус угла между прямой  $BA_1$  и плоскостью  $BCC_1$ .
39. В правильной шестиугольной призме  $ABCDEF A_1 B_1 C_1 D_1 E_1 F_1$ , все ребра которой равны 1, найдите синус угла между прямой  $AF_1$  и плоскостью  $BCC_1$ .
40. В правильной шестиугольной призме  $ABCDEF A_1 B_1 C_1 D_1 E_1 F_1$ , все ребра которой равны 1, найдите синус угла между прямой  $B_1 E$  и плоскостью  $BCC_1$ .
41. В правильной шестиугольной призме  $ABCDEF A_1 B_1 C_1 D_1 E_1 F_1$ , все ребра которой равны 1, найдите синус угла между прямой  $AB$  и плоскостью  $BCE_1$ .
42. В правильной шестиугольной призме  $ABCDEF A_1 B_1 C_1 D_1 E_1 F_1$ , все ребра которой равны 1, найдите синус угла между прямой  $BC_1$  и плоскостью  $BCE_1$ .



43. В правильной шестигульной призме  $ABCDEF A_1 B_1 C_1 D_1 E_1 F_1$ , все ребра которой равны 1, найдите синус угла между прямой  $BD_1$  и плоскостью  $BCE_1$ .
44. В правильной шестигульной призме  $ABCDEF A_1 B_1 C_1 D_1 E_1 F_1$ , все ребра которой равны 1, найдите синус угла между прямой  $B_1 E$  и плоскостью  $BCE_1$ .
45. В правильной шестигульной призме  $ABCDEF A_1 B_1 C_1 D_1 E_1 F_1$ , все ребра которой равны 1, найдите косинус угла между прямой  $FC_1$  и плоскостью  $BCE_1$ .

### Угол между плоскостями

1. В кубе  $ABCD A_1 B_1 C_1 D_1$  найдите тангенс угла между плоскостями  $A_1 B_1 C_1$  и  $BDC_1$ .
2. В кубе  $ABCD A_1 B_1 C_1 D_1$  найдите тангенс угла между плоскостями  $ABC$  и  $CB_1 D_1$ .
3. В кубе  $ABCD A_1 B_1 C_1 D_1$  найдите тангенс угла между плоскостями  $BCC_1$  и  $CB_1 D_1$ .
4. В кубе  $ABCD A_1 B_1 C_1 D_1$  найдите тангенс угла между плоскостями  $ADD_1$  и  $BDC_1$ .
5. В кубе  $ABCD A_1 B_1 C_1 D_1$  найдите тангенс угла между плоскостями  $ABC_1$  и  $AB_1 D_1$ .
6. В кубе  $ABCD A_1 B_1 C_1 D_1$  найдите косинус угла между плоскостями  $BDA_1$  и  $BDC_1$ .
7. В кубе  $ABCD A_1 B_1 C_1 D_1$  найдите косинус угла между плоскостями  $BA_1 C_1$  и  $AB_1 D_1$ .
8. В кубе  $ABCD A_1 B_1 C_1 D_1$  найдите угол между плоскостями  $ABC_1$  и  $BCD_1$ .
9. В кубе  $ABCD A_1 B_1 C_1 D_1$  найдите угол между плоскостями  $ABC_1$  и  $BCD_1$ .
10. В кубе  $ABCD A_1 B_1 C_1 D_1$  найдите угол между плоскостями  $ACB_1$  и  $BCD_1$ .
11. В тетраэдре  $ABCD$ , все ребра которого равны 1, найдите косинус угла между плоскостями  $ABC$  и  $ACD$ .
12. В правильной четырехугольной пирамиде  $SABCD$ , все ребра которой равны 1, найдите косинус угла между плоскостями  $ABC$  и  $SCD$ .
13. В правильной четырехугольной пирамиде  $SABCD$ , все ребра которой равны 1, найдите косинус угла между плоскостями  $SAB$  и  $SCD$ .
14. В правильной четырехугольной пирамиде  $SABCD$ , все ребра которой равны 1, найдите тангенс угла между плоскостями  $SAC$  и  $SBC$ .
15. В правильной четырехугольной пирамиде  $SABCD$ , все ребра которой равны 1, найдите косинус двугранного угла, образованного гранями  $SAD$  и  $SCD$ .

16. В правильной шестиугольной пирамиде  $SABCDEF$ , стороны основания которой равны 1, а боковые ребра равны 2, найдите косинус угла между плоскостями  $ABC$  и  $SEF$ .
17. В правильной шестиугольной пирамиде  $SABCDEF$ , стороны основания которой равны 1, а боковые ребра равны 2, найдите косинус угла между плоскостями  $SAF$  и  $SCD$ .
18. В правильной шестиугольной пирамиде  $SABCDEF$ , стороны основания которой равны 1, а боковые ребра равны 2, найдите косинус двугранного угла, образованного гранями  $SAB$  и  $SAF$ .
19. В правильной шестиугольной пирамиде  $SABCDEF$ , стороны основания которой равны 1, а боковые ребра равны 2, найдите косинус угла между плоскостями  $SAF$  и  $SBC$ .
20. В правильной шестиугольной пирамиде  $SABCDEF$ , стороны основания которой равны 1, а боковые ребра равны 2, найдите косинус угла между плоскостями  $SBD$  и  $SDF$ .
21. В правильной треугольной призме  $ABCA_1B_1C_1$ , все ребра которой равны 1, найдите тангенс угла между плоскостями  $ABC$  и  $BCA_1$ .
22. В правильной треугольной призме  $ABCA_1B_1C_1$ , все ребра которой равны 1, найдите тангенс угла между плоскостями  $ABC$  и  $AB_1C_1$ .
23. В правильной треугольной призме  $ABCA_1B_1C_1$ , все ребра которой равны 1, найдите косинус угла между плоскостями  $BCA_1$  и  $AB_1C_1$ .
24. В правильной шестиугольной призме  $ABCDEF A_1B_1C_1D_1E_1F_1$ , все ребра которой равны 1, найдите тангенс угла между плоскостями  $ABC$  и  $AEF_1$ .
25. В правильной шестиугольной призме  $ABCDEF A_1B_1C_1D_1E_1F_1$ , все ребра которой равны 1, найдите тангенс угла между плоскостями  $ABC$  и  $CA_1E_1$ .
26. В правильной шестиугольной призме  $ABCDEF A_1B_1C_1D_1E_1F_1$ , все ребра которой равны 1, найдите угол между плоскостями  $ABC$  и  $BFE_1$ .
27. В правильной шестиугольной призме  $ABCDEF A_1B_1C_1D_1E_1F_1$ , все ребра которой равны 1, найдите угол между плоскостями  $AFD_1$  и  $CDF_1$ .
28. В правильной шестиугольной призме  $ABCDEF A_1B_1C_1D_1E_1F_1$ , все ребра которой равны 1, найдите тангенс угла между плоскостями  $ABC$  и  $AFE_1$ .
29. В правильной шестиугольной призме  $ABCDEF A_1B_1C_1D_1E_1F_1$ , все ребра которой равны 1, найдите тангенс угла между плоскостями  $ABC$  и  $BFD_1$ .
30. В правильной шестиугольной призме  $ABCDEF A_1B_1C_1D_1E_1F_1$ , все ребра которой равны 1, найдите косинус угла между плоскостями  $AFE_1$  и  $CDE_1$ .



31. В правильной шестиугольной призме  $ABCDEF A_1 B_1 C_1 D_1 E_1 F_1$ , все ребра которой равны 1, найдите косинус угла между плоскостями  $AFE_1$  и  $BCD_1$ .
32. В правильной шестиугольной призме  $ABCDEF A_1 B_1 C_1 D_1 E_1 F_1$ , все ребра которой равны 1, найдите косинус угла между плоскостями  $ACB_1$  и  $DFE_1$ .
33. В правильной шестиугольной призме  $ABCDEF A_1 B_1 C_1 D_1 E_1 F_1$ , все ребра которой равны 1, найдите косинус угла между плоскостями  $BCC_1$  и  $AFE_1$ .

## РАССТОЯНИЯ

### В

#### Расстояние от точки до прямой

1. В единичном кубе  $ABCD A_1 B_1 C_1 D_1$  найдите расстояние от точки  $B$  до прямой  $AC$ .
2. В единичном кубе  $ABCD A_1 B_1 C_1 D_1$  найдите расстояние от точки  $B$  до прямой  $AB_1$ .
3. В единичном кубе  $ABCD A_1 B_1 C_1 D_1$  найдите расстояние от точки  $B$  до прямой  $CB_1$ .
4. В единичном кубе  $ABCD A_1 B_1 C_1 D_1$  найдите расстояние от точки  $B$  до прямой  $A_1 D_1$ .
5. В единичном кубе  $ABCD A_1 B_1 C_1 D_1$  найдите расстояние от точки  $B$  до прямой  $C_1 D_1$ .
6. В единичном кубе  $ABCD A_1 B_1 C_1 D_1$  найдите расстояние от точки  $B$  до прямой  $DD_1$ .
7. В единичном кубе  $ABCD A_1 B_1 C_1 D_1$  найдите расстояние от точки  $B$  до прямой  $A_1 C_1$ .
8. В единичном кубе  $ABCD A_1 B_1 C_1 D_1$  найдите расстояние от точки  $B$  до прямой  $DA_1$ .
9. В единичном кубе  $ABCD A_1 B_1 C_1 D_1$  найдите расстояние от точки  $B$  до прямой  $DC_1$ .
10. В правильной треугольной призме  $ABCA_1 B_1 C_1$ , все ребра которой равны 1, найдите расстояние от точки  $B$  до прямой  $AB_1$ .
11. В правильной треугольной призме  $ABCA_1 B_1 C_1$ , все ребра которой равны 1, найдите расстояние от точки  $B$  до прямой  $CB_1$ .
12. В правильной треугольной призме  $ABCA_1 B_1 C_1$ , все ребра которой равны 1, найдите расстояние от точки  $B$  до прямой  $A_1 C_1$ .
13. В тетраэдре  $ABCD$ , все ребра которого равны 1, найдите расстояние от точки  $B$  до прямой  $CD$ .
14. В правильной четырехугольной пирамиде  $SABCD$ , все ребра которой равны 1, найдите расстояние от точки  $S$  до прямой  $BC$ .

15. В правильной четырехугольной пирамиде  $SABCD$ , все ребра которой равны 1, найдите расстояние от точки  $B$  до прямой  $SA$ .
16. В правильной четырехугольной пирамиде  $SABCD$ , все ребра которой равны 1, найдите расстояние от точки  $B$  до прямой  $SC$ .
17. В правильной четырехугольной пирамиде  $SABCD$ , все ребра которой равны 1, найдите расстояние от точки  $B$  до прямой  $AC$ .
18. В правильной четырехугольной пирамиде  $SABCD$ , все ребра которой равны 1, найдите расстояние от точки  $B$  до прямой  $SD$ .
19. В правильной четырехугольной пирамиде  $SABCD$ , все ребра которой равны 1, найдите расстояние от точки  $S$  до прямой  $AC$ .
20. В правильной шестиугольной пирамиде  $SABCDEF$ , стороны основания которой равны 1, а боковые ребра равны 2, найдите расстояние от точки  $S$  до прямой  $AB$ .
21. В правильной шестиугольной пирамиде  $SABCDEF$ , стороны основания которой равны 1, а боковые ребра равны 2, найдите расстояние от точки  $B$  до прямой  $AF$ .
22. В правильной шестиугольной пирамиде  $SABCDEF$ , стороны основания которой равны 1, а боковые ребра равны 2, найдите расстояние от точки  $B$  до прямой  $EF$ .
23. В правильной шестиугольной призме  $ABCDEF A_1 B_1 C_1 D_1 E_1 F_1$ , все ребра которой равны 1, найдите расстояние от точки  $B$  до прямой  $AB_1$ .
24. В правильной шестиугольной призме  $ABCDEF A_1 B_1 C_1 D_1 E_1 F_1$ , все ребра которой равны 1, найдите расстояние от точки  $B$  до прямой  $CB_1$ .
25. В правильной шестиугольной призме  $ABCDEF A_1 B_1 C_1 D_1 E_1 F_1$ , все ребра которой равны 1, найдите расстояние от точки  $B$  до прямой  $AF$ .
26. В правильной шестиугольной призме  $ABCDEF A_1 B_1 C_1 D_1 E_1 F_1$ , все ребра которой равны 1, найдите расстояние от точки  $B$  до прямой  $FE$ .
27. В правильной шестиугольной призме  $ABCDEF A_1 B_1 C_1 D_1 E_1 F_1$ , все ребра которой равны 1, найдите расстояние от точки  $B$  до прямой  $DE$ .
28. В правильной шестиугольной призме  $ABCDEF A_1 B_1 C_1 D_1 E_1 F_1$ , все ребра которой равны 1, найдите расстояние от точки  $B$  до прямой  $EE_1$ .
29. В правильной шестиугольной призме  $ABCDEF A_1 B_1 C_1 D_1 E_1 F_1$ , все ребра которой равны 1, найдите расстояние от точки  $B$  до прямой  $E_1 F_1$ .
30. В правильной шестиугольной призме  $ABCDEF A_1 B_1 C_1 D_1 E_1 F_1$ , все ребра которой равны 1, найдите расстояние от точки  $B$  до прямой  $D_1 E_1$ .



31. В правильной шестиугольной призме  $ABCDEF A_1 B_1 C_1 D_1 E_1 F_1$ , все ребра которой равны 1, найдите расстояние от точки  $B$  до прямой  $AE$ .
32. В правильной шестиугольной призме  $ABCDEF A_1 B_1 C_1 D_1 E_1 F_1$ , все ребра которой равны 1, найдите расстояние от точки  $B$  до прямой  $CE$ .
33. В правильной шестиугольной призме  $ABCDEF A_1 B_1 C_1 D_1 E_1 F_1$ , все ребра которой равны 1, найдите расстояние от точки  $B$  до прямой  $AC$ .
34. В правильной шестиугольной призме  $ABCDEF A_1 B_1 C_1 D_1 E_1 F_1$ , все ребра которой равны 1, найдите расстояние от точки  $B$  до прямой  $DF$ .
35. В правильной шестиугольной призме  $ABCDEF A_1 B_1 C_1 D_1 E_1 F_1$ , все ребра которой равны, найдите расстояние от точки  $B$  до прямой  $AD$ .
36. В правильной шестиугольной призме  $ABCDEF A_1 B_1 C_1 D_1 E_1 F_1$ , все ребра которой равны 1, найдите расстояние от точки  $B$  до прямой  $CF$ .
37. В правильной шестиугольной призме  $ABCDEF A_1 B_1 C_1 D_1 E_1 F_1$ , все ребра которой равны 1, найдите расстояние от точки  $B$  до прямой  $AE_1$ .
38. В правильной шестиугольной призме  $ABCDEF A_1 B_1 C_1 D_1 E_1 F_1$ , все ребра которой равны 1, найдите расстояние от точки  $B$  до прямой  $CE_1$ .

### Расстояние от точки до плоскости

1. В единичном кубе  $ABCD A_1 B_1 C_1 D_1$  найдите расстояние от точки  $B$  до плоскости  $ACC_1$ .
2. В единичном кубе  $ABCD A_1 B_1 C_1 D_1$  найдите расстояние от точки  $B$  до плоскости  $AB_1 C_1$ .
3. В единичном кубе  $ABCD A_1 B_1 C_1 D_1$  найдите расстояние от точки  $B$  до плоскости  $CDA_1$ .
4. В единичном тетраэдре  $ABCD$  точка  $E$  — середина ребра  $CD$ . Найдите расстояние от точки  $D$  до плоскости  $ABE$ .
5. В правильной треугольной призме  $ABCA_1 B_1 C_1$ , все ребра которой равны 1, найдите расстояние от точки  $B$  до плоскости  $ACC_1$ .
6. В правильной четырехугольной пирамиде  $SABCD$ , все ребра которой равны 1, найдите расстояние от точки  $S$  до плоскости  $ABC$ .
7. В правильной четырехугольной пирамиде  $SABCD$ , все ребра которой равны 1, найдите расстояние от точки  $B$  до плоскости  $SAC$ .
8. В правильной четырехугольной пирамиде  $SABCD$ , все ребра которой равны 1, точка  $E$  — середина ребра  $SB$ . Найдите расстояние от точки  $B$  до плоскости  $ACE$ .

9. В правильной шестиугольной призме  $ABCDEF A_1 B_1 C_1 D_1 E_1 F_1$ , все ребра которой равны 1, найдите расстояние от точки  $B$  до плоскости  $DEE_1$ .
10. В правильной шестиугольной призме  $ABCDEF A_1 B_1 C_1 D_1 E_1 F_1$ , все ребра которой равны 1, найдите расстояние от точки  $B$  до плоскости  $EFF_1$ .
11. В правильной шестиугольной призме  $ABCDEF A_1 B_1 C_1 D_1 E_1 F_1$ , все ребра которой равны 1, найдите расстояние от точки  $B$  до плоскости  $CDD_1$ .
12. В правильной шестиугольной призме  $ABCDEF A_1 B_1 C_1 D_1 E_1 F_1$ , все ребра которой равны 1, найдите расстояние от точки  $B$  до плоскости  $AFF_1$ .
13. В правильной шестиугольной призме  $ABCDEF A_1 B_1 C_1 D_1 E_1 F_1$ , все ребра которой равны 1, найдите расстояние от точки  $B$  до плоскости  $CFF_1$ .
14. В правильной шестиугольной призме  $ABCDEF A_1 B_1 C_1 D_1 E_1 F_1$ , все ребра которой равны 1, найдите расстояние от точки  $B$  до плоскости  $ADD_1$ .
15. В правильной шестиугольной призме  $ABCDEF A_1 B_1 C_1 D_1 E_1 F_1$ , все ребра которой равны 1, найдите расстояние от точки  $B$  до плоскости  $ACC_1$ .
16. В правильной шестиугольной призме  $ABCDEF A_1 B_1 C_1 D_1 E_1 F_1$ , все ребра которой равны 1, найдите расстояние от точки  $B$  до плоскости  $DFE_1$ .
17. В правильной шестиугольной призме  $ABCDEF A_1 B_1 C_1 D_1 E_1 F_1$ , все ребра которой равны 1, найдите расстояние от точки  $B$  до плоскости  $AED_1$ .
18. В правильной шестиугольной призме  $ABCDEF A_1 B_1 C_1 D_1 E_1 F_1$ , все ребра которой равны 1, найдите расстояние от точки  $B$  до плоскости  $CEF_1$ .

### Расстояние между прямыми

1. В единичном кубе  $ABCD A_1 B_1 C_1 D_1$  найдите расстояние между прямыми  $AB$  и  $CD_1$ .
2. В единичном кубе  $ABCD A_1 B_1 C_1 D_1$  найдите расстояние между прямыми  $AB$  и  $DC_1$ .
3. В единичном кубе  $ABCD A_1 B_1 C_1 D_1$  найдите расстояние между прямыми  $AB$  и  $A_1 C_1$ .
4. В единичном кубе  $ABCD A_1 B_1 C_1 D_1$  найдите расстояние между прямыми  $AB$  и  $B_1 D_1$ .
5. В единичном кубе  $ABCD A_1 B_1 C_1 D_1$  найдите расстояние между прямыми  $AB$  и  $C_1 D_1$ .



6. В единичном кубе  $ABCD A_1 B_1 C_1 D_1$  найдите расстояние между прямыми  $AB$  и  $CB_1$ .
7. В единичном кубе  $ABCD A_1 B_1 C_1 D_1$  найдите расстояние между прямыми  $AB$  и  $DA_1$ .
8. В единичном кубе  $ABCD A_1 B_1 C_1 D_1$  найдите расстояние между прямыми  $BA_1$  и  $DC_1$ .
9. В правильной шестиугольной пирамиде  $SABCDEF$ , стороны основания которой равны 1, а боковые ребра равны 2, найдите расстояние между прямыми  $BC$  и  $EF$ .
10. В правильной треугольной призме  $ABCA_1 B_1 C_1$ , все ребра которой равны 1, найдите расстояние между прямыми  $AB$  и  $B_1 C_1$ .
11. В правильной треугольной призме  $ABCA_1 B_1 C_1$ , все ребра которой равны 1, найдите расстояние между прямыми  $BC$  и  $A_1 C_1$ .
12. В правильной шестиугольной призме  $ABCDEF A_1 B_1 C_1 D_1 E_1 F_1$ , все ребра которой равны 1, найдите расстояние между прямыми  $BC$  и  $C_1 D_1$ .
13. В правильной шестиугольной призме  $ABCDEF A_1 B_1 C_1 D_1 E_1 F_1$ , все ребра которой равны 1, найдите расстояние между прямыми  $BC$  и  $D_1 E_1$ .
14. В правильной шестиугольной призме  $ABCDEF A_1 B_1 C_1 D_1 E_1 F_1$ , все ребра которой равны 1, найдите расстояние между прямыми  $BC$  и  $E_1 F_1$ .
15. В правильной шестиугольной призме  $ABCDEF A_1 B_1 C_1 D_1 E_1 F_1$ , все ребра которой равны 1, найдите расстояние между прямыми  $BC$  и  $A_1 F_1$ .
16. В правильной шестиугольной призме  $ABCDEF A_1 B_1 C_1 D_1 E_1 F_1$ , все ребра которой равны 1, найдите расстояние между прямыми  $BC$  и  $A_1 B_1$ .
17. В правильной шестиугольной призме  $ABCDEF A_1 B_1 C_1 D_1 E_1 F_1$ , все ребра которой равны 1, найдите расстояние между прямыми  $BC$  и  $EF$ .
18. В правильной шестиугольной призме  $ABCDEF A_1 B_1 C_1 D_1 E_1 F_1$ , все ребра которой равны 1, найдите расстояние между прямыми  $BB_1$  и  $DD_1$ .
19. В правильной шестиугольной призме  $ABCDEF A_1 B_1 C_1 D_1 E_1 F_1$ , все ребра которой равны 1, найдите расстояние между прямыми  $BB_1$  и  $EE_1$ .
20. В правильной шестиугольной призме  $ABCDEF A_1 B_1 C_1 D_1 E_1 F_1$ , все ребра которой равны 1, найдите расстояние между прямыми  $BA_1$  и  $DE_1$ .
21. В правильной шестиугольной призме  $ABCDEF A_1 B_1 C_1 D_1 E_1 F_1$ , все ребра которой равны 1, найдите расстояние между прямыми  $BC_1$  и  $FE_1$ .

## С

## Расстояние от точки до прямой

1. В единичном кубе  $ABCD A_1 B_1 C_1 D_1$  найдите расстояние от точки  $B$  до прямой  $AC_1$ .
2. В единичном кубе  $ABCD A_1 B_1 C_1 D_1$  найдите расстояние от точки  $B$  до прямой  $CA_1$ .
3. В единичном кубе  $ABCD A_1 B_1 C_1 D_1$  найдите расстояние от точки  $B$  до прямой  $DB_1$ .
4. В правильной треугольной призме  $ABCA_1 B_1 C_1$ , все ребра которой равны 1, найдите расстояние от точки  $B$  до прямой  $AC_1$ .
5. В правильной шестиугольной пирамиде  $SABCDEF$ , стороны основания которой равны 1, а боковые ребра равны 2, найдите расстояние от точки  $S$  до прямой  $BF$ .
6. В правильной шестиугольной пирамиде  $SABCDEF$ , стороны основания которой равны 1, а боковые ребра равны 2, найдите расстояние от точки  $S$  до прямой  $BE$ .
7. В правильной шестиугольной пирамиде  $SABCDEF$ , стороны основания которой равны 1, а боковые ребра равны 2, найдите расстояние от точки  $B$  до прямой  $SA$ .
8. В правильной шестиугольной пирамиде  $SABCDEF$ , стороны основания которой равны 1, а боковые ребра равны 2, найдите расстояние от точки  $B$  до прямой  $SD$ .
9. В правильной шестиугольной пирамиде  $SABCDEF$ , стороны основания которой равны 1, а боковые ребра равны 2, найдите расстояние от точки  $B$  до прямой  $SE$ .
10. В правильной шестиугольной призме  $ABCDEF A_1 B_1 C_1 D_1 E_1 F_1$ , все ребра которой равны 1, найдите расстояние от точки  $B$  до прямой  $A_1 F_1$ .
11. В правильной шестиугольной призме  $ABCDEF A_1 B_1 C_1 D_1 E_1 F_1$ , все ребра которой равны 1, найдите расстояние от точки  $B$  до прямой  $C_1 D_1$ .
12. В правильной шестиугольной призме  $ABCDEF A_1 B_1 C_1 D_1 E_1 F_1$ , все ребра которой равны 1, найдите расстояние от точки  $B$  до прямой  $C_1 E_1$ .
13. В правильной шестиугольной призме  $ABCDEF A_1 B_1 C_1 D_1 E_1 F_1$ , все ребра которой равны 1, найдите расстояние от точки  $B$  до прямой  $A_1 E_1$ .
14. В правильной шестиугольной призме  $ABCDEF A_1 B_1 C_1 D_1 E_1 F_1$ , все ребра которой равны 1, найдите расстояние от точки  $B$  до прямой  $C_1 F_1$ .
15. В правильной шестиугольной призме  $ABCDEF A_1 B_1 C_1 D_1 E_1 F_1$ , все ребра которой равны 1, найдите расстояние от точки  $B$  до прямой  $A_1 D_1$ .



16. В правильной шестиугольной призме  $ABCDEF A_1 B_1 C_1 D_1 E_1 F_1$ , все ребра которой равны 1, найдите расстояние от точки  $B$  до прямой  $D_1 F_1$ .
17. В правильной шестиугольной призме  $ABCDEF A_1 B_1 C_1 D_1 E_1 F_1$ , все ребра которой равны 1, найдите расстояние от точки  $B$  до прямой  $A_1 C_1$ .
18. В правильной шестиугольной призме  $ABCDEF A_1 B_1 C_1 D_1 E_1 F_1$ , все ребра которой равны 1, найдите расстояние от точки  $B$  до прямой  $FE_1$ .
19. В правильной шестиугольной призме  $ABCDEF A_1 B_1 C_1 D_1 E_1 F_1$ , все ребра которой равны 1, найдите расстояние от точки  $B$  до прямой  $DE_1$ .
20. В правильной шестиугольной призме  $ABCDEF A_1 B_1 C_1 D_1 E_1 F_1$ , все ребра которой равны 1, найдите расстояние от точки  $B$  до прямой  $AC_1$ .
21. В правильной шестиугольной призме  $ABCDEF A_1 B_1 C_1 D_1 E_1 F_1$ , все ребра которой равны 1, найдите расстояние от точки  $B$  до прямой  $CA_1$ .
22. В правильной шестиугольной призме  $ABCDEF A_1 B_1 C_1 D_1 E_1 F_1$ , все ребра которой равны 1, найдите расстояние от точки  $B$  до прямой  $AD_1$ .
23. В правильной шестиугольной призме  $ABCDEF A_1 B_1 C_1 D_1 E_1 F_1$ , все ребра которой равны 1, найдите расстояние от точки  $B$  до прямой  $CF_1$ .
24. В правильной шестиугольной призме  $ABCDEF A_1 B_1 C_1 D_1 E_1 F_1$ , все ребра которой равны 1, найдите расстояние от точки  $B$  до прямой  $CD_1$ .
25. В правильной шестиугольной призме  $ABCDEF A_1 B_1 C_1 D_1 E_1 F_1$ , все ребра которой равны 1, найдите расстояние от точки  $B$  до прямой  $FD_1$ .
26. В правильной шестиугольной призме  $ABCDEF A_1 B_1 C_1 D_1 E_1 F_1$ , все ребра которой равны 1, найдите расстояние от точки  $B$  до прямой  $DF_1$ .
27. В правильной шестиугольной призме  $ABCDEF A_1 B_1 C_1 D_1 E_1 F_1$ , все ребра которой равны 1, найдите расстояние от точки  $B$  до прямой  $FC_1$ .
28. В правильной шестиугольной призме  $ABCDEF A_1 B_1 C_1 D_1 E_1 F_1$ , все ребра которой равны 1, найдите расстояние от точки  $B$  до прямой  $DA_1$ .
29. В правильной шестиугольной призме  $ABCDEF A_1 B_1 C_1 D_1 E_1 F_1$ , все ребра которой равны 1, найдите расстояние от точки  $B$  до прямой  $FA_1$ .

30. В правильной шестиугольной призме  $ABCDEF A_1 B_1 C_1 D_1 E_1 F_1$ , все ребра которой равны 1, найдите расстояние от точки  $B$  до прямой  $DC_1$ .

### Расстояние от точки до плоскости

1. В единичном кубе  $ABCD A_1 B_1 C_1 D_1$  найдите расстояние от точки  $B$  до плоскости  $ACB_1$ .
2. В единичном кубе  $ABCD A_1 B_1 C_1 D_1$  найдите расстояние от точки  $B$  до плоскости  $DA_1 C_1$ .
3. В единичном кубе  $ABCD A_1 B_1 C_1 D_1$  найдите расстояние от точки  $B$  до плоскости  $ACD_1$ .
4. В единичном кубе  $ABCD A_1 B_1 C_1 D_1$  найдите расстояние от точки  $B$  до плоскости  $AB_1 D_1$ .
5. В единичном кубе  $ABCD A_1 B_1 C_1 D_1$  найдите расстояние от точки  $B$  до плоскости  $CB_1 D_1$ .
6. В единичном тетраэдре  $ABCD$  найдите расстояние от точки  $D$  до плоскости  $ABC$ .
7. В правильной треугольной призме  $ABCA_1 B_1 C_1$ , все ребра которой равны 1, найдите расстояние от точки  $B$  до плоскости  $ACB_1$ .
8. В правильной треугольной призме  $ABCA_1 B_1 C_1$ , все ребра которой равны 1, найдите расстояние от точки  $B$  до плоскости  $AB_1 C_1$ .
9. В правильной треугольной призме  $ABCA_1 B_1 C_1$ , все ребра которой равны 1, найдите расстояние от точки  $B$  до плоскости  $CA_1 B_1$ .
10. В правильной четырехугольной пирамиде  $SABCD$ , все ребра которой равны 1, найдите расстояние от точки  $B$  до плоскости  $SAD$ .
11. В правильной четырехугольной пирамиде  $SABCD$ , все ребра которой равны 1, найдите расстояние от точки  $B$  до плоскости  $SCD$ .
12. В правильной четырехугольной пирамиде  $SABCD$ , все ребра которой равны 1, точка  $E$  — середина ребра  $SD$ . Найдите расстояние от точки  $B$  до плоскости  $ACE$ .
13. В правильной шестиугольной пирамиде  $SABCDEF$ , стороны основания которой равны 1, а боковые ребра равны 2, найдите расстояние от точки  $S$  до плоскости  $ABC$ .
14. В правильной шестиугольной пирамиде  $SABCDEF$ , стороны основания которой равны 1, а боковые ребра равны 2, найдите расстояние от точки  $B$  до плоскости  $SEF$ .
15. В правильной шестиугольной пирамиде  $SABCDEF$ , стороны основания которой равны 1, а боковые ребра равны 2, найдите расстояние от точки  $B$  до плоскости  $SDE$ .
16. В правильной шестиугольной пирамиде  $SABCDEF$ , стороны основания которой равны 1, а боковые ребра равны 2, найдите расстояние от точки  $B$  до плоскости  $SAF$ .



17. В правильной шестиугольной пирамиде  $SABCDEF$ , стороны основания которой равны 1, а боковые ребра равны 2, найдите расстояние от точки  $B$  до плоскости  $SCD$ .
18. В правильной шестиугольной пирамиде  $SABCDEF$ , стороны основания которой равны 1, а боковые ребра равны 2, найдите расстояние от точки  $B$  до плоскости  $SAD$ .
19. В правильной шестиугольной пирамиде  $SABCDEF$ , стороны основания которой равны 1, а боковые ребра равны 2, найдите расстояние от точки  $B$  до плоскости  $SCF$ .
20. В правильной шестиугольной пирамиде  $SABCDEF$ , стороны основания которой равны 1, а боковые ребра равны 2, найдите расстояние от точки  $B$  до плоскости  $SAE$ .
21. В правильной шестиугольной пирамиде  $SABCDEF$ , стороны основания которой равны 1, а боковые ребра равны 2, найдите расстояние от точки  $B$  до плоскости  $SCE$ .
22. В правильной шестиугольной пирамиде  $SABCDEF$ , стороны основания которой равны 1, а боковые ребра равны 2, найдите расстояние от точки  $B$  до плоскости  $SAC$ .
23. В правильной шестиугольной пирамиде  $SABCDEF$ , стороны основания которой равны 1, а боковые ребра равны 2, найдите расстояние от точки  $B$  до плоскости  $SDF$ .
24. В правильной шестиугольной призме  $ABCDEF A_1 B_1 C_1 D_1 E_1 F_1$ , все ребра которой равны 1, найдите расстояние от точки  $B$  до плоскости  $DEA_1$ .
25. В правильной шестиугольной призме  $ABCDEF A_1 B_1 C_1 D_1 E_1 F_1$ , все ребра которой равны 1, найдите расстояние от точки  $B$  до плоскости  $EFB_1$ .
26. В правильной шестиугольной призме  $ABCDEF A_1 B_1 C_1 D_1 E_1 F_1$ , все ребра которой равны 1, найдите расстояние от точки  $B$  до плоскости  $CFA_1$ .
27. В правильной шестиугольной призме  $ABCDEF A_1 B_1 C_1 D_1 E_1 F_1$ , все ребра которой равны 1, найдите расстояние от точки  $B$  до плоскости  $ADC_1$ .
28. В правильной шестиугольной призме  $ABCDEF A_1 B_1 C_1 D_1 E_1 F_1$ , все ребра которой равны 1, найдите расстояние от точки  $B$  до плоскости  $DEF_1$ .
29. В правильной шестиугольной призме  $ABCDEF A_1 B_1 C_1 D_1 E_1 F_1$ , все ребра которой равны 1, найдите расстояние от точки  $B$  до плоскости  $EFA_1$ .
30. В правильной шестиугольной призме  $ABCDEF A_1 B_1 C_1 D_1 E_1 F_1$ , все ребра которой равны 1, найдите расстояние от точки  $B$  до плоскости  $ACB_1$ .

31. В правильной шестиугольной призме  $ABCDEF A_1 B_1 C_1 D_1 E_1 F_1$ , все ребра которой равны 1, найдите расстояние от точки  $B$  до плоскости  $DFA_1$ .
32. В правильной шестиугольной призме  $ABCDEF A_1 B_1 C_1 D_1 E_1 F_1$ , все ребра которой равны 1, найдите расстояние от точки  $B$  до плоскости  $DFB_1$ .
33. В правильной шестиугольной призме  $ABCDEF A_1 B_1 C_1 D_1 E_1 F_1$ , все ребра которой равны 1, найдите расстояние от точки  $B$  до плоскости  $CFE_1$ .
34. В правильной шестиугольной призме  $ABCDEF A_1 B_1 C_1 D_1 E_1 F_1$ , все ребра которой равны 1, найдите расстояние от точки  $B$  до плоскости  $ADE_1$ .
35. В правильной шестиугольной призме  $ABCDEF A_1 B_1 C_1 D_1 E_1 F_1$ , все ребра которой равны 1, найдите расстояние от точки  $B$  до плоскости  $ACD_1$ .
36. В правильной шестиугольной призме  $ABCDEF A_1 B_1 C_1 D_1 E_1 F_1$ , все ребра которой равны 1, найдите расстояние от точки  $B$  до плоскости  $DFE_1$ .
37. В правильной шестиугольной призме  $ABCDEF A_1 B_1 C_1 D_1 E_1 F_1$ , все ребра которой равны 1, найдите расстояние от точки  $B$  до плоскости  $ACE_1$ .
38. В правильной шестиугольной призме  $ABCDEF A_1 B_1 C_1 D_1 E_1 F_1$ , все ребра которой равны 1, найдите расстояние от точки  $B$  до плоскости  $AEF_1$ .
39. В правильной шестиугольной призме  $ABCDEF A_1 B_1 C_1 D_1 E_1 F_1$ , все ребра которой равны 1, найдите расстояние от точки  $B$  до плоскости  $CED_1$ .

### Расстояние между прямыми

1. В единичном кубе  $ABCD A_1 B_1 C_1 D_1$  найдите расстояние между прямыми  $AB$  и  $CA_1$ .
2. В единичном кубе  $ABCD A_1 B_1 C_1 D_1$  найдите расстояние между прямыми  $AB$  и  $DB_1$ .
3. В единичном кубе  $ABCD A_1 B_1 C_1 D_1$  найдите расстояние между прямыми  $BA_1$  и  $CB_1$ .
4. В единичном кубе  $ABCD A_1 B_1 C_1 D_1$  найдите расстояние между прямыми  $BA_1$  и  $AC$ .
5. В единичном кубе  $ABCD A_1 B_1 C_1 D_1$  найдите расстояние между прямыми  $BA_1$  и  $B_1 D_1$ .
6. В единичном кубе  $ABCD A_1 B_1 C_1 D_1$  найдите расстояние между прямыми  $BA_1$  и  $AD_1$ .
7. В единичном кубе  $ABCD A_1 B_1 C_1 D_1$  найдите расстояние между прямыми  $BA_1$  и  $AC_1$ .



8. В единичном кубе  $ABCD A_1 B_1 C_1 D_1$  найдите расстояние между прямыми  $BA_1$  и  $DB_1$ .
9. В единичном тетраэдре  $ABCD$  найдите расстояние между прямыми  $AD$  и  $BC$ .
10. В правильной четырехугольной пирамиде  $SABCD$ , все ребра которой равны 1, найдите расстояние между прямыми  $SB$  и  $AC$ .
11. В правильной четырехугольной пирамиде  $SABCD$ , все ребра которой равны 1, найдите расстояние между прямыми  $SB$  и  $AD$ .
12. В правильной четырехугольной пирамиде  $SABCD$ , все ребра которой равны 1, найдите расстояние между прямыми  $SB$  и  $CD$ .
13. В правильной шестиугольной пирамиде  $SABCDEF$ , стороны основания которой равны 1, а боковые ребра равны 2, найдите расстояние между прямыми  $SB$  и  $AF$ .
14. В правильной шестиугольной пирамиде  $SABCDEF$ , стороны основания которой равны 1, а боковые ребра равны 2, найдите расстояние между прямыми  $SB$  и  $EF$ .
15. В правильной шестиугольной пирамиде  $SABCDEF$ , стороны основания которой равны 1, а боковые ребра равны 2, найдите расстояние между прямыми  $SB$  и  $CD$ .
16. В правильной шестиугольной пирамиде  $SABCDEF$ , стороны основания которой равны 1, а боковые ребра равны 2, найдите расстояние между прямыми  $SB$  и  $DE$ .
17. В правильной шестиугольной пирамиде  $SABCDEF$ , стороны основания которой равны 1, а боковые ребра равны 2, найдите расстояние между прямыми  $SB$  и  $AC$ .
18. В правильной шестиугольной пирамиде  $SABCDEF$ , стороны основания которой равны 1, а боковые ребра равны 2, найдите расстояние между прямыми  $SB$  и  $DF$ .
19. В правильной шестиугольной пирамиде  $SABCDEF$ , стороны основания которой равны 1, а боковые ребра равны 2, найдите расстояние между прямыми  $SB$  и  $AE$ .
20. В правильной шестиугольной пирамиде  $SABCDEF$ , стороны основания которой равны 1, а боковые ребра равны 2, найдите расстояние между прямыми  $SB$  и  $CE$ .
21. В правильной треугольной призме  $ABCA_1 B_1 C_1$ , все ребра которой равны 1, найдите расстояние между прямыми  $CC_1$  и  $AB$ .
22. В правильной треугольной призме  $ABCA_1 B_1 C_1$ , все ребра которой равны 1, найдите расстояние между прямыми  $BB_1$  и  $AC$ .
23. В правильной треугольной призме  $ABCA_1 B_1 C_1$ , все ребра которой равны 1, найдите расстояние между прямыми  $AA_1$  и  $BC$ .
24. В правильной треугольной призме  $ABCA_1 B_1 C_1$ , все ребра которой равны 1, найдите расстояние между прямыми  $BB_1$  и  $AC_1$ .

25. В правильной треугольной призме  $ABCA_1B_1C_1$ , все ребра которой равны 1, найдите расстояние между прямыми  $BB_1$  и  $A_1C_1$ .
26. В правильной треугольной призме  $ABCA_1B_1C_1$ , все ребра которой равны 1, найдите расстояние между прямыми  $AB$  и  $CB_1$ .
27. В правильной треугольной призме  $ABCA_1B_1C_1$ , все ребра которой равны 1, найдите расстояние между прямыми  $AB_1$  и  $BC_1$ .
28. В правильной треугольной призме  $ABCA_1B_1C_1$ , все ребра которой равны 1, найдите расстояние между прямыми  $AB_1$  и  $CA_1$ .
29. В правильной шестиугольной призме  $ABCDEF A_1B_1C_1D_1E_1F_1$ , все ребра которой равны 1, найдите расстояние между прямыми  $BC$  и  $EE_1$ .
30. В правильной шестиугольной призме  $ABCDEF A_1B_1C_1D_1E_1F_1$ , все ребра которой равны 1, найдите расстояние между прямыми  $BB_1$  и  $C_1D_1$ .
31. В правильной шестиугольной призме  $ABCDEF A_1B_1C_1D_1E_1F_1$ , все ребра которой равны 1, найдите расстояние между прямыми  $BB_1$  и  $D_1E_1$ .
32. В правильной шестиугольной призме  $ABCDEF A_1B_1C_1D_1E_1F_1$ , все ребра которой равны 1, найдите расстояние между прямыми  $BB_1$  и  $E_1F_1$ .
33. В правильной шестиугольной призме  $ABCDEF A_1B_1C_1D_1E_1F_1$ , все ребра которой равны 1, найдите расстояние между прямыми  $BB_1$  и  $A_1F_1$ .
34. В правильной шестиугольной призме  $ABCDEF A_1B_1C_1D_1E_1F_1$ , все ребра которой равны 1, найдите расстояние между прямыми  $BB_1$  и  $CD_1$ .
35. В правильной шестиугольной призме  $ABCDEF A_1B_1C_1D_1E_1F_1$ , все ребра которой равны 1, найдите расстояние между прямыми  $BB_1$  и  $DC_1$ .
36. В правильной шестиугольной призме  $ABCDEF A_1B_1C_1D_1E_1F_1$ , все ребра которой равны 1, найдите расстояние между прямыми  $BB_1$  и  $DE_1$ .
37. В правильной шестиугольной призме  $ABCDEF A_1B_1C_1D_1E_1F_1$ , все ребра которой равны 1, найдите расстояние между прямыми  $BB_1$  и  $ED_1$ .
38. В правильной шестиугольной призме  $ABCDEF A_1B_1C_1D_1E_1F_1$ , все ребра которой равны 1, найдите расстояние между прямыми  $BB_1$  и  $EF_1$ .
39. В правильной шестиугольной призме  $ABCDEF A_1B_1C_1D_1E_1F_1$ , все ребра которой равны 1, найдите расстояние между прямыми  $BB_1$  и  $FE_1$ .



40. В правильной шестиугольной призме  $ABCDEF A_1 B_1 C_1 D_1 E_1 F_1$ , все ребра которой равны 1, найдите расстояние между прямыми  $BB_1$  и  $AF_1$ .
41. В правильной шестиугольной призме  $ABCDEF A_1 B_1 C_1 D_1 E_1 F_1$ , все ребра которой равны 1, найдите расстояние между прямыми  $BB_1$  и  $FA_1$ .
42. В правильной шестиугольной призме  $ABCDEF A_1 B_1 C_1 D_1 E_1 F_1$ , все ребра которой равны 1, найдите расстояние между прямыми  $BB_1$  и  $CE_1$ .
43. В правильной шестиугольной призме  $ABCDEF A_1 B_1 C_1 D_1 E_1 F_1$ , все ребра которой равны 1, найдите расстояние между прямыми  $BB_1$  и  $EC_1$ .
44. В правильной шестиугольной призме  $ABCDEF A_1 B_1 C_1 D_1 E_1 F_1$ , все ребра которой равны 1, найдите расстояние между прямыми  $BB_1$  и  $DF_1$ .
45. В правильной шестиугольной призме  $ABCDEF A_1 B_1 C_1 D_1 E_1 F_1$ , все ребра которой равны 1, найдите расстояние между прямыми  $BB_1$  и  $FD_1$ .
46. В правильной шестиугольной призме  $ABCDEF A_1 B_1 C_1 D_1 E_1 F_1$ , все ребра которой равны 1, найдите расстояние между прямыми  $BB_1$  и  $EA_1$ .
47. В правильной шестиугольной призме  $ABCDEF A_1 B_1 C_1 D_1 E_1 F_1$ , все ребра которой равны 1, найдите расстояние между прямыми  $BB_1$  и  $AE_1$ .
48. В правильной шестиугольной призме  $ABCDEF A_1 B_1 C_1 D_1 E_1 F_1$ , все ребра которой равны 1, найдите расстояние между прямыми  $BB_1$  и  $CF_1$ .
49. В правильной шестиугольной призме  $ABCDEF A_1 B_1 C_1 D_1 E_1 F_1$ , все ребра которой равны 1, найдите расстояние между прямыми  $BB_1$  и  $FC_1$ .
50. В правильной шестиугольной призме  $ABCDEF A_1 B_1 C_1 D_1 E_1 F_1$ , все ребра которой равны 1, найдите расстояние между прямыми  $BB_1$  и  $DA_1$ .
51. В правильной шестиугольной призме  $ABCDEF A_1 B_1 C_1 D_1 E_1 F_1$ , все ребра которой равны 1, найдите расстояние между прямыми  $BB_1$  и  $AD_1$ .
52. В правильной шестиугольной призме  $ABCDEF A_1 B_1 C_1 D_1 E_1 F_1$ , все ребра которой равны 1, найдите расстояние между прямыми  $BA_1$  и  $ED_1$ .
53. В правильной шестиугольной призме  $ABCDEF A_1 B_1 C_1 D_1 E_1 F_1$ , все ребра которой равны 1, найдите расстояние между прямыми  $BA_1$  и  $CB_1$ .

54. В правильной шестиугольной призме  $ABCDEF A_1 B_1 C_1 D_1 E_1 F_1$ , все ребра которой равны 1, найдите расстояние между прямыми  $BA_1$  и  $DC_1$ .
55. В правильной шестиугольной призме  $ABCDEF A_1 B_1 C_1 D_1 E_1 F_1$ , все ребра которой равны 1, найдите расстояние между прямыми  $BA_1$  и  $FE_1$ .
56. В правильной шестиугольной призме  $ABCDEF A_1 B_1 C_1 D_1 E_1 F_1$ , все ребра которой равны 1, найдите расстояние между прямыми  $BA_1$  и  $AF_1$ .
57. В правильной шестиугольной призме  $ABCDEF A_1 B_1 C_1 D_1 E_1 F_1$ , все ребра которой равны 1, найдите расстояние между прямыми  $BA_1$  и  $DB_1$ .
58. В правильной шестиугольной призме  $ABCDEF A_1 B_1 C_1 D_1 E_1 F_1$ , все ребра которой равны 1, найдите расстояние между прямыми  $BA_1$  и  $AE_1$ .
59. В правильной шестиугольной призме  $ABCDEF A_1 B_1 C_1 D_1 E_1 F_1$ , все ребра которой равны 1, найдите расстояние между прямыми  $BA_1$  и  $AD_1$ .
60. В правильной шестиугольной призме  $ABCDEF A_1 B_1 C_1 D_1 E_1 F_1$ , все ребра которой равны 1, найдите расстояние между прямыми  $BD_1$  и  $EA_1$ .

## ПЛОЩАДЬ ОРТОГОНАЛЬНОЙ ПРОЕКЦИИ

### В

1. Изобразите сечение единичного куба  $ABCD A_1 B_1 C_1 D_1$ , проходящее через вершины  $A, B$  и  $C_1$ . Найдите его площадь.
2. Изобразите сечение единичного куба  $ABCD A_1 B_1 C_1 D_1$ , проходящее через вершины  $B, C$  и  $D_1$ . Найдите его площадь.
3. Изобразите сечение единичного куба  $ABCD A_1 B_1 C_1 D_1$ , проходящее через вершины  $C, D$  и  $A_1$ . Найдите его площадь.
4. Изобразите сечение единичного куба  $ABCD A_1 B_1 C_1 D_1$ , проходящее через вершины  $A, C$  и  $C_1$ . Найдите его площадь.
5. Изобразите сечение единичного куба  $ABCD A_1 B_1 C_1 D_1$ , проходящее через середины ребер  $AB, BC, A_1 B_1$ . Найдите его площадь.
6. Изобразите сечение единичного куба  $ABCD A_1 B_1 C_1 D_1$ , проходящее через середины ребер  $AD, BC, CC_1$ . Найдите его площадь.
7. Изобразите сечение единичного куба  $ABCD A_1 B_1 C_1 D_1$ , проходящее через середины ребер  $AD, CD, A_1 D_1$ . Найдите его площадь.
8. Изобразите сечение единичного куба  $ABCD A_1 B_1 C_1 D_1$ , проходящее через середины ребер  $AB, CD, AA_1$ . Найдите его площадь.
9. Изобразите сечение единичного куба  $ABCD A_1 B_1 C_1 D_1$ , проходящее через вершину  $A$  и середины ребер  $CC_1, DD_1$ . Найдите его площадь.



10. Изобразите сечение единичного куба  $ABCD A_1 B_1 C_1 D_1$ , проходящее через вершину  $B$  и середины ребер  $AA_1$ ,  $DD_1$ . Найдите его площадь.
11. Изобразите сечение единичного куба  $ABCD A_1 B_1 C_1 D_1$ , проходящее через вершину  $A$  и середины ребер  $CD$ ,  $C_1 D_1$ . Найдите его площадь.
12. Изобразите сечение единичного куба  $ABCD A_1 B_1 C_1 D_1$ , проходящее через вершину  $B$  и середины ребер  $AD$ ,  $A_1 D_1$ . Найдите его площадь.
13. Изобразите сечение тетраэдра  $ABCD$ , все ребра которого равны 1, проходящее через середину ребра  $AD$  и параллельное грани  $ABC$ . Найдите его площадь.
14. Изобразите сечение тетраэдра  $ABCD$ , все ребра которого равны 1, проходящее через середину ребра  $AB$  и параллельное грани  $BCD$ . Найдите его площадь.
15. Изобразите сечение тетраэдра  $ABCD$ , все ребра которого равны 1, проходящее через середину ребра  $AB$  и перпендикулярное этому ребру. Найдите его площадь.
16. Изобразите сечение тетраэдра  $ABCD$ , все ребра которого равны 1, проходящее через середину ребра  $AD$  и перпендикулярное этому ребру. Найдите его площадь.
17. Изобразите сечение правильной четырехугольной пирамиды  $SABCD$ , все ребра которой равны 1, проходящее через середину ребра  $SA$  и параллельное основанию  $ABCD$ . Найдите его площадь.
18. Изобразите сечение правильной четырехугольной пирамиды  $SABCD$ , все ребра которой равны 1, проходящее через середину ребра  $SB$  и перпендикулярное этому ребру. Найдите его площадь.
19. Изобразите сечение правильной шестиугольной пирамиды  $SABCDEF$ , стороны основания которой равны 1, а боковые ребра равны 2, проходящее через середину ребра  $SA$  и параллельное основанию  $ABCDEF$ . Найдите его площадь.
20. Изобразите сечение правильной шестиугольной пирамиды  $SABCDEF$ , стороны основания которой равны 1, а боковые ребра равны 2, проходящее через ребро  $SA$  и перпендикулярное основанию  $ABCDEF$ . Найдите его площадь.
21. Изобразите сечение правильной треугольной призмы  $ABCA_1 B_1 C_1$ , все ребра которой равны 1, проходящее через вершины  $A$ ,  $B$  и  $C_1$ . Найдите его площадь.
22. Изобразите сечение правильной треугольной призмы  $ABCA_1 B_1 C_1$ , все ребра которой равны 1, проходящее через вершины  $A$ ,  $B_1$  и  $C_1$ . Найдите его площадь.
23. Изобразите сечение правильной треугольной призмы  $ABCA_1 B_1 C_1$ , все ребра которой равны 1, проходящее через середины ребер  $AB$ ,  $AC$  и  $A_1 B_1$ . Найдите его площадь.



24. Изобразите сечение правильной треугольной призмы  $ABCA_1B_1C_1$ , все ребра которой равны 1, проходящее через середины ребер  $AC$ ,  $BC$  и  $A_1C_1$ . Найдите его площадь.
25. Изобразите сечение правильной треугольной призмы  $ABCA_1B_1C_1$ , все ребра которой равны 1, проходящее через вершины  $B$ ,  $B_1$  и середину ребра  $AC$ . Найдите его площадь.
26. Изобразите сечение правильной треугольной призмы  $ABCA_1B_1C_1$ , все ребра которой равны 1, проходящее через вершины  $C$ ,  $C_1$  и середину ребра  $AB$ . Найдите его площадь.
27. Изобразите сечение правильной треугольной призмы  $ABCA_1B_1C_1$ , все ребра которой равны 1, проходящее через вершины  $A$ ,  $C_1$  и середину ребра  $BC$ . Найдите его площадь.
28. Изобразите сечение правильной треугольной призмы  $ABCA_1B_1C_1$ , все ребра которой равны 1, проходящее через вершины  $A$ ,  $B_1$  и середину ребра  $A_1C_1$ . Найдите его площадь.
29. Изобразите сечение правильной шестиугольной призмы  $ABCDEF A_1B_1C_1D_1E_1F_1$ , все ребра которой равны 1, проходящее через вершины  $A$ ,  $C$  и  $C_1$ . Найдите его площадь.
30. Изобразите сечение правильной шестиугольной призмы  $ABCDEF A_1B_1C_1D_1E_1F_1$ , все ребра которой равны 1, проходящее через вершины  $A$ ,  $D$  и  $D_1$ . Найдите его площадь.
31. Изобразите сечение правильной шестиугольной призмы  $ABCDEF A_1B_1C_1D_1E_1F_1$ , все ребра которой равны 1, проходящее через середины ребер  $BC$ ,  $EF$  и  $B_1C_1$ . Найдите его площадь.
32. Изобразите сечение правильной шестиугольной призмы  $ABCDEF A_1B_1C_1D_1E_1F_1$ , все ребра которой равны 1, проходящее через середины ребер  $AB$ ,  $BC$  и  $A_1B_1$ . Найдите его площадь.
33. Изобразите сечение правильной шестиугольной призмы  $ABCDEF A_1B_1C_1D_1E_1F_1$ , все ребра которой равны 1, проходящее через вершины  $A$ ,  $C$  и  $D_1$ . Найдите его площадь.
34. Изобразите сечение правильной шестиугольной призмы  $ABCDEF A_1B_1C_1D_1E_1F_1$ , все ребра которой равны 1, проходящее через вершины  $B$ ,  $D$  и  $E_1$ . Найдите его площадь.
35. Изобразите сечение правильной шестиугольной призмы  $ABCDEF A_1B_1C_1D_1E_1F_1$ , все ребра которой равны 1, проходящее через вершины  $C$ ,  $E$  и  $F_1$ . Найдите его площадь.
36. Изобразите сечение правильной шестиугольной призмы  $ABCDEF A_1B_1C_1D_1E_1F_1$ , все ребра которой равны 1, проходящее через вершины  $D$ ,  $F$  и  $A_1$ . Найдите его площадь.
37. Изобразите сечение правильной шестиугольной призмы  $ABCDEF A_1B_1C_1D_1E_1F_1$ , все ребра которой равны 1, проходящее через вершины  $E$ ,  $A$  и  $B_1$ . Найдите его площадь.



38. Изобразите сечение правильной шестиугольной призмы  $ABCDEF A_1 B_1 C_1 D_1 E_1 F_1$ , все ребра которой равны 1, проходящее через вершины  $F$ ,  $B$  и  $C_1$ . Найдите его площадь.

## С

1. Изобразите сечение единичного куба  $ABCD A_1 B_1 C_1 D_1$ , проходящее через вершину  $A$  и середины ребер  $BB_1$ ,  $DD_1$ . Найдите его площадь.
2. Изобразите сечение единичного куба  $ABCD A_1 B_1 C_1 D_1$ , проходящее через вершину  $B$  и середины ребер  $AA_1$ ,  $CC_1$ . Найдите его площадь.
3. Изобразите сечение единичного куба  $ABCD A_1 B_1 C_1 D_1$ , проходящее через вершину  $C$  и середины ребер  $BB_1$ ,  $DD_1$ . Найдите его площадь.
4. Изобразите сечение единичного куба  $ABCD A_1 B_1 C_1 D_1$ , проходящее через вершину  $D$  и середины ребер  $AA_1$ ,  $CC_1$ . Найдите его площадь.
5. Изобразите сечение единичного куба  $ABCD A_1 B_1 C_1 D_1$ , проходящее через вершину  $A$  и середины ребер  $CD$ ,  $A_1 B_1$ . Найдите его площадь.
6. Изобразите сечение единичного куба  $ABCD A_1 B_1 C_1 D_1$ , проходящее через вершину  $B$  и середины ребер  $A_1 B_1$ ,  $CD$ . Найдите его площадь.
7. Изобразите сечение единичного куба  $ABCD A_1 B_1 C_1 D_1$ , проходящее через вершину  $B_1$  и середины ребер  $AB$ ,  $C_1 D_1$ . Найдите его площадь.
8. Изобразите сечение единичного куба  $ABCD A_1 B_1 C_1 D_1$ , проходящее через вершину  $A_1$  и середины ребер  $AB$ ,  $C_1 D_1$ . Найдите его площадь.
9. Изобразите сечение единичного куба  $ABCD A_1 B_1 C_1 D_1$ , проходящее через вершину  $A$  и середины ребер  $BC$ ,  $A_1 D_1$ . Найдите его площадь.
10. Изобразите сечение единичного куба  $ABCD A_1 B_1 C_1 D_1$ , проходящее через вершину  $D$  и середины ребер  $BC$ ,  $A_1 D_1$ . Найдите его площадь.
11. Изобразите сечение единичного куба  $ABCD A_1 B_1 C_1 D_1$ , проходящее через вершину  $B$  и середины ребер  $AD$ ,  $B_1 C_1$ . Найдите его площадь.
12. Изобразите сечение единичного куба  $ABCD A_1 B_1 C_1 D_1$ , проходящее через вершину  $C$  и середины ребер  $AD$ ,  $B_1 C_1$ . Найдите его площадь.
13. Изобразите сечение единичного куба  $ABCD A_1 B_1 C_1 D_1$ , проходящее через середины ребер  $BB_1$ ,  $DD_1$  и точку на ребре  $AA_1$ , отстоящую от вершины  $A$  на 0,25. Найдите его площадь.
14. Изобразите сечение единичного куба  $ABCD A_1 B_1 C_1 D_1$ , проходящее через середины ребер  $AA_1$ ,  $CC_1$  и точку на ребре  $BB_1$ , отстоящую от вершины  $B$  на 0,25. Найдите его площадь.
15. Изобразите сечение единичного куба  $ABCD A_1 B_1 C_1 D_1$ , проходящее через середины ребер  $BB_1$ ,  $DD_1$  и точку на ребре  $CC_1$ , отстоящую от вершины  $C$  на 0,25. Найдите его площадь.
16. Изобразите сечение единичного куба  $ABCD A_1 B_1 C_1 D_1$ , проходящее через середины ребер  $AA_1$ ,  $CC_1$  и точку на ребре  $DD_1$ , отстоящую от вершины  $D$  на 0,25. Найдите его площадь.



17. Изобразите сечение единичного куба  $ABCD A_1 B_1 C_1 D_1$ , проходящее через середины ребер  $A_1 B_1$ ,  $CD$  и точку на ребре  $AB$ , отстоящую от вершины  $A$  на 0,25. Найдите его площадь.
18. Изобразите сечение единичного куба  $ABCD A_1 B_1 C_1 D_1$ , проходящее через середины ребер  $A_1 B_1$ ,  $CD$  и точку на ребре  $AB$ , отстоящую от вершины  $A$  на 0,75. Найдите его площадь.
19. Изобразите сечение единичного куба  $ABCD A_1 B_1 C_1 D_1$ , проходящее через середины ребер  $AB$ ,  $C_1 D_1$  и точку на ребре  $CD$ , отстоящую от вершины  $D$  на 0,25. Найдите его площадь.
20. Изобразите сечение единичного куба  $ABCD A_1 B_1 C_1 D_1$ , проходящее через середины ребер  $AB$ ,  $C_1 D_1$  и точку на ребре  $CD$ , отстоящую от вершины  $D$  на 0,75. Найдите его площадь.
21. Изобразите сечение единичного куба  $ABCD A_1 B_1 C_1 D_1$ , проходящее через середины ребер  $BC$ ,  $A_1 D_1$  и точку на ребре  $AD$ , отстоящую от вершины  $A$  на 0,25. Найдите его площадь.
22. Изобразите сечение единичного куба  $ABCD A_1 B_1 C_1 D_1$ , проходящее через середины ребер  $BC$ ,  $A_1 D_1$  и точку на ребре  $AD$ , отстоящую от вершины  $D$  на 0,75. Найдите его площадь.
23. Изобразите сечение единичного куба  $ABCD A_1 B_1 C_1 D_1$ , проходящее через середины ребер  $AD$ ,  $B_1 C_1$  и точку на ребре  $BC$ , отстоящую от вершины  $B$  на 0,25. Найдите его площадь.
24. Изобразите сечение единичного куба  $ABCD A_1 B_1 C_1 D_1$ , проходящее через середины ребер  $AD$ ,  $B_1 C_1$  и точку на ребре  $BC$ , отстоящую от вершины  $B$  на 0,75. Найдите его площадь.
25. Изобразите сечение единичного куба  $ABCD A_1 B_1 C_1 D_1$ , проходящее через середины ребер  $AB$ ,  $BC$ ,  $CC_1$ . Найдите его площадь.
26. Изобразите сечение единичного куба  $ABCD A_1 B_1 C_1 D_1$ , проходящее через середины ребер  $BC$ ,  $CD$ ,  $DD_1$ . Найдите его площадь.
27. Изобразите сечение единичного куба  $ABCD A_1 B_1 C_1 D_1$ , проходящее через середины ребер  $CD$ ,  $AD$ ,  $AA_1$ . Найдите его площадь.
28. Изобразите сечение единичного куба  $ABCD A_1 B_1 C_1 D_1$ , проходящее через середины ребер  $AD$ ,  $AB$ ,  $BB_1$ . Найдите его площадь.
29. Изобразите сечение единичного куба  $ABCD A_1 B_1 C_1 D_1$ , проходящее через вершины  $A$ ,  $C$  и середину ребра  $C_1 D_1$ . Найдите его площадь.
30. Изобразите сечение единичного куба  $ABCD A_1 B_1 C_1 D_1$ , проходящее через вершины  $A$ ,  $C$  и середину ребра  $B_1 C_1$ . Найдите его площадь.
31. Изобразите сечение единичного куба  $ABCD A_1 B_1 C_1 D_1$ , проходящее через вершины  $B$ ,  $D$  и середину ребра  $A_1 D_1$ . Найдите его площадь.
32. Изобразите сечение единичного куба  $ABCD A_1 B_1 C_1 D_1$ , проходящее через вершины  $B$ ,  $D$  и середину ребра  $C_1 D_1$ . Найдите его площадь.
33. Изобразите сечение единичного куба  $ABCD A_1 B_1 C_1 D_1$ , проходящее через вершины  $A_1$ ,  $C_1$  и середину ребра  $AD$ . Найдите его площадь.



34. Изобразите сечение единичного куба  $ABCD A_1 B_1 C_1 D_1$ , проходящее через вершины  $A_1, C_1$  и середину ребра  $AB$ . Найдите его площадь.
35. Изобразите сечение единичного куба  $ABCD A_1 B_1 C_1 D_1$ , проходящее через вершины  $B_1, D_1$  и середину ребра  $AD$ . Найдите его площадь.
36. Изобразите сечение единичного куба  $ABCD A_1 B_1 C_1 D_1$ , проходящее через вершины  $B_1, D_1$  и середину ребра  $BC$ . Найдите его площадь.
37. Изобразите сечение единичного куба  $ABCD A_1 B_1 C_1 D_1$ , проходящее через вершины  $A_1, B$  и середину ребра  $CD$ . Найдите его площадь.
38. Изобразите сечение единичного куба  $ABCD A_1 B_1 C_1 D_1$ , проходящее через вершины  $A_1, B$  и середину ребра  $CC_1$ . Найдите его площадь.
39. Изобразите сечение единичного куба  $ABCD A_1 B_1 C_1 D_1$ , проходящее через вершины  $A, B_1$  и середину ребра  $CD$ . Найдите его площадь.
40. Изобразите сечение единичного куба  $ABCD A_1 B_1 C_1 D_1$ , проходящее через вершины  $A, B_1$  и середину ребра  $DD_1$ . Найдите его площадь.
41. Изобразите сечение единичного куба  $ABCD A_1 B_1 C_1 D_1$ , проходящее через вершины  $C, D_1$  и середину ребра  $AB$ . Найдите его площадь.
42. Изобразите сечение единичного куба  $ABCD A_1 B_1 C_1 D_1$ , проходящее через вершины  $C, D_1$  и середину ребра  $BB_1$ . Найдите его площадь.
43. Изобразите сечение единичного куба  $ABCD A_1 B_1 C_1 D_1$ , проходящее через вершины  $D, C_1$  и середину ребра  $AB$ . Найдите его площадь.
44. Изобразите сечение единичного куба  $ABCD A_1 B_1 C_1 D_1$ , проходящее через вершины  $D, C_1$  и середину ребра  $AA_1$ . Найдите его площадь.
45. Изобразите сечение единичного куба  $ABCD A_1 B_1 C_1 D_1$ , проходящее через вершины  $B, C_1$  и середину ребра  $AA_1$ . Найдите его площадь.
46. Изобразите сечение единичного куба  $ABCD A_1 B_1 C_1 D_1$ , проходящее через вершины  $B, C_1$  и середину ребра  $AD$ . Найдите его площадь.
47. Изобразите сечение единичного куба  $ABCD A_1 B_1 C_1 D_1$ , проходящее через вершины  $C, B_1$  и середину ребра  $AD$ . Найдите его площадь.
48. Изобразите сечение единичного куба  $ABCD A_1 B_1 C_1 D_1$ , проходящее через вершины  $C, B_1$  и середину ребра  $DD_1$ . Найдите его площадь.
49. Изобразите сечение единичного куба  $ABCD A_1 B_1 C_1 D_1$ , проходящее через вершины  $A, D_1$  и середину ребра  $BB_1$ . Найдите его площадь.
50. Изобразите сечение единичного куба  $ABCD A_1 B_1 C_1 D_1$ , проходящее через вершины  $A, D_1$  и середину ребра  $BC$ . Найдите его площадь.
51. Изобразите сечение единичного куба  $ABCD A_1 B_1 C_1 D_1$ , проходящее через вершины  $D, A_1$  и середину ребра  $BC$ . Найдите его площадь.
52. Изобразите сечение единичного куба  $ABCD A_1 B_1 C_1 D_1$ , проходящее через вершины  $D, A_1$  и середину ребра  $CC_1$ . Найдите его площадь.
53. Изобразите сечение единичного куба  $ABCD A_1 B_1 C_1 D_1$ , проходящее через вершину  $A$  и середины ребер  $BC, A_1 B_1$ . Найдите его площадь.
54. Изобразите сечение единичного куба  $ABCD A_1 B_1 C_1 D_1$ , проходящее через вершину  $A$  и середины ребер  $CD, A_1 D_1$ . Найдите его площадь.



55. Изобразите сечение единичного куба  $ABCD A_1 B_1 C_1 D_1$ , проходящее через вершину  $A$  и середины ребер  $BC$ ,  $DD_1$ . Найдите его площадь.
56. Изобразите сечение единичного куба  $ABCD A_1 B_1 C_1 D_1$ , проходящее через вершину  $A$  и середины ребер  $BB_1$ ,  $A_1 D_1$ . Найдите его площадь.
57. Изобразите сечение единичного куба  $ABCD A_1 B_1 C_1 D_1$ , проходящее через вершину  $A$  и середины ребер  $CD$ ,  $BB_1$ . Найдите его площадь.
58. Изобразите сечение единичного куба  $ABCD A_1 B_1 C_1 D_1$ , проходящее через вершину  $A$  и середины ребер  $A_1 B_1$ ,  $DD_1$ . Найдите его площадь.
59. Изобразите сечение единичного куба  $ABCD A_1 B_1 C_1 D_1$ , проходящее через вершину  $D_1$  и середины ребер  $AB$ ,  $BC$ . Найдите его площадь.
60. Изобразите сечение единичного куба  $ABCD A_1 B_1 C_1 D_1$ , проходящее через вершину  $B_1$  и середины ребер  $AD$ ,  $CD$ . Найдите его площадь.
61. Изобразите сечение единичного куба  $ABCD A_1 B_1 C_1 D_1$ , проходящее через вершину  $C_1$  и середины ребер  $AB$ ,  $AD$ . Найдите его площадь.
62. Изобразите сечение единичного куба  $ABCD A_1 B_1 C_1 D_1$ , проходящее через вершину  $A_1$  и середины ребер  $BC$ ,  $CD$ . Найдите его площадь.
63. Изобразите сечение единичного куба  $ABCD A_1 B_1 C_1 D_1$ , проходящее через середины ребер  $AB$ ,  $BC$ ,  $DD_1$ . Найдите его площадь.
64. Изобразите сечение единичного куба  $ABCD A_1 B_1 C_1 D_1$ , проходящее через середины ребер  $BC$ ,  $CD$ ,  $AA_1$ . Найдите его площадь.
65. Изобразите сечение единичного куба  $ABCD A_1 B_1 C_1 D_1$ , проходящее через середины ребер  $AD$ ,  $CD$ ,  $BB_1$ . Найдите его площадь.
66. Изобразите сечение единичного куба  $ABCD A_1 B_1 C_1 D_1$ , проходящее через середины ребер  $AD$ ,  $AB$ ,  $CC_1$ . Найдите его площадь.
67. Изобразите сечение единичного куба  $ABCD A_1 B_1 C_1 D_1$ , проходящее через середины ребер  $AA_1$ ,  $CC_1$  и точку на ребре  $AB$ , отстоящую от вершины  $A$  на 0,75. Найдите его площадь.
68. Изобразите сечение единичного куба  $ABCD A_1 B_1 C_1 D_1$ , проходящее через середины ребер  $AA_1$ ,  $CC_1$  и точку на ребре  $AD$ , отстоящую от вершины  $A$  на 0,75. Найдите его площадь.
69. Изобразите сечение единичного куба  $ABCD A_1 B_1 C_1 D_1$ , проходящее через середины ребер  $BB_1$ ,  $DD_1$  и точку на ребре  $BC$ , отстоящую от вершины  $C$  на 0,25. Найдите его площадь.
70. Изобразите сечение единичного куба  $ABCD A_1 B_1 C_1 D_1$ , проходящее через середины ребер  $BB_1$ ,  $DD_1$  и точку на ребре  $AB$ , отстоящую от вершины  $A$  на 0,25. Найдите его площадь.
71. Изобразите сечение единичного куба  $ABCD A_1 B_1 C_1 D_1$ , проходящее через середины ребер  $AA_1$ ,  $CC_1$  и точку на ребре  $AB$ , отстоящую от вершины  $A$  на 0,25. Найдите его площадь.
72. Изобразите сечение единичного куба  $ABCD A_1 B_1 C_1 D_1$ , проходящее через середины ребер  $AA_1$ ,  $CC_1$  и точку на ребре  $AD$ , отстоящую от вершины  $A$  на 0,25. Найдите его площадь.



73. Изобразите сечение единичного куба  $ABCD A_1 B_1 C_1 D_1$ , проходящее через середины ребер  $BB_1$ ,  $DD_1$  и точку на ребре  $BC$ , отстоящую от вершины  $C$  на 0,75. Найдите его площадь.
74. Изобразите сечение единичного куба  $ABCD A_1 B_1 C_1 D_1$ , проходящее через середины ребер  $BB_1$ ,  $DD_1$  и точку на ребре  $AB$ , отстоящую от вершины  $A$  на 0,75. Найдите его площадь.
75. Изобразите сечение единичного куба  $ABCD A_1 B_1 C_1 D_1$  плоскостью, проходящей через вершину  $A$  и перпендикулярной диагонали  $DB_1$ . Найдите его площадь.
76. Изобразите сечение единичного куба  $ABCD A_1 B_1 C_1 D_1$  плоскостью, проходящей через середину диагонали  $DB_1$  и перпендикулярной этой диагонали. Найдите его площадь.
77. Изобразите сечение единичного куба  $ABCD A_1 B_1 C_1 D_1$  плоскостью, проходящей через вершины  $A$ ,  $B_1$  и параллельной прямой  $BD_1$ . Найдите его площадь.
78. Изобразите сечение тетраэдра  $ABCD$ , все ребра которого равны 1, проходящее через середины ребер  $AB$ ,  $BC$  и  $CD$ . Найдите его площадь.
79. Изобразите сечение тетраэдра  $ABCD$ , все ребра которого равны 1, проходящее через середины ребер  $AB$ ,  $AC$  и  $CD$ . Найдите его площадь.
80. Изобразите сечение тетраэдра  $ABCD$ , все ребра которого равны 1, проходящее через середины ребер  $AD$ ,  $BD$  и  $BC$ . Найдите его площадь.
81. Изобразите сечение правильной четырехугольной пирамиды  $SABCD$ , все ребра которой равны 1, проходящее через вершины  $A$ ,  $B$  и середину ребра  $SC$ . Найдите его площадь.
82. Изобразите сечение правильной четырехугольной пирамиды  $SABCD$ , все ребра которой равны 1, проходящее через вершины  $B$ ,  $C$  и середину ребра  $SA$ . Найдите его площадь.
83. Изобразите сечение правильной четырехугольной пирамиды  $SABCD$ , все ребра которой равны 1, проходящее через вершины  $C$ ,  $D$  и середину ребра  $AS$ . Найдите его площадь.
84. Изобразите сечение правильной четырехугольной пирамиды  $SABCD$ , все ребра которой равны 1, проходящее через вершины  $A$ ,  $D$  и середину ребра  $SB$ . Найдите его площадь.
85. Изобразите сечение правильной четырехугольной пирамиды  $SABCD$ , все ребра которой равны 1, проходящее через середины ребер  $AD$ ,  $BC$  и  $SD$ . Найдите его площадь.
86. Изобразите сечение правильной четырехугольной пирамиды  $SABCD$ , все ребра которой равны 1, проходящее через середины ребер  $AB$ ,  $CD$  и  $SD$ . Найдите его площадь.



87. Изобразите сечение правильной четырехугольной пирамиды  $SABCD$ , все ребра которой равны 1, проходящее через середины ребер  $AD$ ,  $BC$  и  $SB$ . Найдите его площадь.
88. Изобразите сечение правильной четырехугольной пирамиды  $SABCD$ , все ребра которой равны 1, проходящее через середины ребер  $AB$ ,  $CD$  и  $SC$ . Найдите его площадь.
89. Изобразите сечение правильной четырехугольной пирамиды  $SABCD$ , все ребра которой равны 1, проходящее через середины ребер  $AB$ ,  $BC$  и параллельное ребру  $SB$ . Найдите его площадь.
90. Изобразите сечение правильной четырехугольной пирамиды  $SABCD$ , все ребра которой равны 1, проходящее через середины ребер  $AB$ ,  $BC$  и перпендикулярное ребру  $SD$ . Найдите его площадь.
91. Изобразите сечение правильной четырехугольной пирамиды  $SABCD$ , все ребра которой равны 1, проходящее через вершину  $A$  и середины ребер  $SB$  и  $SD$ . Найдите его площадь.
92. Изобразите сечение правильной четырехугольной пирамиды  $SABCD$ , все ребра которой равны 1, проходящее через вершину  $B$ , середину ребра  $SD$  и параллельное прямой  $AC$ . Найдите его площадь.
93. Изобразите сечение пирамиды  $SABCDEF$ , стороны основания которой равны 1, а боковые ребра равны 2, проходящее через вершины  $A$ ,  $F$  и середину ребра  $SC$ . Найдите его площадь.
94. Изобразите сечение правильной треугольной призмы  $ABCA_1B_1C_1$ , все ребра которой равны 1, проходящее через вершины  $A$ ,  $B$  и середину ребра  $A_1C_1$ . Найдите его площадь.
95. Изобразите сечение правильной треугольной призмы  $ABCA_1B_1C_1$ , все ребра которой равны 1, проходящее через вершины  $A$ ,  $C$  и середину ребра  $A_1B_1$ . Найдите его площадь.
96. Изобразите сечение правильной треугольной призмы  $ABCA_1B_1C_1$ , все ребра которой равны 1, проходящее через вершины  $B$ ,  $C$  и середину ребра  $A_1B_1$ . Найдите его площадь.
97. Изобразите сечение правильной треугольной призмы  $ABCA_1B_1C_1$ , все ребра которой равны 1, проходящее через вершины  $A_1$ ,  $B_1$  и середину ребра  $AC$ . Найдите его площадь.
98. Изобразите сечение правильной треугольной призмы  $ABCA_1B_1C_1$ , все ребра которой равны 1, проходящее через вершины  $A_1$ ,  $C_1$  и середину ребра  $AB$ . Найдите его площадь.
99. Изобразите сечение правильной треугольной призмы  $ABCA_1B_1C_1$ , все ребра которой равны 1, проходящее через вершины  $B_1$ ,  $C_1$  и середину ребра  $AB$ . Найдите его площадь.
100. Изобразите сечение правильной треугольной призмы  $ABCA_1B_1C_1$ , все ребра которой равны 1, проходящее через середины ребер  $AA_1$ ,  $BB_1$  и  $A_1C_1$ . Найдите его площадь.



101. Изобразите сечение правильной треугольной призмы  $ABCA_1B_1C_1$ , все ребра которой равны 1, проходящее через середины ребер  $AA_1$ ,  $CC_1$  и  $A_1B_1$ . Найдите его площадь.
102. Изобразите сечение правильной треугольной призмы  $ABCA_1B_1C_1$ , все ребра которой равны 1, проходящее через середины ребер  $BB_1$ ,  $CC_1$  и  $A_1B_1$ . Найдите его площадь.
103. Изобразите сечение правильной треугольной призмы  $ABCA_1B_1C_1$ , все ребра которой равны 1, проходящее через середины ребер  $AC$ ,  $BC$  и  $AA_1$ . Найдите его площадь.
104. Изобразите сечение правильной треугольной призмы  $ABCA_1B_1C_1$ , все ребра которой равны 1, проходящее через середины ребер  $AB$ ,  $BC$  и  $CC_1$ . Найдите его площадь.
105. Изобразите сечение правильной треугольной призмы  $ABCA_1B_1C_1$ , все ребра которой равны 1, проходящее через середины ребер  $AB$ ,  $AC$  и  $BB_1$ . Найдите его площадь.
106. Изобразите сечение правильной треугольной призмы  $ABCA_1B_1C_1$ , все ребра которой равны 1, проходящее через середины ребер  $AB$ ,  $AA_1$  и  $A_1C_1$ . Найдите его площадь.
107. Изобразите сечение правильной треугольной призмы  $ABCA_1B_1C_1$ , все ребра которой равны 1, проходящее через середины ребер  $BC$ ,  $BB_1$  и  $A_1B_1$ . Найдите его площадь.
108. Изобразите сечение правильной треугольной призмы  $ABCA_1B_1C_1$ , все ребра которой равны 1, проходящее через середины ребер  $AC$ ,  $CC_1$  и  $B_1C_1$ . Найдите его площадь.
109. Изобразите сечение правильной треугольной призмы  $ABCA_1B_1C_1$ , все ребра которой равны 1, проходящее через середины ребер  $AC$ ,  $AA_1$  и  $A_1B_1$ . Найдите его площадь.
110. Изобразите сечение правильной треугольной призмы  $ABCA_1B_1C_1$ , все ребра которой равны 1, проходящее через середины ребер  $AB$ ,  $BB_1$  и  $B_1C_1$ . Найдите его площадь.
111. Изобразите сечение правильной треугольной призмы  $ABCA_1B_1C_1$ , все ребра которой равны 1, проходящее через середины ребер  $BC$ ,  $CC_1$  и  $A_1C_1$ . Найдите его площадь.
112. Изобразите сечение правильной треугольной призмы  $ABCA_1B_1C_1$ , все ребра которой равны 1, проходящее через вершину  $A$  и перпендикулярное прямой  $BC_1$ . Найдите его площадь.
113. Изобразите сечение правильной треугольной призмы  $ABCA_1B_1C_1$ , все ребра которой равны 1, проходящее через вершины  $A$ ,  $B_1$  и параллельное прямой  $BC_1$ . Найдите его площадь.
114. Изобразите сечение правильной шестиугольной призмы  $ABCDEF A_1B_1C_1D_1E_1F_1$ , все ребра которой равны 1, проходящее через вершины  $A$ ,  $D$  и  $C_1$ . Найдите его площадь.

115. Изобразите сечение правильной шестиугольной призмы  $ABCDEF A_1 B_1 C_1 D_1 E_1 F_1$ , все ребра которой равны 1, проходящее через вершины  $B$ ,  $E$  и  $C_1$ . Найдите его площадь.
116. Изобразите сечение правильной шестиугольной призмы  $ABCDEF A_1 B_1 C_1 D_1 E_1 F_1$ , все ребра которой равны 1, проходящее через вершины  $C$ ,  $F$  и  $E_1$ . Найдите его площадь.
117. Изобразите сечение правильной шестиугольной призмы  $ABCDEF A_1 B_1 C_1 D_1 E_1 F_1$ , все ребра которой равны 1, проходящее через вершины  $D$ ,  $A$  и  $E_1$ . Найдите его площадь.
118. Изобразите сечение правильной шестиугольной призмы  $ABCDEF A_1 B_1 C_1 D_1 E_1 F_1$ , все ребра которой равны 1, проходящее через вершины  $B$ ,  $E$  и  $F_1$ . Найдите его площадь.
119. Изобразите сечение правильной шестиугольной призмы  $ABCDEF A_1 B_1 C_1 D_1 E_1 F_1$ , все ребра которой равны 1, проходящее через вершины  $C$ ,  $F$  и  $A_1$ . Найдите его площадь.
120. Изобразите сечение правильной шестиугольной призмы  $ABCDEF A_1 B_1 C_1 D_1 E_1 F_1$ , все ребра которой равны 1, проходящее через вершины  $A$ ,  $B$  и  $D_1$ . Найдите его площадь.
121. Изобразите сечение правильной шестиугольной призмы  $ABCDEF A_1 B_1 C_1 D_1 E_1 F_1$ , все ребра которой равны 1, проходящее через вершины  $B$ ,  $C$  и  $E_1$ . Найдите его площадь.
122. Изобразите сечение правильной шестиугольной призмы  $ABCDEF A_1 B_1 C_1 D_1 E_1 F_1$ , все ребра которой равны 1, проходящее через вершины  $C$ ,  $D$  и  $F_1$ . Найдите его площадь.
123. Изобразите сечение правильной шестиугольной призмы  $ABCDEF A_1 B_1 C_1 D_1 E_1 F_1$ , все ребра которой равны 1, проходящее через вершины  $D$ ,  $E$  и  $A_1$ . Найдите его площадь.
124. Изобразите сечение правильной шестиугольной призмы  $ABCDEF A_1 B_1 C_1 D_1 E_1 F_1$ , все ребра которой равны 1, проходящее через вершины  $E$ ,  $F$  и  $B_1$ . Найдите его площадь.
125. Изобразите сечение правильной шестиугольной призмы  $ABCDEF A_1 B_1 C_1 D_1 E_1 F_1$ , все ребра которой равны 1, проходящее через вершины  $A$ ,  $F$  и  $C_1$ . Найдите его площадь.



**ПРЕДМЕТНЫЙ УКАЗАТЕЛЬ**

- Абсцисса точки в пространстве 124  
 Аксиомы стереометрии 25  
 Аппликата точки в пространстве 124  
 Боковые грани  
 — призмы 34  
 — пирамиды 34  
 Боковые ребра  
 — призмы 34  
 — пирамиды 34  
 Вектор 110  
 — направляющий 141  
 — нормали 135  
 — нулевой 110  
 Векторы  
 — коллинеарные 110  
 — компланарные 115  
 — одинаково направленные 110  
 — перпендикулярные 118  
 — противоположно направленные 110  
 — равные 110  
 Вершина  
 — многогранника 29  
 — пирамиды 34  
 Высота пирамиды 73  
 Вычитание векторов 112  
 Гексаэдр 23  
 Грань многогранника 29  
 — двугранного угла 93  
 Движение 30  
 Декартовы координаты 123  
 Диагональ многогранника 29  
 Длина вектора 110  
 Додекаэдр 23  
 Икосаэдр 23  
 Координатные векторы 131  
 — плоскости 124  
 Координаты вектора 131  
 — точки 124  
 Коэффициент подобия 30  
 Куб 22, 29  
 Метод координат 123  
 — следов 102  
 Многогранник 29  
 Модуль вектора 110  
 Наклонная к плоскости 86  
 Начало координат 123  
 Общий перпендикуляр 81  
 Октаэдр 23  
 Ордината точки в пространстве 124

- Ортогональная проекция фигуры 85
- Ортогональное проектирование 85
- Оси
  - абсцисс 123
  - аппликат 123
  - ординат 123
- Основание
  - призмы 34
  - пирамиды 34
- Параллелепипед 29
  - наклонный 29
  - прямоугольный 29
- Параллельность плоскостей 53
  - прямой и плоскости 49
  - прямых 41
- Параметрические уравнения
  - прямой 141
- Перпендикуляр 72
- Перпендикулярность
  - двух векторов 118
  - двух плоскостей 95
  - прямых 59
  - прямой и плоскости 67
- Пирамида 34
  - правильная 35
  - $n$ -угольная 34
- Плоскость 20
  - проектирования 85
- Площадь сечения 106
- Подобие 30
- Правильные многогранники 22
- Призма 34
  - наклонная 34
  - правильная 34
  - прямая 34
- Пространственные фигуры 29
- Произведение вектора на число 111
- Прямая 20
- Прямые
  - координатные 125
  - параллельные 41
  - пересекающиеся 20
  - перпендикулярные 60
  - скрещивающиеся 45
- Прямоугольная система координат 123
- Равенство фигур 30
  - векторов 110
- Развертка многогранника 30
- Разность векторов 112
- Расстояние
  - между двумя параллельными плоскостями 78



- между двумя параллельными прямыми 81
- между двумя скрещивающимися прямыми 81
- между двумя точками 129
- между параллельными прямой и плоскостью 77
- от точки до прямой 64
- от точки до плоскости 72
- Ребро многогранника 29
  - двугранного угла 93
- Сечение
  - диагональное 101
  - многогранника 101
- Скалярное произведение векторов 119
- Скалярный квадрат 119
- Скрещивающиеся прямые 45
- Сложение векторов 111
- Стереометрия 20
- Сумма векторов 111
- Тетраэдр 23, 29
- Точка 20
- Угол 59
  - двугранный 93
  - линейный 94
  - между векторами 118
  - между плоскостями 95
  - между прямой и плоскостью 89
  - между пересекающимися прямыми 59
  - между скрещивающимися прямыми 60
- Умножение вектора на число 111
- Уравнение
  - плоскости 135
  - прямой 141
  - сферы 129
- Фигуры в пространстве 29
  - подобные 31
  - равные 30

## ОТВЕТЫ

## ПОВТОРЕНИЕ КУРСА ГЕОМЕТРИИ ДЛЯ 7—9 КЛАССОВ

2. а) 3; б) 6; в) 10; г)  $\frac{n(n-1)}{2}$ . 3. 8,5 см. 4. 2н. 5.  $126^\circ$ . 6.  $45^\circ$ . 7.  $120^\circ$  и  $60^\circ$ . 8.  $120^\circ$ .  
 9. а)  $36^\circ$ ; б)  $30^\circ$ . 10. а)  $120^\circ$ ; б)  $60^\circ$ ; в)  $300^\circ$ . 11.  $75^\circ$ . 14. 12 см, 18 см и 24 см. 16. а) 3,2 м,  
 6,2 м, 6,2 м; б) 7,2 м, 4,2 м, 4,2 м. 18.  $100^\circ$ . 19.  $30^\circ$ . 20.  $69^\circ$ . 21. 7,5 см. 22.  $\frac{\sqrt{3}}{2}$ .  
 23. 7,5 см и 12 см. 25. 20. 28. а) 2; б) 3; в) 4; г)  $n-2$ . 29. а) 2; б) 5; в) 9. 30. а)  $60^\circ$ ; б)  $90^\circ$ ;  
 в)  $108^\circ$ ; г)  $120^\circ$ . 31. 7. 32. а)  $90^\circ$ ; б)  $72^\circ$ ; в)  $60^\circ$ ; г)  $45^\circ$ . 33.  $60^\circ$ ,  $60^\circ$ ,  $120^\circ$ ,  $120^\circ$ . 34. а)  $40^\circ$ ,  $40^\circ$ ,  $140^\circ$ ,  
 $140^\circ$ ; б)  $50^\circ$ ,  $50^\circ$ ,  $130^\circ$ ,  $130^\circ$ ; в)  $80^\circ$ ,  $80^\circ$ ,  $100^\circ$ ,  $100^\circ$ . 35. а) 11 см и 13 см; б) 9 см и 15 см;  
 в) 8 см и 16 см. 36. 60 см и 80 см. 37.  $25^\circ$  и  $65^\circ$ . 38. 10 см. 39. 13 см. 42.  $70^\circ$  и  $110^\circ$ . 43. 21 см.  
 44. 2 см и 5 см. 45.  $\sin A = 0,8$ .  $\cos A = 0,6$ ;  $\operatorname{tg} A = 1\frac{1}{3}$ ;  $\operatorname{ctg} A = 0,75$ . 46. 1. 47.  $\sqrt{3}$ . 48. а)  $\frac{2\sqrt{2}}{3}$ ;  
 б) 0,8. 49. а)  $\frac{\sqrt{5}}{2}$ ; б) 2,4. 50. а) 2; б) 0,5. 51. а)  $\frac{\sqrt{3}}{2}$ ; б)  $\frac{\sqrt{2}}{2}$ ; в)  $\frac{1}{2}$ . 52. а)  $-\frac{1}{2}$ ; б)  $-\frac{\sqrt{2}}{2}$ ; в)  $-\frac{\sqrt{3}}{2}$ .  
 53. а) Меньше  $90^\circ$ ; б) равен  $90^\circ$ ; в) больше  $90^\circ$ . 54.  $4\sqrt{7}$ . 55.  $\sqrt{2+\sqrt{3}}$ . 56.  $\cos A = \frac{7}{8}$ ,  
 $\cos B = \frac{11}{16}$ ,  $\cos C = -\frac{1}{4}$ . 57. 48. 58.  $\frac{a^2}{2}$ . 59. 0,5. 60. а)  $40\text{ см}^2$ ; б)  $40\sqrt{2}\text{ см}^2$ ; в)  $40\sqrt{3}\text{ см}^2$ .  
 61. 8 см и 4 см. 62. 12. 63. 6. 64.  $6\text{ см}^2$ . 65. 6. 66. 10 см. 67. 20 см. 68. 14 см. 69.  $\frac{3\sqrt{3}}{2}\text{ см}$ .  
 70. 12. 71. а) 1; б) 1; в) 2; г) 2. 72. а)  $\overline{AC}$ ; б)  $\overline{AD}$ ; в)  $\overline{AB}$ . 73. а) 5; б) 3; в) 4; г) 6.  
 74. а) 10; б) 10; в) 10; г) 5. 75. а) 1; б) 1; в) 0. 76. а) 2,5; б) 1,5. 77. а)  $120^\circ$ ; б)  $120^\circ$ ;  
 в)  $120^\circ$ ; г)  $60^\circ$ ; д)  $90^\circ$ ; е)  $150^\circ$ . 78. а) 0; б) 64; в) 0; г) 36. 79. а) (2; 3); б) (3; -1); в) (1; 1).  
 80. В(6; 8). 81. (5; 4). 82. а)  $\sqrt{5}$ ; б) 5. 83. а) 2; б) 3. 84. Точки одинаково удалены от на-  
 чала координат. 85. а) (-5; 2), 4; б) (0; 3), 3. 86. а)  $x^2 + y^2 = 1$ ; б)  $(x+2)^2 + (x-1)^2 = 9$ .  
 87.  $x^2 + y^2 = 18$ . 88. а) 4, (4; 0); б)  $\sqrt{6}$ , (-1; 3). 89. -4. 90. а), б)  $90^\circ$ . 91.  $x - y - 1 = 0$ .  
 92.  $x - 2y + 7 = 0$ ,  $\vec{n}(1; -2)$ . 93. а) 1, 3; б) 2, 4. 94. а) (-1; -2); б) (7; 3). 95. (-7; 14).  
 96. 0. 97. 0,96.

## Глава I. АКСИОМЫ СТЕРЕОМЕТРИИ. ПАРАЛЛЕЛЬНОСТЬ В ПРОСТРАНСТВЕ

## § 1

3.  $AB$ ,  $AC$ ,  $BC$ . 4.  $ABC$ ,  $ABD$ ,  $ACD$ ,  $BCD$ . 5. а)  $A$ ; б)  $D$ . 6. а)  $AB$ ; б)  $BC$ ; в)  $AC$ .  
 7. а) 3; б) 6; в) 10. 8. 4. 9.  $\frac{n(n-1)}{2}$ . 10.  $\frac{n(n-1)(n-2)}{6}$ .

## § 2

1. Бесконечно много. 2. Бесконечно много. 3. Если три точки принадлежат одной  
 прямой, то через них можно провести бесконечно много плоскостей; если они не при-  
 надлежат одной прямой, то через них можно провести только одну плоскость. 4. Нет,  
 так как в этом случае точки принадлежали бы одной плоскости. 5. а), б) Нет. 6. Нет.  
 7. б, г, р. 8. Нет. 9. Нет. 10. Прямая. 11. 4. 12. 15. 13. 8.

## § 3

1. а)  $V = 4$ ,  $P = 6$ ,  $\Gamma = 4$ ; б)  $V = 8$ ,  $P = 12$ ,  $\Gamma = 6$ ; в)  $V = 8$ ,  $P = 12$ ,  $\Gamma = 6$ . 2.  $AA_1$ ,  
 $BB_1$ ,  $CC_1$ ,  $DD_1$ . 3.  $ABC$ ,  $ABB_1$ ,  $CDD_1$ ,  $A_1B_1C_1$ . 8. а) 0; б) 4; в) 4. 9. в), д), ж). 12.  $ABC$ ,  
 $BCD_1$ ,  $ABB_1$ ,  $BDD_1$ ,  $CDD_1$ ,  $ACC_1$ ,  $A_1B_1C_1$ ,  $AB_1C_1$ ,  $ABC_1$ ,  $CDA_1$ . 14. Нет.

## § 4

1. а)  $V = 2n$ ,  $P = 3n$ ,  $\Gamma = n + 2$ ; б)  $V = n + 1$ ,  $P = 2n$ ,  $\Gamma = n + 1$ . 4. а) Нет; б) да.  
 5. а) Десятиугольник; б) пятиугольник. 6. а) Пятиугольная; б), в) шестиугольная. 7. а) Нет;  
 б) да. 8. а) 16-угольник; б) 14-угольник. 9. а), б) 9-угольная; в) 7-угольная. 10.  $ABC$  и  $SAB$ ,  
 $ABC$  и  $SBC$ ,  $ABC$  и  $SCD$ ,  $ABC$  и  $SAD$ ,  $SAB$  и  $SBC$ ,  $SAB$  и  $SAD$ ,  $SAB$  и  $SCD$ ,  $SBC$  и  $SCD$ ,  
 $SBC$  и  $SAD$ ,  $SAD$  и  $SCD$ . 11. а) Четырехугольная; б), в), г) треугольная. 12. а) Четырех-  
 угольная; в) треугольная пирамида. 13. Пятиугольная пирамида. 17. а) 0; б)  $n(n-3)$ .  
 18.  $V = 6$ ,  $P = 12$ ,  $\Gamma = 8$ . 19.  $V = 12$ ,  $P = 30$ ,  $\Gamma = 20$ . 20.  $V = 20$ ,  $P = 30$ ,  $\Gamma = 12$ .



Проверь себя!

1	2	3	4	5	6	7	8	9	10	11	12	13	14	15	16	17	18	19	20
D	D	B	B	C	B	D	D	B	D	B	A	B	D	C	C	C	D	B	A

§ 5

1. Нет. 2. Нет. 3. а)  $CD, A_1B_1, C_1D_1$ ; б)  $BB_1, CC_1, DD_1$ . 4. Нет. 5.  $AB$  и  $A_1B_1, AC$  и  $A_1C_1, BC$  и  $B_1C_1, AA_1$  и  $BB_1, AA_1$  и  $CC_1, BB_1$  и  $CC_1$ . 6. Нет. 7. Нет. 8. а)  $AB$  и  $CD, AD$  и  $BC$ ; б)  $AB$  и  $DE, BC$  и  $EF, AF$  и  $CD$ . 9. а), б) Нет. 10. а), б) Нет. 12. а)  $BB_1, CC_1, DD_1, EE_1, FF_1$ ; б)  $A_1B_1, DE, D_1E_1$ . 13. 18. 14. 33.

§ 6

1. Нет. 2. Бесконечно много. 3. а)  $CC_1, DD_1, A_1D_1, B_1C_1$ ; б)  $CC_1, A_1C_1, B_1C_1$ . 4. а)  $BC, CD$ ; б)  $BC, CD, DE, EF$ . 5. а)  $BC, CD, DE, EF, B_1C_1, C_1D_1, D_1E_1, E_1F_1$ ; б)  $CC_1, DD_1, EE_1, FF_1, B_1C_1, C_1D_1, E_1F_1, F_1A_1$ . 6. 3. 7. Скрещиваются. 8. Нет. 9. 8. 10. 24. 11. Скрещиваются. 12. Скрещиваются. 13. Нет. 14. Нет.

§ 7

1.  $A_1B_1, B_1C_1, C_1D_1, A_1D_1$ . 2. а)  $A_1B_1C_1D_1E_1F_1, EDD_1E_1$ ; б)  $BCC_1B_1, CDD_1C_1, DEE_1D_1, EFF_1E_1$ . 3. Нет. 4. Да. 5. Нет. 6.  $AB$  и  $SCD, BC$  и  $SAD, CD$  и  $SAB, AD$  и  $SBC$ . 7.  $AB$  и  $SDE, BC$  и  $SEF, CD$  и  $SAF, DE$  и  $SAB, EF$  и  $SBC, AF$  и  $SCD$ . 9. Прямые  $AB, BC, DE$  и  $EF$  пересекают плоскость; прямая  $CD$  параллельна плоскости.

§ 8

1.  $ABC$  и  $A_1B_1C_1, BCC_1$  и  $ADD_1, CDD_1$  и  $ABB_1$ . 2.  $ABC$  и  $A_1B_1C_1, ABB_1$  и  $DEE_1, BCC_1$  и  $EFF_1, CDD_1$  и  $AFF_1$ . 3. Нет. 4. Нет. 7. Нет. 8. Нет. 9.  $BD_1, BO_1$ .

Проверь себя!

1	2	3	4	5	6	7	8	9	10	11	12	13	14	15	16	17	18	19	20
C	C	D	A	A	B	C	D	B	B	A	C	D	C	D	A	A	B	C	A

Глава II. ПЕРПЕНДИКУЛЯРНОСТЬ В ПРОСТРАНСТВЕ

§ 9

1. Бесконечно много. 2. Бесконечно много. 3. Нет. 4.  $AA_1, BB_1, CC_1, DD_1, AD, BC, A_1D_1, B_1C_1$ . 5.  $AB, BC, AC, A_1B_1, B_1C_1, A_1C_1$ . 6. а), б)  $90^\circ$ ; в)  $60^\circ$ . 7. а)  $90^\circ$ ; б)  $60^\circ$ . 8. а)  $60^\circ$ ; б)  $90^\circ$ . 9.  $30^\circ$ . 10.  $60^\circ$ . 11. а)  $45^\circ$ ; б)  $45^\circ$ ; в)  $60^\circ$ ; г)  $60^\circ$ ; д)  $30^\circ$ ; е)  $60^\circ$ ; ж)  $90^\circ$ . 12. 0,8. 13.  $\frac{\sqrt{3}}{6}$ . 14.  $\sqrt{2}$ . 15.  $\frac{\sqrt{3}}{2}$ . 16. а)  $\frac{1}{4}$ ; б)  $\frac{\sqrt{3}}{4}$ . 17. а)  $\frac{3}{4}$ ; б)  $\frac{1}{4}$ .

§ 10

1. а) 1; б)  $\frac{\sqrt{2}}{2}$ ; в)  $\frac{\sqrt{6}}{2}$ . 2. а)  $\frac{\sqrt{3}}{2}$ ; б)  $\frac{\sqrt{2}}{2}$ . 3. а) 1; б)  $\frac{\sqrt{3}}{2}$ ; в)  $\frac{\sqrt{2}}{2}$ . 4.  $\sqrt{3}$ . 5. а) 1; б)  $\frac{\sqrt{2}}{2}$ ; в)  $\frac{\sqrt{3}}{2}$ ; г)  $\sqrt{3}$ ; д)  $\sqrt{3}$ ; е) 1; ж)  $\frac{\sqrt{3}}{2}$ ; з)  $\frac{1}{2}$ ; и) 1,5; к)  $\frac{\sqrt{3}}{2}$ ; л) 1. 6.  $\frac{\sqrt{6}}{2}$ . 7.  $\frac{\sqrt{2}}{2}$ . 8.  $\frac{\sqrt{7}}{2}$ . 9.  $\frac{\sqrt{13}}{2}$ . 10.  $\frac{\sqrt{14}}{4}$ . 11. а)  $\frac{\sqrt{5}}{2}$ ; б)  $\frac{\sqrt{7}}{2}$ .

§ 11

1. Да. 2. Перпендикулярна. 3. а) Нет; б) да. 4. Да. 6. Да. 7. Прямые перпендикулярны. 8. Прямоугольный.

§ 12

1.  $5\sqrt{2}$ . 2. а) 1; б)  $\frac{\sqrt{2}}{2}$ . 3.  $\frac{\sqrt{2}}{2}$ . 4. а) 1; б)  $\frac{\sqrt{3}}{2}$ ; в)  $\frac{1}{2}$ ; г)  $\frac{\sqrt{3}}{2}$ ; д)  $\sqrt{3}$ ; е)  $\frac{3}{2}$ ; ж)  $\frac{\sqrt{3}}{2}$ . 5. а) 2; б)  $\sqrt{5}$ . 6. а) 1; б)  $\sqrt{3}$ . 7.  $\frac{\sqrt{3}}{2}$ . 8. а) 3; б)  $\sqrt{6}$ ; в) 3; г)  $\sqrt{6}$ ; д)  $2\sqrt{3}$ . 9. а)  $\sqrt{5}$ ; б)  $\sqrt{2}$ ; в)  $\sqrt{5}$ . 10. 5. 12.  $\sqrt{3}$ . 13. а)  $\frac{2\sqrt{5}}{5}$ ; б)  $\frac{\sqrt{39}}{4}$ . 14.  $\frac{\sqrt{3}}{3}$ . 16.  $\frac{\sqrt{6}}{3}$ . 17. 76 м.

§ 13

1. а), б) 1. 2.  $\frac{\sqrt{3}}{2}$ . 3. а)  $\frac{\sqrt{3}}{2}$ ; б)  $\sqrt{3}$ ; в)  $\sqrt{3}$ ; г) 1; д)  $\frac{\sqrt{3}}{2}$ ; е)  $\frac{1}{2}$ ; ж)  $\frac{3}{2}$ ; з)  $\frac{\sqrt{3}}{2}$ . 4. а) 2; б) 2; в) 1; г) 1. 5. а), б)  $\frac{\sqrt{2}}{2}$ . 6. а)  $\sqrt{3}$ ; б)  $\frac{\sqrt{3}}{2}$ ; в) 1. 7.  $\frac{\sqrt{6}}{3}$ . 8.  $\frac{2\sqrt{15}}{5}$ . 9.  $\frac{\sqrt{3}}{3}$ . 10.  $\frac{\sqrt{3}}{3}$ . 11.  $\frac{\sqrt{21}}{7}$ . 12.  $\frac{3\sqrt{5}}{5}$ .

§ 14

1. а) 1; б)  $\sqrt{2}$ ; в), г), д), е) 1; ж)  $\frac{\sqrt{2}}{2}$ ; з) 1. 2. а)  $\frac{\sqrt{3}}{2}$ ; б) 1. 3. а), б) 1; в)  $\sqrt{3}$ ; г) 2. 4. а)  $\sqrt{5}$ ; б), в)  $2\sqrt{2}$ ; г)  $\sqrt{5}$ . 5.  $\frac{\sqrt{2}}{2}$ . 6.  $\frac{\sqrt{3}}{2}$ . 7. а)  $\frac{\sqrt{3}}{2}$ ; б), в), г)  $\sqrt{3}$ ; д) 1. 8. а) 2; б) 1; в), г), д) 2. 9. а)  $\frac{\sqrt{6}}{6}$ ; б)  $\frac{\sqrt{3}}{3}$ . 10.  $\frac{\sqrt{2}}{2}$ . 11. а) 1,5; б)  $\frac{\sqrt{3}}{2}$ ; в)  $\sqrt{3}$ ; г)  $\frac{\sqrt{3}}{2}$ . 12. а)  $\frac{\sqrt{3}}{2}$ ; б)  $\frac{2\sqrt{15}}{5}$ .

§ 15

1. 12 см. 2. 12 см. 3. 2 см. 4. 5 м. 5. 10 м. 6. 9 см. 7.  $A'B' = 4$ ,  $B'C' = 8$ . 17.  $\sqrt{b^2 - r^2}$ . 18. Плоскость, проходящая через середину отрезка, соединяющего данные точки, и перпендикулярная этому отрезку.

§ 16

1. а), б)  $45^\circ$ ; в)  $90^\circ$ . 2.  $\frac{\sqrt{2}}{2}$ . 3.  $45^\circ$ . 4. а)  $45^\circ$ ; б)  $60^\circ$ . 5.  $60^\circ$ . 6. а)  $45^\circ$ ; б)  $30^\circ$ ; в)  $45^\circ$ . 7.  $\frac{\sqrt{3}}{3}$ . 8.  $\frac{\sqrt{2}}{2}$ . 9.  $\frac{\sqrt{6}}{4}$ . 10. а)  $\frac{\sqrt{6}}{4}$ ; б)  $\frac{\sqrt{6}}{4}$ . 11.  $\frac{\sqrt{3}}{3}$ . 12.  $30^\circ$ . 13.  $\frac{\sqrt{10}}{5}$ . 16.  $\sqrt{2}$ .

§ 17

1.  $90^\circ$ . 3.  $45^\circ$ . 4.  $60^\circ$ . 5.  $120^\circ$ . 6. Нет. 7. Бесконечно много. 8. а), б)  $\sqrt{2}$ . 9.  $\frac{1}{3}$ . 10. а)  $60^\circ$ ; б)  $90^\circ$ ; в)  $30^\circ$ ; г)  $60^\circ$ ; д)  $45^\circ$ ; е)  $60^\circ$ . 12.  $\sqrt{2}$ . 13. 2. 14. 1,2;  $\approx 50^\circ$ . 15.  $\frac{1}{3}$ . 16.  $60^\circ$ . 17.  $-\frac{1}{3}$ . 18. а), б)  $\frac{2\sqrt{3}}{3}$ . 19.  $\frac{1}{7}$ . 22. 2.

Проверь себя!

1	2	3	4	5	6	7	8	9	10	11	12	13	14	15	16	17	18	19	20
Д	С	Д	В	Д	С	С	Д	В	С	А	Д	С	А	В	С	А	А	Д	В

§ 19

1. а)  $\sqrt{2}$ ; б)  $\frac{\sqrt{3}}{2}$ . 2.  $\frac{\sqrt{7}}{4}$ . 3. а)  $\sqrt{3}$ ; б) 2. 4.  $\frac{1}{2}$ . 5.  $\frac{1}{4}$ . 6.  $\frac{3\sqrt{19}}{16}$ . 7. а)  $\sqrt{3}$ ; б)  $\frac{\sqrt{39}}{4}$ . 8.  $\frac{3\sqrt{7}}{16}$ . 9.  $\frac{3\sqrt{3}}{4}$ . 10.  $\frac{7\sqrt{17}}{24}$ . 11.  $\frac{7\sqrt{11}}{24}$ . 12.  $\frac{5\sqrt{21}}{12}$ . 13. 2718 м<sup>2</sup>.

Глава III. ПРЯМОУГОЛЬНАЯ СИСТЕМА КООРДИНАТ И ВЕКТОРЫ В ПРОСТРАНСТВЕ

§ 20

1.  $\overline{DC}$ ,  $\overline{A_1B_1}$ ,  $\overline{D_1C_1}$ . 2.  $\overline{BB_1}$ ,  $\overline{CC_1}$ . 3. а)  $\overline{A_1B_1}$ ,  $\overline{ED}$ ,  $\overline{E_1D_1}$ ; б)  $\overline{A_1C_1}$ ,  $\overline{FD}$ ,  $\overline{F_1D_1}$ ; в)  $\overline{A_1D_1}$ ; г)  $\overline{ED_1}$ ; д)  $\overline{FD_1}$ . 4. а) 1; б)  $\sqrt{2}$ ; в)  $\sqrt{3}$ . 5. а) 1; б)  $\sqrt{3}$ ; в) 2; г)  $\sqrt{2}$ ; д) 2; е)  $\sqrt{5}$ . 6. а)  $\overline{AB_1}$ ; б)  $\overline{AC}$ ; в)  $\overline{AC_1}$ ; г)  $\overline{AA_1}$ ; д)  $\overline{AC_1}$ . 7. а) 6; б) 8; в) 12. 8. а)  $\overline{AC}$ ; б)  $\overline{FB}$ ; в)  $\overline{AC_1}$ ; г)  $\overline{AF_1}$ . 9. 2. 10. а)  $\sqrt{2}$ ; б)  $\sqrt{3}$ ; в)  $\sqrt{2}$ ; г) 1; д)  $\sqrt{3}$ . 11. а)  $\sqrt{3}$ ; б)  $\sqrt{3}$ ; в) 2; г)  $\sqrt{2}$ . 12. Если векторы одинаково направлены. 13. а)  $\overline{A_1B}$ ; б)  $\overline{A_1C}$ ; в)  $\overline{DB}$ ; г)  $\overline{AC_1}$ . 14. а)  $\sqrt{2}$ ; б)  $\sqrt{3}$ ; в)  $\sqrt{2}$ ; г)  $\sqrt{3}$ . 15.  $\sqrt{2}$ . 16. а) Середина отрезка  $AC$ ; б) точка пересечения отрезков  $AC$  и  $AD$ ; в) точка пересечения отрезков  $AC_1$  и  $BD_1$ . 17. а)  $t = 2$ ,  $s = 1$ ; б)  $t = 2$ ,  $s = 2$ ; в)  $t = 1$ ,  $s = 2$ ; г)  $t = 2$ ,  $s = 1$ . 19.  $\approx 2,8$  км. 20. 144 м.



## § 21

1.  $\overline{BA}$ ,  $\overline{DC}$ ,  $\overline{A_1B_1}$ ,  $\overline{D_1C_1}$ ,  $\overline{CD}$ ,  $\overline{B_1A_1}$ ,  $\overline{C_1D_1}$ . 2.  $\overline{A_1A}$ ,  $\overline{BB_1}$ ,  $\overline{CC_1}$ ,  $\overline{B_1B}$ ,  $\overline{C_1C}$ . 3.  $\overline{B_1A}$ ,  $\overline{ED_1}$ ,  $\overline{D_1E}$ . 4. Да. 5. Нет. 6. а)  $\overline{AB}$ ,  $\overline{AC}$ ,  $\overline{A_1C_1}$ ; б)  $\overline{AB}$ ,  $\overline{AC}$ ,  $\overline{AA_1}$ . 7. а)  $\overline{AB}$ ,  $\overline{AC}$ ,  $\overline{B_1C_1}$ ; б)  $\overline{AB}$ ,  $\overline{AC}$ ,  $\overline{AA_1}$ . 8. а)  $\overline{AC_1} = \overline{AB} + \overline{AD} - \overline{AA_1}$ ; б)  $\overline{BD_1} = -\overline{AB} + \overline{AD} + \overline{AA_1}$ . 9. а)  $\overline{AD_1} = 2\overline{AB} + 2\overline{AF} + \overline{AA_1}$ ; б)  $\overline{AC_1} = 2\overline{AB} + \overline{AF} + \overline{AA_1}$ . 10. Да. 12.  $\overline{AC_1} = \frac{1}{2}(\overline{AC} + \overline{AB_1} + \overline{AD_1})$ . 15.  $\frac{45}{2\sin 40^\circ} \approx 35$  Н.

## § 22

1. а) Плюс; б) минус. 2. а), б)  $90^\circ$ ; в)  $60^\circ$ . 3. а)  $90^\circ$ ; б)  $120^\circ$ . 4. а)  $60^\circ$ ; б)  $90^\circ$ . 5. а)  $60^\circ$ ; б)  $120^\circ$ . 6. а), б)  $45^\circ$ ; в)  $60^\circ$ ; г)  $120^\circ$ ; д)  $30^\circ$ ; е)  $60^\circ$ ; ж)  $90^\circ$ . 7. а), б) 0; в) 1. 8. а) 0; б)  $\frac{1}{2}$ . 9. а)  $\frac{1}{2}$ ; б) 0. 10. а) 2; б) -1. 11. а), б) 1; в)  $\frac{1}{2}$ ; г)  $-\frac{1}{2}$ ; д) 1,5; е)  $1\frac{1}{2}$ ; ж) 0. 12. а)  $\frac{1}{2}$ ; б)  $-\frac{1}{2}$ ; в)  $-\frac{1}{2}$ ; г)  $\frac{1}{4}$ ; д)  $-\frac{1}{4}$ ; е) 0. 14. 1. 15.  $\approx 22,4$  Н. 16.  $\approx 0,8$  кН.

## § 23

2. а) (1; 3; 0) и (5; -6; 0); б) (1; 0; 4) и (5; 0; 2); в) (0; 3; 4) и (0; -6; 2). 3.  $A(0; 1; 0)$ ,  $B(1; 1; 0)$ ,  $C(1; 0; 0)$ ,  $D(0; 0; 0)$ ,  $A_1(0; 1; 1)$ ,  $B_1(1; 1; 1)$ ,  $C_1(1; 0; 1)$ ,  $D_1(0; 0; 1)$ . 4. (0; 1; 2), (3; 1; 1). 5.  $A(-1; 0; 1)$ . 6.  $A(-1; 1; 0)$ ,  $B(1; 1; 0)$ ,  $C(1; -1; 0)$ ,  $D(-1; -1; 0)$ ,  $A_1(-1; 1; 2)$ ,  $B_1(1; 1; 2)$ ,  $C_1(1; -1; 2)$ ,  $D_1(-1; -1; 2)$ . 7.  $A(0; 2; 0)$ ,  $B(2; 2; 0)$ ,  $C(2; 0; 0)$ ,  $D(0; 0; 0)$ ,  $A_1(1; 2; 1)$ ,  $B_1(2; 2; 1)$ ,  $C_1(2; 0; 1)$ ,  $D_1(1; 0; 1)$ ,  $A_2(0; 2; 2)$ ,  $B_2(1; 2; 2)$ ,  $C_2(1; 0; 2)$ ,  $D_2(0; 0; 2)$ . 8.  $A(0; \frac{1}{2}; 0)$ ,  $B(\frac{\sqrt{3}}{2}; 0; 0)$ ,  $C(0; -\frac{1}{2}; 0)$ ,  $A_1(0; \frac{1}{2}; 1)$ ,  $B_1(\frac{\sqrt{3}}{2}; 0; 1)$ ,  $C_1(0; -\frac{1}{2}; 1)$ . 9.  $A(0; \sqrt{3}; 0)$ ,  $B(1; \sqrt{3}; 0)$ ,  $C(1,5; \frac{\sqrt{3}}{2}; 0)$ ,  $D(1; 0; 0)$ ,  $E(0; 0; 0)$ ,  $F(-0,5; \frac{\sqrt{3}}{2}; 0)$ ,  $A_1(0; \sqrt{3}; 1)$ ,  $B_1(1; \sqrt{3}; 1)$ ,  $C_1(1,5; \frac{\sqrt{3}}{2}; 1)$ ,  $D_1(1; 0; 1)$ ,  $E_1(0; 0; 1)$ ,  $F_1(-0,5; \frac{\sqrt{3}}{2}; 1)$ . 10.  $A(-0,5; \frac{\sqrt{3}}{2}; 0)$ ,  $B(0,5; \frac{\sqrt{3}}{2}; 0)$ ,  $C(1; 0; 0)$ ,  $D(0,5; -\frac{\sqrt{3}}{2}; 0)$ ,  $E(-0,5; -\frac{\sqrt{3}}{2}; 0)$ ,  $F(-1; 0; 0)$ ,  $S(0; 0; \sqrt{3})$ . 11. а) Плоскость  $Oyz$ ; б) плоскость  $Oxz$ ; в) плоскость  $Oxy$ ; г) ось  $Oz$ ; д) ось  $Oy$ ; е) ось  $Ox$ ; ж) начало координат. 12. а) 3; б) 2; в) 1. 13.  $C(0; -1; 0)$ ,  $D(-1; 0; 0)$ ,  $E(0; 0; 1)$ ,  $F(0; 0; -1)$ . 14. а)  $|z|$ ; б)  $|y|$ ; в)  $|x|$ . 15. а)  $|z| = |y|$ ; б)  $|z| = |y| = |x|$ .

## § 24

1. а) 5; б) 3. 2.  $A$ . 3. а) 3; б) 5. 4. а)  $C(2; -5; 0)$ ,  $R = 3$ ; б)  $C(0; 6; -1)$ ,  $R = 2$ . 5. а)  $x^2 + y^2 + z^2 = 1$ ; б)  $(x-1)^2 + (y+2)^2 + (z-3)^2 = 16$ . 6. Равносторонний. 7. а)  $\sqrt{13}$ ; б)  $\sqrt{10}$ ; в)  $\sqrt{5}$ . 8. а)  $(x-1)^2 + (y-2)^2 + (z+1)^2 = 1$ ; б)  $(x-1)^2 + (y-2)^2 + (z+1)^2 = 4$ ; в)  $(x-1)^2 + (y-2)^2 + (z+1)^2 = 1$ . 9. а)  $(x-3)^2 + (y+2)^2 + (z-1)^2 = 5$ ; б)  $(x-3)^2 + (y+2)^2 + (z-1)^2 = 10$ ; в)  $(x-3)^2 + (y+2)^2 + (z-1)^2 = 13$ . 10.  $(x \pm 3)^2 + (y \pm 3)^2 + (z \pm 3)^2 = 9$ , восемь сфер. 11.  $(x \pm 1)^2 + (y \pm 1)^2 + (z \pm 1)^2 = 2$ , восемь сфер. 12. 2. (2; 0; 0). 13.  $(x-3)^2 + y^2 + z^2 = 16$ . 14. а) Точка  $A$  лежит внутри сферы; б) точка  $B$  принадлежит сфере; в) точка  $C$  лежит вне сферы. 15. Сферы не имеют общих точек.

## § 25

1. а) (-2; 6; 1); б) (1; 0; 2); в) (0; -3; 1); г) (5; 0; -4). 2. а) (-7; 5; -10); б) (5; -8; -4); в) (8; 1; 9). 3.  $(-a; -b; -c)$ . 4.  $x_2 = tx_1$ ,  $y_2 = ty_1$ ,  $z_2 = tz_1$ . 5. а) (4; 3; 0); б) (0; 3; 2); в) (4; 0; 2); г) (4; 3; 2); д) (4; 0; 0); е) (4; -3; 0); ж) (4; 0; 2); з) (0; -3; 2); и) (4; -3; 2). 6. а) (1; -2; 7); б) (1; 2; -1). 7. (3; -4; -5). 8. а)  $\sqrt{6}$ ; б)  $\sqrt{10}$ ; в)  $\sqrt{5}$ . 9. 8. 10. а) (1; 0; 23); б) (7; -11; 7). 11. а) Координаты вектора имеют вид (0; 0;  $z$ ); б) координаты вектора имеют вид ( $x$ ; 0; 0). 12.  $(\sqrt{3}; \sqrt{3}; \sqrt{3})$ ,  $(-\sqrt{3}; -\sqrt{3}; -\sqrt{3})$ . 13. а) 5; б)  $\sqrt{13}$ ; в)  $2\sqrt{6}$ ; г)  $\sqrt{29}$ ; д) 4; е) 5; ж)  $2\sqrt{6}$ ; з)  $\sqrt{13}$ ; и)  $\sqrt{29}$ . 14.  $\frac{1}{3}$ . 15.  $\frac{\sqrt{3}}{3}$ ,  $\frac{\sqrt{3}}{3}$ ,  $\frac{\sqrt{3}}{3}$ . 16.  $\frac{\sqrt{6}}{3}$ ,  $\frac{\sqrt{6}}{3}$ ,  $\frac{\sqrt{6}}{3}$ . 17.  $z = 2$ . 20. 24.

§ 26

1. а) (5; -1; 0); б) (3; 0; 18); в) (15; 1; -8), г) (1; -3; 15). 2. а)  $z = 0$ ; б)  $y = 0$ ; в)  $x = 0$ . 3. А и С. 4. (1; 0; 0), (0;  $\frac{1}{2}$ ; 0), (0; 0;  $-\frac{1}{3}$ ). 5. а)  $-5y + 2z + 8 = 0$ ; б)  $6x - y + 3z + 5 = 0$ ; в)  $-4x - 2y - z + 1 = 0$ ; г)  $-3x - 8y + 13 = 0$ . 6.  $x = 0, x = 1, y = 0, y = 1, z = 0, z = 1$ . 7. а)  $z = 4$ ; б)  $y = -2$ ; в)  $x = 1$ . 8. а), в), г). 9. а), б) Да; в) нет. 10. а)  $\frac{1}{3}$ ; б)  $\frac{16}{21}$ . 11.  $-2x + 4y - z - 21 = 0$ . 12. а)  $3x + y - z - 7 = 0$ ; б)  $x - y + 5z + 7 = 0$ . 13.  $\frac{x}{a} + \frac{y}{b} + \frac{z}{c} = 1$ . 14.  $\frac{x}{3} + \frac{y}{2} + \frac{z}{1} = 1$ . 15. а)  $\frac{6}{7}$ ; б)  $\frac{2}{7}$ ; в)  $\frac{3}{7}$ . 16. а)  $60^\circ$ ; б)  $90^\circ$ . 17.  $\frac{\sqrt{21}}{7}$ . 18.  $\frac{\sqrt{65}}{13}$ . 19.  $\frac{\sqrt{3}}{3}$ . 20.  $\frac{2}{3}$ . 21.  $\frac{6}{7}$ . 22.  $x = 0, y = 0, z = 0, x = 2, y = 2, z = 2, x = 1, z = 1$ .

§ 27

1. а)  $\begin{cases} x = t, \\ y = 0, \\ z = 0; \end{cases}$  б)  $\begin{cases} x = 0, \\ y = t, \\ z = 0; \end{cases}$  в)  $\begin{cases} x = 0, \\ y = 0, \\ z = t. \end{cases}$  2.  $\begin{cases} x = 1 + 2t, \\ y = -2 + 3t, \\ z = 3 - t, \end{cases}$   $\frac{x-1}{2} - \frac{y+2}{3} = \frac{z-3}{-1}$  3.  $\begin{cases} x = -2 + 7t, \\ y = 1 + 3t, \\ z = -3 + 9t. \end{cases}$   
 4.  $\begin{cases} x = 1 + t, \\ y = 2 + t, \\ z = -3 + t. \end{cases}$  5. Прямые перпендикулярны. 6. (3; 1; 1). 7. (3; 9; 10). 8. 3. 9.  $\frac{3}{4}$ .  
 10. а)  $\frac{1}{3}$ ; б)  $\frac{\sqrt{3}}{3}$ . 11.  $\frac{\sqrt{2}}{10}$ .

Проверь себя!

1	2	3	4	5	6	7	8	9	10	11	12	13	14	15	16	17	18	19	20
A	A	D	D	D	C	B	D	C	C	C	D	B	C	C	A	D	D	B	D

ОБОБЩАЮЩЕЕ ПОВТОРЕНИЕ

УГЛЫ

В

Угол между прямыми

1.  $90^\circ$ . 2.  $90^\circ$ . 3.  $60^\circ$ . 4.  $60^\circ$ . 5.  $60^\circ$ . 6.  $60^\circ$ . 7.  $90^\circ$ . 8.  $90^\circ$ . 9.  $90^\circ$ . 10.  $90^\circ$ . 11.  $90^\circ$ . 12.  $90^\circ$ . 13.  $90^\circ$ . 14.  $90^\circ$ . 15.  $90^\circ$ . 16.  $90^\circ$ . 17.  $90^\circ$ . 18.  $90^\circ$ . 19.  $90^\circ$ . 20.  $90^\circ$ . 21.  $90^\circ$ . 22.  $90^\circ$ . 23.  $90^\circ$ . 24.  $90^\circ$ . 25.  $90^\circ$ . 26.  $30^\circ$ . 27.  $90^\circ$ . 28.  $90^\circ$ . 29.  $0,75$ . 30.  $90^\circ$ . 31.  $45^\circ$ . 32.  $30^\circ$ . 33.  $90^\circ$ . 34. 2. 35.  $60^\circ$ . 36.  $60^\circ$ . 37. 0,5. 38.  $90^\circ$ . 39.  $90^\circ$ . 40. 2. 41.  $60^\circ$ . 42.  $90^\circ$ . 43.  $30^\circ$ . 44.  $60^\circ$ . 45.  $30^\circ$ . 46.  $90^\circ$ . 47.  $90^\circ$ . 48.  $60^\circ$ .

Угол между прямой и плоскостью

1.  $30^\circ$ . 2.  $30^\circ$ . 3.  $30^\circ$ . 4.  $30^\circ$ . 5.  $30^\circ$ . 6.  $30^\circ$ . 7.  $30^\circ$ . 8.  $30^\circ$ . 9.  $30^\circ$ . 10.  $30^\circ$ . 11.  $90^\circ$ . 12.  $90^\circ$ . 13.  $90^\circ$ . 14.  $30^\circ$ . 15.  $45^\circ$ . 16.  $45^\circ$ . 17. 0,5. 18. 0,5. 19.  $30^\circ$ . 20.  $60^\circ$ . 21.  $60^\circ$ . 22.  $90^\circ$ . 23.  $60^\circ$ . 24.  $30^\circ$ . 25.  $60^\circ$ . 26.  $90^\circ$ . 27.  $45^\circ$ . 28.  $60^\circ$ . 29.  $30^\circ$ . 30.  $60^\circ$ . 31.  $60^\circ$ . 32.  $60^\circ$ . 33.  $30^\circ$ . 34.  $45^\circ$ . 35.  $45^\circ$ .

Угол между двумя плоскостями

1.  $90^\circ$ . 2.  $90^\circ$ . 3.  $90^\circ$ . 4.  $90^\circ$ . 5.  $45^\circ$ . 6.  $60^\circ$ . 7.  $90^\circ$ . 8.  $90^\circ$ . 9.  $60^\circ$ . 10.  $60^\circ$ . 11.  $60^\circ$ . 12.  $30^\circ$ . 13.  $45^\circ$ . 14.  $60^\circ$ . 15.  $90^\circ$ . 16.  $30^\circ$ . 17.  $60^\circ$ .

С

Угол между прямыми

1.  $\frac{\sqrt{3}}{3}$ . 2.  $\sqrt{2}$ . 3.  $\frac{1}{3}$ . 4.  $\frac{1}{3}$ . 5.  $\frac{\sqrt{3}}{6}$ . 6.  $\frac{\sqrt{3}}{6}$ . 7.  $\frac{5}{6}$ . 8.  $\frac{1}{3}$ . 9.  $\frac{\sqrt{2}}{4}$ . 10.  $\frac{1}{4}$ . 11.  $\sqrt{2}$ . 12.  $\frac{\sqrt{3}}{6}$ . 13.  $-\frac{\sqrt{3}}{6}$ . 14.  $\frac{1}{6}$ . 15.  $\frac{5}{6}$ . 16. 0,75. 17.  $\frac{\sqrt{2}}{4}$ . 18.  $\frac{3}{4}$ . 19.  $\frac{\sqrt{3}}{4}$ . 20.  $\frac{\sqrt{10}}{5}$ . 21.  $\frac{\sqrt{6}}{4}$ . 22.  $\frac{3}{4}$ . 23.  $\frac{1}{4}$ . 24.  $\frac{\sqrt{2}}{4}$ . 25.  $\frac{\sqrt{10}}{10}$ . 26.  $\frac{\sqrt{2}}{8}$ . 27.  $\frac{3}{4}$ . 28.  $\frac{5}{8}$ . 29.  $\frac{\sqrt{5}}{10}$ . 30. 0,25. 31.  $\frac{\sqrt{3}}{4}$ . 32.  $\frac{1}{4}$ .



**Угол между прямой и плоскостью**

1.  $\frac{\sqrt{3}}{3}$ , 2.  $\frac{\sqrt{6}}{3}$ , 3.  $\sqrt{2}$ , 4.  $\sqrt{2}$ , 5.  $\sqrt{2}$ , 6.  $\frac{\sqrt{3}}{3}$ , 7.  $\frac{\sqrt{3}}{3}$ , 8.  $\frac{\sqrt{3}}{3}$ , 9.  $\frac{\sqrt{6}}{3}$ , 10.  $\frac{\sqrt{6}}{3}$ , 11.  $\frac{\sqrt{6}}{3}$ ,  
 12.  $\frac{\sqrt{6}}{3}$ , 13.  $\frac{\sqrt{3}}{3}$ , 14.  $\frac{\sqrt{3}}{3}$ , 15.  $\frac{\sqrt{3}}{3}$ , 16.  $\frac{\sqrt{6}}{3}$ , 17.  $\frac{\sqrt{6}}{3}$ , 18.  $\frac{\sqrt{6}}{3}$ , 19.  $\frac{\sqrt{3}}{3}$ , 20.  $\frac{1}{3}$ , 21.  $\frac{\sqrt{2}}{3}$ , 22.  $\frac{1}{3}$ ,  
 23.  $\frac{\sqrt{6}}{4}$ , 24.  $\frac{2\sqrt{3}}{3}$ , 25.  $\frac{\sqrt{3}}{2}$ , 26.  $\frac{\sqrt{21}}{7}$ , 27.  $\frac{\sqrt{42}}{7}$ , 28.  $\frac{\sqrt{6}}{3}$ , 29.  $\frac{\sqrt{3}}{3}$ , 30.  $\frac{\sqrt{3}}{3}$ , 31.  $\frac{1}{3}$ , 32.  $\frac{\sqrt{3}}{3}$ ,  
 33.  $\frac{\sqrt{15}}{5}$ , 34.  $\frac{\sqrt{15}}{5}$ , 35.  $\frac{\sqrt{5}}{5}$ , 36.  $\frac{\sqrt{15}}{10}$ , 37.  $\frac{\sqrt{15}}{5}$ , 38.  $\frac{\sqrt{6}}{4}$ , 39.  $\frac{\sqrt{6}}{4}$ , 40.  $\frac{\sqrt{15}}{5}$ , 41.  $\frac{\sqrt{3}}{4}$ , 42.  $\frac{\sqrt{6}}{4}$ ,  
 43.  $\frac{\sqrt{3}}{8}$ , 44.  $\frac{\sqrt{15}}{10}$ , 45.  $\frac{3}{5}$ .

**Угол между двумя плоскостями**

1.  $\sqrt{2}$ , 2.  $\sqrt{2}$ , 3.  $\sqrt{2}$ , 4.  $\sqrt{2}$ , 5.  $\frac{\sqrt{2}}{2}$ , 6.  $\frac{1}{3}$ , 7.  $\frac{1}{3}$ , 8.  $90^\circ$ , 9.  $60^\circ$ , 10.  $90^\circ$ , 11.  $\frac{1}{3}$ , 12.  $\frac{\sqrt{3}}{3}$ ,  
 13.  $\frac{1}{3}$ , 14.  $\sqrt{2}$ , 15.  $-\frac{1}{3}$ , 16.  $\frac{\sqrt{5}}{5}$ , 17.  $0,6$ , 18.  $-0,6$ , 19.  $0,2$ , 20.  $\frac{5}{13}$ , 21.  $\frac{2\sqrt{3}}{3}$ , 22.  $\frac{2\sqrt{3}}{3}$ , 23.  $\frac{1}{7}$ ,  
 24.  $2$ , 25.  $\frac{2}{3}$ , 26.  $45^\circ$ , 27.  $60^\circ$ , 28.  $\frac{2\sqrt{3}}{3}$ , 29.  $\frac{2}{3}$ , 30.  $\frac{1}{7}$ , 31.  $\frac{1}{7}$ , 32.  $0,6$ , 33.  $\frac{\sqrt{7}}{7}$ .

**РАССТОЯНИЯ**

**В**

**Расстояние от точки до прямой**

1.  $\frac{\sqrt{2}}{2}$ , 2.  $\frac{\sqrt{2}}{2}$ , 3.  $\frac{\sqrt{2}}{2}$ , 4.  $\sqrt{2}$ , 5.  $\sqrt{2}$ , 6.  $\sqrt{2}$ , 7.  $\frac{\sqrt{6}}{2}$ , 8.  $\frac{\sqrt{6}}{2}$ , 9.  $\frac{\sqrt{6}}{2}$ , 10.  $\frac{\sqrt{2}}{2}$ , 11.  $\frac{\sqrt{2}}{2}$ ,  
 12.  $\frac{\sqrt{7}}{2}$ , 13.  $\frac{\sqrt{3}}{2}$ , 14.  $\frac{\sqrt{3}}{2}$ , 15.  $\frac{\sqrt{3}}{2}$ , 16.  $\frac{\sqrt{3}}{2}$ , 17.  $\frac{\sqrt{2}}{2}$ , 18.  $1$ , 19.  $\frac{\sqrt{2}}{2}$ , 20.  $\frac{\sqrt{15}}{2}$ , 21.  $\frac{\sqrt{3}}{2}$ , 22.  $\sqrt{3}$ ,  
 23.  $\frac{\sqrt{2}}{2}$ , 24.  $\frac{\sqrt{2}}{2}$ , 25.  $\frac{\sqrt{3}}{2}$ , 26.  $\sqrt{3}$ , 27.  $\sqrt{3}$ , 28.  $2$ , 29.  $2$ , 30.  $2$ , 31.  $1$ , 32.  $1$ , 33.  $0,5$ ,  
 34.  $1,5$ , 35.  $\frac{\sqrt{3}}{2}$ , 36.  $\frac{\sqrt{3}}{2}$ , 37.  $1$ , 38.  $1$ .

**Расстояние от точки до плоскости**

1.  $\frac{\sqrt{2}}{2}$ , 2.  $\frac{\sqrt{2}}{2}$ , 3.  $\frac{\sqrt{2}}{2}$ , 4.  $0,5$ , 5.  $\frac{\sqrt{3}}{2}$ , 6.  $\frac{\sqrt{2}}{2}$ , 7.  $\frac{\sqrt{2}}{2}$ , 8.  $0,5$ , 9.  $\sqrt{3}$ , 10.  $\sqrt{3}$ , 11.  $\frac{\sqrt{3}}{2}$ ,  
 12.  $\frac{\sqrt{3}}{2}$ , 13.  $\frac{\sqrt{3}}{2}$ , 14.  $\frac{\sqrt{3}}{2}$ , 15.  $0,5$ , 16.  $1,5$ , 17.  $\frac{\sqrt{2}}{2}$ , 18.  $\frac{\sqrt{2}}{2}$ .

**Расстояние между прямыми**

1.  $1$ , 2.  $1$ , 3.  $1$ , 4.  $1$ , 5.  $\sqrt{2}$ , 6.  $\frac{\sqrt{2}}{2}$ , 7.  $\frac{\sqrt{2}}{2}$ , 8.  $1$ , 9.  $\sqrt{3}$ , 10.  $1$ , 11.  $1$ , 12.  $1$ , 13.  $1$ ,  
 14.  $2$ , 15.  $1$ , 16.  $1$ , 17.  $\sqrt{3}$ , 18.  $\sqrt{3}$ , 19.  $2$ , 20.  $\sqrt{3}$ , 21.  $\sqrt{3}$ .

**С**

**Расстояние от точки до прямой**

1.  $\frac{\sqrt{6}}{3}$ , 2.  $\frac{\sqrt{6}}{3}$ , 3.  $\frac{\sqrt{6}}{3}$ , 4.  $\frac{\sqrt{14}}{4}$ , 5.  $\frac{\sqrt{13}}{2}$ , 6.  $\sqrt{3}$ , 7.  $\frac{\sqrt{15}}{4}$ , 8.  $\frac{\sqrt{39}}{4}$ , 9.  $\sqrt{3}$ , 10.  $\frac{\sqrt{7}}{2}$ , 11.  $\frac{\sqrt{7}}{2}$ ,  
 12.  $\sqrt{2}$ , 13.  $\sqrt{2}$ , 14.  $\frac{\sqrt{7}}{2}$ , 15.  $\frac{\sqrt{7}}{2}$ , 16.  $\frac{\sqrt{13}}{2}$ , 17.  $\frac{\sqrt{5}}{2}$ , 18.  $\sqrt{3}$ , 19.  $\sqrt{3}$ , 20.  $\frac{\sqrt{7}}{4}$ , 21.  $\frac{\sqrt{7}}{4}$ ,  
 22.  $\frac{2\sqrt{5}}{5}$ , 23.  $\frac{2\sqrt{5}}{5}$ , 24.  $\frac{\sqrt{14}}{4}$ , 25.  $\frac{\sqrt{39}}{4}$ , 26.  $\frac{\sqrt{39}}{4}$ , 27.  $\frac{\sqrt{30}}{5}$ , 28.  $\frac{\sqrt{30}}{5}$ , 29.  $\frac{\sqrt{30}}{4}$ , 30.  $\frac{\sqrt{30}}{4}$ .

**Расстояние от точки до плоскости**

1.  $\frac{\sqrt{3}}{3}$ , 2.  $\frac{2\sqrt{3}}{3}$ , 3.  $\frac{\sqrt{3}}{3}$ , 4.  $\frac{\sqrt{3}}{3}$ , 5.  $\frac{\sqrt{3}}{3}$ , 6.  $\frac{\sqrt{6}}{3}$ , 7.  $\frac{\sqrt{21}}{7}$ , 8.  $\frac{\sqrt{21}}{7}$ , 9.  $\frac{\sqrt{21}}{7}$ , 10.  $\frac{\sqrt{6}}{3}$ , 11.  $\frac{\sqrt{6}}{3}$ ,  
 12.  $0,5$ , 13.  $\sqrt{3}$ , 14.  $\frac{2\sqrt{15}}{5}$ , 15.  $\frac{2\sqrt{15}}{5}$ , 16.  $\frac{\sqrt{15}}{5}$ , 17.  $\frac{\sqrt{15}}{5}$ , 18.  $\frac{\sqrt{3}}{2}$ , 19.  $\frac{\sqrt{3}}{2}$ , 20.  $\frac{2\sqrt{39}}{13}$ , 21.  $\frac{2\sqrt{39}}{13}$ .

22.  $\frac{\sqrt{39}}{13}$ . 23.  $\frac{3\sqrt{39}}{13}$ . 24.  $\frac{\sqrt{3}}{2}$ . 25.  $\frac{\sqrt{3}}{2}$ . 26.  $\frac{\sqrt{21}}{7}$ . 27.  $\frac{\sqrt{21}}{7}$ . 28.  $\frac{2\sqrt{21}}{7}$ . 29.  $\frac{2\sqrt{21}}{7}$ . 30.  $\frac{\sqrt{5}}{5}$ . 31.  $\frac{3\sqrt{2}}{4}$ .  
 32.  $\frac{3\sqrt{13}}{13}$ . 33.  $\frac{2\sqrt{21}}{7}$ . 34.  $\frac{2\sqrt{21}}{7}$ . 35.  $\frac{\sqrt{2}}{4}$ . 36.  $\frac{3\sqrt{5}}{5}$ . 37.  $\frac{\sqrt{13}}{13}$ . 38.  $\frac{2\sqrt{5}}{5}$ . 39.  $\frac{2\sqrt{5}}{5}$ .

**Расстояние между двумя прямыми**

1.  $\frac{\sqrt{2}}{2}$ . 2.  $\frac{\sqrt{2}}{2}$ . 3.  $\frac{\sqrt{3}}{3}$ . 4.  $\frac{\sqrt{3}}{3}$ . 5.  $\frac{\sqrt{3}}{3}$ . 6.  $\frac{\sqrt{3}}{3}$ . 7.  $\frac{\sqrt{6}}{6}$ . 8.  $\frac{\sqrt{6}}{6}$ . 9.  $\frac{\sqrt{2}}{2}$ . 10. 0,5. 11.  $\frac{\sqrt{6}}{3}$ .  
 12.  $\frac{\sqrt{6}}{3}$ . 13.  $\frac{\sqrt{3}}{2}$ . 14.  $\frac{2\sqrt{15}}{5}$ . 15.  $\frac{\sqrt{3}}{2}$ . 16.  $\frac{2\sqrt{15}}{5}$ . 17.  $\frac{\sqrt{3}}{4}$ . 18.  $\frac{3\sqrt{3}}{4}$ . 19.  $\frac{2\sqrt{39}}{13}$ . 20.  $\frac{2\sqrt{39}}{13}$ . 21.  $\frac{\sqrt{3}}{2}$ .  
 22.  $\frac{\sqrt{3}}{2}$ . 23.  $\frac{\sqrt{3}}{2}$ . 24.  $\frac{\sqrt{3}}{2}$ . 25.  $\frac{\sqrt{3}}{2}$ . 26.  $\frac{\sqrt{21}}{7}$ . 27.  $\frac{\sqrt{5}}{5}$ . 28.  $\frac{\sqrt{5}}{5}$ . 29.  $\sqrt{3}$ . 30.  $\frac{\sqrt{3}}{2}$ . 31.  $\sqrt{3}$ .  
 32.  $\sqrt{3}$ . 33.  $\frac{\sqrt{3}}{2}$ . 34.  $\frac{\sqrt{3}}{2}$ . 35.  $\frac{\sqrt{3}}{2}$ . 36.  $\sqrt{3}$ . 37.  $\sqrt{3}$ . 38.  $\sqrt{3}$ . 39.  $\sqrt{3}$ . 40.  $\frac{\sqrt{3}}{2}$ . 41.  $\frac{\sqrt{3}}{2}$ . 42. 1.  
 43. 1. 44. 1,5. 45. 1,5. 46. 1. 47. 1. 48.  $\frac{\sqrt{3}}{2}$ . 49.  $\frac{\sqrt{3}}{2}$ . 50.  $\frac{\sqrt{3}}{2}$ . 51.  $\frac{\sqrt{3}}{2}$ . 52.  $\sqrt{3}$ . 53.  $\frac{\sqrt{21}}{7}$ .  
 54.  $\frac{3\sqrt{5}}{5}$ . 55.  $\frac{3\sqrt{5}}{5}$ . 56.  $\frac{\sqrt{21}}{7}$ . 57.  $\frac{\sqrt{21}}{7}$ . 58.  $\frac{\sqrt{21}}{7}$ . 59.  $\frac{\sqrt{30}}{10}$ . 60. 1.

**Площадь ортогональной проекции**

**В**

1.  $\sqrt{2}$ . 2.  $\sqrt{2}$ . 3.  $\sqrt{2}$ . 4.  $\sqrt{2}$ . 5.  $\frac{\sqrt{2}}{2}$ . 6.  $\frac{\sqrt{2}}{2}$ . 7.  $\frac{\sqrt{2}}{2}$ . 8.  $\frac{\sqrt{2}}{2}$ . 9.  $\frac{\sqrt{5}}{2}$ . 10.  $\frac{\sqrt{5}}{2}$ . 11.  $\frac{\sqrt{5}}{2}$ .  
 12.  $\frac{\sqrt{5}}{2}$ . 13.  $\frac{\sqrt{3}}{16}$ . 14.  $\frac{\sqrt{3}}{16}$ . 15.  $\frac{\sqrt{2}}{4}$ . 16.  $\frac{\sqrt{2}}{4}$ . 17. 0,25. 18.  $\frac{\sqrt{2}}{4}$ . 19.  $\frac{3\sqrt{3}}{8}$ . 20.  $\sqrt{3}$ . 21.  $\frac{\sqrt{7}}{4}$ .  
 22.  $\frac{\sqrt{7}}{4}$ . 23. 0,5. 24. 0,5. 25.  $\frac{\sqrt{3}}{2}$ . 26.  $\frac{\sqrt{3}}{2}$ . 27.  $\frac{\sqrt{15}}{4}$ . 28.  $\frac{\sqrt{15}}{4}$ . 29.  $\sqrt{3}$ . 30. 2. 31.  $\sqrt{3}$ .  
 32.  $\frac{\sqrt{3}}{2}$ . 33.  $\sqrt{6}$ . 34.  $\sqrt{6}$ . 35.  $\sqrt{6}$ . 36.  $\sqrt{6}$ . 37.  $\sqrt{6}$ . 38.  $\sqrt{6}$ .

**С**

1.  $\frac{\sqrt{6}}{2}$ . 2.  $\frac{\sqrt{6}}{2}$ . 3.  $\frac{\sqrt{6}}{2}$ . 4.  $\frac{\sqrt{6}}{2}$ . 5.  $\frac{\sqrt{6}}{2}$ . 6.  $\frac{\sqrt{6}}{2}$ . 7.  $\frac{\sqrt{6}}{2}$ . 8.  $\frac{\sqrt{6}}{2}$ . 9.  $\frac{\sqrt{6}}{2}$ . 10.  $\frac{\sqrt{6}}{2}$ . 11.  $\frac{\sqrt{6}}{2}$ .  
 12.  $\frac{\sqrt{6}}{2}$ . 13.  $\frac{3\sqrt{2}}{4}$ . 14.  $\frac{3\sqrt{2}}{4}$ . 15.  $\frac{3\sqrt{2}}{4}$ . 16.  $\frac{3\sqrt{2}}{4}$ . 17.  $\frac{3\sqrt{2}}{4}$ . 18.  $\frac{3\sqrt{2}}{4}$ . 19.  $\frac{3\sqrt{2}}{4}$ . 20.  $\frac{3\sqrt{2}}{4}$ .  
 21.  $\frac{3\sqrt{2}}{4}$ . 22.  $\frac{3\sqrt{2}}{4}$ . 23.  $\frac{3\sqrt{2}}{4}$ . 24.  $\frac{3\sqrt{2}}{4}$ . 25.  $\frac{3\sqrt{3}}{4}$ . 26.  $\frac{3\sqrt{3}}{4}$ . 27.  $\frac{3\sqrt{3}}{4}$ . 28.  $\frac{3\sqrt{3}}{4}$ . 29.  $1\frac{1}{8}$ . 30.  $1\frac{1}{8}$ .  
 31.  $1\frac{1}{8}$ . 32.  $1\frac{1}{8}$ . 33.  $1\frac{1}{8}$ . 34.  $1\frac{1}{8}$ . 35.  $1\frac{1}{8}$ . 36.  $1\frac{1}{8}$ . 37.  $1\frac{1}{8}$ . 38.  $1\frac{1}{8}$ . 39.  $1\frac{1}{8}$ . 40.  $1\frac{1}{8}$ .  
 41.  $1\frac{1}{8}$ . 42.  $1\frac{1}{8}$ . 43.  $1\frac{1}{8}$ . 44.  $1\frac{1}{8}$ . 45.  $1\frac{1}{8}$ . 46.  $1\frac{1}{8}$ . 47.  $1\frac{1}{8}$ . 48.  $1\frac{1}{8}$ . 49.  $1\frac{1}{8}$ . 50.  $1\frac{1}{8}$ .  
 51.  $1\frac{1}{8}$ . 52.  $1\frac{1}{8}$ . 53.  $\frac{3\sqrt{21}}{16}$ . 54.  $\frac{3\sqrt{21}}{16}$ . 55.  $\frac{3\sqrt{21}}{16}$ . 56.  $\frac{3\sqrt{21}}{16}$ . 57.  $\frac{3\sqrt{21}}{16}$ . 58.  $\frac{3\sqrt{21}}{16}$ . 59.  $\frac{7\sqrt{17}}{24}$ .  
 60.  $\frac{7\sqrt{17}}{24}$ . 61.  $\frac{7\sqrt{17}}{24}$ . 62.  $\frac{7\sqrt{17}}{24}$ . 63.  $\frac{7\sqrt{17}}{24}$ . 64.  $\frac{7\sqrt{17}}{24}$ . 65.  $\frac{7\sqrt{17}}{24}$ . 66.  $\frac{7\sqrt{17}}{24}$ . 67.  $\frac{5\sqrt{17}}{16}$ .  
 68.  $\frac{5\sqrt{17}}{16}$ . 69.  $\frac{5\sqrt{17}}{16}$ . 70.  $\frac{5\sqrt{17}}{16}$ . 71.  $1\frac{5}{16}$ . 72.  $1\frac{5}{16}$ . 73.  $1\frac{5}{16}$ . 74.  $1\frac{5}{16}$ . 75.  $\frac{\sqrt{3}}{2}$ . 76.  $\frac{3\sqrt{3}}{4}$ .  
 77.  $\frac{\sqrt{6}}{4}$ . 78. 0,25. 79. 0,25. 80. 0,25. 81.  $\frac{3\sqrt{11}}{16}$ . 82.  $\frac{3\sqrt{11}}{16}$ . 83.  $\frac{3\sqrt{11}}{16}$ . 84.  $\frac{3\sqrt{11}}{16}$ . 85.  $\frac{3\sqrt{3}}{16}$ .  
 86.  $\frac{3\sqrt{3}}{16}$ . 87.  $\frac{3\sqrt{3}}{16}$ . 88.  $\frac{3\sqrt{3}}{16}$ . 89.  $\frac{5\sqrt{2}}{16}$ . 90.  $\frac{5\sqrt{2}}{16}$ . 91.  $\frac{\sqrt{5}}{12}$ . 92.  $\frac{\sqrt{10}}{6}$ . 93.  $\frac{13\sqrt{10}}{24}$ . 94.  $\frac{3\sqrt{19}}{16}$ .  
 95.  $\frac{3\sqrt{19}}{16}$ . 96.  $\frac{3\sqrt{19}}{16}$ . 97.  $\frac{3\sqrt{19}}{16}$ . 98.  $\frac{3\sqrt{19}}{16}$ . 99.  $\frac{3\sqrt{19}}{16}$ . 100.  $\frac{3\sqrt{7}}{16}$ . 101.  $\frac{3\sqrt{7}}{16}$ . 102.  $\frac{3\sqrt{7}}{16}$ . 103.  $\frac{3\sqrt{7}}{16}$ .  
 104.  $\frac{3\sqrt{7}}{16}$ . 105.  $\frac{3\sqrt{7}}{16}$ . 106.  $\frac{3\sqrt{51}}{16}$ . 107.  $\frac{3\sqrt{51}}{16}$ . 108.  $\frac{3\sqrt{51}}{16}$ . 109.  $\frac{3\sqrt{51}}{16}$ . 110.  $\frac{3\sqrt{51}}{16}$ . 111.  $\frac{3\sqrt{51}}{16}$ .  
 112.  $\frac{3}{8}$ . 113.  $\frac{\sqrt{15}}{8}$ . 114.  $\frac{3\sqrt{7}}{4}$ . 115.  $\frac{3\sqrt{7}}{4}$ . 116.  $\frac{3\sqrt{7}}{4}$ . 117.  $\frac{3\sqrt{7}}{4}$ . 118.  $\frac{3\sqrt{7}}{4}$ . 119.  $\frac{3\sqrt{7}}{4}$ . 120. 3.  
 121. 3. 122. 3. 123. 3. 124. 3. 125. 3.



## СОДЕРЖАНИЕ

ПРЕДИСЛОВИЕ .....	3
ПОВТОРЕНИЕ КУРСА ГЕОМЕТРИИ ДЛЯ 7—9 КЛАССОВ .....	4
<b>Глава I. АКСИОМЫ СТЕРЕОМЕТРИИ. ПАРАЛЛЕЛЬНОСТЬ В ПРОСТРАНСТВЕ</b>	
§ 1. Основные понятия стереометрии .....	20
§ 2. Аксиомы стереометрии .....	25
§ 3. Фигуры в пространстве. Тетраэдр, куб, параллелепипед .....	29
§ 4. Фигуры в пространстве. Призма, пирамида .....	34
Проверь себя! .....	39
§ 5. Параллельность прямых в пространстве .....	41
§ 6. Взаимное расположение прямых в пространстве .....	45
§ 7. Взаимное расположение прямой и плоскости .....	49
§ 8. Параллельность плоскостей .....	53
Проверь себя! .....	56
<b>Глава II. ПЕРПЕНДИКУЛЯРНОСТЬ В ПРОСТРАНСТВЕ</b>	
§ 9. Угол между прямыми в пространстве .....	59
§ 10. Расстояние от точки до прямой .....	64
§ 11. Перпендикулярность прямой и плоскости .....	67
§ 12. Расстояние от точки до плоскости .....	72
§ 13. Расстояния между параллельными прямой и плоскостью и между двумя параллельными плоскостями .....	77
§ 14. Расстояние между двумя прямыми .....	81
§ 15. Ортогональное проектирование .....	85
§ 16. Угол между прямой и плоскостью .....	89
§ 17. Двугранный угол. Угол между плоскостями .....	93
Проверь себя! .....	98
§ 18*. Сечения куба, призмы и пирамиды .....	101
§ 19. Площадь ортогональной проекции .....	106
<b>Глава III. ПРЯМОУГОЛЬНАЯ СИСТЕМА КООРДИНАТ И ВЕКТОРЫ В ПРОСТРАНСТВЕ</b>	
§ 20. Векторы в пространстве .....	110
§ 21. Компланарные векторы .....	115
§ 22. Угол между векторами. Скалярное произведение векторов .....	118
§ 23. Прямоугольная система координат в пространстве .....	123
§ 24. Расстояние между двумя точками. Уравнение сферы .....	128
§ 25. Координаты вектора .....	131
§ 26. Уравнение плоскости в пространстве .....	135
§ 27. Уравнения прямой в пространстве .....	140
Проверь себя! .....	143
ОБОБЩАЮЩЕЕ ПОВТОРЕНИЕ .....	145
ПРЕДМЕТНЫЙ УКАЗАТЕЛЬ .....	181
ОТВЕТЫ .....	184



*Учебное издание*

**Смирнов Владимир Алексеевич  
Туяков Есенкельды Алыбаевич**

**ААПАӨБЕЯ**

Учебник для 10 классов естественно-математического направления  
общеобразовательных школ

Редактор *К. Амирова*  
Худож. редактор *Л. Уралбаева*  
Техн. редактор *Л. Садыкова*  
Корректор *Е. Шумских*  
Компьютерная верстка *Б. Нөкер*

Государственная лицензия № 0000001 выдана издательству  
Министерством образования и науки Республики Казахстан  
7 июля 2003 года

ИБ № 5864

Подписано в печать 22.05.19. Формат 70×100<sup>1/16</sup>. Бумага офсетная.  
Гарнитура "SchoolBook Kza". Печать офсетная. Усл.-печ. л. 15,48 + 0,32 форзац.  
Усл. кр.-отт. 32,30. Уч.-изд. л. 9,64 + 0,54 форзац.  
Тираж 60 000 экз. Заказ №

Издательство "Мектеп", 050009, г. Алматы, пр. Абая, 143  
Факс.: 8(727) 394-37-58, 394-42-30.  
Тел.: 8(727) 394-41-76, 394-42-34.  
E-mail: mektep@mail.ru  
Web-site: www.mektep.kz



